

1000000

## 第 2 回

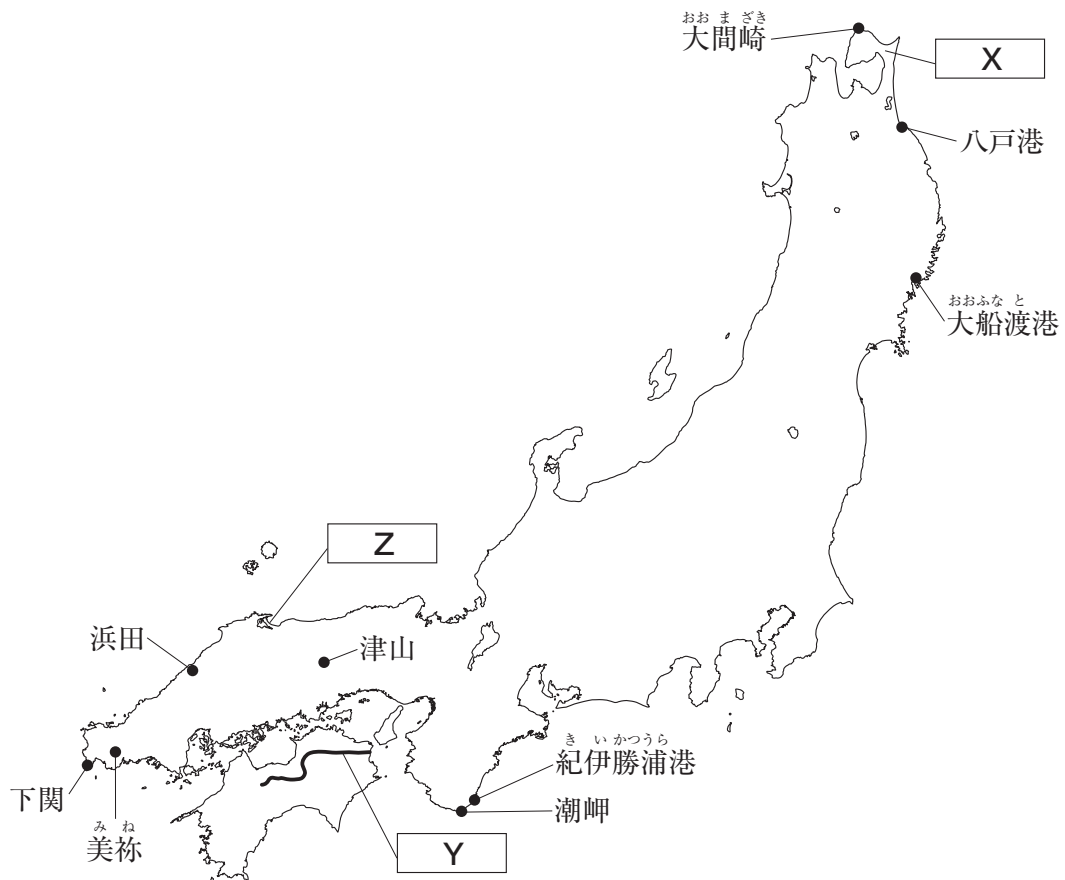
|||||



洗足学園中学校

- 1 次の《地図》を見て、あとの問いに答えなさい。

《地図》



問1 《地図》中に示した本州最北端の<sup>おおまざき</sup>大間崎（北緯41度32分・東経140度54分）と本州最南端の潮岬（北緯33度26分・東経135度46分）のおおよその直線距離として最もふさわしいものを、次のA～Dの中からひとつ選んでアルファベットで答えなさい。

- A 300km      B 450km      C 700km      D 1,000km

問2 《地図》中の X ～ Z にあてはまる地名の組み合わせとして正しいものを、次のA～Hの中からひとつ選んでアルファベットで答えなさい。

- |   |          |          |         |
|---|----------|----------|---------|
| A | X - 津軽半島 | Y - 吉野川  | Z - 弓ヶ浜 |
| B | X - 津軽半島 | Y - 吉野川  | Z - 天橋立 |
| C | X - 津軽半島 | Y - 四万十川 | Z - 弓ヶ浜 |
| D | X - 津軽半島 | Y - 四万十川 | Z - 天橋立 |
| E | X - 下北半島 | Y - 吉野川  | Z - 弓ヶ浜 |
| F | X - 下北半島 | Y - 吉野川  | Z - 天橋立 |
| G | X - 下北半島 | Y - 四万十川 | Z - 弓ヶ浜 |
| H | X - 下北半島 | Y - 四万十川 | Z - 天橋立 |

問3 下記【地図】は、《地図》中の山口県美祢市付近を拡大したものです。【地図】中の「宇部興産伊佐<sup>いさ</sup> X 工場」では、近隣で採掘できる鉱産資源を主要な原料として、ある工業製品<sup>くわらん</sup> X を製造しています。空欄 X にあてはまる工業製品を、カタカナ4字で答えなさい。

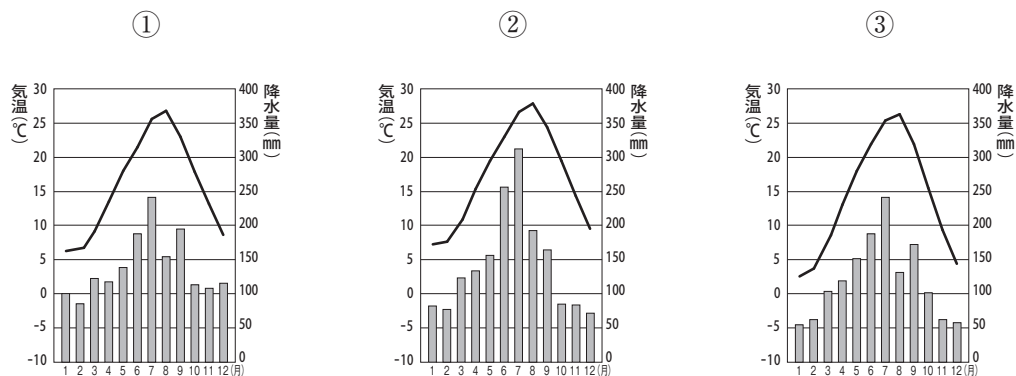
【地図】



(地理院地図より作成)

問4 下記【資料】は、《地図》中の津山・浜田・下関の月別平均気温と降水量を示したものです。【資料】①～③と都市の組み合わせとして正しいものを、次のA～Fの中からひとつ選んでアルファベットで答えなさい。

【資料】

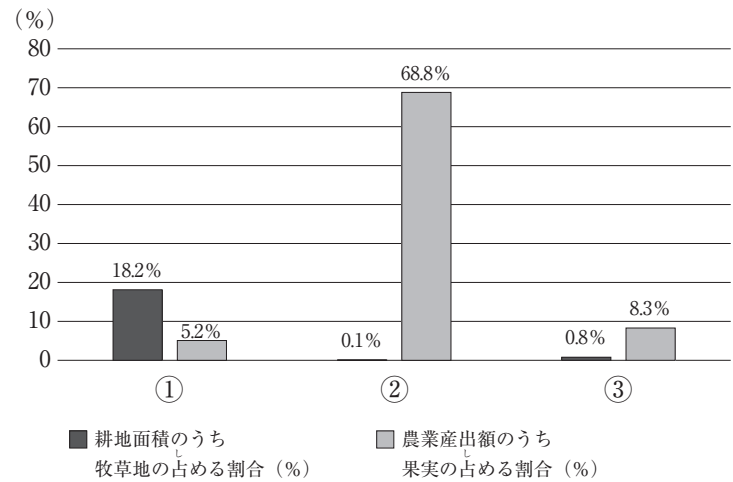


(気象庁資料より作成)

- |   |      |      |      |
|---|------|------|------|
| A | ①－津山 | ②－浜田 | ③－下関 |
| B | ①－津山 | ②－下関 | ③－浜田 |
| C | ①－浜田 | ②－津山 | ③－下関 |
| D | ①－浜田 | ②－下関 | ③－津山 |
| E | ①－下関 | ②－津山 | ③－浜田 |
| F | ①－下関 | ②－浜田 | ③－津山 |

問5 下記【資料】は、岩手県・和歌山県・山口県における、耕地面積のうち牧草地の占める割合（2021年）と、農業産出額のうち果実の占める割合（2021年）をそれぞれ示したものです。【資料】①～③と県の組み合わせとして正しいものを、次のA～Fの中からひとつ選んでアルファベットで答えなさい。

【資料】



（『データブック オブ・ザ・ワールド』より作成）

- A ①－岩手県                      ②－和歌山県                      ③－山口県  
 B ①－岩手県                      ②－山口県                      ③－和歌山県  
 C ①－和歌山県                      ②－岩手県                      ③－山口県  
 D ①－和歌山県                      ②－山口県                      ③－岩手県  
 E ①－山口県                      ②－岩手県                      ③－和歌山県  
 F ①－山口県                      ②－和歌山県                      ③－岩手県

問6 下記【資料】は、八戸港・大船渡港・紀伊勝浦港における魚種別の水揚げ量（2024年）を示したものです。【資料】①～③と港の組み合わせとして正しいものを、次のA～Fの中からひとつ選んでアルファベットで答えなさい。

【資料】

（単位：t）

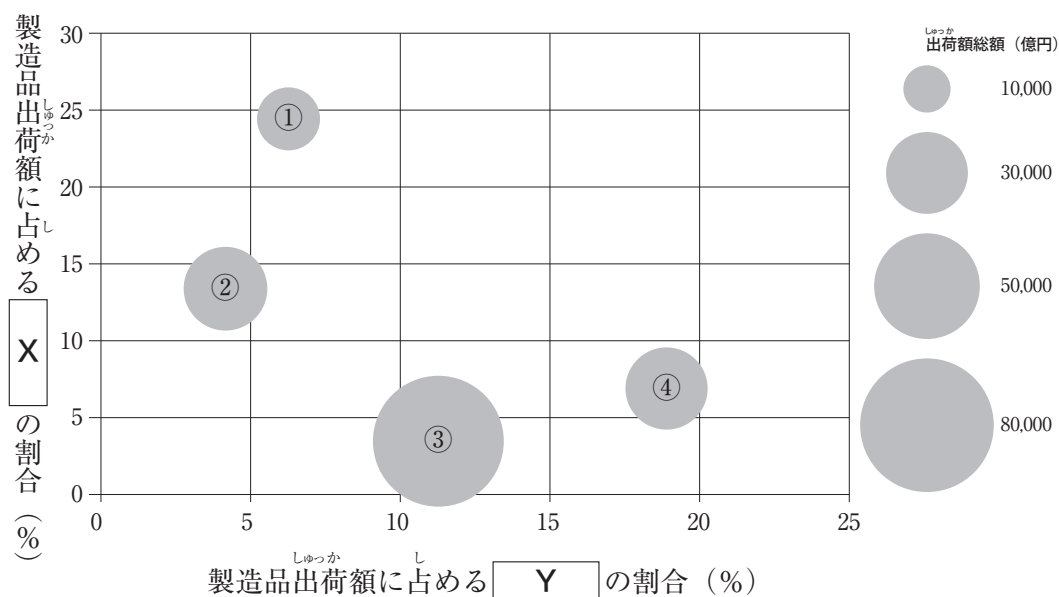
	かつお類	さんま	たら類	まぐろ類
①	1,077.6	5,654.8	910.1	119.6
②	15.0	54.0	4,513.0	14.0
③	10.9	-	-	8,682.9

（水産庁「水産物流通調査」より作成）

- A ①－八戸港                      ②－大船渡港                      ③－紀伊勝浦港  
 B ①－八戸港                      ②－紀伊勝浦港                      ③－大船渡港  
 C ①－大船渡港                      ②－八戸港                      ③－紀伊勝浦港  
 D ①－大船渡港                      ②－紀伊勝浦港                      ③－八戸港  
 E ①－紀伊勝浦港                      ②－八戸港                      ③－大船渡港  
 F ①－紀伊勝浦港                      ②－大船渡港                      ③－八戸港

問7 下記【資料】は、青森県・岩手県・和歌山県・山口県における、製造品出荷額等（2022年）と、製造品出荷額に占める鉄鋼業・食料品の割合（2022年）を示したものです。【資料】中の①～④は、青森県・岩手県・和歌山県・山口県のいずれかを示しており、円の大きさは製造品出荷額の総額を示しています。また、【資料】中の  $\boxed{\text{X}}$ ・ $\boxed{\text{Y}}$  には、鉄鋼業と食料品のいずれかがあてはまります。④が示す県と、空欄  $\boxed{\text{X}}$  にあてはまる産業の組み合わせとして正しいものを、次のA～Hの中からひとつ選んでアルファベットで答えなさい。

【資料】



(矢野恒太記念会『データでみる県勢』より作成)

- |          |       |
|----------|-------|
| A ④－青森県  | X－鉄鋼  |
| B ④－青森県  | X－食料品 |
| C ④－岩手県  | X－鉄鋼  |
| D ④－岩手県  | X－食料品 |
| E ④－和歌山県 | X－鉄鋼  |
| F ④－和歌山県 | X－食料品 |
| G ④－山口県  | X－鉄鋼  |
| H ④－山口県  | X－食料品 |

**問8** 下記【資料】A～Dは、【地図】中の青森駅・盛岡駅・和歌山駅・山口駅から矢印の方向に向かう列車の出発時刻を示したものです。和歌山駅の列車時刻表として最もふさわしいものを、【資料】A～Dの中からひとつ選んでアルファベットで答えなさい。

【資料】

	出発時刻												
A	6時	00特	05	10	19	25	30	37	39	50特	52	56	
	7時	07	10	16	24	29	36	43	52	57			
	8時	09特	13	24	30	41特	44	54	59				
	9時	13	29	40	50特								
	10時	00	14	29	40	50特							

	出発時刻			
B	6時	12	53	
	7時	28	42	52 59
	8時	33		
	9時	24		
	10時	18	46	

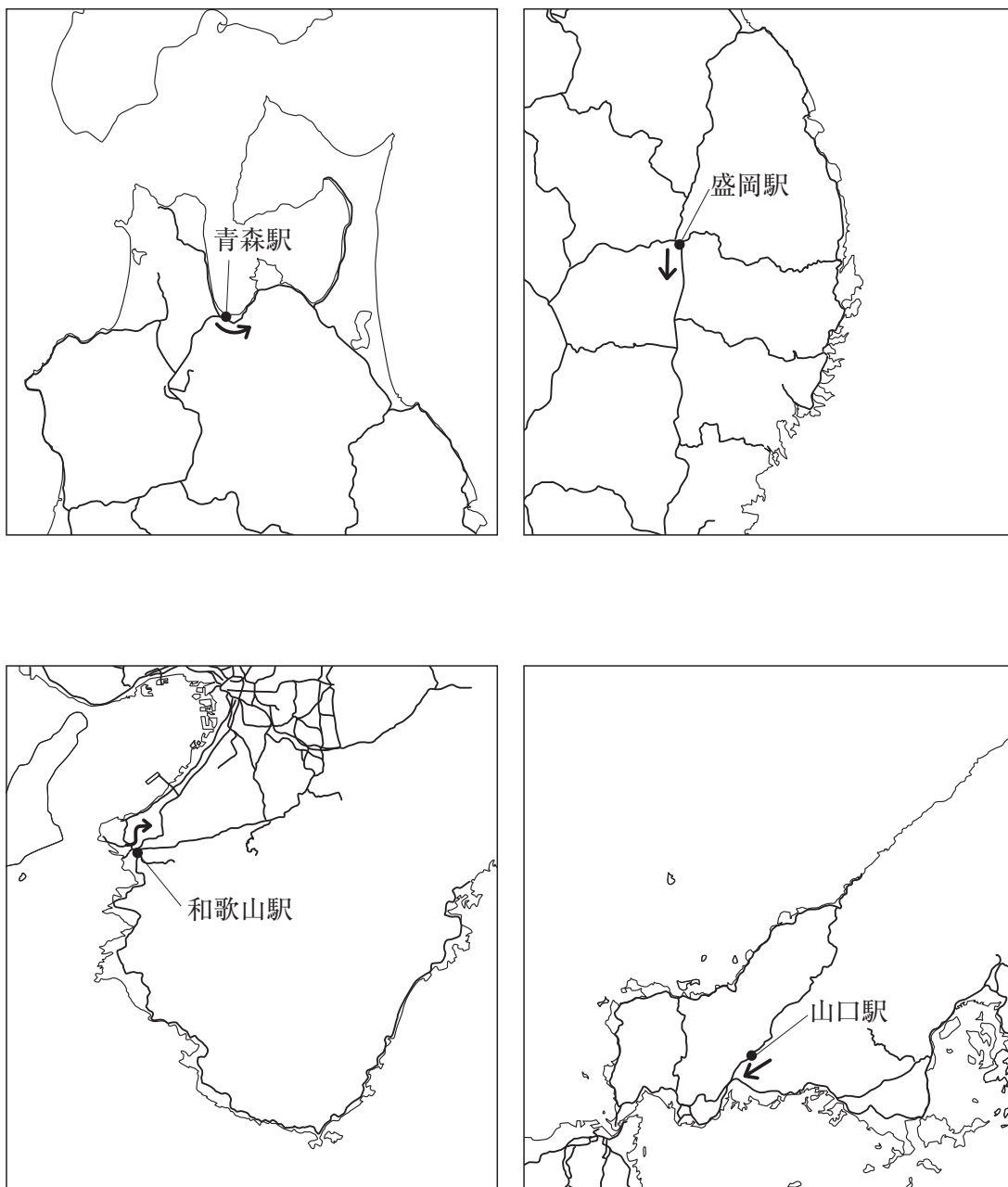
	出発時刻		
C	6時	12	41
	7時	24	59
	8時	31	55
	9時	36	
	10時	08特	28 52

	出発時刻				
D	6時	39	53		
	7時	05	17	40 51 59	
	8時	11	31	40 56	
	9時	52			
	10時	20			

(注1) 「特」は乗車券のほかに特急料金が必要な特急列車を示しています。

(注2) 各列車時刻は、いずれも2025年9月1日のものです。

[地図]



(注) [地図] 中には、JR・私鉄の主な鉄道路線を示しています。



問9 下記【地図1】・【地図2】は、和歌山県串本町の中心部付近における新旧の地図を示しており、【地図1】は1949年、【地図2】は2025年のものです。【地図1】・【地図2】を見て、次の(1)・(2)にそれぞれ答えなさい。

【地図1】



(国土地理院5万分の1地形図より作成)

【地図2】



(地理院地図より作成)



- (1) 【地図1】・【地図2】について説明した文①～③の内容の正誤の組み合わせとして正しいものを、次のA～Hの中からひとつ選んでアルファベットで答えなさい。

- ① 「串本漁港」から北側にかけては、埋め立てにより陸地が広がった。  
② かつては「大島」につながる橋はなかったが、現在では「苗我島」を経由する道路によって本州と繋がった。  
③ 「近畿自然歩道」付近には、「電波塔」が設置されている。

A ①－正 ②－正 ③－正

B ①－正 ②－正 ③－誤

C ①－正 ②－誤 ③－正

D ①－正 ②－誤 ③－誤

E ①－誤 ②－正 ③－正

F ①－誤 ②－正 ③－誤

G ①－誤 ②－誤 ③－正

H ①－誤 ②－誤 ③－誤

- (2) 下記【資料】は、【地図1】・【地図2】を比べた生徒が、串本町役場の移転についてレポートとしてまとめたものです。【資料】中の空欄  にあてはまる内容としてふさわしい文章を答えなさい。

【資料】

串本町の町役場は、2度の移転を経験しています。1度目は、1958年に【地図1】の場所にあるところから北北東に500mほどの場所に移転しました。2度目は、2021年に【地図2】で示されている場所に移転しました。

町役場の2度目の移転について、関連するニュースや新聞などを調べたところ、老朽化や耐震性の不足が主な立て替えの理由であることがわかりました。また、町役場の場所を移転させた目的は、古い町役場の場所は  ということがわかりました。同様の目的をもった町役場や市役所の移転は、同じ和歌山県の印南町や、高知県宿毛市などでもおこなわれています。

- 2 次の各文章は、「ある都市」とその史跡などを見学した教員が、見学先にて気づいたことなどをメモとして残したものです。これらを読んで、あとの問いに答えなさい。

(ア) 駅にて新幹線を降りて改札に向かうと、駅構内にはクラシック音楽が流れていた。当初、スピーカーから流れているものと思ったが、ホームから改札に至る通路沿いに楽器に関する展示とともにピアノが設置されており、駅利用者が演奏していた。このピアノは駅利用者が自由に演奏してよいとのこと。イベント等、一時的な設置なのだろうか。複数の楽器メーカーが本社を置く (ア) 市の駅にふさわしい光景に感じた。

展示によると、楽器メーカーの事実上の創業者のひとりである山葉寅楠<sup>やまは とらくす</sup>は、いわゆる御三家のひとつである (イ) 藩の武士の家系に生まれ、明治期に (ウ) 日本初の本格的なオルガンの製造に成功した人物だそうだ。製造のきっかけは、 (ア) 城跡地<sup>あとし</sup>にあった (ア) 尋常<sup>じんじょう</sup>小学校の校長からの修理依頼<sup>いらい</sup>。やがて本社を (ア) 市に置くことになったそうだ。 (ア) と出生地の (イ)、山葉寅楠と徳川家とのご縁を感じるのは私だけだろうか。

(ア) 駅から気賀関所の跡地<sup>あとち</sup>に向かった。気賀関所は、五街道の脇路<sup>わきみち</sup>である脇街道<sup>わきが</sup>（脇往還<sup>わきおうかん</sup>）に設置された関所のひとつであり、 (エ) における箱根・新居（今切）と並び称される関所だそうだ。近隣の新居（今切）関所とともに、街道の通行を監視するため重要視された関所、という内容の掲示<sup>けいじ</sup>が設置されていたが、跡地<sup>あとち</sup>ではその痕跡<sup>こんせき</sup>を感じることはできなかった。そこから少し歩いたところに、当時の建物群が復元され、史料館が併設されていた。見学のためのチケットは、当時の関所を通行するための (オ) をもとにしたデザインであり、見学とあわせて (カ) 近世における関所を体感できた。

気賀関所の史料館から (キ) の谷川に沿うように移動して、 (キ) 氏の先祖代々を弔う菩提寺龍潭寺<sup>りゅうたん</sup>に到着した。寺内の掲示によると、近隣を流れる (キ) の谷川・神宮寺川が交差する兩岸の段丘<sup>だんきゅう</sup>からは、縄文時代から (ウ) 古墳時代にかけての遺跡や、中世の遺跡が数多く発見されているとのこと。そういえば、ここから東へ移動した先では、化石人骨「浜北人」が発見されている。周辺の豊富な「水」が太古の昔より人々の生活を支えたのだろうか。寺号に含まれた「龍」は古来より水神の象徴でもある。また、 (キ) 氏の (ウ) 初代当主共保<sup>ともやす</sup>は井戸の傍らから拾われたという伝説をもっており、「出生の井戸」という史跡が龍潭寺の近くにあった。やはり「水」とのつながりを想像してしまう。

寺伝によれば、龍潭寺は、その元となった寺院が (コ) によって開かれ、院政期ごろに (キ) 氏初代<sup>はうむ</sup>が葬られたとのこと。また、寺内の掲示によると、遠江国の代表的な領主氏族のひとつである (キ) 氏は、鎌倉幕府に仕えた記録や、 (ウ) 南朝方の宗良親王<sup>むねよし</sup>を迎えて北朝方と戦った記録がある一族だそうだ。

境内では、すばらしい庭園や、歴代当主を祀ったお堂を見学できた。歴代当主のなかには、「徳川四天王」のひとりであり赤色で装備を統一した軍勢「赤備え」

を率いたことで知られる直政や、直政同様、「**(キ)**」の赤鬼おに」と称され、安政の大獄をおこなったことでも知られる直弼しょうの名が確認できた。

滋賀県彦根市ひこねにも、**(キ)**氏の転封てんぽうにあわせて建立こんりゅうされた、龍潭寺りょうたんがあるそうだ。機会をみつけて、彦根市も見学するとしよう。「赤備え」の兜かぶとをかぶった、あの有名な「ゆるキャラ」にも会えるはずだ。

翌日、元城町東照宮もとしろちょうとうしょうぐうを見学した。この神社は、**(ア)**城の前身となった城があった場所に建てられたとのこと。この一帯の地名は「元城町」もとしろちょう、なるほど、その由来が分かりやすい。境内には、「曳馬城跡ひくまあと」と刻まれた碑ひや、「出世の街**(ア)**」の文字が刻まれた台をはさんで「徳川家康公」・「豊臣秀吉公」と題された銅像があった。このふたりの銅像を左右に配置して記念写真を撮ることができるのは、全国的にもかなり珍しいのではないだろうか。

神社から道路を渡って、かつて徳川家康が拠点とした**(ア)**城の見学に向かった。(c) 1950年代に再建された、いわゆる復興天守では、出土品等さまざまな展示を見学できた。展示を通して、天保の改革を主導した水野忠邦など、この城の歴代城主の多くが、のちに幕府の要職を務めていたことが分かった。市内や、観光情報の記事にて、たびたび目にした「出世城」の別名にも納得だ。

城の周辺には、城主であった徳川家康と領地を隣接りんせつしていた戦国大名武田氏との戦いである、三方ヶ原みかたがはらの戦いに関する地名や碑が点在しているようだ。すべて見学するには時間が足りない。再訪した際に見学するとしよう。

問1 空欄**(ア)**にあてはまる地名を漢字2字で答えなさい。

問2 空欄**(イ)**・**(エ)**・**(オ)**にあてはまる語句の組み合わせとして正しいものを、次のA～Fの中からひとつ選んでアルファベットで答えなさい。

- |          |          |        |
|----------|----------|--------|
| A (イ)－紀伊 | (エ)－東海道  | (オ)－手形 |
| B (イ)－紀伊 | (エ)－中山道  | (オ)－木簡 |
| C (イ)－長州 | (エ)－日光道中 | (オ)－戸籍 |
| D (イ)－長州 | (エ)－東海道  | (オ)－木簡 |
| E (イ)－土佐 | (エ)－中山道  | (オ)－戸籍 |
| F (イ)－土佐 | (エ)－日光道中 | (オ)－手形 |

問3 下線部**(ウ)**に成功したころの出来事としてふさわしいものを、次のA～Dの中からひとつ選んでアルファベットで答えなさい。

- |                 |                  |
|-----------------|------------------|
| A 第一次世界大戦が始まった。 | B 大日本帝国憲法が発布された。 |
| C 第二次世界大戦が始まった。 | D 日本国憲法が公布された。   |

問4 下線部(力)が果たした役割を端的に表すものとして、「入鉄砲に出女」という言葉があります。「入鉄砲」が示すものを明らかにして、「入鉄砲」を取り締まった目的を、文章で説明しなさい。

問5 空欄(キ)にあてはまる、地名の一部、または氏族を漢字2字で答えなさい。

問6 下線部(ク)について述べた文として正しいものを、次のA～Dの中からひとつ選んでアルファベットで答えなさい。

- A 女性をかたどった土偶が、呪術や儀式に用いられたと考えられている。
- B 3世紀から4世紀後半ごろの古墳には、主に銅鐸などの青銅製祭器が副葬品として納められた。
- C 蘇我・物部などの姓が、大王より豪族たちに与えられた。
- D 中国の歴史書によると、いわゆる「倭の五王」が、中国の南朝へ使者を派遣したとされている。

問7 下線部(ケ)が葬られたころの出来事について述べた文として最もふさわしいものを、次のA～Dの中からひとつ選んでアルファベットで答えなさい。

- A 墾田永年私財法が発布された。
- B 白河上皇が、天皇を後見しながら政治の実権を握った。
- C 窮乏した御家人の救済を目的として、幕府によって徳政令が出された。
- D 将軍を補佐する幕府の中心的な役職として管領がおかれた。

問8 空欄(コ)には、各地で橋やため池の整備などの社会事業をおこない、聖武天皇に招かれて大仏造立にも協力した僧があてはまります。この僧を漢字2字で答えなさい。

問9 下線部(サ)に関連して述べた文①～③の内容の正誤の組み合わせとして正しいものを、次のA～Hの中からひとつ選んでアルファベットで答えなさい。

- ① 南朝は、足利尊氏が擁立した天皇とその後継者による朝廷である。
- ② 南北朝の動乱は、短期的なものであり、数年で終結した。
- ③ 足利義満によって、南北朝の合体が実現した。

A ①－正 ②－正 ③－正

B ①－正 ②－正 ③－誤

C ①－正 ②－誤 ③－正

D ①－正 ②－誤 ③－誤

E ①－誤 ②－正 ③－正

F ①－誤 ②－正 ③－誤

G ①－誤 ②－誤 ③－正

H ①－誤 ②－誤 ③－誤

問10 下線部(シ)に起きた出来事について述べた文としてふさわしくないものを、次のA～Dの中からひとつ選んでアルファベットで答えなさい。

- A 朝鮮戦争が始まった。
- B サンフランシスコ平和条約が調印された。
- C 日ソ共同宣言が調印された。
- D 沖縄が日本へ返還された。



**3** 次の文章を読んで、あとの問いに答えなさい。

2025年は、日本において男性の普通選挙が導入されてから **(ア)** 年、女性参政权が認められ男女平等の普通選挙が導入されてから **(イ)** 年という節目の年でした。普通選挙とは、一定の年齢に達したすべての国民に選挙権が与えられる制度で、納税額などの制限がありません。

選挙権・**(ウ)** 被選挙権や選挙運動については、1950年に制定された公職選挙法にさまざまな規定が定められており、これまでに度々改正されています。2013年の法改正では、インターネットを利用した選挙運動が一部解禁されました。2015年の法改正では、若い世代の意見を政治に反映していくために選挙権年齢が20歳以上から18歳以上に引き下げられました。2025年の法改正では、2024年におこなわれた **(エ)** 東京都知事選挙の際に問題となった品位を損なう選挙ポスターを禁止する規定が付け加えられました。

2025年にはさまざまな選挙が日本国内でおこなわれました。特に、**(オ)** 東京都議会議員選挙や **(カ)** 参議院議員選挙は、マスメディアでも大きく取り上げられました。参議院議員選挙では、物価高対策や **(キ)** 消費税の減税、**(ク)** 社会保障制度、**(ケ)** 選択的夫婦別姓制度の是非、外国人に関わるさまざまな政策などが争点となり、各政党、各候補者が公約を掲げていました。

いずれの選挙においても話題となったのは、インターネットやSNSを用いた選挙運動や選挙に関する情報発信です。候補者のみならず、一般の有権者も動画を投稿することもでき、真偽が定かではないものも含めさまざまな情報がインターネット上で飛び交いました。有権者は、さまざまな情報を得て、投票先を決定します。**(コ)** 情報を発信する人への規制を強めるべきだとの意見もありますが、情報の受け手である有権者が情報の真偽を見極める能力を高めることがますます重要になっているといえます。

また、**(サ)** 以前から選挙における投票率が低いことが問題となっています。2025年におこなわれた東京都議会議員選挙の投票率は47.59%、参議院議員選挙の投票率は58.51%で、有権者数の半数程度しか投票に行っていないことになります。より多くの国民の意見を反映してよりよい政治をおこなってもらうためにも、有権者は政治への関心を高め、選挙に行くなどの政治参加をこれまで以上にすることが大切です。

**問1** 空欄 **(ア)** ・ **(イ)** にはいずれも10の倍数の数字があてはまります。それぞれにあてはまる数字を答えなさい。

**問2** 下線部 **(ウ)** の年齢に関する規定について、参議院議員と同じものを下記①～④からすべて選び、その組み合わせとして正しいものを、次の**A～O**の中からひとつ選んでアルファベットで答えなさい。

- |            |          |
|------------|----------|
| ① 衆議院議員    | ② 都道府県知事 |
| ③ 都道府県議会議員 | ④ 市区町村長  |

- |                  |                |                |                |
|------------------|----------------|----------------|----------------|
| <b>A</b> ①・②・③・④ | <b>B</b> ①・②・③ | <b>C</b> ①・②・④ | <b>D</b> ①・③・④ |
| <b>E</b> ②・③・④   | <b>F</b> ①・②   | <b>G</b> ①・③   | <b>H</b> ①・④   |
| <b>I</b> ②・③     | <b>J</b> ②・④   | <b>K</b> ③・④   | <b>L</b> ①     |
| <b>M</b> ②       | <b>N</b> ③     | <b>O</b> ④     |                |

**問3** 下線部(エ)・(オ)に関連して、都道府県知事や都道府県議会について述べた文として誤っているものを、次のA～Dの中からひとつ選んでアルファベットで答えなさい。

- A 都道府県知事と都道府県議会議員の任期は、いずれも3年である。
- B 都道府県知事は、都道府県議会の決定に対して拒否権を持っている。
- C 都道府県議会は、都道府県知事に対して不信任を議決することができる。
- D 選挙権を持つ住民は、都道府県知事・都道府県議会議員の解職を請求する権利を持っている。

**問4** 下線部(力)に関連して、次の(1)・(2)にそれぞれ答えなさい。

(1) 参議院について述べた文①～③の内容の正誤の組み合わせとして正しいものを、次のA～Hの中からひとつ選んでアルファベットで答えなさい。

- ① 参議院の議員定数は124人であり、任期は6年である。
- ② 参議院議員選挙において、選挙区選挙と比例代表選挙のいずれかにしか立候補できない。
- ③ 日本国憲法の規定では、参議院議員は内閣総理大臣になることはできない。

- |               |               |
|---------------|---------------|
| A ①－正 ②－正 ③－正 | B ①－正 ②－正 ③－誤 |
| C ①－正 ②－誤 ③－正 | D ①－正 ②－誤 ③－誤 |
| E ①－誤 ②－正 ③－正 | F ①－誤 ②－正 ③－誤 |
| G ①－誤 ②－誤 ③－正 | H ①－誤 ②－誤 ③－誤 |

(2) 日本の国会は衆議院と参議院からなる二院制を採用しており、法律案や予算案などは両院が賛成したときに成立します。しかし、日本国憲法では、参議院よりも衆議院に強い権限を認めています。衆議院と参議院が対等である場合、議決においてどのような問題が生じると考えられますか。文章で説明しなさい。

**問5** 下線部(キ)は国に納める間接税です。消費税と同様に国に納める間接税としてふさわしいものを、次のA～Dの中からひとつ選んでアルファベットで答えなさい。

- |       |       |      |         |
|-------|-------|------|---------|
| A 法人税 | B 住民税 | C 関税 | D 固定資産税 |
|-------|-------|------|---------|

問6 下線部（ク）に関連して、次の(1)・(2)にそれぞれ答えなさい。

- (1) 社会保障制度は、日本国憲法第25条に規定されている権利を実現するための制度です。日本国憲法第25条1項の条文中の空欄  にあてはまる語句を、11字で答えなさい。

すべて国民は、  の生活を営む権利を有する。

- (2) 社会保障に関する支出の具体例としてふさわしくないものを、次のA～Dの中からひとつ選んでアルファベットで答えなさい。

- A 収入が一定額を下回っている人に対して、生活保護費を支給する。
- B 感染症の予防のために、予防接種を実施する。
- C 介護サービスの利用料の一部を、介護事業者などに支給する。
- D 洪水などの災害を防ぐために、地下貯水池を建設する。

問7 下線部（ケ）に関連して、国際連合の女性差別撤廃委員会は、2024年に、女性が結婚後も旧姓を保持できるよう夫婦の姓の選択について法改正をすることなどを、日本政府に対して勧告しました。国際連合について述べた文として誤っているものを、次のA～Dの中からひとつ選んでアルファベットで答えなさい。

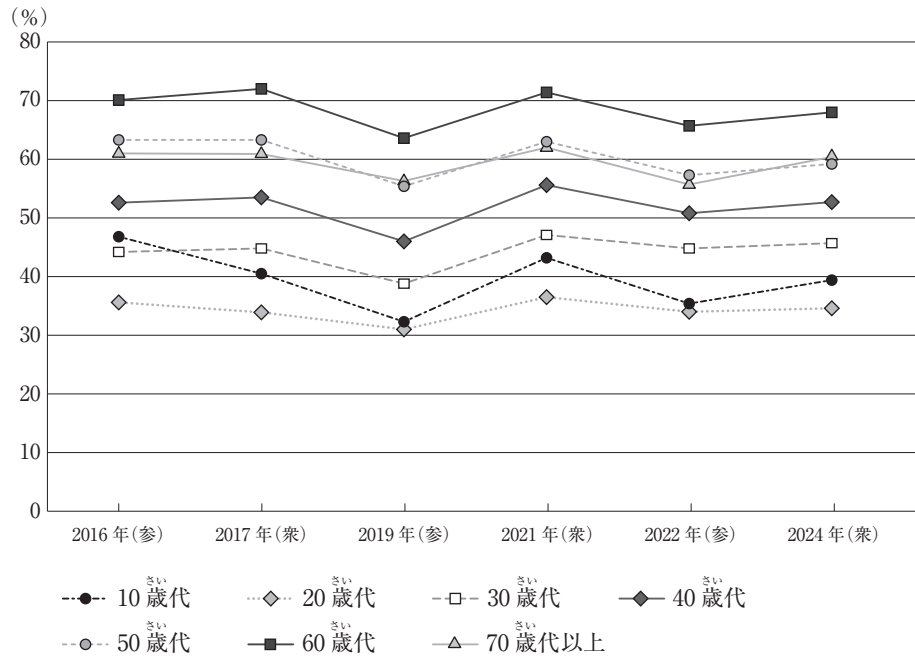
- A 総会は全加盟国からなる国際連合の最高機関であり、毎年9月にニューヨークにある国連本部で開かれる。
- B 安全保障理事会は5か国の常任理事国と、10か国の非常任理事国からなり、すべての議決において常任理事国が1か国でも反対すると決定できない。
- C 経済社会理事会にはさまざまな専門機関が属しており、教育・科学・文化を通して世界平和の実現を目指すUNESCOはそのひとつである。
- D 国際司法裁判所は、国と国との争いごとを法に基づいて解決する機関であり、争う双方の国が同意しなければ裁判はおこなわれない。

問8 下線部（コ）に関連して、表現の自由は、最大限尊重されつつも、場合によっては制約をかける必要もあります。日本国憲法の規定によって認められると考えられる、表現の自由への制約の具体例として最もふさわしいものを、次のA～Dの中からひとつ選んでアルファベットで答えなさい。

- A 政府の政策に対する批判を制限する。
- B 特定の宗教への勧誘を制限する。
- C 他者の尊厳や名誉を傷つける言動を制限する。
- D 特定の企業の利益につながる宣伝を制限する。

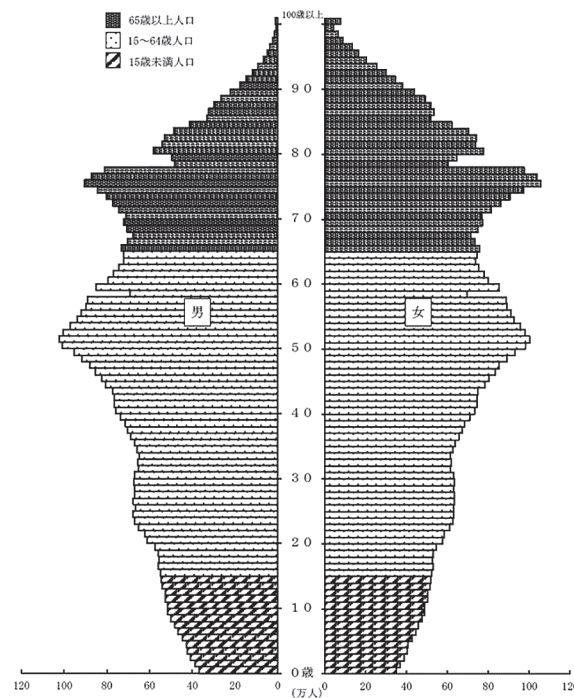
問9 下線部（サ）に関連して、日本では若年層の投票率が低いことが特に問題視されていますが、その理由のひとつとして、若年層向けの政策が不十分であることが指摘されています。若年層向けの政策が十分に実施されない理由を、次の【資料1】・【資料2】を参考に文章で説明しなさい。

【資料1】 2016年から2024年の国政選挙における年代別投票率



(総務省ウェブサイトより作成)

【資料2】 日本の人口ピラミッド (2024年10月1日現在)



(総務省統計局ウェブサイトより)







