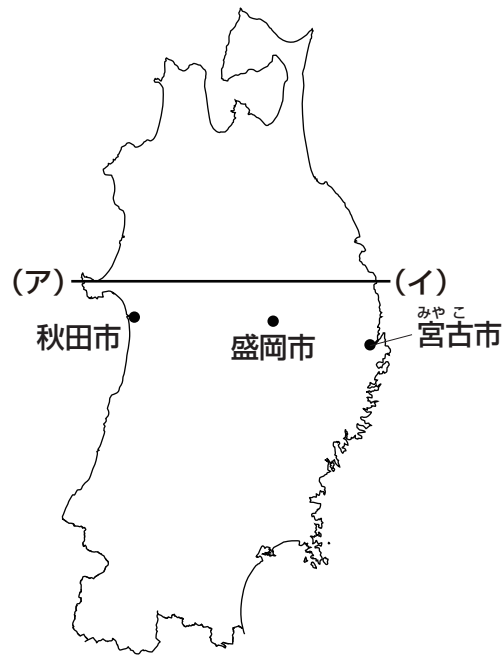


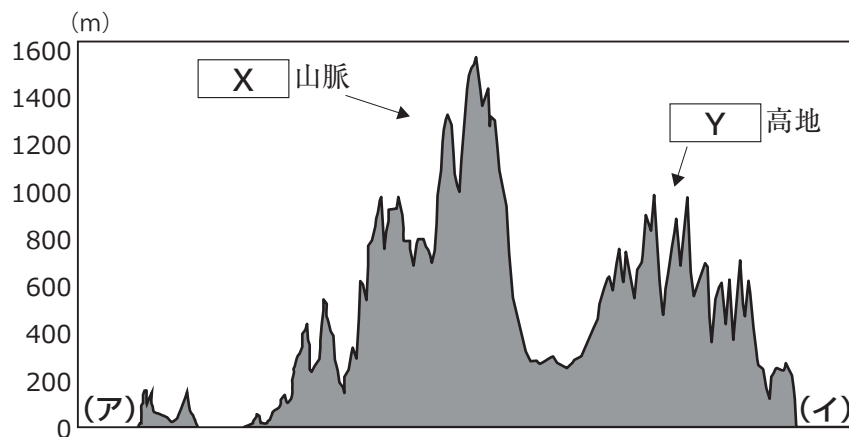
- 1 次の【地図1】は、東北地方を示したものです。これを見て、あとの問いに答えなさい。

【地図1】



- 問1 下記【資料】は、【地図1】中の線(ア)―(イ)に沿った地形の断面図を示したものです。【資料】中の空欄 ・ にあてはまる地名を、それぞれ漢字で答えなさい。

【資料】



(地理院地図より作成)

問2 下記【資料】①～③は、【地図1】中で示された秋田市・盛岡市・宮古市^{みやこ}における月平均日照時間を示したものです。【資料】①～③と都市の組み合わせとして正しいものを、次のA～Fの中からひとつ選んでアルファベットで答えなさい。

【資料】

(単位：時間)

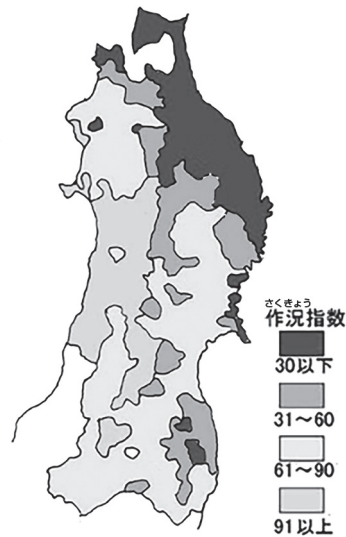
	1月	2月	3月	4月	5月	6月	7月	8月	9月	10月	11月	12月
①	115.6	124.8	157.8	171.4	188.0	161.3	130.5	145.3	128.8	141.3	117.7	103.7
②	158.4	153.2	179.7	186.6	185.0	152.6	133.9	153.2	133.8	149.6	146.8	147.6
③	39.0	64.3	121.5	168.6	184.9	179.5	150.3	186.9	160.8	143.1	83.2	45.3

(気象庁統計より作成)

- A ①－秋田市 ②－盛岡市 ③－宮古市^{みやこ}
 B ①－秋田市 ②－宮古市^{みやこ} ③－盛岡市
 C ①－盛岡市 ②－秋田市 ③－宮古市^{みやこ}
 D ①－盛岡市 ②－宮古市^{みやこ} ③－秋田市
 E ①－宮古市^{みやこ} ②－秋田市 ③－盛岡市
 F ①－宮古市^{みやこ} ②－盛岡市 ③－秋田市

問3 下記【地図2】は、1980年の東北地方における米の作況指数^{さくきょう}を示したものです。これを見て、次の(1)・(2)にそれぞれ答えなさい。

【地図2】



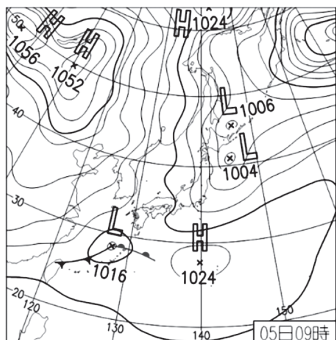
(注) 作況指数^{さくきょう}とは、10 aあたりの平年収量を100とした数値である。

(気象庁「平成5年冷夏・長雨調査報告」より作成)

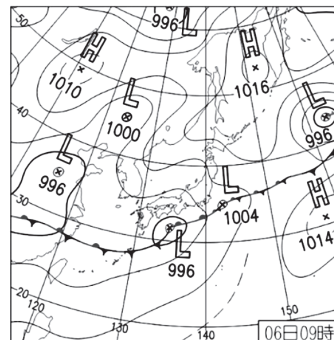
(1) 1980年の米の作況指数の低下は、主に冷夏が関係しています。この冷夏をもたらす、東北地方に吹く風の一般的な名称を答えなさい。

(2) (1)の風が発生する際の天気図としてふさわしいものを、下記【資料】A～Dの中からひとつ選んでアルファベットで答えなさい。

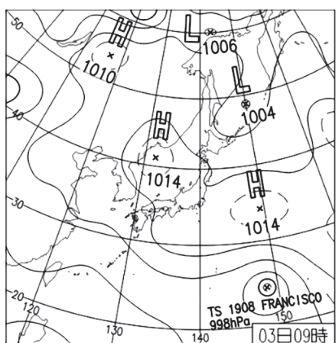
【資料】



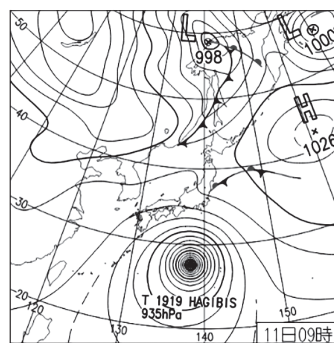
A



B



C



D

(注) Hは高気圧、Lは低気圧を示している。
(気象庁ウェブサイトより)

問4 下記【資料】①～③は、青森県・秋田県・岩手県における、農業産出額に占める上位3品目とその割合(2021年)を示したものです。【資料】①～③と県の組み合わせとして正しいものを、次のA～Fの中からひとつ選んでアルファベットで答えなさい。

【資料】

(単位：%)

	①	②	③
果実	33.4	鶏肉	31.5
野菜	23.0	米	17.4
鶏肉	14.2	豚肉	12.0
		米	52.8
		野菜	17.2
		豚肉	10.0

(農林水産省東北農政局「農林水産統計 東北」より作成)

- A ①－青森県 ②－秋田県 ③－岩手県
- B ①－青森県 ②－岩手県 ③－秋田県
- C ①－秋田県 ②－青森県 ③－岩手県
- D ①－秋田県 ②－岩手県 ③－青森県
- E ①－岩手県 ②－青森県 ③－秋田県
- F ①－岩手県 ②－秋田県 ③－青森県

問5 下記【資料】A～Dはそれぞれ、岩手県・秋田県・山形県・宮城県のいずれかの伝統的工芸品を示したものです。岩手県の伝統的工芸品としてふさわしいものを、次のA～Dの中からひとつ選んでアルファベットで答えなさい。

【資料】



A



B



C



D

- 2 洗足花子さんは、西日本の「ある都市」の歴史について調べて、社会科の授業で発表する準備をしています。次の各文章は、花子さんがまとめた【メモ】と、発表用の【原稿】です。これらを読んで、あとの問いに答えなさい。

【メモ】

この市域にいつごろから人が住み始めたのか、はっきりとは分かっていないが、市域で見ついている最も古い道具は、旧石器時代に作られたと考えられる石器である。その後の時代に使用された道具のほか、定住の跡や耕作の跡も見つかり、市の埋蔵文化センターや市立博物館では、市内各地の遺跡から出土した遺物や、市内の遺跡についての展示を見ることができる。

律令制における行政区画では、市域東部は摂津国に、市域西部は播磨国に属していた。市域には律令制に由来する「群家」という地名が伝わっている。その地名から、このあたりには、「国」のもとに置かれた「群」の役所があったと考えられている。また、平安時代の史料には、現在の市域に存在した(ア) 荘園が記録されており、その名称に由来すると思われる地名が伝わっている。

江戸時代の幕藩体制下では、市域には、いくつかの藩がおかれ、(イ) 幕領や旗本領も点在していた。

市域東部には酒造業で有名な地域があり、ここで造られた酒は樽廻船によって江戸などの大消費地に運ばれた。この地域は、初め尼崎藩領だったが、のちに幕領となった。

明治時代になり、新政府によって「県」がおかれた。1868年には、初代県庁舎が置かれ、初代県知事として(ウ) が赴任した。この人物は、のちに下関条約締結の代表を務めたほか、初代韓国統監にも就任した。

1889年に市が誕生するが、現在の市域の1割にも満たない面積であり、その後合併を重ねて現在に至っている。

市域をマグニチュード7.3の地震が襲い、甚大な被害をもたらした。被害状況がマスメディアによって報道され、全国から多くのボランティアが駆け付けた。この年は「ボランティア元年」とよばれている。

この都市は、古くから、港とともに発展してきました。1951年に制定された市歌にも、「時代に勢えり 名だたる海港 世界の都」という歌詞が登場します。この都市の港は、近接する「ふたつの港」が一体化して形成されたものです。

「ふたつの港」のうち、西側の港は、(エ) 奈良時代の僧である行基が、この港を含む「撰播五泊」とよばれる5箇所の港を整備したことが始まりといわれています。その後、日明貿易の拠点のひとつとして記録に登場します。また、この時期の船の往来について記録している史料である「(オ) 兵庫北関入船納帳」には、多くの船が出入りしていることが記されており、国内の流通においても重要な役割を果たしていたと考えられます。

東西ふたつの港が一体化され、明治維新以降は、横浜港に並ぶ有数の貿易港として発展しました。

問1 「ある都市」の港の歴史について述べた文として最もふさわしいものを、次のA～Dの中からひとつ選んでアルファベットで答えなさい。

- A 平清盛は、大輪田泊を修築して、日宋貿易を推進した。
- B 幕府は、元軍の再度の襲来しゅうらいに備えて、防塁ぼうるいを築かせた。
- C 日米和親条約の締結により、アメリカ船に対して開港することが決定された。
- D 九州における代表的な港であり、遣唐使船の経由地のひとつであった。

問2 下線部(ア)に関連して述べた文①～④の内容について、正しいものの組み合わせを、次のA～Dの中からひとつ選んでアルファベットで答えなさい。

- ① 墾田永年私財法の発布は、荘園が発生する基礎となった。
- ② 荘園整理令の発布は、荘園が発生する基礎となった。
- ③ 不輸の権が付与された荘園は、租税が免除された。
- ④ 不入の権が付与された荘園は、租税が免除された。

A ①・③ B ①・④ C ②・③ D ②・④

問3 下線部(イ)に関連して述べた文①～③の内容の正誤の組み合わせとして正しいものを、次のA～Hの中からひとつ選んでアルファベットで答えなさい。

- ① 幕領内の百姓たちは、幕府への年貢納入が免除されていた。
- ② 徳川吉宗は、収入を増やすため、幕領に対して上げ米を実施した。
- ③ 水野忠邦は、上知令によって、江戸・大坂周辺の領地の幕領化をはかった。

A ①-正 ②-正 ③-正 B ①-正 ②-正 ③-誤
C ①-正 ②-誤 ③-正 D ①-正 ②-誤 ③-誤
E ①-誤 ②-正 ③-正 F ①-誤 ②-正 ③-誤
G ①-誤 ②-誤 ③-正 H ①-誤 ②-誤 ③-誤

問4 空欄(ウ)にあてはまる人物を、姓名ともに漢字で答えなさい。

問5 下線部(エ)について述べた文X・Yと、それに該当する人物a・bとの組み合わせとして正しいものを、次のA～Dの中からひとつ選んでアルファベットで答えなさい。

X 日本に戒律を伝えるとともに、唐招提寺を開いた。
Y 朝廷により取り締まりを受けたが、のちに東大寺の大仏造立に協力した。

a 道鏡 b 鑑真

A X-a B X-b C Y-a D Y-b

問6 下線部(オ)に関連して、下記【資料1】は、下線部(オ)に記載されている内容の一部を花子さんが抜粋したものです。また、下記【資料2】は、花子さんが、下線部(オ)や【資料1】から読み取ることができた内容と、それらの内容から立てた仮説をまとめたものです。【資料2】中の空欄 にあてはまる内容としてふさわしい文章を答えなさい。

【資料1】

船籍地	積荷品目と数量	関銭の額 (納入月日)	船頭・船主名	荷受先である 問丸名	記録されている 月日
島	塩250石	620文 (3月7日)	左衛門三郎	道念	3月3日
三原	塩50石	80文 (8月16日)	又五郎	道祐	8月14日
尼崎	米167石	八幡松原年貢	太郎二郎		12月15日
英賀	米25石	577文 (12月5日)	左近九郎	孫太郎	11月17日

【資料2】

読み取ることができた内容

- ・この帳面には、主に中国地方や四国地方から畿内に向けて物資を運搬した船についての情報が記録されているようである。
- ・中世における関所では、関銭の徴収がおこなわれていたようである。
- ・中世における関所は、陸上・水上を問わず設置されていたようである。
- ・【資料1】中の「塩」のほかにも、材木・海産物・壺・鉄など、多様な物資が運ばれていたようである。
- ・運ばれている物資が同じ品目であっても、「関銭の額」や、その納入月日が記載されていない船が散見された。
- ・「関銭の額」のかわりに、他の文言が記載されていたため、記入漏れではなく、意図的に他の文言が記録されていたと推測した。

仮説

- ・同じ品目であっても、 場合、関銭の支払いは免除されていたのではないか。
- ・関銭の支払いが免除されていない、大部分の「積荷」は、その多くが「商品」として運ばれたのではないだろうか。

3 次の文章は、「優先席」と「専用席」について書かれたものです。これを読んで、あとの問いに答えなさい。

ある日のことである。塾へと通う小学生だろうか、混雑した電車の中で、お年寄りに席を譲るために「この席、どうぞ！」とさっと席を立つ。偉いぞと声をかけたい気持ちを抑えながら、ふと優先席の方に目をやると、こちらは「学生」が静かに席に座っている。

「優先席」の歴史は意外と古い。JR（当時はまだ国鉄であった）では、福祉の向上が叫ばれていた1973年に、中央線において(ア) 婦人子供専用車と入れ替わる形で「優先席」が導入されている。もっとも、当時は「シルバーシート」という名称であり、すべての車両に設定されていたわけではない。この「シルバーシート」が「優先席」に改称されたのが1997年のこと。以前から「お年寄りや身体の不自由な方の優先席」という説明書きがついていたが、乳幼児を連れている人や妊娠している人も優先の対象とすることを明らかにするために名前を変更したという経緯がある。こうした公共交通機関における優先席については、諸外国でも制度化されている。

広く普及している「優先席」ではあるが、これとは異なる形で、座席を必要としている人が座れるように取り組んでいる事業者もある。札幌市営地下鉄の車内には「優先席」がない、と聞くと驚く人もいるだろう。札幌市営地下鉄の車内にあるのは「専用席」である。これには、心身ともに健康な若者が座席を多く利用しており、本来の優先利用の対象である、お年寄りや身体の不自由な方が座ることができない、という声が多く寄せられたため、「優先席」から「専用席」に変更した、という経緯がある。札幌市営地下鉄における「専用席」は、他の地域における「優先席」と比べて、障がいを持つ人やお年寄り、妊娠している人の座っている割合が非常に高いという研究結果がある。その一方で、「専用席」の対象者がいつでも気兼ねなく座れる環境を維持するために、(イ) という、ある意味で非合理的な光景も、札幌市営地下鉄の車内ではしばしば見られるという。

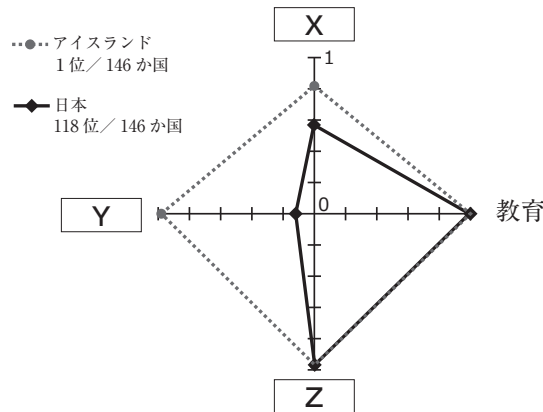
「優先席」は「専用席」とは異なり、その対象者以外が座ることを認めていないものではなく、(ウ) あらゆる人が座ってもよい座席である。「優先席」においては、混雑している車内で座席を必要とする人が座ることができない、そんな状況が発生したときに、席を立って譲ればよいということになる。しかし、こうした考え方に対しては、目には見えにくい障がいを持つ人が着席しにくくなるという意見もある。

現在はバリアフリー法に基づき、「優先席」などの適正な利用の推進が(エ) 国家や地方公共団体などの責務として掲げられているが、多種多様な人々が共存する公共交通機関においては、その利害調整を単純に解決することが難しい。そもそも、「優先席」や「専用席」を必要とする人とそうでない人の関係は固定的なものではない。自分も「優先席」や「専用席」を利用する機会が巡ってくる可能性は、いつだってある。そんなことを頭の片隅に置いておくだけで、私たちの行動は少し変わっていくのではないか。

そんなことを考えていると、まもなく終点の駅に到着するとのアナウンスがあった。再び優先席の方に目をやる。さきほどの「学生」が立ち上がる。「学生」のカバンに(オ) が揺れている。私は無理解を恥じ、改めてすべての人にとって過ごしやすい世界を実現しなければという思いを強くした。

問1 下線部 (ア) に関連して、下記 [資料] は、日本とアイスランドにおけるジェンダー・ギャップ指数の分野別スコア (2024年) を示したものです。空欄 X ~ Z にあてはまる分野の組み合わせとして正しいものを、次の A ~ F の中からひとつ選んでアルファベットで答えなさい。なお、ジェンダー・ギャップ指数は 0 が完全不平等、1 が完全平等を表しています。

[資料]



(男女共同参画局ウェブサイトより作成)

- | | | | |
|---|----------|----------|----------|
| A | X - 経済参画 | Y - 健康 | Z - 政治参画 |
| B | X - 経済参画 | Y - 政治参画 | Z - 健康 |
| C | X - 健康 | Y - 経済参画 | Z - 政治参画 |
| D | X - 健康 | Y - 政治参画 | Z - 経済参画 |
| E | X - 政治参画 | Y - 健康 | Z - 経済参画 |
| F | X - 政治参画 | Y - 経済参画 | Z - 健康 |

問2 空欄 (イ) にあてはまる内容としてふさわしい文章を答えなさい。

問3 下線部 (ウ) に関連して、日本における基本的人権や民主主義について述べた文として正しいものを、次の A ~ D の中からすべて選んでアルファベットで答えなさい。

- A 日本国憲法では、基本的人権は法律の範囲内において侵すことのできない永久の権利として認められている。
- B マスメディアによって実施される世論調査は、政府や政党の政策決定に影響を与えることがある。
- C 政治家が若者を優遇し、若者の反発を招きそうな取り組みを避ける、ゴールド民主主義が影響力を増している。
- D 選挙における一票の格差の問題は、平等権における問題と考えることができる。

問4 下線部(工)に関連して、次の(1)・(2)にそれぞれ答えなさい。

(1) 日本における国会・内閣・裁判所について述べた文①～③の内容の正誤の組み合わせとして正しいものを、次のA～Hの中からひとつ選んでアルファベットで答えなさい。

- ① 国会の両議院は、国の政治が正しくおこなわれているかどうかを調査する国政調査権を持つ。
- ② 内閣総理大臣が国会議員の中から選ばれるのは、議院内閣制を採用していることのあらわれである。
- ③ 違憲審査をおこなうことができる裁判所は高等裁判所と最高裁判所であり、その他の裁判所は違憲審査をおこなう権限を持たない。

- | | | | | | | | |
|----------|-----|-----|-----|----------|-----|-----|-----|
| A | ①－正 | ②－正 | ③－正 | B | ①－正 | ②－正 | ③－誤 |
| C | ①－正 | ②－誤 | ③－正 | D | ①－正 | ②－誤 | ③－誤 |
| E | ①－誤 | ②－正 | ③－正 | F | ①－誤 | ②－正 | ③－誤 |
| G | ①－誤 | ②－誤 | ③－正 | H | ①－誤 | ②－誤 | ③－誤 |


(2) 日本国憲法の改正について述べた文①・②の内容の正誤の組み合わせとして正しいものを、次のA～Dの中からひとつ選んでアルファベットで答えなさい。

- ① 日本国憲法の改正に際しておこなわれる国民投票は、内閣による憲法改正の発議の後におこなわれる。
- ② 日本国憲法の改正に際しておこなわれる国民投票の投票権は、満20歳以上の日本国民が有する。

- | | | | | | |
|----------|-----|-----|----------|-----|-----|
| A | ①－正 | ②－正 | B | ①－正 | ②－誤 |
| C | ①－誤 | ②－正 | D | ①－誤 | ②－誤 |

問5 空欄(オ)には、下記【資料】で示されたマークの名称が入ります。下記【資料】は、外見からは分からなくても援助や配慮を必要としている方々が周囲の方に配慮を必要としていることを知らせるマークです。空欄(オ)にあてはまる語句を、カタカナ6字で答えなさい。

【資料】



(東京都福祉局より)

