

# 2024年度 入学試験問題

## 社 会

### 第3回

・・・・・・・・・・・・・・・・・・・・・・・・・・・・ [注 意]・・・・・・・・・・・・・・・・・・・・・・・・・・・・・・・・

試験時間は理科とあわせて60分間です。(11:10～12:10)

社会と理科両方の教科の問題を時間内に解いてください。

問題は1ページから14ページまでです。

解答はすべて解答用紙に記入してください。

解答用紙に受験番号、氏名を記入してください。

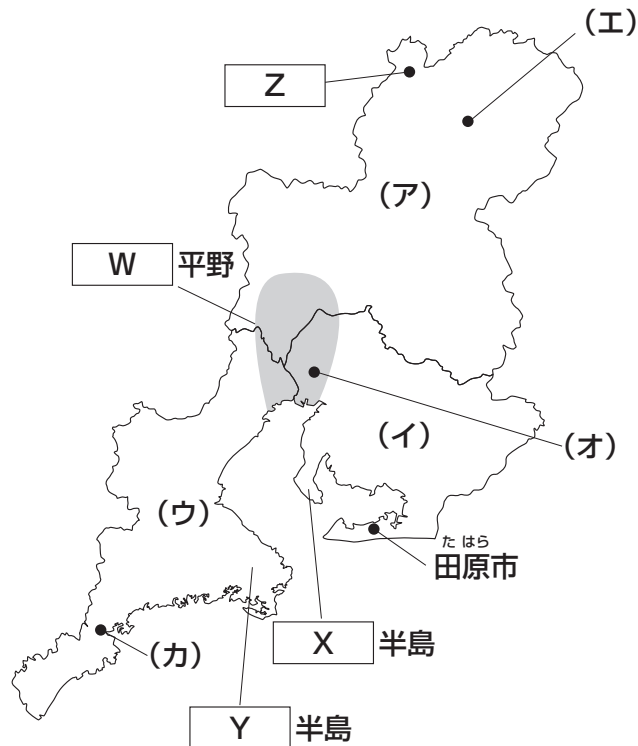
・・・・・・・・・・・・・・・・・・・・・・・・・・・・・・・・



洗足学園中学校

1 次の【地図】を見て、あとの問いに答えなさい。

【地図】



問1 【地図】中で示された **W** 平野・**X** 半島・**Y** 半島について、次の(1)~(3)にそれぞれ答えなさい。

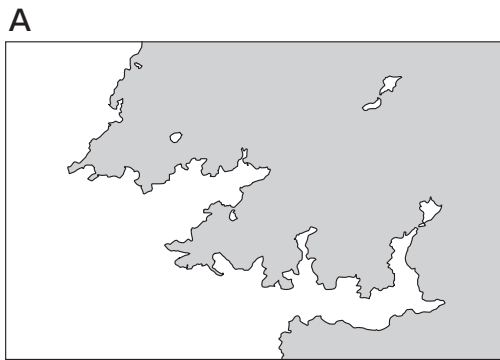
(1) 空欄 **W** ~ **Y** にあてはまる地名の組み合わせとしてふさわしいものを、次のA~Hの中からひとつ選んでアルファベットで答えなさい。

- |   |      |      |      |
|---|------|------|------|
| A | W-濃尾 | X-渥美 | Y-志摩 |
| B | W-濃尾 | X-渥美 | Y-大隅 |
| C | W-濃尾 | X-知多 | Y-志摩 |
| D | W-濃尾 | X-知多 | Y-大隅 |
| E | W-庄内 | X-渥美 | Y-志摩 |
| F | W-庄内 | X-渥美 | Y-大隅 |
| G | W-庄内 | X-知多 | Y-志摩 |
| H | W-庄内 | X-知多 | Y-大隅 |

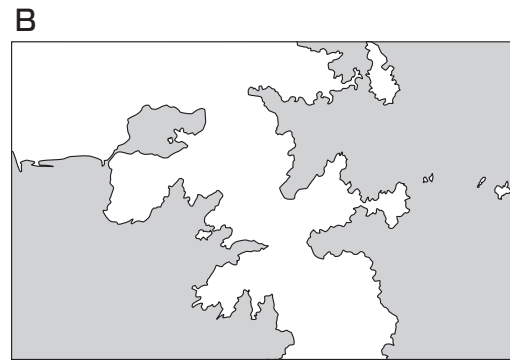
(2) **W** 平野の西部には一級河川が流れており、それらを総称して「木曾三川」とよびます。東海道新幹線を利用して東から西へと木曾三川を越えた場合、通過する河川の順番として正しいものを、次のA～Fの中からひとつ選んでアルファベットで答えなさい。

- |   |                 |   |                 |
|---|-----------------|---|-----------------|
| A | 木曾川 → 揖斐川 → 長良川 | B | 木曾川 → 長良川 → 揖斐川 |
| C | 揖斐川 → 木曾川 → 長良川 | D | 揖斐川 → 長良川 → 木曾川 |
| E | 長良川 → 木曾川 → 揖斐川 | F | 長良川 → 揖斐川 → 木曾川 |

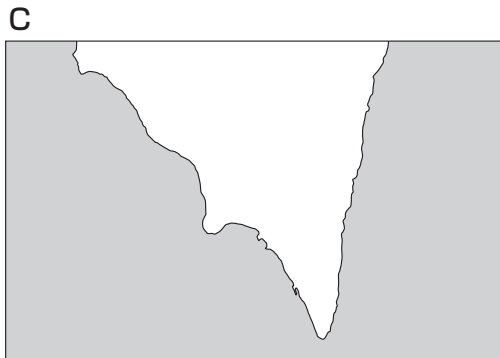
(3) **Y** 半島南部の海岸線には、河川の侵食作用と海水面の変動によって形成された「ある地形」が発達しています。この「ある地形」が典型的に発達している海岸線としてふさわしくないものを、次のA～Dの中からひとつ選んでアルファベットで答えなさい。



大分県の佐伯湾周辺



宮城県の牡鹿半島周辺



高知県の室戸岬周辺



神奈川県の三浦半島周辺

(地理院地図により作成)

問2 [地図] 中の(ア)～(ウ)で示された県について、次の(1)・(2)にそれぞれ答えなさい。

(1) 下記【資料】①～③は、(ア)～(ウ)の消費部門別電力消費量(2019年)を示しています。①～③と(ア)～(ウ)の組み合わせとして正しいものを、次のA～Fの中からひとつ選んでアルファベットで答えなさい。

【資料】

(単位：100万kWh)

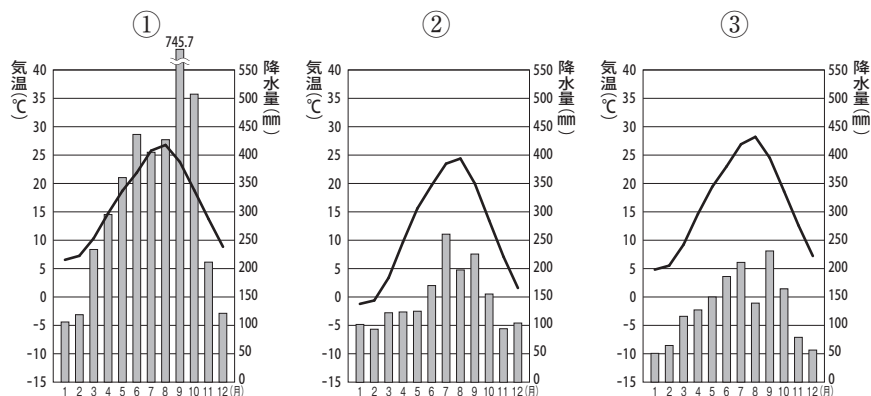
	製造業	第三次産業	家庭	その他	合計
①	24,225	17,136	14,357	419	56,137
②	10,289	3,983	3,402	142	17,816
③	5,632	4,544	3,878	136	14,190

(資源エネルギー庁「都道府県別エネルギー消費統計」より作成)

- |   |       |       |       |
|---|-------|-------|-------|
| A | ①－(ア) | ②－(イ) | ③－(ウ) |
| B | ①－(ア) | ②－(ウ) | ③－(イ) |
| C | ①－(イ) | ②－(ア) | ③－(ウ) |
| D | ①－(イ) | ②－(ウ) | ③－(ア) |
| E | ①－(ウ) | ②－(ア) | ③－(イ) |
| F | ①－(ウ) | ②－(イ) | ③－(ア) |

(2) 下記【資料】は、[地図]中の(工)～(力)で示された都市の月別平均気温と降水量を示したものです。【資料】①～③と都市の組み合わせとして正しいものを、次のA～Fの中からひとつ選んでアルファベットで答えなさい。

【資料】



(国立天文台『理科年表』より作成)

- |   |       |       |       |
|---|-------|-------|-------|
| A | ①－(工) | ②－(オ) | ③－(力) |
| B | ①－(工) | ②－(力) | ③－(オ) |
| C | ①－(オ) | ②－(工) | ③－(力) |
| D | ①－(オ) | ②－(力) | ③－(工) |
| E | ①－(力) | ②－(工) | ③－(オ) |
| F | ①－(力) | ②－(オ) | ③－(工) |

問3 【地図】中の [ Z ] は、「 [ Z ] ・<sup>こ か や ま</sup>五箇山の合掌造り集落」の構成資産の一部として世界遺産に登録されています。 [ Z ] について、次の(1)・(2)にそれぞれ答えなさい。

(1) <sup>くうらん</sup>空欄 [ Z ] にあてはまる語句を、漢字3字で答えなさい。

(2) [ Z ] には、下記【資料】で示したような家屋があります。これらの家屋の屋根の傾斜<sup>けいさつ</sup>が大きく設計されている理由を、文章で説明しなさい。

【資料】



問4 【地図】中に示した田原市は、市町村別農業産出額が全国2位（2021年）です。このことについて、次の(1)・(2)にそれぞれ答えなさい。

(1) 下記【資料】は、日本の市町村別農業産出額の上位の市町村と上位部門の産出額（2021年）を示したものであり、【資料】中の①～③は米・豚・野菜のいずれかを示しています。①～③と部門の組み合わせとして正しいものを、次のA～Fの中からひとつ選んでアルファベットで答えなさい。

【資料】

（単位：億円）

順位	市町村（都道府県）	農業 産出額	上位部門の産出額			
			1位部門		2位部門	
			部門	産出額	部門	産出額
1	みやこのじょう 都城市（宮崎県）	901.5	①	281.7	肉用牛	215.4
2	たはら 田原市（（イ））	848.9	かき 花卉	331.8	②	304.4
3	べつかい 別海町（北海道）	666.4	乳用牛	633.9	肉用牛	20.5
4	ほこた 銚田市（茨城県）	641.4	②	339.5	いも類	152.7
5	弘前市（青森県）	523.6	果実	467.0	③	26.4
6	新潟市（新潟県）	509.8	③	276.3	②	135.7
7	浜松市（静岡県）	506.9	果実	160.6	②	127.1
8	熊本市（熊本県）	460.7	②	241.6	果実	84.7
9	かのや 鹿屋市（鹿児島県）	458.3	肉用牛	185.3	①	109.3
10	なすしおぼら 那須塩原市（栃木県）	455.7	乳用牛	232.5	けいらん 鶏卵	83.4

（農林水産省「農林水産統計」より作成）

（注1）「野菜」には、いちご・スイカなどの果実的野菜も含む。

（注2）【資料】中の（イ）と、【地図】中の（イ）は、同じ県を示している。

- |   |      |      |      |
|---|------|------|------|
| A | ①－米  | ②－豚  | ③－野菜 |
| B | ①－米  | ②－野菜 | ③－豚  |
| C | ①－豚  | ②－米  | ③－野菜 |
| D | ①－豚  | ②－野菜 | ③－米  |
| E | ①－野菜 | ②－米  | ③－豚  |
| F | ①－野菜 | ②－豚  | ③－米  |

(2) 田原市の1位部門は「花卉」であり、その多くを菊が占めています。田原市でおこなわれている、特徴的な菊の栽培方法と、その栽培方法がおこなわれている目的を「出荷」という語句を用いて、文章で説明しなさい。

問題は次のページに続きます。

2 次の【人物1】～【人物4】についての文章を読んで、あとの問いに答えなさい。

【人物1】は、邪馬台国の中心的存在とされる人物です。当時の中国王朝のひとつ、**(ア)**に使者を送り、**(イ)**の称号と金印、銅鏡などを授かったとされています。邪馬台国の位置については、「近畿説」と「九州説」があります。それらの説を明らかにするであろう、【人物1】の墓は特定されておらず、その形状についても (ウ) 古墳型とする説や墳丘墓型とする説など、現在も議論が続いています。

【人物2】は、藤原不比等・<sup>あがたのいぬかいのみちよ</sup> 県犬養三千代のもとに生まれ、のちに聖武天皇の皇后となりました。母の<sup>あがたのいぬかいのみちよ</sup> 県犬養三千代は、天武天皇の時代以降、女官を務めた人物とされ、一説には、平城京に遷都した**(エ)**に仕えたと考えられています。【人物2】は、仏教を深く<sup>しんこう</sup>信仰し、国分寺の<sup>こふりやう</sup>建立や東大寺大仏の造営について積極的に<sup>すす</sup>勧めたとされています。また、庶民を救済するために、悲田院や (オ) 施薬院の創設に力を<sup>つ</sup>尽くしました。

【人物3】は、伊豆の豪族北条時政の<sup>むすめ</sup> 娘であり、平治の乱における敗戦後、伊豆に流された源頼朝の妻となりました。鎌倉幕府二代将軍頼家と三代将軍実朝の母でもあります。夫の死後には出家し、幕府の政治に<sup>かん与</sup>関与しました。実朝が暗殺されると、摂関家から幼い将軍を<sup>むか</sup>迎え入れ、自ら後見人となりました。後鳥羽上皇が挙兵した**(カ)**の乱の際には御家人を説得して団結を<sup>うった</sup>訴えたこととされ、(キ) 武家政権の確立に大きな<sup>えいきやう</sup>影響力を持ちました。

【人物4】は、1886年に東京で生まれ、日本女子大学校（のちの日本女子大学）にて学びました。卒業後の文筆活動のなかで、1911年、女性による (ク) 文芸雑誌『青鞥』を<sup>かのじよ</sup>発刊しました。彼女がその創刊号に寄せた「元始、女性は実に太陽であつた」という言葉は、<sup>こんにち</sup>今日でも広く知られています。その後、市川房枝らとともに新婦人協会を設立し、女性の政治結社への加入および政治演説会などへの参加を禁止した<sup>ちあんけいさつほう</sup>治安警察法の改正に向けた運動を展開しました。こうした運動は、女性の (ク) 参政権<sup>かくとく</sup>獲得運動へと引き<sup>つ</sup>継がれていきました。



問1 空欄 (ア) ・ (イ) にあてはまる中国王朝・称号の組み合わせとして最もふさわしいものを、次のA～Fの中からひとつ選んでアルファベットで答えなさい。

- |            |          |
|------------|----------|
| A (ア) - 魏  | (イ) - 王  |
| B (ア) - 魏  | (イ) - 皇帝 |
| C (ア) - 前漢 | (イ) - 王  |
| D (ア) - 前漢 | (イ) - 皇帝 |
| E (ア) - 後漢 | (イ) - 王  |
| F (ア) - 後漢 | (イ) - 皇帝 |

問2 下線部 (ウ) に関連して、古墳時代前期と古墳時代中・後期に埋葬された人物は、それぞれどのような権威によって人々を支配していたと推測されますか。下記 [資料] を参考にして、解答欄にあわせて文章で説明しなさい。

[資料]

古墳時代前期における 主な副葬品	古墳時代中・後期における 主な副葬品
銅鏡、勾玉など	馬具、鉄製武器など

(注) 「銅鏡」や「勾玉」は、宗教的・呪術的な儀式などに用いられたと考えられている。

問3 空欄 (エ) にあてはまる天皇を、解答欄にあわせて漢字2字で答えなさい。

問4 下線部 (オ) に関連して、日本の医療に関する出来事①～③を、古いものから年代順に正しく並べたものを、次のA～Fの中からひとつ選んでアルファベットで答えなさい。

- ① 【人物2】の発願によって、施薬院が創設された。
- ② 小石川養生所が設置された。
- ③ ドイツ人医師のシーボルトが、長崎に鳴滝塾を開いた。

- |             |             |             |
|-------------|-------------|-------------|
| A ① → ② → ③ | B ① → ③ → ② | C ② → ① → ③ |
| D ② → ③ → ① | E ③ → ① → ② | F ③ → ② → ① |

問5 空欄 (カ) にあてはまる年号を、漢字で答えなさい。

問6 下線部(キ)に関連して、下記【史料】は鎌倉時代に定められた武家法を現代語に訳したものです。下記【史料】について述べた文として正しいものを、次のA～Dの中からひとつ選んでアルファベットで答えなさい。

【史料】

一、諸国の守護の職権の事

源頼朝公の時に定められた守護の職権は、大番役の動員と謀反人・殺害人等の逮捕などである(後略)

一、支配を認められた文書を所持しているが、実際に支配をおこなわずに、年数を経た所領の事

実際に支配して二十年を経過すれば、頼朝公の先例により、ことの当否を問わず、その所領を取り上げることはしない(後略)

一、女性が養子をむかえる事

律令の趣旨からすれば許可されないことだが、頼朝公の時代から今日まで、子のいない女性が所領を養子に譲り与えることは、かわることのない先例であり、数えきれないほどの事例が存在する(後略)

(注)「大番役」は、皇居などの警備にあたる職務であり、御家人が交代して担当した。

- A この【史料】は、三代執権北条泰時らを中心に制定された、武家諸法度の一部である。
- B 守護の職権として、大番役の動員や犯罪者の逮捕などが定められている。
- C 所領の支配が幕府により文書にて認められていれば、実際に支配していたか、または支配の年数などの事実に関係なく、所領の支配は認められる。
- D 律令による規定と同様に、子のいない女性が養子に所領を譲ることは、認められている。

問7 【人物4】は誰ですか、答えなさい。

問8 下線部(ク)に関連して、日本文学について述べた文として誤っているものを、次のA～Dの中からひとつ選んでアルファベットで答えなさい。

- A 平安時代中期ごろ、随筆『枕草子』が著された。
- B 鎌倉時代前期ごろ、『平家物語』がつくられ、民間にも普及していった。
- C 江戸時代前期に相当する文化・文政期には、上方を中心として文学が発展した。
- D 元禄時代に、浮世草子『世間胸算用』が刊行された。

問9 下線部(ケ)に関連して述べた文として正しいものを、次のA～Dの中からひとつ選んでアルファベットで答えなさい。

- A 尾崎行雄によって普通選挙制の導入と民本主義が提唱された。
- B 男性の普通選挙の実施を要求する、民撰議院設立建白書が政府に提出された。
- C 原敬内閣のもとで、25歳以上のすべての男性に選挙権が与えられた。
- D 2016年に改正公職選挙法が施行され、選挙権年齢は「18歳以上」に引き下げられた。

3 次の文章は、2023年6月29日の朝日新聞（朝刊）に掲載された記事です。これを読んで、あとの問いに答えなさい。なお、一部ふりがなをつけた部分があります。

2022年度の(ア)国の一般会計の税収が前年度より約4兆円増え、71兆円強となる見通しであることが分かった。70兆円台は初めてで、3年連続で過去最高を更新する。コロナ禍からの企業の業績回復のほか、物価高の影響が大きく、主要な3税である(イ)消費税、(ウ)所得税、(エ) **(工)** がいずれも増える。

税収は19年10月に消費税率を10%に引き上げた効果などで20年度に60.8兆円と過去最高を記録、21年度はそれを上回る67.0兆円だった。(オ)政府は22年度の税収を68.3兆円と見込んでいたが、上振れする。

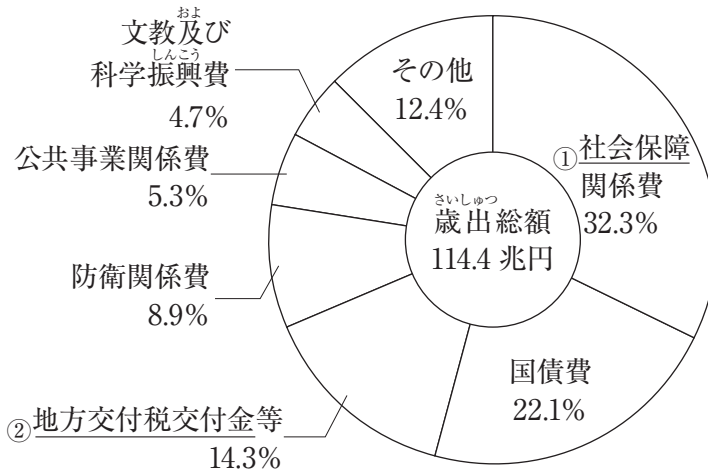
所得税は前年度の21兆円から増えて、22兆円台となる見通し。背景には物価高の影響がある。22年度分の毎月勤労統計調査では、物価を考慮した働き手1人あたりの「実質賃金」は前年度比で1.8%減ったものの、「名目賃金」は1.9%増えた。物価高や人手不足を背景とした賃金の引き上げや、株主への配当増加などが所得税の増加につながったとみられる。

モノやサービスの値上げに伴い、消費税は前年より1兆円以上増えて過去最高の23兆円台になる見込み。資源価格の高騰に記録的な(カ)円安も重なり、輸入品に関わる消費税が増えているという。コロナ禍からの企業業績の回復によって **(工)** も増え、14兆円台を見通す。

ただ、22年度の(キ)補正予算も含めた予算規模は139兆円で、税収が増えても(ク)赤字国債に頼る構図は変わらない。今後、少子化対策や防衛力強化など歳出増につながる政策が控えており、財政再建にはほど遠い。

問1 下線部(ア)に関連して、下記【資料】は、2023年度の国の一般会計歳出予算の項目別割合を示したものです。次の(1)・(2)にそれぞれ答えなさい。

【資料】



(国税庁ホームページより作成)

(1) 【資料】 中の下線部①に関連して、現在の日本の社会保障制度について述べた文として正しいものを、次のA～Dの中からひとつ選んでアルファベットで答えなさい。

- A 社会保障制度は、日本国憲法に定められている生存権を保障するための制度である。
- B 病院にて提示を求められる場合のある、いわゆる「保険証」は、年金保険に加入していることを証明するものである。
- C 介護保険の保険料は、原則、20歳以上の国民が支払わなければならない。
- D 社会福祉とは、子どもや高齢者などが健康で過ごせるように、上下水道の整備や感染症対策をおこなうことである。

(2) 【資料】 中の下線部②について説明した文として正しいものを、次のA～Dの中からひとつ選んでアルファベットで答えなさい。

- A 地方税の収入の格差を縮めるために、国が使いみちを定めずに地方公共団体に支給する補助金のことを指す。
- B 地方税の収入の格差を縮めるために、国が使いみちを定めて地方公共団体に支給する補助金のことを指す。
- C 国の仕事の一部を実施してもらうために、国が使いみちを定めずに地方公共団体に支給する補助金のことを指す。
- D 国の仕事の一部を実施してもらうために、国が使いみちを定めて地方公共団体に支給する補助金のことを指す。

問2 下線部(イ)に関連して、次の(1)・(2)にそれぞれ答えなさい。

(1) 下線部(イ)について述べた文として正しいものを、次のA～Dの中からひとつ選んでアルファベットで答えなさい。

- A 消費税は、実際に税金を負担する人と税金を納める手続きを義務付けられる人が一致する、直接税である。
- B 消費税は、実際に税金を負担する人と税金を納める手続きを義務付けられる人が異なる、直接税である。
- C 消費税は、実際に税金を負担する人と税金を納める手続きを義務付けられる人が一致する、間接税である。
- D 消費税は、実際に税金を負担する人と税金を納める手続きを義務付けられる人が異なる、間接税である。

- (2) 下記【資料】は買い物をした際に発行されたレシートの一部です。消費税率が10%に引き上げられると同時に、政府が軽減税率制度を導入した理由を、【資料】から読み取って、その内容をふくめて、文章で説明しなさい。

【資料】

〇〇スーパー		
領収書		
2023.8.1		
牛乳		* 200 円
たまご		* 250 円
入浴剤 <small>ざい</small>		250 円
ろうそく		150 円
-----		
小計	8%対象額(税抜)	450 円
	消費税8%	36 円
小計	10%対象額(税抜)	400 円
	消費税10%	40 円
合計		926 円
お預かり		950 円
おつり		24 円
〔*〕マークは軽減税率対象品目です		

問3 下線部(ウ)に採用されている、課税所得金額などが大きくなるにつれて、税率が高くなる制度を、解答欄らんにあわせて、漢字で答えなさい。

問4 空欄くうらん (工) にあてはまる税を、漢字で答えなさい。

問5 下線部(オ)に関連して、日本において、税金が適切に使われているか調査したり、国の収入支出の決算が適切であるかを確認したりする、内閣から独立して設置されている行政機関を漢字で答えなさい。

問6 下線部(カ)に関連して、外国為替相場の変動とその影響について述べた文①・②の内容の正誤の組み合わせとして正しいものを、次のA～Dの中からひとつ選んでアルファベットで答えなさい。

- ① 為替相場において、1ドル=100円から1ドル=80円に変化した場合、「円安になった」という。
- ② 円安になると、一般的に、外国からの輸入製品への支払い金額が増えるため、輸入製品の日本国内における販売価格が引き上げられる。

- A ①-正 ②-正                      B ①-正 ②-誤  
C ①-誤 ②-正                      D ①-誤 ②-誤

問7 下線部(キ)は例年、臨時国会で審議されます。臨時国会について述べた文①～③の内容の正誤の組み合わせとして正しいものを、次のA～Hの中からひとつ選んでアルファベットで答えなさい。

- ① 衆参いずれかの議院の総議員の3分の1以上の要求があった時に開かれる。  
② 衆議院の解散による総選挙後、30日以内に開かれる。  
③ 年に1回以上、必ず開かなければならない。

- A ①-正 ②-正 ③-正                      B ①-正 ②-正 ③-誤  
C ①-正 ②-誤 ③-正                      D ①-正 ②-誤 ③-誤  
E ①-誤 ②-正 ③-正                      F ①-誤 ②-正 ③-誤  
G ①-誤 ②-誤 ③-正                      H ①-誤 ②-誤 ③-誤

問8 下線部(ク)に関連して、今後も日本政府により国債が発行され続けることが想定されています。国債を発行し続けることによりもたらされる問題について述べた文として誤っているものを、次のA～Dの中からひとつ選んでアルファベットで答えなさい。

- A 国債の発行が増え続けることによって、国際的な信用の低下につながる。  
B 国債の返済や利子の支払いのための費用が増える。  
C 国債を発行した分だけ、日本銀行が貨幣を発行することにより、物価が下がる。  
D 将来世代に負担を先送りすることになり、増税する可能性が高まる。

