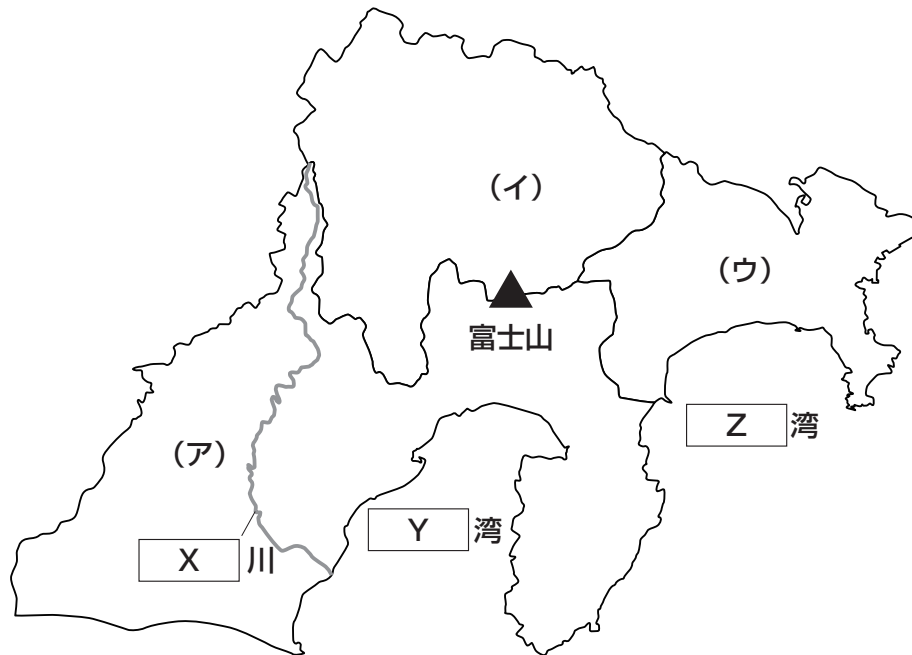


1 次の【地図】を見て、あとの問いに答えなさい。

【地図】



問1 【地図】中の空欄^{くうらん} X ~ Z にあてはまる地名の組み合わせとして正しいものを、次のA~Lの中からひとつ選んでアルファベットで答えなさい。

- | | | | |
|---|--------|--------|--------|
| A | X - 大井 | Y - 駿河 | Z - 陸奥 |
| B | X - 大井 | Y - 駿河 | Z - 相模 |
| C | X - 大井 | Y - 伊勢 | Z - 陸奥 |
| D | X - 大井 | Y - 伊勢 | Z - 相模 |
| E | X - 富士 | Y - 駿河 | Z - 陸奥 |
| F | X - 富士 | Y - 駿河 | Z - 相模 |
| G | X - 富士 | Y - 伊勢 | Z - 陸奥 |
| H | X - 富士 | Y - 伊勢 | Z - 相模 |
| I | X - 天竜 | Y - 駿河 | Z - 陸奥 |
| J | X - 天竜 | Y - 駿河 | Z - 相模 |
| K | X - 天竜 | Y - 伊勢 | Z - 陸奥 |
| L | X - 天竜 | Y - 伊勢 | Z - 相模 |

問2 【地図】中の(ア)～(ウ)で示された県について、次の(1)～(4)にそれぞれ答えなさい。

- (1) 下記【資料】は、(ア)～(ウ)における道路実延長と舗装率^{ほそう}(注)(2019年)を示したものです。【資料】中の①～③と県の組み合わせとして正しいものを、次のA～Fの中からひとつ選んでアルファベットで答えなさい。
 (注) アスファルトやセメントで舗装^{ほそう}された道路の割合。簡易舗装^{ほそう}(小型車向けの薄い舗装^{うすほそう})を含む。

【資料】

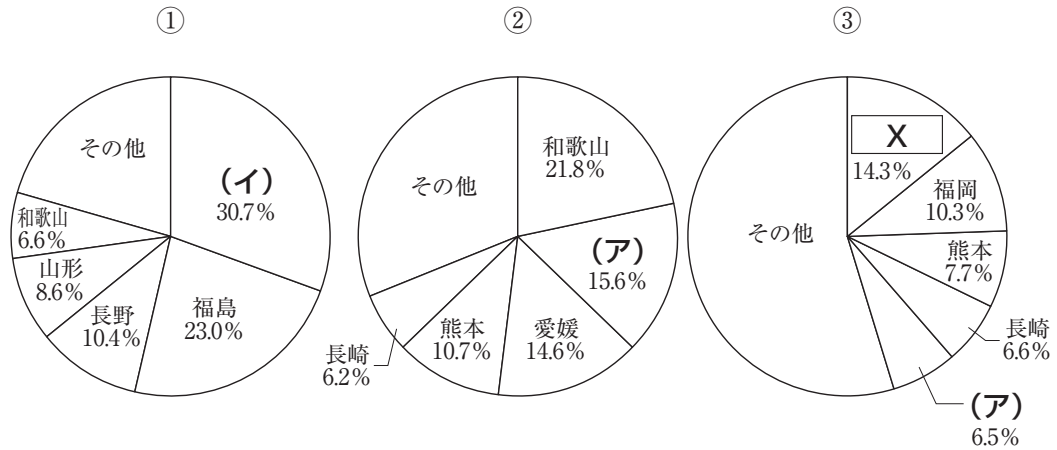
	道路実延長		舗装率 ^{ほそう}
	道路合計	高速道路	
①	37,115.4km	363.0km	86.1%
②	25,778.7km	84.8km	92.1%
③	11,295.9km	166.2km	86.9%

(矢野恒太記念会『データでみる県勢』より作成)

- A ①-(ア) ②-(イ) ③-(ウ) B ①-(ア) ②-(ウ) ③-(イ)
 C ①-(イ) ②-(ア) ③-(ウ) D ①-(イ) ②-(ウ) ③-(ア)
 E ①-(ウ) ②-(ア) ③-(イ) F ①-(ウ) ②-(イ) ③-(ア)

(2) (ア)・(イ)では、果物や野菜の生産が盛んにおこなわれています。下記【資料】は、都道府県別の農産物の生産量(2020年)を示したものです。【資料】中の①～③は、いちご・みかん・もものいずれかを示しています。①～③にあてはまる農産物と、【資料】中の空欄 X にあてはまる県の組み合わせとして正しいものを、次のA～Lの中からひとつ選んでアルファベットで答えなさい。

【資料】

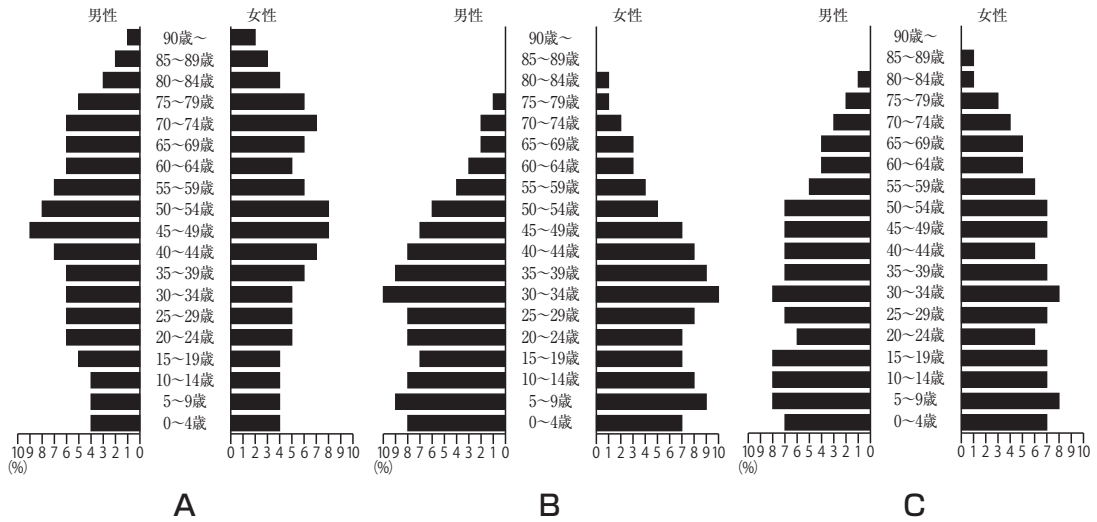


(矢野恒太記念会『日本国勢図会』より作成)

- | | | | | |
|---|-------|-------|-------|------|
| A | ①-いちご | ②-みかん | ③-もも | X-栃木 |
| B | ①-いちご | ②-みかん | ③-もも | X-群馬 |
| C | ①-いちご | ②-もも | ③-みかん | X-栃木 |
| D | ①-いちご | ②-もも | ③-みかん | X-群馬 |
| E | ①-みかん | ②-いちご | ③-もも | X-栃木 |
| F | ①-みかん | ②-いちご | ③-もも | X-群馬 |
| G | ①-みかん | ②-もも | ③-いちご | X-栃木 |
| H | ①-みかん | ②-もも | ③-いちご | X-群馬 |
| I | ①-もも | ②-いちご | ③-みかん | X-栃木 |
| J | ①-もも | ②-いちご | ③-みかん | X-群馬 |
| K | ①-もも | ②-みかん | ③-いちご | X-栃木 |
| L | ①-もも | ②-みかん | ③-いちご | X-群馬 |

(3) 下記【資料】は、(イ)の1980年の人口構成・(ウ)の1980年の人口構成・(ウ)の2020年の人口構成を人口ピラミッドによって示したものです。(ウ)の2020年の人口構成を示したものを、【資料】A～Cの中からひとつ選んでアルファベットで答えなさい。

【資料】



(総務省「国勢調査」各年版より作成)

(4) (ア)・(ウ)では、製造業が盛んです。下記【資料】は、(ア)・(ウ)における紙/パルプ(注)・鉄鋼・輸送用機械器具の出荷額(2019年)を示したものです。【資料】中の①～③と工業製品の組み合わせとして正しいものを、次のA～Fの中からひとつ選んでアルファベットで答えなさい。

(注) 紙/パルプには、紙加工品も含む。

【資料】

(単位：億円)

	①	②	③
(ア)	42,907	2,202	8,729
(ウ)	37,500	6,806	2,244

(矢野恒太記念会『日本国勢図会』より作成)

- A ①－紙/パルプ ②－鉄鋼 ③－輸送用機械器具
- B ①－紙/パルプ ②－輸送用機械器具 ③－鉄鋼
- C ①－鉄鋼 ②－紙/パルプ ③－輸送用機械器具
- D ①－鉄鋼 ②－輸送用機械器具 ③－紙/パルプ
- E ①－輸送用機械器具 ②－紙/パルプ ③－鉄鋼
- F ①－輸送用機械器具 ②－鉄鋼 ③－紙/パルプ

問3 【地図】 中の富士山に関連して、次の(1)・(2)にそれぞれ答えなさい。

(1) 「富士山－^{しんこう}信仰の対象と芸術の源泉」は世界文化遺産に登録されています。世界文化遺産と所在する都道府県の組み合わせとして正しいものを、次のA～Lの中からすべて選んでアルファベットで答えなさい。

- | | |
|-------------|--------------|
| A 知床－北海道 | B 知床－青森県 |
| C 小笠原諸島－東京都 | D 小笠原諸島－神奈川県 |
| E 屋久島－鹿児島県 | F 屋久島－宮城県 |
| G 原爆ドーム－長崎県 | H 原爆ドーム－山口県 |
| I 厳島神社－岡山県 | J 厳島神社－広島県 |
| K 姫路城－京都府 | L 姫路城－兵庫県 |

(2) 富士山に似た形の山を「○○富士」とよぶことがあります。下記【地図】は、「会津富士」「讃岐富士」「豊後富士」という^{つうしょう}通称をもつ山が位置する都道府県を示したものです。【地図】中の①～③と山の^{つうしょう}通称の組み合わせとしてふさわしいものを、次のA～Fの中からひとつ選んでアルファベットで答えなさい。なお、【地図】の縮尺は同一ではありません。

【地図】



- | | | |
|----------|--------|--------|
| A ①－会津富士 | ②－讃岐富士 | ③－豊後富士 |
| B ①－会津富士 | ②－豊後富士 | ③－讃岐富士 |
| C ①－讃岐富士 | ②－会津富士 | ③－豊後富士 |
| D ①－讃岐富士 | ②－豊後富士 | ③－会津富士 |
| E ①－豊後富士 | ②－会津富士 | ③－讃岐富士 |
| F ①－豊後富士 | ②－讃岐富士 | ③－会津富士 |

2 次の各文章を読んで、あとの問いに答えなさい。

旧石器時代における日本で暮らしていた人々は、大型動物を捕まえて食べていました。マンモスや〔ア〕などを捕まえるため、やりなどの道具を用いていたと推測されています。その後の時代でも動物を食べていた痕跡は多くの遺跡から出土しています。広島県の草戸千軒町遺跡の〔イ〕の骨の出土例などを見ると、現在の日本では一般的に食用として流通していない動物を、当時の人々は食べていたことが分かります。

水産資源も食用に利用されており、紀伊半島沖などでおこなわれていた〔ウ〕漁は特徴的です。大型で捕まえにくいと、江戸時代には、網で自由に動けないようにしたところを罾で突いたようです。現在でも〔ウ〕の肉を食べる文化が残っていますが、〔ウ〕の捕獲・食用に対して批判的な人もいます。

〔エ〕水産資源の食用が定着したのに対して、獣肉の食用は一部制限を受けました。奈良時代に〔オ〕殺生を禁ずる命令が出されたのもその一例です。制限された一因として、仏教の教えが広まり、むやみに殺生をおこなうべきではないと考えるようになったことが挙げられます。江戸時代になると、〔イ〕をはじめとする「生類」を大切にしよう命じた生類憐みの令のように、動物愛護の政策もおこなわれました。

古来より飼育されていた動物の代表例が馬です。律令国家のもとで「牧」とよばれる馬の放牧地がつくられ、平安時代になると、皇室が管理した勅旨牧において行事に使用される馬が飼育されていました。その後、武士が勢力を拡大するにつれて、軍馬の飼育数は増えていきました。鎌倉時代以降の武士の戦いにおいて馬は重要な存在であり、明治期に入っても軍馬の確保は重要視されました。政府は、〔カ〕富国強兵・殖産興業をスローガンに国家政策を推し進め、軍馬の本格的な管理を始めました。国産馬の体格が小さかったため、〔キ〕日露戦争後には軍馬の改良計画もおこなわれました。〔ク〕以降、自動車などを軍事利用するようになっても、日本は中国大陸における物資の運搬に多くの軍馬を利用し続けました。そのため軍馬の管理や改良も続けられました。1931年に発生した鉄道線路の爆破事件をきっかけに、日本が満州の実質的な支配権を握ったころから、中国戦線の拡大に伴って軍馬の需要がさらに増えました。その結果、軍馬の数が足りなくなり、不足分を現地で補充することもあったようです。

問1 空欄(ア)～(ウ)にあてはまる動物の組み合わせとして最もふさわしいものを、次のA～Fの中からひとつ選んでアルファベットで答えなさい。

- | | | | |
|---|------------|---------|---------|
| A | (ア)－ニホンジカ | (イ)－イルカ | (ウ)－クジラ |
| B | (ア)－ニホンジカ | (イ)－イヌ | (ウ)－イルカ |
| C | (ア)－イノシシ | (イ)－ネコ | (ウ)－マグロ |
| D | (ア)－イノシシ | (イ)－イルカ | (ウ)－マグロ |
| E | (ア)－ナウマンゾウ | (イ)－イヌ | (ウ)－クジラ |
| F | (ア)－ナウマンゾウ | (イ)－ネコ | (ウ)－イルカ |

問2 下線部(工)に関連して、19世紀後半に渡良瀬川周辺において漁業・農業に大きな被害を与えた足尾鉍毒事件の解決に尽力し、衆議院議員を辞任して明治天皇に直訴をおこなったことで知られる人物を、姓名ともに答えなさい。

問3 下線部(オ)について、『続日本紀』という歴史書には、聖武天皇による殺生を禁ずる命令が記されています。聖武天皇について述べた文①・②の内容の正誤の組み合わせとして正しいものを、次のA～Dの中からひとつ選んでアルファベットで答えなさい。

- ① 国ごとに東大寺・国分尼寺を建立した。
 ② 遺品の一部は、書院造の宝庫に納められた。

- | | | | |
|---|---------|---|---------|
| A | ①－正 ②－正 | B | ①－正 ②－誤 |
| C | ①－誤 ②－正 | D | ①－誤 ②－誤 |

問4 下線部(力)のスローガンのもと、1872年に群馬県に設立された官営工場がXです。Xは、江戸時代の越後屋をルーツとするY財閥に払い下げられるまで、日本の工業の発展に貢献しました。また、Z後には、官営の八幡製鉄所が設立されました。空欄X～Zにあてはまる語句の組み合わせとして正しいものを、次のA～Fの中からひとつ選んでアルファベットで答えなさい。

- | | | | |
|---|---------|------|--------|
| A | X－富岡製糸場 | Y－三井 | Z－日清戦争 |
| B | X－富岡製糸場 | Y－住友 | Z－日中戦争 |
| C | X－電電公社 | Y－三菱 | Z－日露戦争 |
| D | X－電電公社 | Y－三井 | Z－日露戦争 |
| E | X－専売公社 | Y－住友 | Z－日中戦争 |
| F | X－専売公社 | Y－三菱 | Z－日清戦争 |

問5 下線部(キ)の終戦のため、外務大臣が日本代表として講和会議に臨みました。彼は関税自主権の回復を達成した時の外務大臣でもあります。会議はの仲立ちによっておこなわれました。日本は賠償金を得られなかったため、民衆が公園において暴動事件を起こす事態になりました。空欄～にあてはまる人物・語句の組み合わせとして正しいものを、次のA～Fの中からひとつ選んでアルファベットで答えなさい。

- | | | | |
|---|-----------|----------|---------|
| A | X - 伊藤博文 | Y - アメリカ | Z - 代々木 |
| B | X - 伊藤博文 | Y - イギリス | Z - 日比谷 |
| C | X - 陸奥宗光 | Y - フランス | Z - 上野 |
| D | X - 陸奥宗光 | Y - フランス | Z - 代々木 |
| E | X - 小村寿太郎 | Y - アメリカ | Z - 日比谷 |
| F | X - 小村寿太郎 | Y - イギリス | Z - 上野 |

問6 空欄には、ヴェルサイユ条約により講和を結んだ戦争があてはまります。この戦争において、日本は三国側に立って参戦しました。日本が三国側に立って参戦した理由を、空欄にあてはまる語句を明らかにして、文章で説明しなさい。

3 次の文章を読んで、あとの問いに答えなさい。

洗足学園中学校に通う花子さんは、あるとき、次のような夢を見ました。

「理想郷」を求め、(ア) 日本を離れ、海にひとりで漕ぎ出した。嵐がきて、船は思わぬ方向に進み、漂流することに。時間が経過し、夜明けとともにようやく陸地が見えてきた。船を寄せ、フラフラとした足取りで上陸すると、そこは下記のような場所だった。

- ・村人は狩猟採集生活をしており、(イ) 週あたりの狩猟採集に費やす時間は約20時間である。
- ・多様な食物により理想的な栄養を得ることができている。
- ・獲得した大型の獲物を村内で平等に分ける慣習がある。
- ・(ウ) 他者とトラブルがあった場合には、村長の裁定に従う。

ここが私の求めていた「理想郷」だと思い、村長に「ここに住ませてほしい」と頼み込み、受け入れてもらうことになった。しばらく住み、暮らしてみると、下記のようなことも明らかになってきた。

- ・現代であれば致命傷にはならないような怪我に対して、治療方法がなく、命を落とす場合がある。
- ・けがや病気などにより食料の獲得に貢献できなくなった場合は、集団に受け入れてもらえなくなる。
- ・子どもの死亡率は高く、2割の子どものが5歳を迎えずに亡くなっている。

ある日、私はイノシシを追っている最中に落とし穴に落ちてけがを負い、立ち上がれなくなった。すると、今まで一緒にいて友人だと思っていた村人に置いていかれてしまった。

冷や汗をかきながら目が覚めた花子さんは、「理想」とする社会とはどのようなものなのだろうか、と考え始めました。「食べ物に事欠くことがない社会」、「安全な場所で安心して暮らすことができる社会」、「互いに助け合える社会」、「(エ) 争いのない社会」、「(オ) 自由に生きることのできる社会」、「自分らしく生きることができる社会」……。

花子さんは、理想の社会とはどういった社会か、そして社会の中で自分はどのように生きていきたいのか、これからの学校生活を通じて考え続けていきたいと思いました。

問1 下線部(ア)に関連して、次の(1)・(2)にそれぞれ答えなさい。

(1) 下線部(ア)における、現在の民主政治について述べた文として正しいものを、次のA～Dの中からひとつ選んでアルファベットで答えなさい。

- A 憲法改正のためには、国会の発議した憲法改正案が、国民投票の3分の2以上の賛成によって承認されなければならない。
- B 内閣総理大臣を国民が直接選出できるようにするには、憲法の改正は不要であるが、新たに法律を制定しなければならない。
- C 地方公共団体の長と地方議会の議員は、地域住民による間接選挙によって選出される。
- D 最高裁判所の裁判官は、その任命後初めておこなわれる衆議院議員総選挙の際に、適任かどうかを国民の投票によって審査される。

(2) 議院内閣制について規定している、日本国憲法第66条3項の条文中の空欄X・Yにあてはまる語句を、それぞれ漢字で答えなさい。

内閣は、X権の行使について、国会に対しYして責任を負ふ。

問2 下線部(イ)に関連して、下記【資料】は日本・アメリカ・フランス・スウェーデン・メキシコにおけるひとりあたり平均年間総実労働時間の推移を表したものです。【資料】から読み取れる内容について述べた文①・②の内容の正誤の組み合わせとして正しいものを、次のA～Dの中からひとつ選んでアルファベットで答えなさい。

【資料】

(単位：時間)

	1995年	2005年	2015年	2020年
日本	1,884	1,777	1,719	1,598
アメリカ	1,839	1,794	1,783	1,767
フランス	1,601	1,532	1,519	1,407
スウェーデン	1,482	1,451	1,466	1,426
メキシコ	2,161	2,105	2,140	2,124

(『データブック国際労働比較2023』より作成)

- ① 1995年と2020年におけるひとりあたり平均年間総実労働時間を比較した場合、減少率が最も大きい国は日本である。
- ② ひとりあたり平均年間総実労働時間の最も長い国と最も短い国との差は、いずれの年においても600時間よりも長い。

- A ①－正 ②－正
- B ①－正 ②－誤
- C ①－誤 ②－正
- D ①－誤 ②－誤

問3 下線部（ウ）に関連して、日本における民事裁判について述べた文①～③の内容の正誤の組み合わせとして正しいものを、次のA～Hの中からひとつ選んでアルファベットで答えなさい。

- ① 国民から選ばれた裁判員が民事裁判に参加し、裁判官とともに有罪・無罪を決めたり刑の内容を決めたりする。
- ② 簡易裁判所が第一審を担当した民事裁判の控訴審は、原則として高等裁判所でおこなわれる。
- ③ 民事裁判における原告は検察官であり、起訴された被疑者は被告人とよばれる。

- | | |
|----------------------|----------------------|
| A ①－正 ②－正 ③－正 | B ①－正 ②－正 ③－誤 |
| C ①－正 ②－誤 ③－正 | D ①－正 ②－誤 ③－誤 |
| E ①－誤 ②－正 ③－正 | F ①－誤 ②－正 ③－誤 |
| G ①－誤 ②－誤 ③－正 | H ①－誤 ②－誤 ③－誤 |

問4 下線部（工）に関連して、国際社会全体の平和と安全を維持するための国際連合の主要機関である安全保障理事会について述べた文①・②の内容の正誤の組み合わせとして正しいものを、次のA～Dの中からひとつ選んでアルファベットで答えなさい。

- ① 安全保障理事会が侵略国^{しんりやく}に対する制裁を決定するためには、すべての理事国の賛成が必要である。
- ② 安全保障理事会の常任理事国は、アメリカ・日本・イギリス・フランス・中華人民共和国の5か国である。

- | | |
|------------------|------------------|
| A ①－正 ②－正 | B ①－正 ②－誤 |
| C ①－誤 ②－正 | D ①－誤 ②－誤 |

問5 下線部（オ）に関連して、日本国憲法第13条の条文中の空欄 にあてはまる語句を、漢字で答えなさい。

すべて国民は、 として尊重される。生命、自由及び幸福追求に対する国民の権利については、公共の福祉に反しない限り、立法その他の国政の上で、最大の尊重を必要とする。

