

2020年度 入試問題説明会

社 会

||||| **【注 意】** |||||

試験時間は理科とあわせて40分間です。

午前の部（10：10～10：50）

午後の部（14：40～15：20）

社会と理科両方の教科の問題を時間内に解いてください。

問題は1ページから9ページまでです。

解答はすべて解答用紙に記入してください。

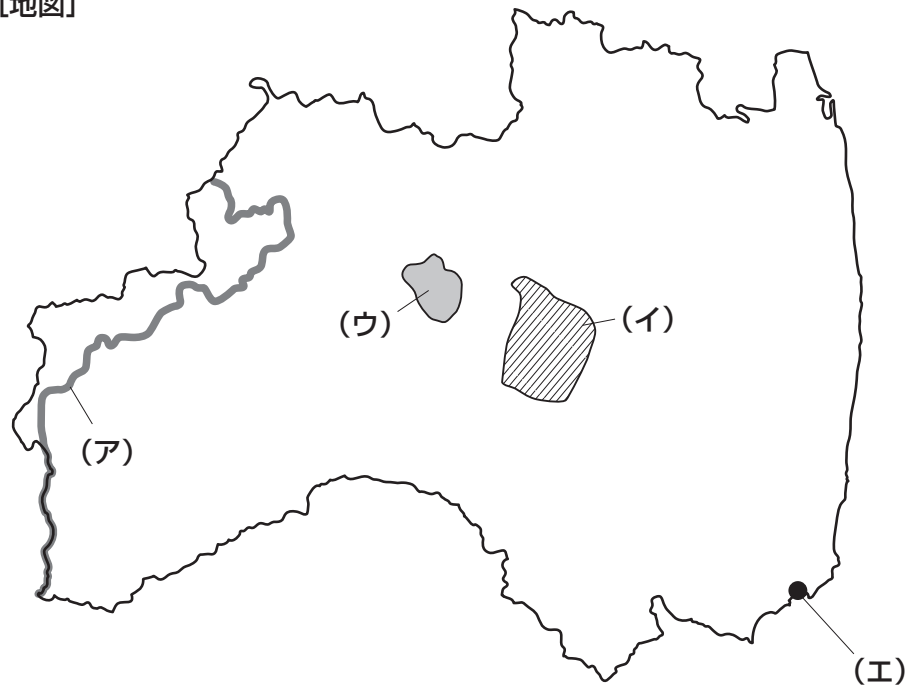
解答用紙に受験番号、氏名を記入してください。



洗足学園中学校

1 次の【地図】をみて、あとの問いに答えなさい。

【地図】

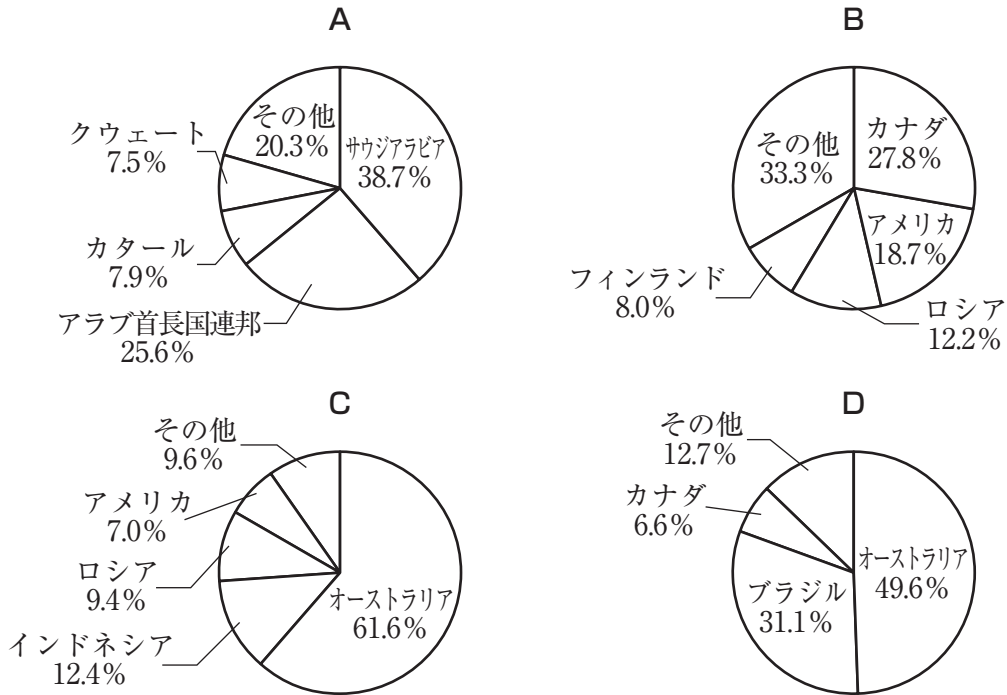


問1 【地図】で示された県について述べた文として正しいものを、次のA～Dの中からひとつ選んでアルファベットで答えなさい。

- A 太平洋沿岸部には原子力発電所が立地しており、現在も稼働^{かどう}している。
- B 阿武隈川は県東部を北から南へと流れ、仙台平野に注いでいる。
- C 県西部では、伝統的工芸品の会津塗が生産されている。
- D 県南部には、石油化学コンビナートが立地しており、この県の工業の中心となっている。

問2 【地図】で示された県は全国の都道府県中4番目に森林面積が大きく、森林を利用した林業が盛んです。このことに関連して、次の【資料】は、木材、鉄鉱石、石炭、原油のいずれかの主な輸入先（2018年）を示したものです。このうち、木材を示しているものを、次のA～Dの中からひとつ選んでアルファベットで答えなさい。

【資料】



(『日本国勢図会 2019/20年版』より作成)

問3 【地図】中の(ア)は、只見川ただみを示しています。この川の源流しゅちゅうにあり、2005年にラムサール条約に登録された湿地・湖沼こしやうを、次のA～Dの中からひとつ選んでアルファベットで答えなさい。

A 尾瀬 B 霞ヶ浦 C 宍道湖 D 十和田湖

問4 次の文章は【地図】中の(イ)で示された盆地について述べたものです。空欄Xくうらんにあてはまる語句を、漢字で答えなさい。

この盆地は、江戸時代までは水に恵まれず、不毛めくの地であった。明治時代になると、オランダ人技術者ファン・ドールンによって、【地図】中の(ウ)で示された湖を水源とするXそすい疏水そすいが開かれた。この疏水そすいは、農業きよのみならず、電力の供給源としても利用され、この地域の経済発展に寄与した。

問5 【地図】中の(エ)は、小名浜港おなはまを示しています。このことに関連して、次の(1)・(2)にそれぞれ答えなさい。

(1) 小名浜おなはまの月別平均気温と降水量を示したものを、次のA～Dの中からひとつ選んでアルファベットで答えなさい。

A B C D

(『理科年表 2019年』より作成)

(2) 小名浜港おなはまは、エネルギー調達の中心として「国際バルク戦略港湾こうわん」に指定されており、その周囲には複数の火力発電所があります。火力発電のメリットとデメリットをそれぞれひとつずつ文章で説明しなさい。

2 次の文章を読んで、あとの問いに答えなさい。

NHK連続テレビ小説「あさが来た」や「とと姉ちゃん」に登場し、話題となった人物として、平塚らいてうがいます。

この平塚らいてうは、1886年に東京の麹町で生まれ、本名を平塚明といいます。主に大正から昭和にかけ、(ア)女性^{かくとく}の権利^{ほんせう}を獲得するために奔走した活動家として知られています。

平塚らいてうは、戦国時代に活躍した平塚為広の子孫であると自伝に記しています。平塚為広は、(イ)豊臣秀吉の家臣であり、関ヶ原の戦いで亡くなるまで豊臣家に仕えました。平塚らいてうの父の願いを受けて、1940年に「平塚為広の碑」が建立されました。

平塚らいてうは、女子高等師範学校附属高等女学校に入りますが、当時の良妻賢母教育に不満を抱いていました。同じような考えを持つ仲間と、夢を語り合っていました。彼女たちは、歴史の授業で学んだ倭寇の自由奔放な活動に憧れ、友人と(ウ)海賊組を名乗っていたといえます。

その後、父からは女学校以上の高等教育は不要と言われますが、どうにか説得して、成瀬仁蔵や広岡浅子、(エ)大隈重信らが関与し設立された日本女子大学校家政学部に入学します。この当時の平塚らいてうは、(オ)宗教や哲学など、多くの物事に興味を抱いていたといわれます。

卒業後は、さらに女子英学塾などで学びを深め、文学への関心を高めました。その後、雑誌を出すよう勧められ、文芸誌『(カ)』を発刊し、多くの注目を浴びました。特に、平塚らいてうによる創刊の言葉は大きな反響をよびました。「元始、女性は実に太陽であつた。真正の人であつた。今、女性は月である。(中略)私共は隠されて仕舞つた我が太陽を今や取戻さねばならぬ。」という文章からは、不自由さに対する反発などが感じられます。

こうした中で、平塚らいてうは婦人(キ)参政権の要求など、女性の地位を高める運動を進めました。

問1 下線部(ア)に関連して、歴史上有名な女性について述べた文として誤っているものを、次のA～Dの中からひとつ選んでアルファベットで答えなさい。

- A 邪馬台国の女王である卑弥呼が魏に使いを送ったことが、「魏志」倭人伝に記されている。
- B 摂政をつとめた厩戸王の補佐を受けた持統天皇は、小野妹子を唐への使者として送り、政治の仕組みを学ばせた。
- C 聖武天皇の死後、妻である光明皇后が遺品を東大寺に寄進し、正倉院に納めた。
- D 公武合体政策として、孝明天皇の妹である和宮が江戸幕府の将軍である徳川家茂のもとへ嫁いだ。

問2 下線部(イ)がおこなった政策について述べた文としてふさわしくないものを、次のA～Dの中からひとつ選んでアルファベットで答えなさい。

- A 一揆を防ぎ、農民を農業に専念させるため、刀狩令を出した。
- B 全国を統一した基準で検地し、田畑の収穫高を石高であらわした。
- C 朱印状とよばれる許可証を出して、東南アジアとの貿易を認めた。
- D 仏教勢力をおさえるためにキリスト教を保護し、ローマ教皇へ使節を送った。

問3 下線部(ウ)に関連して、10世紀前半、平将門が関東で反乱を起こした時期とほぼ同時期に、海賊と手を結び、伊予・讃岐・大宰府を襲った人物を、姓名ともに漢字で答えなさい。

問4 下線部(エ)が1882年に結成した政党を、漢字で答えなさい。

問5 下線部(オ)に関連して、仏教について述べた文として誤っているものを、次のA～Dの中からひとつ選んでアルファベットで答えなさい。

- A 紀元前6世紀ごろ、シャカが当時のインドの身分制度を批判し、仏教を説いた。
- B 6世紀、渡来人がヤマト政権に仏教を伝え、その後の日本人々の信仰や文化に大きな影響を与えた。
- C 平安時代初め、空海は比叡山に延暦寺を建てて真言宗を開いた。
- D 鎌倉時代、栄西や道元は、宋から日本へ禅宗を伝えた。

問6 空欄(力)にあてはまる語句として正しいものを、次のA～Dの中からひとつ選んでアルファベットで答えなさい。

- A 青鞥
- B 太陽
- C 明星
- D 白樺

問7 下線部(キ)に関連して、日本における参政権について述べた文として正しいものを、次のA～Dの中からひとつ選んでアルファベットで答えなさい。

- A 1889年に大日本帝国憲法及び衆議院議員選挙法が公布され、25歳以上のすべての男子に選挙権が与えられた。
- B 大日本帝国憲法により選挙権が保障されてから、納税額による選挙権の制限は、次第に強化されていった。
- C 1945年の改正衆議院議員選挙法公布により、女性の国政参加が認められ、1946年の衆議院議員選挙で日本初の女性議員が誕生した。
- D 2016年に改正公職選挙法が施行され、18歳以上の男女に選挙権が与えられたが、高等学校在学中は投票できない。

3 次の文章は、2019年5月30日の読売KODOMO新聞に掲載された記事を抜粋したものです。これを読んで、あとの問いに答えなさい。なお、一部ふりがなをつけたり省略したりした部分があります。

(ア) 法律

(イ) 裁判官

(ウ) 国

(エ) 裁判員

(オ) 市民

(カ) 最高裁判所

問1 下線部(ア)に関連して、次の【資料】は、近年の通常国会における「内閣がつくった法律案」と「議員がつくった法律案」の提出数と成立数を表にしたものです。この【資料】から読み取れることについて述べた文①～③について、正誤の組み合わせとして正しいものを、次のA～Hの中からひとつ選んでアルファベットで答えなさい。

【資料】

年	内閣がつくった法律案		議員がつくった法律案		計	
	提出数	成立数	提出数	成立数	提出数	成立数
2018年	65	60	71	20	136	80
2017年	66	63	136	10	202	73
2016年	56	50	72	18	128	68
2015年	75	66	72	12	147	78
2014年	81	79	75	21	156	100
2013年	75	63	81	10	156	73

(内閣法制局ホームページより作成)

- ① いずれの年も法律案の提出数は、「議員」の方が多い。
 ② 「内閣」の提出した法律案の方が、より高い割合で成立している。
 ③ いずれの年も「内閣」と「議員」の提出した法律案の合計の半分以上は成立している。

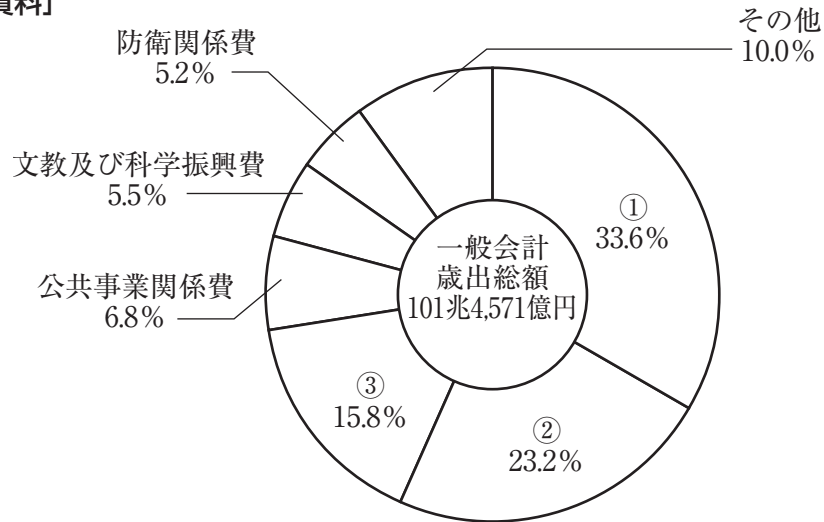
- A ①－正 ②－正 ③－正 B ①－正 ②－正 ③－誤
 C ①－正 ②－誤 ③－正 D ①－正 ②－誤 ③－誤
 E ①－誤 ②－正 ③－正 F ①－誤 ②－正 ③－誤
 G ①－誤 ②－誤 ③－正 H ①－誤 ②－誤 ③－誤

問2 下線部(イ)の身分は日本国憲法第76条第3項に定められています。この条文中の空欄 ・ にあてはまる語句を、それぞれ漢字で答えなさい。

すべて裁判官は、その に従ひ独立してその職権を行ひ、この憲法及び にのみ拘束される。

問3 下線部(ウ)に関連して、次の【資料】は2019年度の日本の一般会計歳出予算の項目別割合を示したものです。【資料】中の①～③にあてはまる項目の組み合わせとして正しいものを、次のA～Fの中からひとつ選んでアルファベットで答えなさい。

【資料】



注) 割合は四捨五入のため合計は必ずしも100にならない。
(国税庁ホームページより作成)

- | | | | |
|---|---------------|---------------|---------------|
| A | ① - 社会保障関係費 | ② - 国債費 | ③ - 地方交付税交付金等 |
| B | ① - 社会保障関係費 | ② - 地方交付税交付金等 | ③ - 国債費 |
| C | ① - 国債費 | ② - 社会保障関係費 | ③ - 地方交付税交付金等 |
| D | ① - 国債費 | ② - 地方交付税交付金等 | ③ - 社会保障関係費 |
| E | ① - 地方交付税交付金等 | ② - 社会保障関係費 | ③ - 国債費 |
| F | ① - 地方交付税交付金等 | ② - 国債費 | ③ - 社会保障関係費 |

問4 下線部(工)に関連して、裁判員制度について述べた文として誤っているものを、次のA～Dの中からすべて選んでアルファベットで答えなさい。

- A 裁判員の候補者に選出されたとしても、やむを得ない事情がある場合は辞退することができるが、辞退率は裁判員制度導入時と比べて低下している。
- B 裁判員裁判では裁判員のみで刑の重さを決める。
- C 裁判員裁判は、重大な刑事裁判の第一審でおこなわれる。
- D 裁判員裁判の対象事件では、取り調べの可視化が義務づけられている。

問5 下線部(才)は署名を集めて、住んでいる地方公共団体の首長に対して条例の制定・改廃を求めることができます。この制度について述べた文として正しいものを、次のA～Dの中からひとつ選んでアルファベットで答えなさい。

- A その地方公共団体の人口の50分の1以上の署名で、条例の制定・改廃を請求することができる。
- B その地方公共団体の人口の3分の1以上の署名で、条例の制定・改廃を請求することができる。
- C その地方公共団体の有権者の50分の1以上の署名で、条例の制定・改廃を請求することができる。
- D その地方公共団体の有権者の3分の1以上の署名で、条例の制定・改廃を請求することができる。

問6 下線部(力)に関連して、最高裁判所長官はどのように決定されますか。憲法の規定に沿って文章で説明しなさい。ただし、次の語句の中から2つ選んで用いること。

〔国会 内閣 国民 天皇 内閣総理大臣 法務大臣〕

