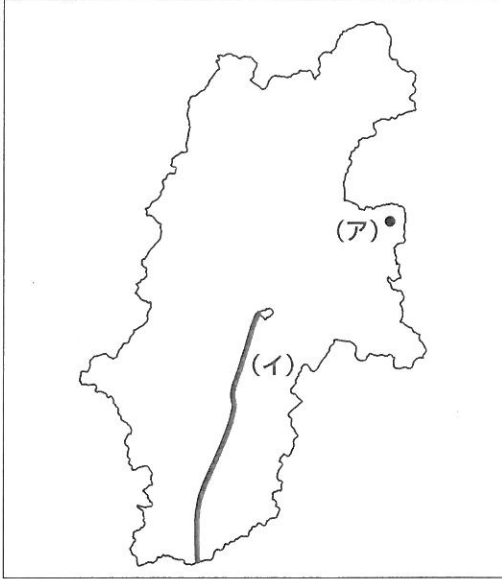
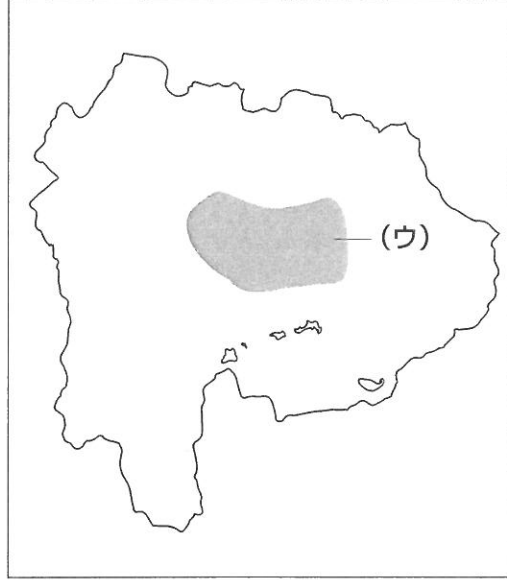


- 1 洗足学園中学校では夏休みに部活動の合宿をおこなっており、2019年度は次の【地図1】～【地図4】で示された県に合宿に行きました。各地図を見て、あとの問いに答えなさい。なお、各地図の縮尺は同一ではありません。

【地図1】



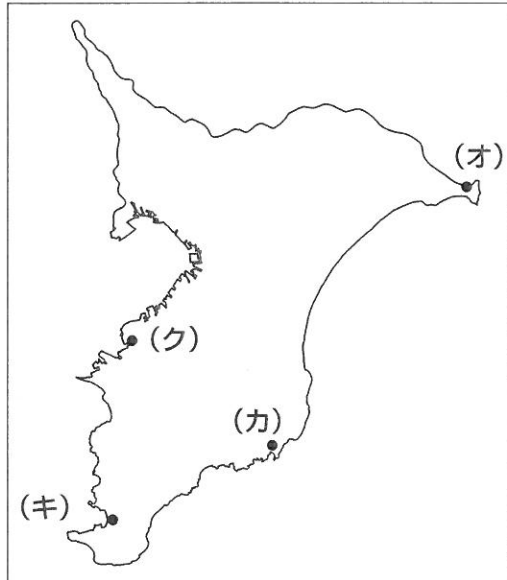
【地図2】



【地図3】



【地図4】



問1 【地図1】～【地図4】で示した各県の県境のうち、神奈川県と接している県を、次のA～Dの中からすべて選んでアルファベットで答えなさい。

A 【地図1】

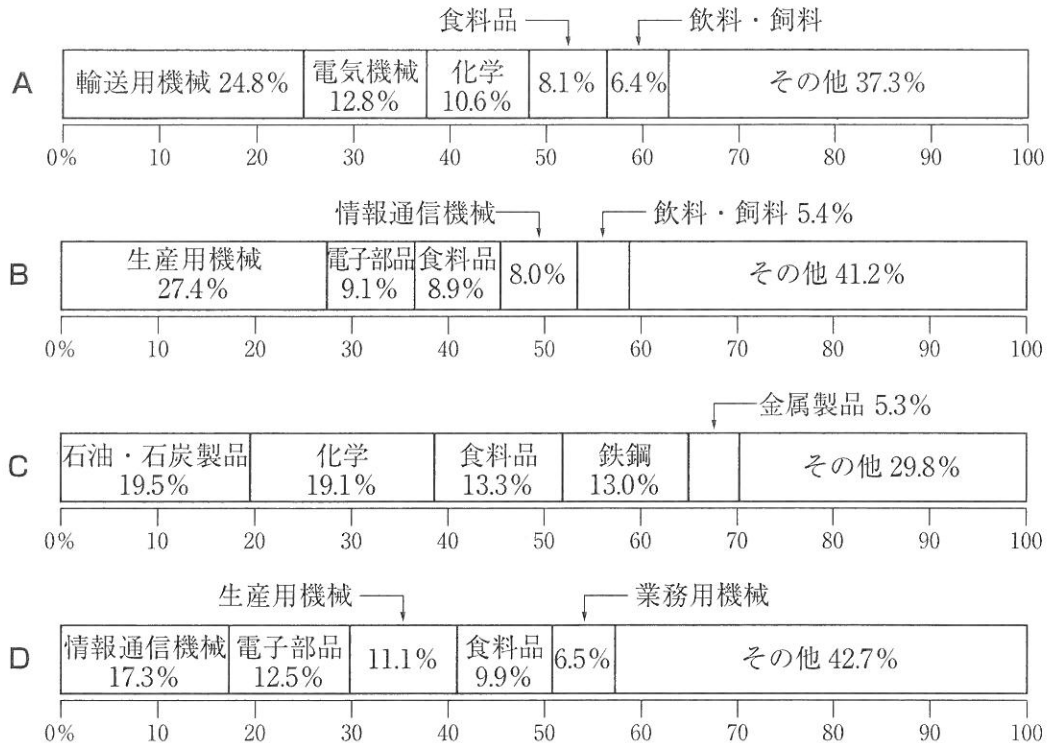
B 【地図2】

C 【地図3】

D 【地図4】

問2 次の【資料】は、【地図1】～【地図4】で示した各県の製造品出荷額等割合（2016年）を示したものです。【地図3】の県について示しているものを、次のA～Dの中からひとつ選んでアルファベットで答えなさい。

【資料】



(矢野恒太記念会『データでみる県勢 2019年版』より作成)

問3 次の【資料】は、【地図1】～【地図4】で示した各県の面積、人口密度、農業生産額、製造品出荷額等を示したものです。【地図4】の県について示しているものを、次のA～Dの中からひとつ選んでアルファベットで答えなさい。なお、面積と人口密度は2017年、農業生産額と製造品出荷額等は2016年のデータです。

【資料】

	A	B	C	D
面積 (km ²)	4,465	5,158	7,777	13,562
人口密度 (人/km ²)	184.4	1,211.0	472.6	153.1
農業生産額 (億円)	899	4,711	2,266	2,465
製造品出荷額等 (億円)	22,762	114,664	162,569	58,986

(矢野恒太記念会『データでみる県勢 2019年版』より作成)

問4 【地図1】中の(ア)は軽井沢町を示しています。軽井沢町では、2019年6月にG20持続可能な成長のためのエネルギー転換と地球環境に関する関係閣僚会議が開催されました。この会議では、海洋プラスチックごみを減らすための各国の取り組みを定期的に報告・共有する国際的な枠組みの創設などを含む共同声明が採択されました。海洋プラスチックごみが増えることでどのような問題が生じると考えられますか。異なる観点からふたつ答えなさい。

問5 【地図1】中の(イ)が示している河川について、次の(1)・(2)にそれぞれ答えなさい。

(1) この河川を漢字で答えなさい。

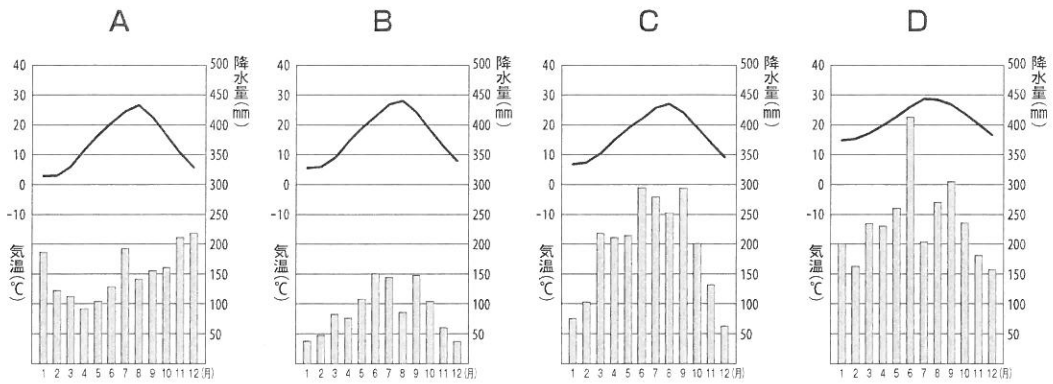
(2) この河川について述べた文として正しいものを、次のA～Dの中からひとつ選んでアルファベットで答えなさい。

- A この河川は木曾山脈と赤石山脈の間を流れ、静岡県で太平洋に注いでいる。
- B この河川は木曾山脈と赤石山脈の間を流れ、愛知県で太平洋に注いでいる。
- C この河川は飛驒山脈と木曾山脈の間を流れ、静岡県で太平洋に注いでいる。
- D この河川は飛驒山脈と木曾山脈の間を流れ、愛知県で太平洋に注いでいる。

問6 【地図2】中の(ウ)で示した地域でおこなわれている農業の特徴について述べた文としてふさわしいものを、次のA～Dの中からひとつ選んでアルファベットで答えなさい。

- A この地域に広がる高原では、夏でもすずしい気候を利用して、レタスなどの高原野菜の栽培が盛んである。
- B この地域に広がる台地では、水はけや日当たりの良さを生かし、茶の栽培が盛んである。
- C この地域に広がる平地では、大規模な用水路を整備して、都市向けに野菜や花などを栽培する園芸農業が盛んである。
- D この地域に広がる扇状地では、水はけや日当たりの良さを生かし、ぶどうやももなどの果樹栽培が盛んである。

問7 【地図3】中の(工)はこの県の県庁所在地を示しています。この都市の月別平均気温と降水量を示したものを、次のA～Dの中からひとつ選んでアルファベットで答えなさい。



(国立天文台『理科年表 2019年』より作成)

問8 【地図4】で示された県には、2018年の漁港別水揚げ量が日本一となった銚子^あ港があります。銚子港の位置としてふさわしいものを、【地図4】中の(オ)～(ク)の中からひとつ選んで記号で答えなさい。

2 次の文章を読んで、あとの問いに答えなさい。

島根県は、かつて、石見国・出雲国・隠岐国の3つに分けられていました。現在でも、石見地方・出雲地方・隠岐地方の3つに区分されることがあります。

石見地方にある石見銀山は、16世紀以降に開発が進みました。守護大名大内氏のもとで(ア)日明貿易に携わっていた博多の商人神屋寿禎が発見したとされています。石見銀山が開発された(イ)16世紀は、「下剋上」の言葉に象徴される群雄割拠の時代でした。戦国大名たちは、銀山の支配をめぐる激しい争奪戦を繰り返しました。大内氏が滅ぼされたのち、毛利氏が尼子氏との争いを経て銀山を掌握しますが、その後、徳川家康が直轄化しました。石見で産出された銀は、尾道から瀬戸内海を通り、京都銀座で幕府が発行する銀貨に鑄造されました。当時は、(ウ)金貨・銀貨・銭貨の3種類の貨幣が用いられており、両替商がそれぞれの交換にあたりました。江戸時代初期を過ぎると銀の産出量は著しく減少し、銀に代わって銅の生産が中心になりました。明治になると、近代的な法制度のもとで銀山の開発をおこないましたが、(エ)世界経済からの影響を受け、1923年に石見銀山は休山を余儀なくされました。2007年には、自然に対する人間の働きかけや銀生産の発展と衰退について知ることでできる遺跡として、(オ)世界文化遺産に登録されました。

出雲国は「神話の国」や「神の国」と言われることがあります。(カ)『日本書紀』や『古事記』、『出雲国風土記』などに、出雲を舞台にした神話が記されていることが理由のひとつです。また、旧暦の10月になると、全国の八百万の神々が、大国主大神をまつる出雲大社に集まると考えられています。出雲大社の東、神話にも登場する斐伊川の流域に位置する荒神谷遺跡では、(キ)弥生時代に祭器として用いられていたとされる青銅器が見つかっています。多くの青銅器が出土し、考古学の分野において出雲地方が注目されるきっかけになりました。

隠岐国は、日本海に浮かぶ隠岐諸島のことを指しました。この島は、遠流の地としての歴史を持ち、流罪となった罪人たちを受け入れました。小野妹子の子孫である小野篁もこの地に配流されました。小野篁は、(ク)平安時代に遣唐使に任じられたものの、職務を拒否し、天皇の怒りを買って隠岐配流になりました。他にも、承久の乱を起こして鎌倉幕府に敗れた後鳥羽上皇や、幕府討幕を計画した(ケ)後醍醐天皇が隠岐に流されました。

豊富な観光資源がある島根県ですが、全国的にみると海外における認知度が低いといった課題があります。各地で、2020年に開催される(コ)東京オリンピックを見据えた観光振興への取り組みが進められる中で、島根県も地域資源を活かした観光地づくりを推進しています。

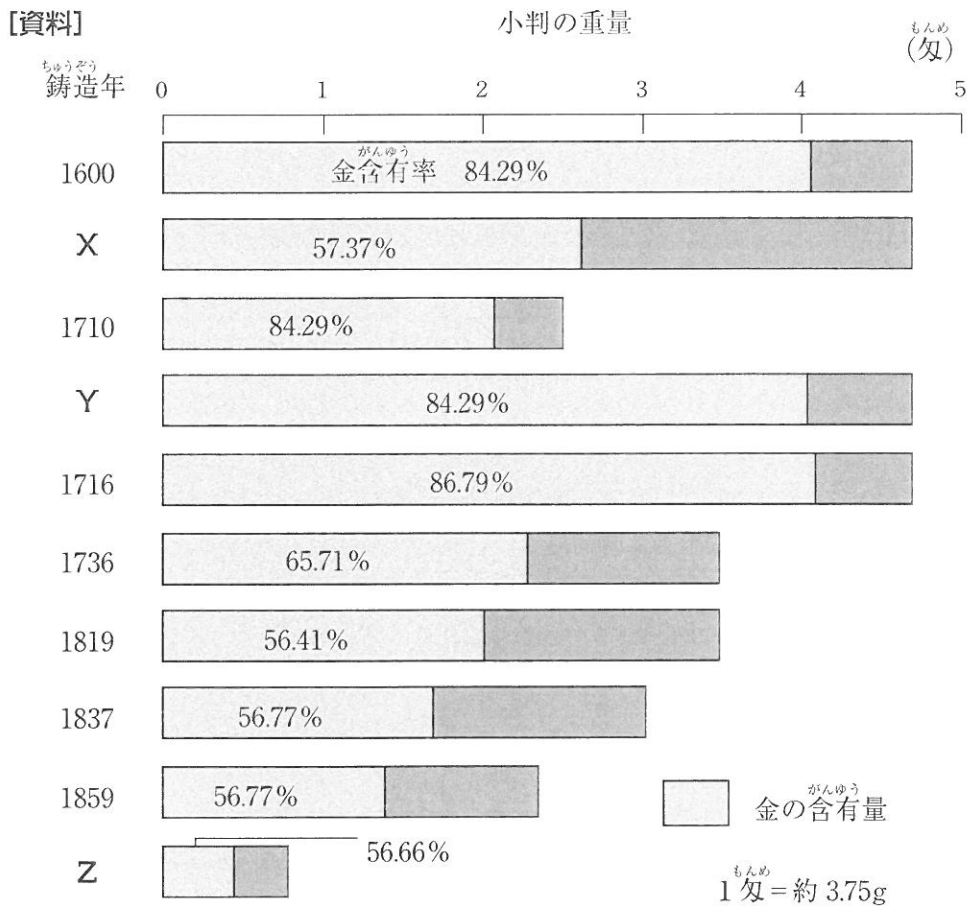
問1 下線部(ア)の仕組みについて、次の語句を用いて文章で説明しなさい。

〔倭寇 勘合〕

問2 下線部(イ)に関連して、この頃の文化について述べた文として誤っているものを、次のA~Dの中からひとつ選んでアルファベットで答えなさい。

- A 南蛮貿易が盛んになり、天文学や活版印刷術が伝えられた。
- B 千利休は、生け花の儀礼を定め、華道を確立した。
- C 安土城や大坂城に代表される、天守閣をもった城郭が築かれた。
- D 狩野永徳の「唐獅子図屏風」に代表される、豪華な障壁画が描かれた。

問3 下線部(ウ)に関連して、次の【資料】は、江戸時代の間流通した小判における、金の含有量と含有率を示したものです。【資料】中のX~Zと、それぞれの小判や当時の状況について述べた文①~③の組み合わせとして正しいものを、次のA~Fの中からひとつ選んでアルファベットで答えなさい。



(山川出版社『日本史図録』より作成)

- ① 新井白石は、貨幣の質を元に戻し、物価の騰貴を抑えようとした。
- ② 徳川綱吉が、幕府の収入を増やして財政の悪化に対応しようとした。
- ③ 幕府は、大量の金が海外へ流出している状況を改善しようとした。

- A X-① Y-② Z-③
- B X-① Y-③ Z-②
- C X-② Y-① Z-③
- D X-② Y-③ Z-①
- E X-③ Y-① Z-②
- F X-③ Y-② Z-①

問4 下線部(工)に関連して、日本の経済の動向について述べた文として正しいものを、次のA～Dの中からひとつ選んでアルファベットで答えなさい。

- A 日清戦争に向けて、八幡製鉄所の操業を開始し、石炭と鉄鉱石の輸入量が増加した。
- B 日露戦争で得られた賠償金の一部を用い、日本で初めて銀本位制が確立した。
- C 第一次世界大戦が起こったことにより、日本はヨーロッパ列強が後退したアジア市場を中心に輸出を伸ばし、好景気になった。
- D 満州事変を機に国際連盟を脱退した日本は、世界恐慌の影響を受けなかった。

問5 下線部(オ)に関連して、次の文中の空欄 にあてはまる語句を漢字で答えなさい。

2019年7月、大阪府堺市に位置する百舌鳥・古市古墳群が世界文化遺産に登録されました。このうち、日本で最も大きい前方後円墳である 古墳(伝仁徳天皇陵古墳)は、宮内庁によると仁徳天皇の墓であるとされています。

問6 下線部(カ)は、2020年に成立1300年を迎えます。『日本書紀』に記されている内容としてふさわしいものを、次のA～Dの中からひとつ選んでアルファベットで答えなさい。

- A 新元号「令和」の由来とされる梅花の和歌と序文
- B 三世一身法の成果が上がらず、墾田永年私財法が出されたこと
- C 聖武天皇が、国分寺造立の詔と大仏建立の詔を出したこと
- D 中大兄皇子と中臣鎌足が蘇我入鹿を暗殺したこと

問7 下線部(キ)について述べた文としてふさわしいものを、次のA～Dの中からひとつ選んでアルファベットで答えなさい。

- A 農具や武器などに、鉄が用いられた。
- B 食料の中心であった大型動物の狩りが成功するよう、青銅器を用いて祈った。
- C 女性の姿をかたどった埴輪を用いて豊作を祈った。
- D 渡来人により仏教がもたらされ、各地で広まった。

問8 下線部(ク)の各時期について述べた文①～④について、古いものから年代順に正しく並べたものを、次のA～Fの中からひとつ選んでアルファベットで答えなさい。

- ① 上皇が政治の実権を握った時期であり、天皇を後見しながら上皇の権力を強化していった。自由な立場を利用して、先例にとられない政治がおこなわれた。
- ② 武士が政治の実権を握った時期であり、平清盛は太政大臣に任命された。思うままに政治をおこなう平氏に対しては、貴族や武士から不満の声が上がった。
- ③ 貴族が政治の実権を握った時期であり、摂政や関白が政治の代行や補佐をおこなった。藤原氏は天皇の外戚として力をつけ、道長・頼通の頃に最も栄えた。
- ④ 律令政治の立て直しを図った時期であり、国司に対する監督を厳しくするなどの政策をとった。現在の東北地方にあたる地域の蝦夷を征服するため、坂上田村麻呂を征夷大將軍として派遣した。

- A ①-③-②-④ B ②-①-③-④ C ②-④-③-①
 D ③-①-④-② E ④-③-①-② F ④-①-③-②

問9 下線部(ケ)の呼びかけに応じて鎌倉を攻め、幕府を滅ぼした人物を、姓名ともに漢字で答えなさい。

問10 下線部(コ)を記念して、2019年には東京オリンピック記念貨幣が発行されました。これに関連して、記念貨幣①～③について、発行された順に正しく並べたものを、次のA～Fの中からひとつ選んでアルファベットで答えなさい。

- ① 沖縄復帰20周年記念貨幣
- ② 日本万国博覧会記念貨幣
- ③ 内閣制度創始100周年記念貨幣

- A ①-②-③ B ①-③-② C ②-①-③
 D ②-③-① E ③-①-② F ③-②-①

- 3 次の文章は、2019年4月24日の毎日小学生新聞に掲載された記事を抜粋したものです。この文章は国立社会保障・人口問題研究所が2019年4月に発表した「日本の世帯数の将来推計」に関するものです。これを読んで、あとの問いに答えなさい。なお、一部ふりがなをつけたり省略したりした部分があります。

この (ア) 推計は5年ごとに公表されています。

(中略)

ひとり暮らしのうち65歳以上の高齢者の世帯は15年の625万世帯(11.7%)から40年には896万世帯(17.7%)に増えます。全体に占める割合をみると、40年は北海道、大阪、愛媛、高知など8道府県で20%を超えます。75歳以上のひとり暮らし世帯は40年に512万世帯(10.1%)に。都道府県別では、29道府県で10%を超えます。鹿児島(14.8%)や高知(13.9%)、秋田(13.3%)、宮崎(13.2%)の各県などが特に高くなります。

(イ) 国立社会保障・人口問題研究所は「既に高齢化している地方では、ひとり暮らし世帯の増え方は弱まるが、都市部では今後、ひとり暮らしの若者が高齢化する。社会からの孤立や日常生活の支援などが課題になる」と指摘しています。

ひとり暮らしの世帯数が3割を超えれば、(ウ) 現在の社会の仕組みでは、人々の暮らしを支えきれなくなりそうです。

今、高齢者のひとり暮らしを支えているのは、(エ) 介護や医療の公のサービスだけではありません。(オ) 各地域で独自に行われている見守り活動などもあります。市区町村が独自に実施している場合もあれば、ボランティアが行っている地域もあります。(カ) 人口減少が進む中、介護を含めて担い手不足が深刻化する心配があります。

また、(キ) 東京では40年には「2軒に1軒がひとり暮らし」になります。地方から東京への一極集中と未婚化が続いているからです。稼ぎが少なくて(ク) 結婚できないという格差問題の解消も必要だと指摘する専門家もいます。

問1 下線部(ア)について、次の【資料】は、今回発表された、2015年と2040年の全世帯に占めるひとり暮らし世帯の割合(都道府県別推計)を表にしたものです。【資料】から読み取れることとして正しいものを、次のA~Dの中からすべて選んでアルファベットで答えなさい。

【資料】

都道府県	2015年	2040年
北海道	37.3	41.7
青森県	30.1	35.4
岩手県	30.4	34.9
宮城県	34.4	37.8
秋田県	27.9	34.1
山形県	25.5	31.4
福島県	30.6	35.6
茨城県	28.4	34.2
栃木県	28.8	34.0
群馬県	28.6	34.3
埼玉県	30.5	36.4
千葉県	32.4	37.8
東京都	47.3	48.1
神奈川県	35.5	40.1
新潟県	27.6	33.4
富山県	26.1	31.8
石川県	31.5	36.4
福井県	26.4	32.4
山梨県	29.5	35.4
長野県	27.9	33.4
岐阜県	25.8	32.5
静岡県	28.5	34.3
愛知県	33.5	38.0
三重県	29.4	35.3

都道府県	2015年	2040年
滋賀県	28.5	34.6
京都府	38.2	42.5
大阪府	37.5	42.3
兵庫県	32.7	38.7
奈良県	25.7	33.4
和歌山県	29.4	35.9
鳥取県	29.5	34.6
島根県	30.2	35.0
岡山県	32.2	37.3
広島県	34.5	39.2
山口県	33.3	38.2
徳島県	32.2	37.3
香川県	31.6	36.9
愛媛県	33.6	38.7
高知県	36.4	40.9
福岡県	37.4	41.4
佐賀県	26.9	33.1
長崎県	31.9	37.1
熊本県	30.9	36.2
大分県	33.2	38.1
宮崎県	32.1	37.9
鹿児島県	35.7	41.1
沖縄県	32.4	37.6
全国	34.5	39.3

単位：%

(国立社会保障・人口問題研究所

「日本の世帯数の将来推計(都道府県別推計)」(2019年推計)より作成)

- A 2040年には、全世帯に占めるひとり暮らし世帯の割合が全都道府県で30%を超える。
- B 2015年に全世帯に占めるひとり暮らし世帯の割合が最も高い東京は、2040年にも最も高い。
- C 2015年に全世帯に占めるひとり暮らし世帯の割合が40%を超える都道府県は1つしかなかったが、2040年には8つとなる。
- D 全世帯に占めるひとり暮らし世帯の割合が「全国」を超える都道府県のは、2015年より2040年の方が多い。

問2 下線部(イ)は、「ある省庁」に設置された国立の研究所です。少子高齢化の進展などを背景に、人口問題と社会保障の相互関係を研究するために設立されました。「ある省庁」として正しいものを、次のA～Dの中からひとつ選んでアルファベットで答えなさい。

- A 国土交通省 B 経済産業省 C 財務省 D 厚生労働省

問3 下線部(ウ)に関連して、次の(1)～(3)にそれぞれ答えなさい。

(1) 少子高齢化などの社会状況の変化をふまえて、社会保障の充実やその財源の確保のため、政府は「社会保障と税の一体改革」に取り組んでいます。2016年11月に、消費税率10%への引き上げ時期を2017年4月から2019年10月に変更するという法律が制定されました。この法律について述べた文①～③について、正誤の組み合わせとして正しいものを、次のA～Hの中からひとつ選んでアルファベットで答えなさい。

- ① 税に関する法律案は、国会議員しか提出することができない。
 ② 税に関する法律案は、必ず衆議院が先に審議することになっている。
 ③ この法律案は、緊急集会で審議がなされた。

- | | | | | | | | |
|---|-----|-----|-----|---|-----|-----|-----|
| A | ①-正 | ②-正 | ③-正 | B | ①-正 | ②-正 | ③-誤 |
| C | ①-正 | ②-誤 | ③-正 | D | ①-正 | ②-誤 | ③-誤 |
| E | ①-誤 | ②-正 | ③-正 | F | ①-誤 | ②-正 | ③-誤 |
| G | ①-誤 | ②-誤 | ③-正 | H | ①-誤 | ②-誤 | ③-誤 |

(2) 日本の消費税について述べた文として誤っているものを、次のA～Dの中からひとつ選んでアルファベットで答えなさい。

- A 消費税は、税金を納める義務を負った者と実際に税金を負担する者が同じ税である。
 B 消費税の軽減税率制度は、2019年10月に初めて導入された。
 C 消費税は所得税や法人税などに比べて、税収が景気に左右されにくいという特徴がある。
 D 消費税が導入された1989年当時の税率は3%であった。

(3) 国の予算は毎年国会で議決しています。2019年3月2日に2019年度予算案が衆議院本会議で可決され、参議院に送られました。これにより、予算案は年度内に成立することとなりました。なぜ年度内に成立することとなったのですか。憲法の規定に沿って文章で説明しなさい。なお、「年度」とは、4月1日から翌年3月31日までの1年間を指すものとします。

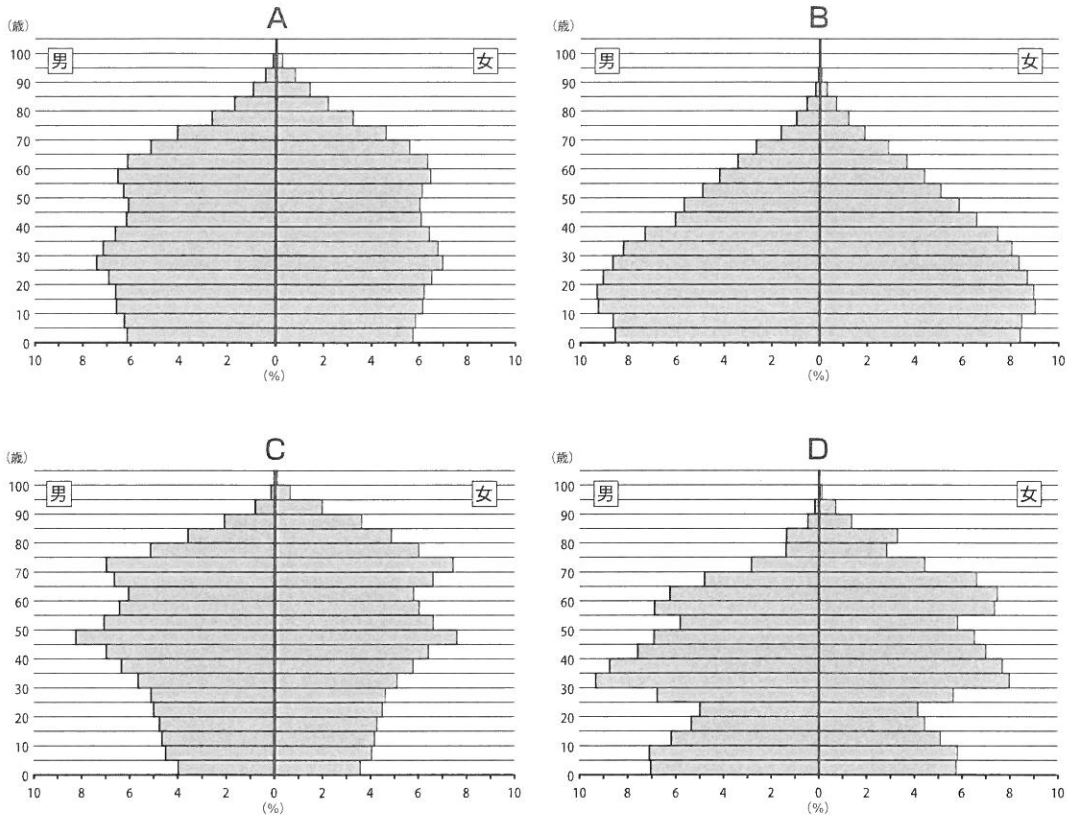
問4 下線部(工)に関連して、現在の日本の社会保障制度について述べた文として誤っているものを、次のA～Dの中からひとつ選んでアルファベットで答えなさい。

- A 社会保険のひとつである介護保険制度は、20歳以上のすべての国民が加入する。
- B すべての国民がいずれかの健康保険に加入する国民皆保険の仕組みがとられている。
- C 社会福祉とは、社会的な立場が弱い人々に対し、援助や保護をおこなう制度である。
- D 公的扶助とは、生活に困っている家庭に対し、健康で文化的な最低限度の生活を保障するため、経済的な援助をおこなう制度である。

問5 下線部(オ)に関連して、ある地方公共団体ではひとり暮らしのお年寄りなどを対象に栄養バランスのとれた昼食の配食サービスなどの事業をおこなっています。この事業は、納税者が、住んでいる地方公共団体ではなく、別の地方公共団体を選んで寄附する制度を活用して実施されています。税金の使われ方を考えるきっかけにもなっているこの制度を答えなさい。

問6 下線部(カ)に関連して、次の【資料】は、日本、アメリカ合衆国、インド、ロシアのいずれかの国の2020年の人口を予測した年齢階級別割合を示したもの(人口ピラミッド)です。日本の人口ピラミッドとしてふさわしいものを、次のA~Dの中からひとつ選んでアルファベットで答えなさい。

【資料】



(国際連合「World Population Prospects 2019」より作成)

問7 下線部(キ)に関連して、東京都について述べた文として正しいものを、次のA~Dの中からひとつ選んでアルファベットで答えなさい。

- A 東京都知事は、東京都議会議員の中から選出される。
- B 東京都議会は、都知事に対する不信任を決議することができる。
- C 東京都知事選挙に立候補できるのは、満25歳以上の日本国民である。
- D 東京都議会議員選挙で投票できるのは、東京都に住む満20歳以上の日本国民である。

問8 下線部(ク)に関連して、日本国憲法第24条の条文中の空欄 ·
 にあてはまる語句を、それぞれ漢字で答えなさい。

- ① 婚姻は、 の合意のみに基いて成立し、夫婦が同等の権利を有することを基本として、相互の協力により、維持されなければならない。
- ② 配偶者の選択、財産権、相続、住居の選定、離婚並びに婚姻及び家族に関するその他の事項に関しては、法律は、 の尊厳と の本質的平等に立脚して、制定されなければならない。