

2019年度 入学試験問題

社 会

第 2 回

||||| 【注 意】 |||||

試験時間は理科とあわせて60分間です。(11:10～12:10)

社会と理科両方の教科の問題を時間内に解いてください。

問題は1ページから9ページまでです。

解答はすべて解答用紙に記入してください。

解答用紙に受験番号、氏名を記入してください。

|||||

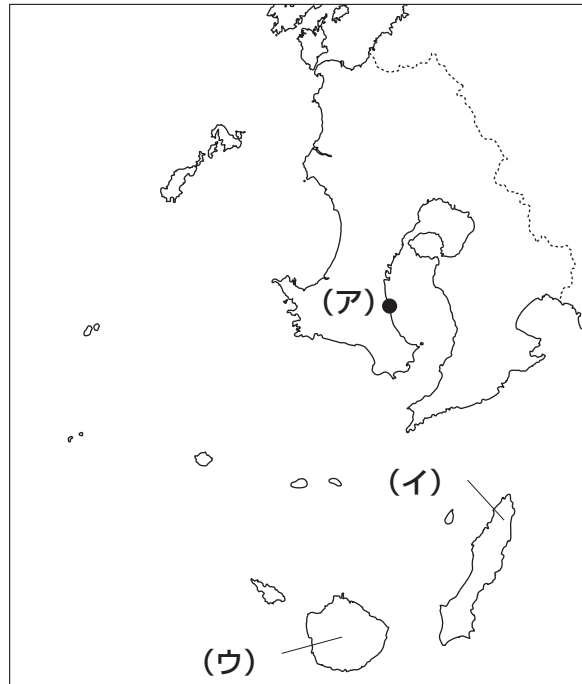


洗足学園中学校

- 1 2018年は明治元年からちょうど150年でした。明治維新で活躍した人物には「薩長土肥」出身が多かったことで知られています。「薩長土肥」とは、現在の鹿児島県、山口県、高知県、佐賀県にあたります。これら4県に関連したあとの問いに答えなさい。

問1 鹿児島県について、次の(1)・(2)にそれぞれ答えなさい。

【地図】



- (1) 【地図】中の(ア)には、世界最大級の原油(石油)中継備蓄基地があります。日本では、政府や民間企業により、原油(石油)が備蓄されています。なぜ備蓄する必要があるのですか。文章で説明しなさい。
- (2) 【地図】中の(イ)・(ウ)の島の組み合わせとして正しいものを、次のA～Fの中からひとつ選んでアルファベットで答えなさい。

- | | |
|-----------|---------|
| A (イ)－屋久島 | (ウ)－種子島 |
| B (イ)－屋久島 | (ウ)－徳之島 |
| C (イ)－種子島 | (ウ)－屋久島 |
| D (イ)－種子島 | (ウ)－徳之島 |
| E (イ)－徳之島 | (ウ)－屋久島 |
| F (イ)－徳之島 | (ウ)－種子島 |

問2 山口県について述べた次の文①～③について、正誤の組み合わせとして正しいものを、次のA～Hの中からひとつ選んでアルファベットで答えなさい。

- ① 秋吉台では、石灰岩が雨水などにより溶けて作り出されたカルスト地形がみられる。
- ② 山口県には、本州四国連絡橋が通っていない。
- ③ 宇部や山陽小野田はセメント工業が盛んである。

- | | | | | | | | |
|---|-----|-----|-----|---|-----|-----|-----|
| A | ①-正 | ②-正 | ③-正 | B | ①-正 | ②-正 | ③-誤 |
| C | ①-正 | ②-誤 | ③-正 | D | ①-正 | ②-誤 | ③-誤 |
| E | ①-誤 | ②-正 | ③-正 | F | ①-誤 | ②-正 | ③-誤 |
| G | ①-誤 | ②-誤 | ③-正 | H | ①-誤 | ②-誤 | ③-誤 |

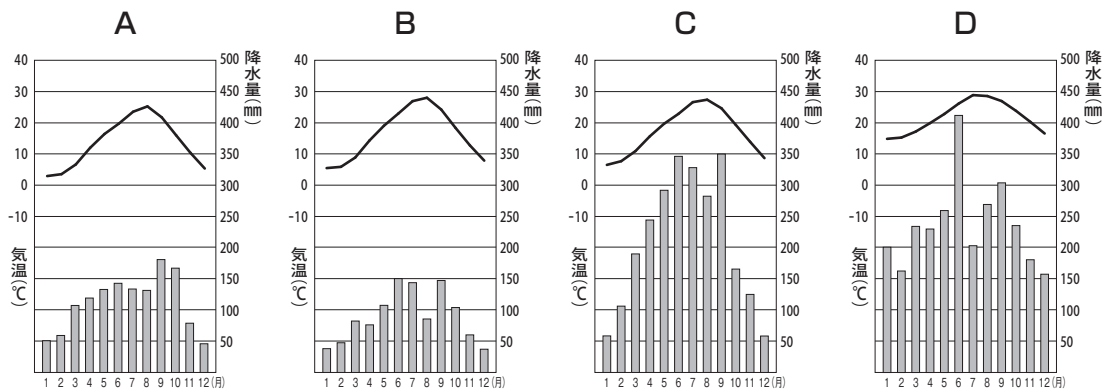
問3 高知県の太平洋沿岸部では、ある災害に備えて、次の【資料】のような施設が多く建設されています。どのような災害に備えているのか、答えなさい。

【資料】



(内閣府ホームページより)

問4 高知県の県庁所在地における月別平均気温と降水量を示しているものを、次のA～Dの中からひとつ選んでアルファベットで答えなさい。



(『理科年表 平成30年』より作成)

問5 佐賀県について、次の(1)・(2)にそれぞれ答えなさい。

- (1) 佐賀県と福岡県にまたがる筑紫平野は、九州地方を代表する米の産地として知られています。この筑紫平野では、冬でも温暖な気候を利用して、稲作が終わった後、そこで小麦や大麦などを栽培しています。このように、同一の田や畑で1年間の異なった時期に2種類の作物を栽培することを何といいますか。漢字で答えなさい。
- (2) 佐賀県に面している有明海ではある水産物の養殖が盛んにおこなわれており、2016年は収穫量が全国1位でした。その水産物として適当なものを、次のA～Dの中からひとつ選んでアルファベットで答えなさい。

A 真珠 B ぶり C うなぎ D のり

問6 次の【資料】は、これら4県のいずれかで生産量・収穫量が多い農作物の都道府県別生産量・収穫量の割合(2016年)の上位3道県を示したものです。【資料】中の①～③は、なす、たまねぎ、茶のいずれかを示しています。①～③と農作物の組み合わせとして正しいものを、次のA～Fの中からひとつ選んでアルファベットで答えなさい。

【資料】

①		②		③	
静岡	38.3%	高知	12.7%	北海道	67.9%
鹿児島	30.7%	熊本	10.0%	兵庫	7.0%
三重	7.9%	群馬	7.7%	佐賀	6.8%

(農林水産省「作物統計調査」より作成)

- A ①-なす ②-たまねぎ ③-茶
 B ①-なす ②-茶 ③-たまねぎ
 C ①-たまねぎ ②-なす ③-茶
 D ①-たまねぎ ②-茶 ③-なす
 E ①-茶 ②-なす ③-たまねぎ
 F ①-茶 ②-たまねぎ ③-なす

問7 これら4県と、その県の伝統的工芸品の組み合わせとして正しいものを、次のA～Dの中からすべて選んでアルファベットで答えなさい。

- A 鹿児島県-西陣織 B 山口県-丸亀うちわ
 C 高知県-高岡銅器 D 佐賀県-有田焼

2 次の文章を読んで、あとの問いに答えなさい。

日本の交通制度は、人々の社会・経済・生活・文化活動を支え、今日まで発展を続けてきました。701年、(ア) 大宝律令が定められ、律令制度による政治のしくみがほぼ整いました。全国は畿内と七道に区分され、中央と地方とを結ぶ交通制度としては、都を中心に七道の諸地域へのびる官道（駅路）が整備されました。

1180年の(イ) 源頼朝の鎌倉入り以降、鎌倉を中心とした武家政権が成立し、朝廷のある京都と武士の政権がある鎌倉を結ぶ(ウ) 東海道が幕府によって整備され、人やものの移動が活発になりました。

1601年、徳川家康が東海道に宿駅を設けたことを始まりとして、江戸時代には、江戸の日本橋を起点とする幕府直轄の主要な5つの陸上交通路として(エ) 五街道が整備されました。江戸幕府は全国50か所余りに関所を設けていました。なかでも江戸と京を結ぶ幹線道路である東海道には、箱根・新居の2か所に大規模な関所が置かれていました。文化3（1811）年8月8日、(オ) 朝鮮通信使献上物の御鷹・御馬荷物が箱根関所を通過した、という記録が残っており、人やものの往来が盛んであったことの一端がうかがえます。幕府が設置した関所は一般に、江戸の防衛や治安維持を目的として、往来の人々や流通物資の監視をすることが役割でした。以下の【史料】は箱根関所に掲げられていた五箇条の取り調べ内容が記された「高札」を現代語に訳したもので、正徳元（1711）年に、幕府の道中奉行から箱根関所に下されました。

【史料】

- 一、関所を出入りする者は、笠や頭巾を取らせて通すこと。
- 一、乗り物で関所を出入りする者は、乗り物の戸を開かせて通すこと。
- 一、江戸方面から関所を通過して京都方面へ向かう女は、詳しく証文と照合したうえで通すこと。また、乗り物に乗って関所を出る女は、関所の役人が乗り物の近くまで出向いて確認すること。
- 一、傷を負った人や遺体、不審者は証文がなければ通してはならないこと。
- 一、公家や大名の行列が関所を通過する際、事前にそのことが分かっているならば取り調べはおこなわない。もし、不審なことがあれば、誰であろうと取り調べをおこなうこと。

箱根関所では、(カ) 関所を出る女を詳しく証文と照合し、調べていたことが、この「高札」の第三条目を読むとわかります。

明治2（1869）年に関所は行政官の布達により廃止されました。当時の建物が現存するのは新居関のみです。(キ) 明治維新以降、日本の交通網は「和船と街道」から「汽船と鉄道」へと移行していきました。交通・通信の発達は、日本の近代化を押し進めていきました。1906年に主要な民営鉄道会社が国有化されると、沿岸海運網と鉄道網による総合的国内交通網が形成されたといえます。

戦後、1960年代には新幹線、高速道路が開通し、(ク) 高度経済成長期の人びとの生活、経済活動を支えました。

問1 下線部(ア)に関連して述べた文として正しいものを、次のA～Dの中からひとつ選んでアルファベットで答えなさい。

- A 大宝律令は、刑部親王と藤原鎌足らによってつくられた。
- B 大宝律令は、行政組織や租税について規定した律と、犯罪や刑罰について規定した令から成っていた。
- C 律令国家では、^{こせき}戸籍にもとづいて6歳以上の男子のみに口分田が与えられ、死んだ者の田は国にもどされた。
- D 律令国家では、都を警備する衛士や九州北部を守る防人などの兵役の義務があった。

問2 下線部(イ)に関連して、次の(1)・(2)にそれぞれ答えなさい。

(1) 下線部(イ)以前の文化について述べた文のうち、平安時代の文化としてふさわしくないものを、次のA～Dの中からひとつ選んでアルファベットで答えなさい。

- A 藤原頼通が宇治に平等院鳳凰堂を建てた。
- B 最澄が唐から帰国したあと、比叡山に延暦寺を建て、天台宗を開いた。
- C 山上憶良の貧窮問答歌は、当時の農民の生活をよく伝えている。
- D 漢字を書きくずした、かな文字が生まれ、女性による文学が盛んになった。

(2) 下線部(イ)ののちに起こった出来事を述べた次の文①～③について、古いものから年代順に正しく並べたものを、次のA～Fの中からひとつ選んでアルファベットで答えなさい。

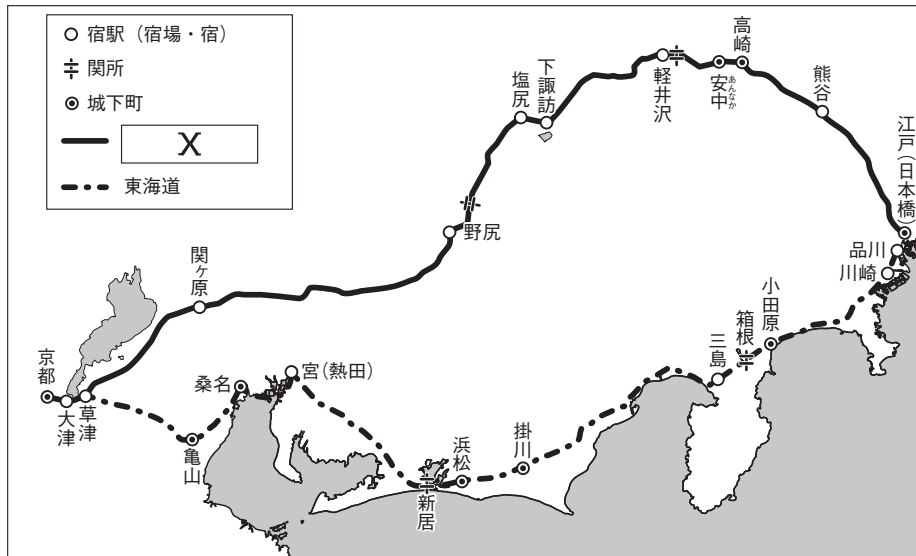
- ① 源頼朝は、朝廷から全国に守護・地頭を置くことを認められた。
- ② 源頼朝は、朝廷から征夷大將軍に任命された。
- ③ 源頼朝が奥州藤原氏を滅ぼした。

- A ①-②-③
- B ①-③-②
- C ②-①-③
- D ②-③-①
- E ③-①-②
- F ③-②-①

問3 下線部(ウ)に関連して、鎌倉時代以降、港に発達した、年貢や商品の保管・輸送にあたった運送業者は何とよばれたか、漢字2字で答えなさい。

問4 下線部(工)に関連して、次の(1)・(2)にそれぞれ答えなさい。

[地図]



(浜島書店『新詳日本史』より作成)

(1) [地図] 中の X で示された街道を、次のA~Dの中からひとつ選んでアルファベットで答えなさい。

- A 甲州街道 B 中山道 C 日光街道 D 奥州街道

(2) 弥次郎兵衛と喜多八が東海道を旅する様子が書かれた『東海道中膝栗毛』の作者を、次のA~Dの中からひとり選んでアルファベットで答えなさい。

- A 滝沢(曲亭)馬琴 B 歌川(安藤)広重
C 十返舎一九 D 与謝蕪村

問5 下線部(才)に関連して、朝鮮について述べた文として正しいものを、次のA~Dの中からひとつ選んでアルファベットで答えなさい。

- A 室町時代の日本は、朝鮮から木綿を輸入していた。
B 朝鮮との交流は織田信長の朝鮮侵略以来途絶えていた。
C 朝鮮との交流は琉球を通しておこなわれ、将軍の代わりごとに通信使が来日した。
D 明治期に結ばれた日朝修好条規は、両国にとって対等な内容であった。

問6 下線部(力)について、江戸幕府はなぜこのようなことをおこなったのか、「大名」という語句を用いて文章で説明しなさい。

問7 下線部(キ)に関連して、明治初期におこなわれた政策について述べた文として誤っているものを、次のA～Dの中からひとつ選んでアルファベットで答えなさい。

- A 政府は、学制を公布し、6歳以上のすべての男女が小学校に通うことを定めた。
- B 政府は、殖産興業に力を注ぎ、官営工場として富岡製糸場を操業した。
- C 政府は、大名がおさめていた土地と人民を天皇に返還させる、版籍奉還をおこなった。
- D 政府は、地租改正をおこない、地主ではなく土地の耕作者に地価の3%を米で納めさせた。

問8 下線部(ク)について述べた文として正しいものを、次のA～Dの中からひとつ選んでアルファベットで答えなさい。

- A 1950年にベトナム戦争がおこり、日本はこの戦争によって好景気をむかえた。
- B 鳩山一郎内閣が「所得倍増」をかかげ、経済の発展をめざす政策を展開した。
- C 1964年に東京でアジア初のオリンピックが開かれ、また1970年には大阪で日本万国博覧会が開催された。
- D 「三種の神器」とよばれた白黒テレビ、電気洗濯機、自動車が各家庭に普及するとともに、高層建築や集合住宅の建設が増えていった。

3 次の会話は、妹（中学生）と兄（大学生）の会話です。これを読んで、あとの問いに答えなさい。

妹 来週、学校で模擬選挙をすることになったよ。投票箱も用意した上で本格的に模擬選挙をおこなうと先生から聴いて、今からとても楽しみ。

兄 主権者教育だね。〔ア〕の改正で選挙権年齢が18歳以上に引き下げられたから、中学校でも主権者教育をおこなうようになったんだね。

妹 今日は事前学習で、(イ) 国会や (ウ) 選挙制度のことを学んだよ。そして、宿題が出て、家族に選挙のことを聞くことになったんだ。お兄さんは (エ) 2016年の参議院議員通常選挙の投票には行ったの？

兄 行ったよ。当時は高校生だったけれど、18歳になっていたから、もちろん投票に行ったよ。

妹 じゃあ、2017年の (オ) 衆議院議員総選挙も投票に行ったの？

兄 もちろん行ったよ。でも、投票日はアルバイトがあつて投票に行けないことが分かっていたから、期日前投票をしたんだ。

妹 期日前投票のことも授業で習ったよ。ちなみに、誰に投票するか、どうやって決めたの？

兄 候補者の人柄や経歴も気になったけれど、候補者の所属する政党の公約などを調べたよ。

妹 政策の数値目標や実施期限を明示してまとめたものを、たしか、〔カ〕っていうよね。それが選挙の後も実際の国の政策に反映されているかどうかを絶えずチェックすることが大事だ、と先生から聴いたよ。

兄 今までは興味をもたなかったかもしれないけど、国の政策だけではなく地域の身近な政策についても関心をもつ必要があるよ。知事や市長、地方議会の議員も選挙で選ぶのだから。

妹 そうか、国会議員の選挙のときだけ投票に行けばいいってわけじゃないんだ。これからは (キ) 地方政治にも関心をもちたいな。

問1 空欄〔ア〕にあてはまる法律を漢字で答えなさい。

問2 下線部 (イ) に関連して、日本国憲法第41条の条文中の空欄〔X〕・〔Y〕にあてはまる語句を、それぞれ7字で答えなさい。

国会は、〔X〕であつて、国の〔Y〕である。

問3 下線部 (ウ) に関連して、現在の日本の選挙制度に取り入れられている小選挙区制の短所をひとつ、文章で説明しなさい。

問4 下線部(工)に関連して、2016年の次に参議院議員通常選挙がおこなわれる予定の年としてふさわしいものを、次のA～Dの中からひとつ選んでアルファベットで答えなさい。

- A 2019年 B 2020年 C 2022年 D 決まっている

問5 下線部(才)の優越について述べた文として誤っているものを、次のA～Dの中からひとつ選んでアルファベットで答えなさい。

- A 法律案は、衆議院で出席議員の3分の2以上の多数で再可決すると成立する。
B 条約の承認は、衆議院で出席議員の3分の2以上の多数で再可決すると国会の議決となる。
C 予算案は、衆議院が先に審議する。
D 内閣総理大臣の指名は、最終的に衆議院の議決を国会の議決とする。

問6 空欄(力)にあてはまる語句をカタカナで答えなさい。

問7 下線部(キ)に関連して、次の(1)・(2)にそれぞれ答えなさい。

(1) 地方自治について述べた次の文①～③について、正誤の組み合わせとして正しいものを、次のA～Hの中からひとつ選んでアルファベットで答えなさい。

- ① 選挙管理委員会や教育委員会は、首長から独立して設置されている。
② 地方議会は、法律の範囲内において条例を制定することができる。
③ 多くの地方公共団体の財政は、地方交付税交付金や地方税などの国からの補助に依存している。

- | | | | | | | | |
|---|-----|-----|-----|---|-----|-----|-----|
| A | ①-正 | ②-正 | ③-正 | B | ①-正 | ②-正 | ③-誤 |
| C | ①-正 | ②-誤 | ③-正 | D | ①-正 | ②-誤 | ③-誤 |
| E | ①-誤 | ②-正 | ③-正 | F | ①-誤 | ②-正 | ③-誤 |
| G | ①-誤 | ②-誤 | ③-正 | H | ①-誤 | ②-誤 | ③-誤 |

(2) 日本の地方自治における直接請求について述べた文として正しいものを、次のA～Dの中からひとつ選んでアルファベットで答えなさい。

- A 条例の制定・改廃には、有権者の50分の1以上の署名を必要とする。
B 議会の解散には、有権者の50分の1以上の署名を必要とする。
C 住民が監査を求める場合、その請求先は、首長である。
D 住民が議員の解職を求める場合、その請求先は、首長である。

