

# 平成27年度 入学試験問題

## 社 会

### 第 2 回

|||||【注 意】|||||

試験時間は理科とあわせて60分です。(11:10～12:10)

問題は1ページから10ページまでです。

解答はすべて解答用紙に記入してください。

解答用紙に受験番号、氏名を記入してください。

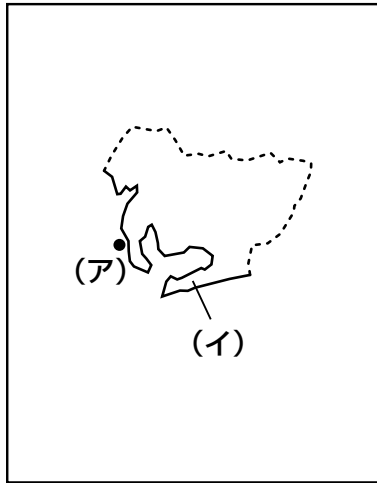
|||||



洗足学園中学校

1 次の【地図1】～【地図6】について、あとの問いに答えなさい。なお、縮尺は同じとは限りません。

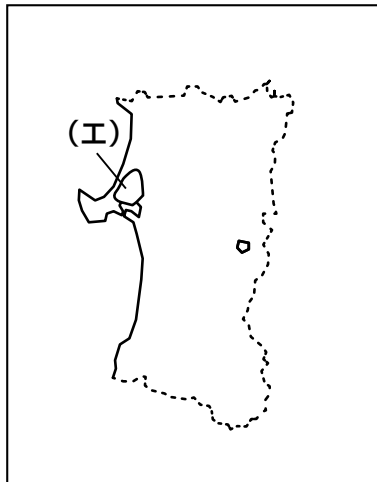
【地図1】




【地図2】



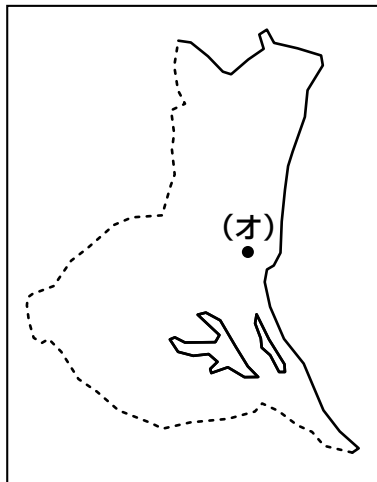
【地図3】



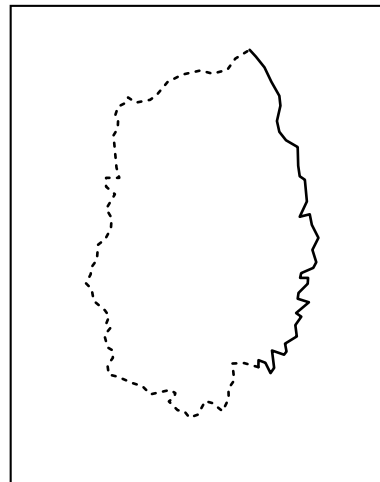
【地図4】



【地図5】



【地図6】



問1 【地図1】中の(ア)は、「セントレア」の愛称をもつ  国際空港を示しています。この愛称は、 をあらわす「central」と、空港を意味する「airport」を組み合わせた造語です。空欄  にあてはまる語句を漢字で答えなさい。

問2 【地図1】中の(イ)は、電照菊の生産などで知られる半島を示しています。この半島において農業が発展した理由のひとつとして、用水の開発が挙げられます。この半島に引かれた用水としてふさわしいものを、次の①～⑥の中からひとつ選んで番号で答えなさい。

- ① 大利根用水                      ② 明治用水                      ③ 香川用水  
④ 両総用水                        ⑤ 愛知用水                      ⑥ 豊川用水

問3 【地図2】中の(ウ)は、石油備蓄基地や風力発電所、核燃料再処理施設など、エネルギー産業に関わる施設が建設されている半島を示しています。この半島を漢字で答えなさい。

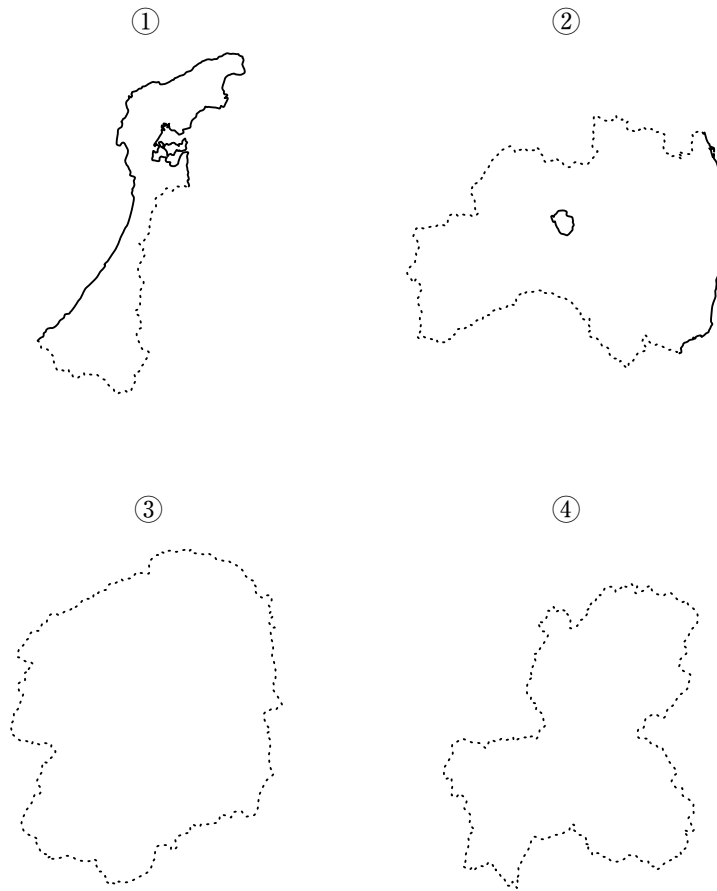
問4 【地図2】の県は、西部の「 地方」と、東部の「南部地方」に大別されます。江戸時代には、 氏が治める弘前藩と、南部氏が治める八戸藩・盛岡藩に分かれており、このことが現在にまで続く風習や方言の相違につながっているとされています。空欄  にあてはまる語句を漢字で答えなさい。

問5 【地図3】中の(エ)で示された地域は、かつて日本第二の広さをもっていた湖でしたが、その大部分が干拓され、現在は農地が広がっています。この湖について、A・Bそれぞれの問いに答えなさい。

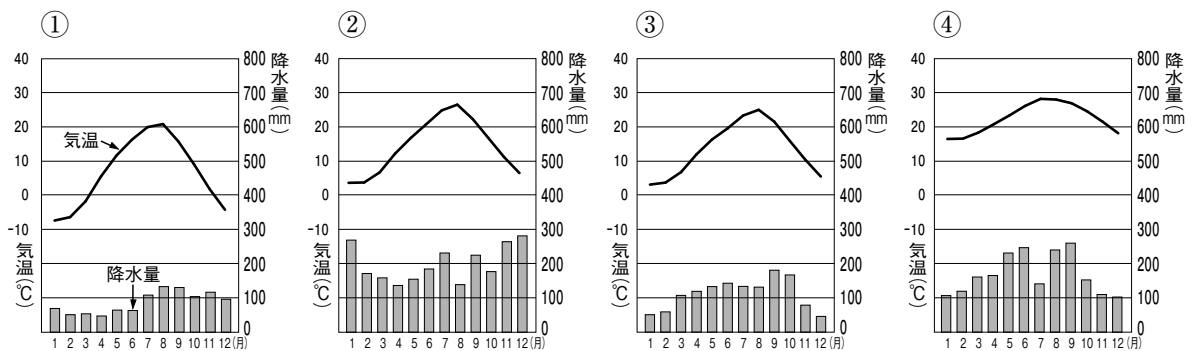
A この湖を漢字で答えなさい。

B 「干拓」を文章で説明しなさい。

問6 【地図1】～【地図6】は、「ある法則」にもとづいて順番に並べられています。  
 【地図4】にあてはまる県としてふさわしいものを、次の①～④の中からひとつ選  
 んで番号で答えなさい。なお、縮尺は同じとは限りません。



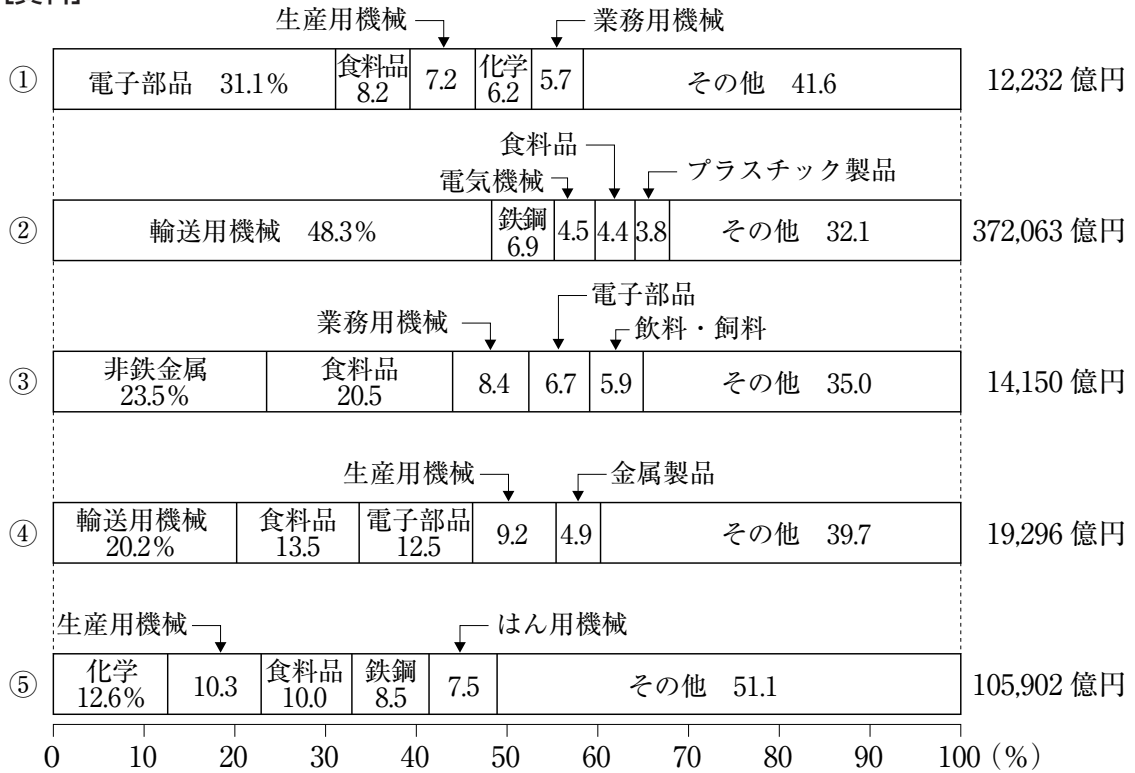
問7 【地図5】中の(オ)は、この県の県庁所在地を示しています。この県庁所在地  
 における月別の平均気温と降水量を示しているグラフを、次の①～④の中からひ  
 とつ選んで番号で答えなさい。



(『理科年表 平成24年』より作成)

問8 次の【資料】は、【地図1】～【地図3】および【地図5】・【地図6】が示している県の都道府県別製造品出荷額等の割合と金額（2011年）を示しています。【地図5】が示している県のもを、次の①～⑤の中からひとつ選んで番号で答えなさい。

【資料】



(『データでみる県勢 2014年版』より作成)

問9 【地図6】が示している県と隣接している県の【地図】の組み合わせとしてふさわしいものを、次の①～④の中からひとつ選んで番号で答えなさい。

- ① 【地図1】・【地図2】
- ② 【地図2】・【地図3】
- ③ 【地図3】・【地図5】
- ④ 【地図1】・【地図5】

2 次の文章は、対馬を旅行した先生が、対馬の史跡について生徒に話したものです。これを読んで、あとの問いに答えなさい。

福岡空港から飛行機で30分ほどで対馬に到着しました。そして、まずは金田城跡に向かいました。663年、(ア)白村江の戦いで唐と(イ)の連合軍に大敗した中大兄皇子は、この戦いののちに、唐と(イ)の襲来に備え、各地に山城を築きました。金田城もそのひとつです。金田城跡への道はとても険しく、途中から、車を降りて山を登らなければなりませんでしたが、頂上からの眺めは絶景でした。古代の防人も、きっと同じ景色を見ていたのだろうと、感慨深い思いを抱きながら下山しました。

金田城跡をあとし、次は小茂田浜に向かいました。現在ではその一部は海水浴場となっています。ここは、(ウ)1274年の文永の役の際、元と高麗の軍勢が上陸した場所といわれています。側にある小茂田浜神社には、この戦いで戦死した宗資国(助国)らが祀られています。

その後、厳原に向かい、宗氏の居城のひとつであった金石城跡に行きました。宗氏は、日本と朝鮮との間の貿易や交渉役を担い、(エ)室町時代におこなわれた日朝貿易の窓口となったほか、江戸時代には、朝鮮からおくられてくる(オ)外交使節をもてなしました。この例からもわかるように、江戸時代を単純に(カ)「鎖国」の時代ととらえてはいけないかもしれません。

金石城跡を散策したのち、北部の殿崎へと向かいました。ここには、(キ)日露戦争の海戦のひとつである、日本海海戦にゆかりのある記念碑の除幕式が、(ク)1912年におこなわれています。日本海海戦は対馬海峡でおこなわれ、殿崎付近の海岸には日本の軍艦に撃沈された(ケ)ロシアの軍艦ウラジミール・モノマフの水兵が上陸しました。この水兵たちを、島民は付近の民家へ分宿させるなど、保護したといわれています。現在、この記念碑の隣にロシアによって建てられた慰霊碑もあります。この地を介して両国の交流がおこなわれていることに驚きつつ、帰路につきました。

問1 下線部(ア)前後のできごとを古いものから年代順に正しく配列したものを、次の①～⑥の中からひとつ選んで番号で答えなさい。

- ① 冠位十二階の制定 — 白村江の戦い — 壬申の乱
- ② 冠位十二階の制定 — 壬申の乱 — 白村江の戦い
- ③ 壬申の乱 — 冠位十二階の制定 — 白村江の戦い
- ④ 壬申の乱 — 白村江の戦い — 冠位十二階の制定
- ⑤ 白村江の戦い — 冠位十二階の制定 — 壬申の乱
- ⑥ 白村江の戦い — 壬申の乱 — 冠位十二階の制定

問2 空欄(イ)にあてはまる国を漢字で答えなさい。

問3 下線部(ウ)の際、鎌倉幕府の執権であった人物を姓名ともに漢字で答えなさい。

問4 下線部(工)における朝鮮からの主な輸入品としてふさわしいものを、次の①～④の中からひとつ選んで番号で答えなさい。

- ① 銅      ② 刀剣      ③ 水銀      ④ 木綿

問5 下線部(才)について述べた文として正しいものを、次の①～④の中からひとつ選んで番号で答えなさい。

- ① 奈良時代には、毎年遣隋使を派遣した。  
② 江戸時代には、オランダからの使節が将軍の代替わりごとに長崎に派遣された。  
③ 明治期には、西郷隆盛を大使とする使節団が欧米に派遣された。  
④ 大正期には、西園寺公望を全権とする使節団がパリ講和会議に派遣された。

問6 下線部(力)の言葉を生み出したのは、志筑忠雄であるといわれています。彼は、オランダ語の通訳であり、蘭学者でもありました。江戸時代の蘭学者に関連して述べた文として誤っているものを、次の①～④の中からひとつ選んで番号で答えなさい。

- ① 杉田玄白と前野良沢は、『ターヘル・アナトミア』を翻訳して『解体新書』を出版した。  
② 福沢諭吉が開いた大坂の適塾は、数多くの門下生を輩出した。  
③ 伊能忠敬は、沿岸を測量し、日本地図の作成にあたった。  
④ 高野長英と渡辺崋山は、幕府の対外政策を批判したため、処罰された。

問7 下線部(キ)について述べた文としてふさわしいものを、次の①～④の中からひとつ選んで番号で答えなさい。

- ① この戦争に、日本は日英同盟を理由として参加した。  
② この戦争における講和条約交渉の日本側全権は、伊藤博文と陸奥宗光である。  
③ この戦争の講和条約の内容に不満を持つ群衆が暴徒化し、日比谷焼打ち事件が起こった。  
④ この戦争後、日本が獲得した遼東半島は、三国干渉によって清に返還された。

問8 下線部(ク)の年に、年号が大正に改められました。大正期には、普通選挙権の獲得運動が起こり、1925年、いわゆる普通選挙法が成立しました。この法律によって、衆議院議員選挙の選挙権についての規定が改められました。これによって選挙権資格はどのようになりましたか。文章で説明しなさい。

問9 下線部(ケ)に関連して、日本とロシアとの関係について述べた文として正しいものを、次の①～④の中からひとつ選んで番号で答えなさい。

- ① ラクスマンは、漂流民<sup>ひょうりゅう</sup>を連れて根室に來航し、通商を要求した。
- ② 江戸時代末期、ロシアはアメリカ・イギリス・フランスとともに、下関を<sup>せんりょう</sup>占領した。
- ③ 樺太・千島交換条約では、樺太を日本領、千島列島をロシア領とした。
- ④ 第二次世界大戦中に起きたロシア革命をきっかけとして、日本はシベリアに出兵した。



- 3 次の文章は、ある仮想の市議会における会議の記録です。これを読んで、あとの問いに答えなさい。

平成26年 ××市議会 12月臨時会 ××市議会会議録第24号

日 時 平成26年12月3日（水）午前10時

場 所 ××市議会議場

出席議員 24名

○○○○議員 △△△△議員 …□□□□議員

午前10時17分開議

○議長（□□□□議員）

本日の (ア) 定足数を満たしましたので、ただいまより、会議を開きます。  
××市リサイクルセンターを20億円で建設することに関する市民の賛否を問う住民投票条例についてを議題とします。  
請求代表者、洗足花子さん、よろしくお願いいたします。

○請求代表者（洗足花子さん）

皆さん、おはようございます。××市学園町3丁目に住む、洗足花子です。  
本日は、この臨時議会にて意見陳述する機会をいただき、市長、(イ) 議会の皆さん、そして傍聴に来てくださった皆さんに感謝申し上げます。  
行政の方々は、市を豊かにし、市民の暮らしが良好な環境の中で営まれるようにと思い、日々業務をなさっていると思います。それならば、リサイクルセンターを建設するよりも、もっと日常的な、たとえば他市でおこなっているように、市民の憩いの場である公民館などの施設をより低料金で貸し出したりすることなどに大事な (ウ) 税金を使ってほしい、それが (エ) 市民の思いです。今回の住民投票は、反対のためのものではなく、賛成も反対も民意で決めようという公平なものです。市民の代表である議会で (オ) 予算が可決されたとしても、そのことに賛成できない市民も大勢いるので、今回、(カ) 住民投票条例制定の直接請求を求め、3000人の方々が署名しました。このリサイクルセンター建設の是非を問うことは、××市の (キ) 地方自治を住民たちが考え、住民たちがつくっていくことです。私たちの街は、私たちの力でつくっていく。××市の地域性をいま一度振り返り、考え、今回の件は住民投票で決めようという直接請求を尊重し、行政に反映させてほしいと思います。それが市民としての思い、心からのお願いです。

以上で、洗足花子の陳述は終わります。

○議長（□□□□議員）

以上で、請求代表者による意見陳述を終わります。休憩します。

問1 下線部(ア)に関連して、参議院本会議の定足数を答えなさい。

問2 下線部(イ)に関連して、衆議院の優越について述べた文として正しいものを、次の①～④の中からひとつ選んで番号で答えなさい。

- ① 内閣の国务大臣の過半数は衆議院議員でなくてはならない。
- ② 予算は必ず衆議院から審議をはじめなければならない。
- ③ 法律案の議決において、衆議院・参議院で異なった議決をした場合、衆議院の議決が国会の議決となる。
- ④ 条約の承認において、衆議院・参議院で異なった議決をした場合、衆議院で出席議員の3分の2以上の多数で再び可決したときは国会の議決となる。

問3 下線部(ウ)に関連して、日本の消費税の特徴<sup>とくちょう</sup>を述べた文として正しいものを、次の①～④の中からひとつ選んで答えなさい。

- ① 直接税であり、収入の多い人ほど税率が高く、収入の少ない人は税率が低い。
- ② 直接税であり、生活必需品<sup>ひつじゅひん</sup>にも課税されるため、収入が少ない人への負担感が大きい。
- ③ 間接税であり、収入の多い人ほど税率が高く、収入の少ない人は税率が低い。
- ④ 間接税であり、生活必需品<sup>ひつじゅひん</sup>にも課税されるため、収入が少ない人への負担感が大きい。

問4 下線部(エ)に関連して、民意を反映させることは行政においてだけでなく、司法においても重要なことです。市民の感覚を司法に反映させることを目的のひとつに、2009年から裁判員制度<sup>じっし</sup>が実施されていますが、裁判員制度について述べた文として誤っているものを、次の①～④の中からひとつ選んで番号で答えなさい。

- ① 重大な刑事事件の第一審において裁判員制度<sup>じっし</sup>が実施されている。
- ② 裁判員には、守秘義務<sup>しゅひ</sup>が課せられる。
- ③ 裁判において、裁判員は有罪か無罪かを決定し、有罪であるときは裁判官が具体的な刑罰の内容を決定する。
- ④ 介護・育児など、やむを得ない理由があるときは裁判員を辞退できる。

問5 下線部(オ)に関連して、国の予算の原案を作成している省庁を漢字<sup>かんじ</sup>で答えなさい。

**問6** 下線部(力)の人数が、条例制定の請求に必要な有権者署名人数にちょうど達しているとすれば、この市において議員の解職に必要な有権者署名人数は何人以上になりますか。その人数としてふさわしいものを、次の①～④の中からひとつ選んで番号で答えなさい。

- ① 1,000人      ② 3,000人      ③ 50,000人      ④ 150,000人

**問7** 下線部(キ)に関連して、A・Bそれぞれの問いに答えなさい。

**A** 住民自身が地域の政治に参加する地方自治のあり方について、イギリスの政治家であるブライスは「地方自治は  の学校」と表現しました。空欄  にあてはまる語句を漢字で答えなさい。

**B** 日本の地方自治を「三割自治」と表現することがありますが、そのように表現される理由を財政の面から文章で説明しなさい。

