

平成27年度 入学試験問題

社 会

第 1 回

|||||【注 意】|||||

試験時間は理科とあわせて60分です。(11:10～12:10)

問題は1ページから12ページまでです。

解答はすべて解答用紙に記入してください。

解答用紙に受験番号、氏名を記入してください。

|||||



洗足学園中学校

- 1 次の【文章Ⅰ】～【文章Ⅲ】は、日本の海峡について述べたものです。これを読んで、あとの問いに答えなさい。

【文章Ⅰ】

津軽海峡は、(ア)北海道と本州の間にある海峡です。今から約1万年以上前には、本州と北海道は陸続きでしたが、その後、南北方向に断層が生じ、また東西方向にも小規模な断層が生じて津軽海峡が形成されました。最も狭い部分は、(イ)青森県の下北半島の^{おおまぎき}大間崎と北海道の^{かめだ}亀田半島の^{しおくびみさき}汐首岬との間であり、その距離は約18.7kmです。この海峡では、対馬海流から分かれた津軽海流が【(ウ)】から【(エ)】へと向かって流れています。この海峡はイカの好漁場であり、近年は(オ)マダモリ漁場としても注目を集めています。その他、コンブ・ワカメ・ウニなどの養殖も盛んです。海峡の両岸を結ぶ【(カ)】。

【文章Ⅱ】

(キ)鳴門海峡は、徳島県の^{ほくとうたん}北東端と(ク)兵庫県淡路島の^{なんせいたん}南西端の間にある海峡です。平安時代に紀貫之によって書かれた『土佐日記』には、「阿波の水門」と記されています。潮の流れが速く、また、海底の^{かんぼん}岩盤が複雑で海峡の北と南で潮の満ち引きに時間差があるため、渦潮が発生することでも知られています。この海峡の付近では、タイ漁やワカメの養殖が盛んです。また、この海峡の^{さか}一帯は、【(ケ)】国立公園に属しています。海峡の両岸を結ぶ【(コ)】。

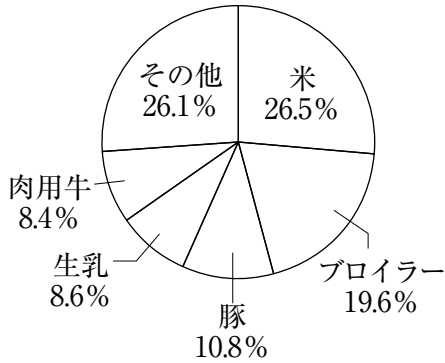
【文章Ⅲ】

関門海峡は、本州西端の(カ)山口県下関市と九州北端の福岡県(キ)北九州市との間にある海峡です。【(ケ)】の西口にあたり、【(ケ)】側の^{すおうなだ}周防灘と【(ウ)】側の^{ひびきなだ}響灘を結ぶ重要な水路であり、古くから(ク)海上交通の要衝となっています。最も狭い部分は、下関市の^{せま}壇之浦と北九州市門司の^{はやとも}和布刈との間で、早鞆ノ瀬戸とよばれています。その幅は約700mで、ここでは潮の流れも速くなっています。また、海峡の中には、源氏と平氏の最後の戦いの場である^{はば}壇之浦古戦場や、宮本武蔵と佐々木小次郎の^{けつとう}決闘の場として知られている^{がんりゅうじま}巖流島などの史跡・名所も点在しています。海峡の両岸を結ぶ【(セ)】。

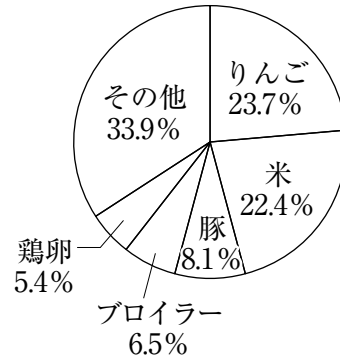
問1 下線部 (ア)に関連して、次の【資料】は、北海道・青森県・岩手県・秋田県のいずれかの農産物産出額の順位と構成比を示しています。北海道を示しているものを【資料】の①～④の中からひとつ選んで番号で答えなさい。

【資料】

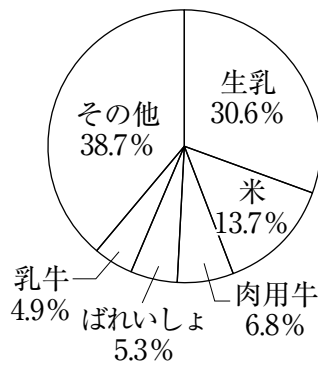
①



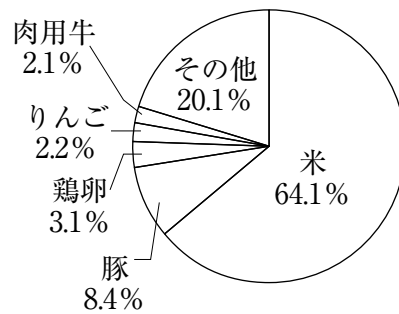
②



③



④



(「農林水産省 生産農業所得統計 (平成24年)」より作成)

問2 下線部 (イ)には、核燃料サイクルの**一環**として、再処理工場、高レベル放射性廃棄物貯蔵管理センター、ウラン濃縮工場などが建設されている村があります。この村を答えなさい。

問3 空欄 ・ ・ にあてはまる語句の組み合わせとしてふさわしいものを、次の①～⑥の中からひとつ選んで番号で答えなさい。

- | | | | |
|---|---|---|---|
| ① | <input type="text" value=" (ウ)"/> 一瀬戸内海 | <input type="text" value=" (エ)"/> 一太平洋 | <input type="text" value=" (ケ)"/> 一日本海 |
| ② | <input type="text" value=" (ウ)"/> 一瀬戸内海 | <input type="text" value=" (エ)"/> 一日本海 | <input type="text" value=" (ケ)"/> 一太平洋 |
| ③ | <input type="text" value=" (ウ)"/> 一太平洋 | <input type="text" value=" (エ)"/> 一瀬戸内海 | <input type="text" value=" (ケ)"/> 一日本海 |
| ④ | <input type="text" value=" (ウ)"/> 一太平洋 | <input type="text" value=" (エ)"/> 一日本海 | <input type="text" value=" (ケ)"/> 一瀬戸内海 |
| ⑤ | <input type="text" value=" (ウ)"/> 一日本海 | <input type="text" value=" (エ)"/> 一瀬戸内海 | <input type="text" value=" (ケ)"/> 一太平洋 |
| ⑥ | <input type="text" value=" (ウ)"/> 一日本海 | <input type="text" value=" (エ)"/> 一太平洋 | <input type="text" value=" (ケ)"/> 一瀬戸内海 |

問4 下線部(オ)について述べた文として正しいものを、次の①～④の中からひとつ選んで番号で答えなさい。

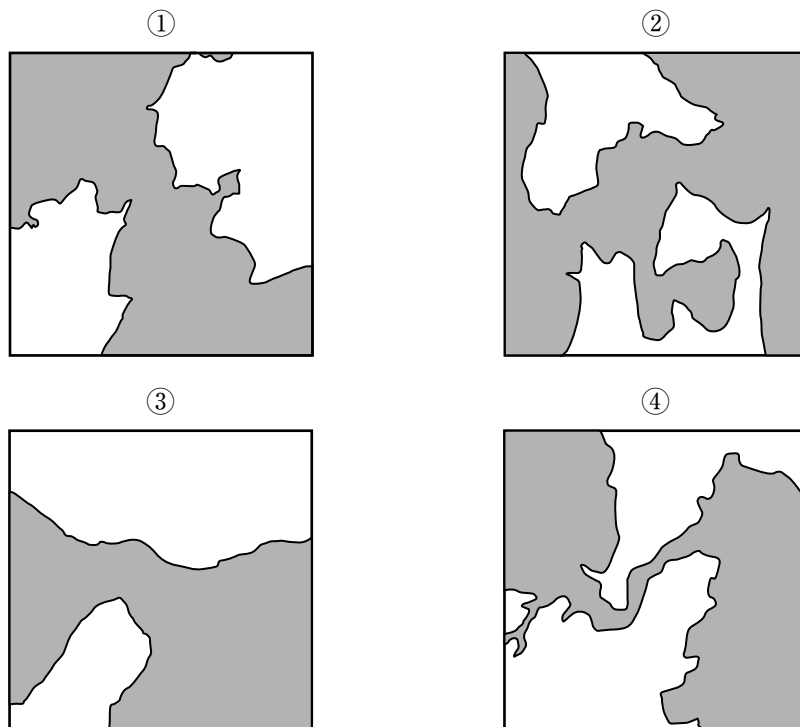
- ① 寒流の流れる北方の海域に主に生息している。
- ② 一本釣りいっぽんづりとよばれる漁法によって主に漁獲ぎょかくされる。
- ③ 現在、外国からの輸入量が日本国内の漁獲量ぎょかくの3倍以上となっている。
- ④ 現在、日本の輸入先の第1位は台湾であり、第2位は韓国である。

問5 空欄らん (カ) ・ (コ) ・ (セ) にあてはまる文としてふさわしいものを、次の①～⑨の中からそれぞれひとつ選んで番号で答えなさい。

- ① 橋があり、交通機関としては、自動車道だけが通っています
- ② 橋があり、交通機関としては、鉄道だけが通っています
- ③ 橋があり、交通機関としては、自動車道と鉄道が通っています
- ④ トンネルがあり、交通機関としては、自動車道だけが通っています
- ⑤ トンネルがあり、交通機関としては、鉄道だけが通っています
- ⑥ トンネルがあり、交通機関としては、自動車道と鉄道が通っています
- ⑦ 橋とトンネルがあり、交通機関としては、自動車道だけが通っています
- ⑧ 橋とトンネルがあり、交通機関としては、鉄道だけが通っています
- ⑨ 橋とトンネルがあり、交通機関としては、自動車道と鉄道が通っています

問6 下線部(キ)とその付近を示している【地図】を、次の①～④の中からひとつ選んで番号で答えなさい。なお、【地図】には橋は記していません。また、縮尺は同じとは限りません。

【地図】

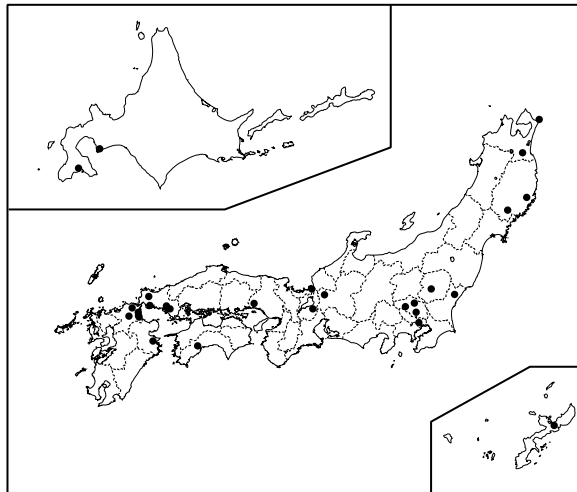


問7 下線部(ク)の都市について述べた文として正しいものを、次の①～④の中からひとつ選んで番号で答えなさい。

- ① 神戸市には、貿易額が成田国際空港に次いで国内第2位の貿易港があり、また、同市の内陸部には、神戸空港がある。
- ② 姫路市には、国内最初の世界遺産に指定された姫路城があり、また、同市は、播磨臨海工業地域の中心地となっている。
- ③ 明石市には、日本の標準時子午線である東経135度の経線が通っており、また、同市と淡路島を結ぶ瀬戸大橋がある。
- ④ 加古川市には、阪神工業地帯で唯一の石油化学コンビナートがあり、また、同市には、山陽新幹線の駅がある。

問8 次の【地図】は、下線部(サ)で盛んな「ある工業」がおこなわれている日本国内の工場の立地を示しています。この工業を答えなさい。

【地図】



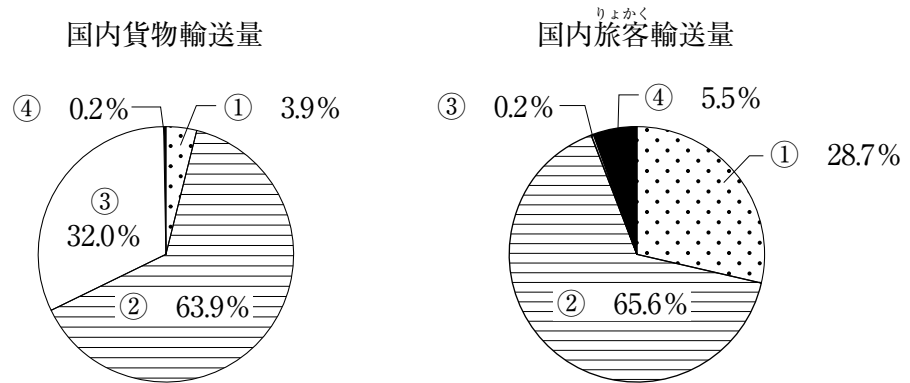
(『日本国勢図会 2014/15年版』より作成)

問9 下線部(シ)は政令指定都市のひとつです。政令指定都市について述べた文として誤っているものを、次の①～⑤の中からすべて選んで番号で答えなさい。

- ① 政令指定都市には、行政や財政において都道府県並みの権限が与えられている。
- ② 政令指定都市には、「区」を置くことが認められている。
- ③ 2014年末時点で、政令指定都市は全国で15市ある。
- ④ 複数の政令指定都市をもつ府県がある一方、四国地方には政令指定都市がない。
- ⑤ 政令指定都市は、国会の審議・議決を経て決定される。

問10 下線部（ス）に関連して、次の【資料】は、日本国内における船舶・航空機・鉄道・自動車による貨物・旅客の輸送量の割合（2009年度）を示しています。船舶の輸送量の割合を示しているものを【資料】の①～④の中からひとつ選んで番号で答えなさい。

【資料】



（『日本国勢図会 2014/15年版』より作成）

2 次の会話は、小学校6年生の教室でかわされたものです。これを読んで、あとの問いに答えなさい。

うめ子 梅の花の良い香りがしますね。私は梅の花が大好きです。

さくら 桜の花も同じくらい素敵ですよ。桜の花は、農耕と密接な関わりのある日本にとって特別な花だと思います。桜の花が咲く頃に (ア) 稲作が始まりますし、花の咲き方や、咲いている期間の長短によって豊作・凶作を占ったともいわれているようです。

うめ子 『 (イ) 』の時代は、桜だけでなく梅も人気だったようですよ。現存最古の歌集である『 (イ) 』では、桜を題材とした歌は40首ほどなのに対して、梅を題材とする歌は100首以上あるそうです。

さくら そういえば、私の持っている受験のお守りにも梅の花が描かれています。

うめ子 学問の神様として祀られている (ウ) 菅原道真の梅の歌は有名ですよ。

さくら 桜の歌も負けていませんよ。(エ) 『新古今和歌集』などには、桜を題材にした歌も多く集録されています。その中でも触れられている、奈良の (オ) 吉野は、桜の名所として有名です。

うめ子 吉野ときくと、ソメイヨシノが思い浮かびます。

さくら ソメイヨシノは江戸末期から明治初期の頃に生まれた品種です。開花宣言の基準となるのは、主にこの品種ですね。

うめ子 たしか、東京の開花基準となっているのは (カ) 靖国神社の桜(標本木)でしたね。

さくら 靖国神社の桜は木戸孝允が植樹したのが始まりであり、その後 (キ) 明治20年代にまとまって桜が植えられたようです。

うめ子 なるほど。梅の名所としては、(ク) 水戸徳川家によって造園された偕楽園が有名です。

さくら 今度一緒に梅を見に行きましょう。

うめ子 桜もね。

問1 下線部(ア)に関連して、A・Bそれぞれの問いに答えなさい。

A 次の【資料】は、稲作に使用された道具です。この道具の名称を漢字で答えなさい。

【資料】



B 各時代の日本の稲作について述べた文として正しいものを、次の①～④の中からひとつ選んで番号で答えなさい。

- ① 鎌倉時代、農民が幕府に米を納める税を租とよんだ。
- ② 室町時代には、干した鰯が肥料として主に使われた。
- ③ 明治維新の際、農地改革がおこなわれ、自作農の多くが小作農になった。
- ④ 1970年代から、いわゆる減反政策が始まった。

問2 空欄(イ)にあてはまる語句を漢字で答えなさい。

問3 下線部(ウ)について述べた文として正しいものを、次の①～④の中からひとつ選んで番号で答えなさい。

- ① 遣唐使として唐へ渡り、その経験から遣唐使の停止を決意した。
- ② 死後、崇りを恐れて、天神として祀られた。
- ③ 藤原道長との争いにやぶれ、大宰府に左遷された。
- ④ 後醍醐天皇から信任を受け、右大臣に任命された。

問4 下線部(エ)について述べた文としてふさわしいものを、次の①～④の中からひとつ選んで番号で答えなさい。

- ① 源頼朝など、武士の作品もおさめられている。
- ② 天皇の命令によって編纂された最初の和歌集である。
- ③ 紀貫之が中心となって編纂された和歌集である。
- ④ 同時代の文学作品に、『土佐日記』が挙げられる。

問5 下線部(オ)について述べた文X・Yについて、その正誤の組み合わせとして正しいものを、次の①～④の中からひとつ選んで番号で答えなさい。

X 天智天皇より後継者となることを請われた大友皇子は、それを断り、都を出て吉野へ去った。

Y 南北朝時代、北朝が吉野をその拠点とした。

- ① X 正 Y 正
- ② X 正 Y 誤
- ③ X 誤 Y 正
- ④ X 誤 Y 誤

問6 下線部(力)について述べた文X・Yについて、その正誤の組み合わせとして正しいものを、次の①～④の中からひとつ選んで番号で答えなさい。

X 第二次世界大戦後、戦没者^{せんぼつ}をとむらうために建てられた。
Y 内閣総理大臣の参拝などについて、中華人民共和国などから非難を受けている。

- ① X 正 Y 正 ② X 正 Y 誤
③ X 誤 Y 正 ④ X 誤 Y 誤

問7 下線部(キ)のできごとを古いものから年代順に正しく配列したものを、次の①～⑧の中からひとつ選んで番号で答えなさい。

- ① 三国干渉 — 日清戦争 — 第1回衆議院議員選挙の実施 — 大日本帝国憲法の発布
② 三国干渉 — 日清戦争 — 大日本帝国憲法の発布 — 第1回衆議院議員選挙の実施
③ 第1回衆議院議員選挙の実施 — 大日本帝国憲法の発布 — 日清戦争 — 三国干渉
④ 第1回衆議院議員選挙の実施 — 大日本帝国憲法の発布 — 三国干渉 — 日清戦争
⑤ 大日本帝国憲法の発布 — 第1回衆議院議員選挙の実施 — 日清戦争 — 三国干渉
⑥ 大日本帝国憲法の発布 — 第1回衆議院議員選挙の実施 — 三国干渉 — 日清戦争
⑦ 日清戦争 — 三国干渉 — 第1回衆議院議員選挙の実施 — 大日本帝国憲法の発布
⑧ 日清戦争 — 三国干渉 — 大日本帝国憲法の発布 — 第1回衆議院議員選挙の実施

問8 下線部(ク)は御三家のひとつです。他のふたつを漢字で答えなさい。

3 次の文章を読んで、あとの問いに答えなさい。

「少子高齢化」「人口減少」という言葉をいたるところで聞くようになりました。

(ア) 第二次世界大戦が終了した1945年11月の日本の人口は約7200万人でしたが、2008年には約1億2800万人に増加しました。しかし、その年をピークに減少傾向にあります。2014年5月、内閣府に設置された「選択する未来」という委員会は、現状が続けば、2060年の人口は今の3分の2の約8700万人になるという提言をしました。一方で国立社会保障・人口問題研究所によると、2060年には、65歳以上の高齢者の全人口に占める割合が約40%になり、2.5人に1人が高齢者になるといわれています。このような「少子高齢化」や「人口減少」にはどのような問題点があるのでしょうか。

まず、日本の公的年金制度において生じる問題が挙げられます。公的年金制度は、基本的には現在働いている人たちが納めた保険料を、今の高齢者の年金支給のための費用に充てます。そのため、保険料を納める人たちが少なくなり、また、高齢者が増えると という問題が生じてしまいます。

2つ目は医療費の問題です。日本の医療保険は対象者によって制度が異なりますが、保険料や自己負担ではまかないきれないため、国や (ウ) 地方公共団体などが (エ) 税金で負担をしています。特に65歳以上の医療費は全体の55%を超えており、今後もその額が増えることが予想されています。

3つ目は、世代人口の偏りが発生することによって、選挙における (オ) 投票結果にも影響がでてしまう点です。国立社会保障・人口問題研究所によると、有権者の平均年齢は1980年には44.6歳でしたが、2055年には61.5歳になるといわれています。したがって、日本の政治において、高齢者の意見が反映されやすくなると思われます。

これらの問題に対し、日本ではさまざまなことが検討されています。2014年5月、(カ) 政府は「50年後に人口1億人程度を維持する」との中長期の国家目標を設けることにしました。未来を担う子どもに対する (キ) 教育に力を注げるように社会保障予算の配分を見直したり、高齢者や (ク) 女性の労働参加を進めたりすることなどを検討しています。「少子高齢化」や「人口減少」への対応が急務であるといえます。

問1 下線部(ア)の反省から、日本は「平和主義」という考え方を憲法に盛り込みました。日本国憲法前文に記された「平和主義」としてふさわしいものを、次の①～④の中からひとつ選んで番号で答えなさい。

- ① 日本国民は恒久の平和を念願し、人間相互の関係を支配する崇高な理想を深く自覚するのであつて、平和を愛する諸国民の公正と信義に信頼して、われらの安全と生存を保持しようと決意した。
- ② 日本国民は、正義と秩序を基調とする国際平和を誠実に希求し、国権の発動たる戦争と、武力による威嚇又は武力の行使は、国際紛争を解決する手段としては、永久にこれを放棄する。
- ③ わが国は、……日本国憲法の下、専守防衛に徹し、他国に脅威を与えるような軍事大国とならないとの基本理念に従い、文民統制を確保するとともに、非核三原則を守りつつ、節度ある防衛力を自主的に整備するとともに、基本方針を引き続き堅持する。
- ④ 日本国の安全に寄与し、並びに極東における国際の平和及び安全の維持に寄与するため、アメリカ合衆国は、その陸軍、空軍及び海軍が日本国において施設及び区域を使用することを許される。

問2 空欄(イ)には、下記の文a～dのいくつかの文があてはまります。あてはまる文の組み合わせとして正しいものを、次の①～④の中からひとつ選んで番号で答えなさい。

- | |
|-----------------------------|
| a 保険料を納める人たちの1人あたりの負担が大きくなる |
| b 保険料を納める人たちの1人あたりの負担が小さくなる |
| c 高齢者に給付される1人あたりの金額が多くなる |
| d 高齢者に給付される1人あたりの金額が少なくなる |

- ① a・c ② a・d ③ b・c ④ b・d

問3 下線部(ウ)に関連して、A・Bそれぞれの問いに答えなさい。

A 地方公共団体の歳出の内訳としてふさわしくないものを、次の①～④の中からひとつ選んで番号で答えなさい。

- ① 民生費 ② 土木費 ③ 公債費 ④ 防衛費

B 地方公共団体の住民に認められている直接請求権を行使できる事例としてふさわしくないものを、次の①～④の中からひとつ選んで番号で答えなさい。

- ① 有権者の50分の1以上の署名を集め、地域経済振興にかかわる条例の制定を求める。
- ② 有権者の50分の1以上の署名を集め、公立のスポーツ施設の建設費が不正に支出されていないかを調査することを求める。
- ③ 有権者の3分の1以上の署名を集め、産業廃棄物処分場の建設を中止することを求める。
- ④ 有権者の3分の1以上の署名を集め、汚職事件にかかわった町長の解職を求める。

問4 下線部(工)に関連して、消費税が2014年4月から8%に引き上げられました。この実施を決定した「社会保障と税の一体改革関連法」を成立させた当時の内閣総理大臣を、次の①～④の中からひとつ選んで番号で答えなさい。

- ① 菅直人 ② 野田佳彦 ③ 鳩山由紀夫 ④ 安倍晋三

問5 下線部(才)に関連して、選挙に際し、投票率向上のための宣伝などを主に担当している省庁を漢字で答えなさい。

問6 下線部(力)に関連して、A・Bそれぞれの問いに答えなさい。

A 内閣総理大臣について述べた文として正しいものを、次の①～④の中からひとつ選んで番号で答えなさい。

- ① 全国の都道府県知事の最高責任者である。
- ② 法律を制定する機関の最高責任者である。
- ③ 裁判の判決内容を決定することができる。
- ④ 国務大臣を任命することができる。

B 内閣の権限について述べた文としてふさわしいものを、次の①～④の中からひとつ選んで番号で答えなさい。

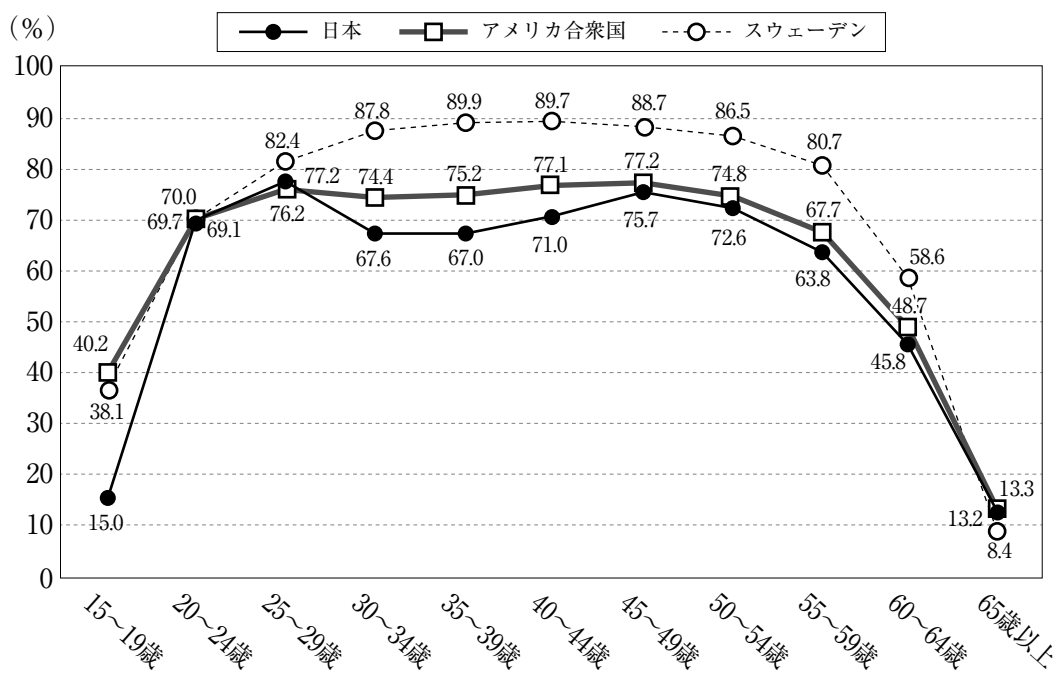
- ① 条例の制定・改廃を請求する。
- ② 憲法改正の発議をする。
- ③ 予算の議決をおこなう。
- ④ 条約を締結する。

問7 下線部(キ)に関連して、次の日本国憲法第26条の条文中の空欄 にあてはまる文を答えなさい。

すべて国民は、法律の定めるところにより、その保護する子女に 義務を負う。義務教育は、これを無償とする。

問8 下線部(ク)に関連して、次の【資料】は、日本、アメリカ合衆国、スウェーデンの女性の年齢別労働力率を示したものです。日本が30～40代の年齢層において【資料】で示された2か国と比較して割合が低いのはなぜですか。その理由を文章で説明しなさい。

【資料】



(『平成24年版 厚生労働白書』より作成)

