

# 平成26年度 入学試験問題

## 社 会

### 第 3 回

|||||【注 意】|||||

試験時間は理科とあわせて60分です。(11:10～12:10)

問題は1ページから10ページまでです。

解答はすべて解答用紙に記入してください。

解答用紙に受験番号、氏名を記入してください。

|||||



洗足学園中学校

- 1 次の【文章Ⅰ】～【文章Ⅲ】は、日本の平野について述べたものです。これを読んで、あとの問いに答えなさい。

### 【文章Ⅰ】

(ア)越後平野は、新潟県中北部の信濃川下流域などに広がる沖積平野です。明治期以降、耕地整理や土地改良が進んだこの平野は日本を代表する米の産地であり、 (イ)  地帯となっています。また、砂丘や自然堤防上では園芸農業が盛んで、チューリップなどの球根栽培やメロン・すいかなどの栽培がおこなわれています。平野内の各都市では、(ウ)石油化学・機械・金属・繊維などの工業がおこなわれ、 燕市は洋食器の産地として知られています。第二次世界大戦後に、この平野の低湿地帯で古くから家庭用に利用されていた (エ)天然ガスの工業利用のための採掘が進みました。しかし、これにより地盤沈下が発生し、その後、家庭用の天然ガスの採取は規制されることになりました。

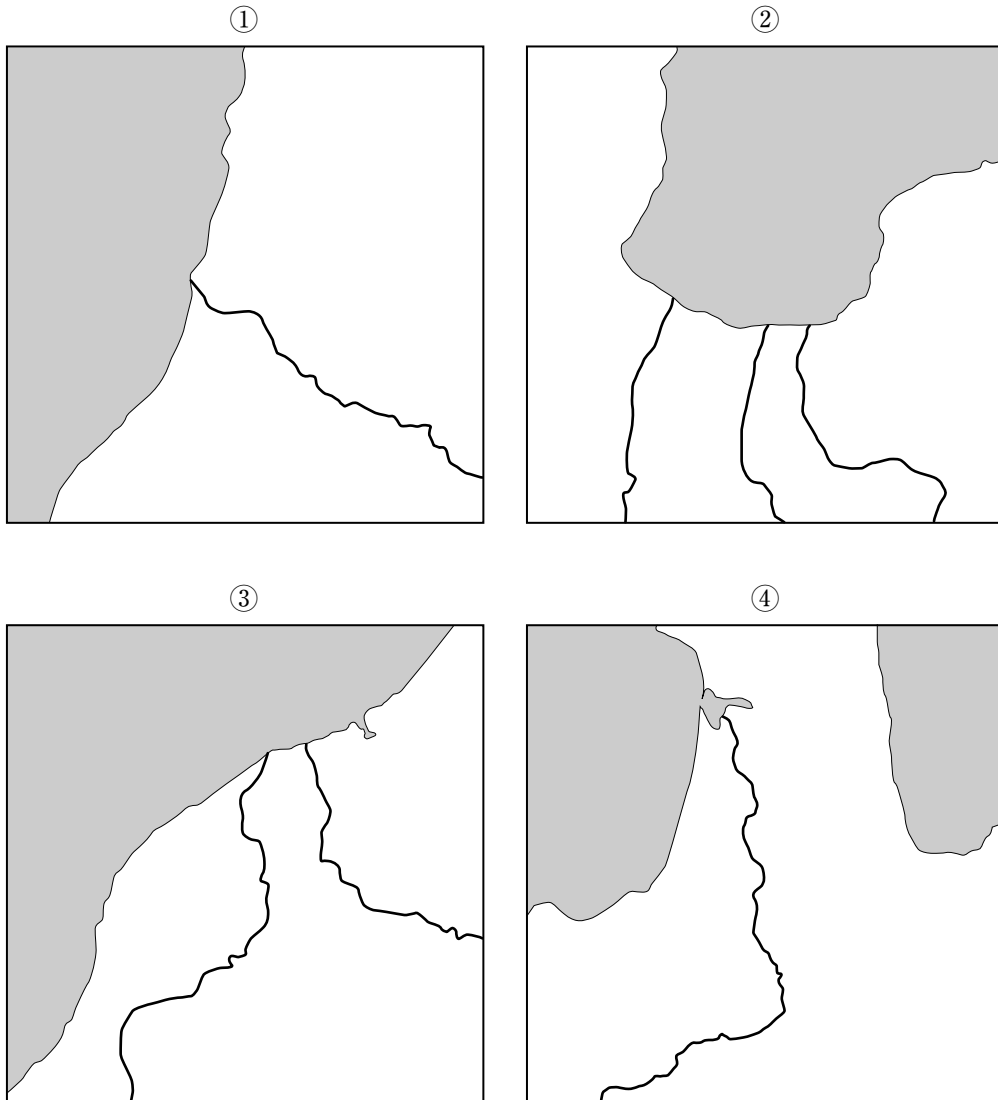
### 【文章Ⅱ】

筑紫平野は、有明海に注ぐ筑後川の中・下流域に広がる九州最大の平野であり、福岡県と佐賀県にまたがっています。筑紫平野は、米の産地であり、 (オ)  地帯となっています。低湿地帯では、い草、それより少し海拔が高い所では、茶・植木・果樹なども栽培され、(カ)福岡県の農業産出額は、鹿児島県・熊本県・宮崎県に次いで九州第4位となっています。低地には、かつて、クリークとよばれる灌漑・排水用の水路が縦横に発達していましたが、区画整理などのために埋め立てられて減少してきています。この平野の代表的な都市には、人口が福岡県で3番目に多く、タイヤなどを生産するゴム工業で有名な (キ)  市や、佐賀県の県庁所在地である佐賀市などがあります。

### 【文章Ⅲ】

(ク)  平野は、北海道西部に位置する平野で、北海道内最長の川である (ク)  川などにより運ばれてきた土砂でできた中央部の低地と、その周囲の台地・扇状地からなっています。 (ク)  川下流域では、川の流路が変わったことによって以前の川の一部が湖となったものである (ケ)  が多く形成されています。平野の中央部は泥炭地でしたが、(コ)客土が進められ、現在では北海道有数の水田地帯となっています。米作のほかに、畑作・酪農も盛んにおこなわれています。1875年以来、屯田兵が入植し、この平野の都市には屯田兵村に起源をもつものが多くあります。この平野の中心都市は(サ)札幌市です。

問1 下線部 (ア) の付近とそこを流れている河川を示しているものを、次の①～④の中からひとつ選んで番号で答えなさい。

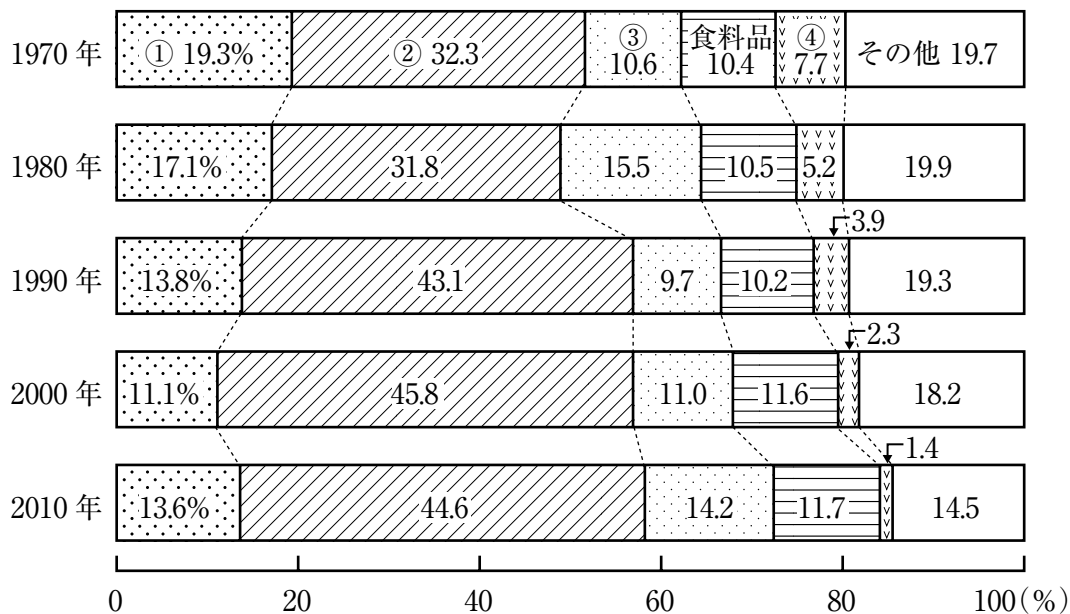


問2 空欄  ・  にあてはまる語句の組み合わせとしてふさわしいものを、次の①～⑥の中からひとつ選んで番号で答えなさい。

- |   |                                  |       |                                  |       |
|---|----------------------------------|-------|----------------------------------|-------|
| ① | <input type="text" value="(イ)"/> | - 二期作 | <input type="text" value="(オ)"/> | - 単作  |
| ② | <input type="text" value="(イ)"/> | - 二期作 | <input type="text" value="(オ)"/> | - 二毛作 |
| ③ | <input type="text" value="(イ)"/> | - 二毛作 | <input type="text" value="(オ)"/> | - 二期作 |
| ④ | <input type="text" value="(イ)"/> | - 二毛作 | <input type="text" value="(オ)"/> | - 単作  |
| ⑤ | <input type="text" value="(イ)"/> | - 単作  | <input type="text" value="(オ)"/> | - 二期作 |
| ⑥ | <input type="text" value="(イ)"/> | - 単作  | <input type="text" value="(オ)"/> | - 二毛作 |

問3 下線部(ウ)に関連して、次の【資料】は、日本における製造品出荷額等の構成の推移を示したものです。【資料】中の①～④は、化学工業・機械工業・金属工業・繊維工業のいずれかを示しています。このうち金属工業を示しているものを、【資料】中の①～④の中からひとつ選んで番号で答えなさい。

【資料】



(『日本国勢図会 2013/14年版』より作成)

問4 下線部(エ)に関連して、日本にかかわる天然ガスの事柄について述べた文として誤っているものを、次の①～④の中からひとつ選んで番号で答えなさい。

- ① 日本では、石油危機後、石油の代替りのエネルギーとして、天然ガスの消費量が大きく増えてきた。
- ② 日本の天然ガスのおもな輸入先は、オーストラリア、カタール、マレーシアなど、アジア・オセアニア地域の国が多い。
- ③ 日本は、天然ガスのほとんどを液化天然ガスの形で、海外から専用の船で輸入している。
- ④ 近年、ロシアを中心にシェールガスの開発が加速しており、日本も近い将来天然ガスを今よりも安く輸入できるようになるとされている。

問5 下線部(力)に関連して、次の【資料】は、福岡県・鹿児島県・熊本県・宮崎県の各種農産物の産出額が、それぞれの県の農業産出額の総額に占める割合を示したものです。福岡県の統計を示しているものを、【資料】中の①～④の中からひとつ選んで番号で答えなさい。

【資料】

(単位：%)

	米	麦類	雑穀	豆類	いも類	野菜	果実	花き	工芸農作物	その他作物	畜産	加工農産物
①	7.8	0.0	0.0	0.0	2.6	23.9	5.3	2.7	2.3	0.8	53.5	1.0
②	20.4	1.3	0.0	1.0	0.5	34.1	10.3	8.4	1.5	4.2	17.5	0.9
③	6.1	0.0	0.0	0.0	7.4	12.4	2.2	3.3	7.3	0.7	58.4	1.9
④	13.1	0.2	0.0	0.2	1.9	34.2	10.3	3.1	4.0	1.2	30.7	1.1

(『農林水産統計 平成23年 農業産出額及び生産農業所得(都道府県別)』より作成)

問6 空欄(キ)にあてはまる語句を漢字で答えなさい。

問7 空欄(ク)にあてはまる語句を漢字で答えなさい。

問8 空欄(ケ)にあてはまる語句を漢字で答えなさい。

問9 下線部(コ)とは、どのようなものですか。その目的にふれながら文章で説明しなさい。

問10 下線部(サ)について述べた文として誤っているものを、次の①～④の中からひとつ選んで番号で答えなさい。

- ① 北海道の道庁所在地であり、政令指定都市に指定されている。
- ② 人口は190万人を超え、全国の都市の中では、5番目に人口が多い。
- ③ ビールや乳製品などを生産する食料品工業が盛んである。
- ④ 市内中心部の東の海岸に掘り込み式の港が築かれている。

- 2 日本の年中行事について述べた次の【年中行事Ⅰ】～【年中行事Ⅲ】を読んで、あとの問いに答えなさい。

### 【年中行事Ⅰ】

新嘗祭は、天皇がその年に収穫された穀物を神々に供え、また自らも食して、その年の豊かな実りを神々に感謝する祭りです。(ア)『日本書紀』には天武天皇の治世におこなわれたことが記されていますが、その起源はさらに古く、(イ)稲作の到来とともに成立したものと思われます。新嘗祭は応仁の乱をきっかけとしてしばらく途絶えましたが、元禄期の(ウ)東山天皇の在位中に復活され、(エ)明治6年には、太政官布告「年中祭日祝日ノ休暇日ヲ定ム」によって祭日とされました。第二次世界大戦後になると、昭和23年の国民の祝日に関する法律によって、同じ日が「勤労感謝の日」とされました。

### 【年中行事Ⅱ】

上巳の節句は、古くは人形に身体の災いを移して海や川に流した行事でした。その風習は平安時代にさかのぼり、(オ)『源氏物語』には人形を海へ流す場面が描かれています。この人形が現在のような座り雛になったのは江戸時代に入ってからのことです。そのはじめは、二代将軍徳川秀忠の娘和子が、その娘の興子、のちの(カ)明正天皇のためにつくった押絵であるとも言われています。その頃から雛人形が飾られるようになり、(キ)天保期には七段飾りという豪華な雛段がつくられるようになりました。

### 【年中行事Ⅲ】

端午の節句は、もとは田植えの頃に女性が家にこもって豊作を祈った行事と、中国伝来の厄払いとが融合したものと考えられています。菖蒲を屋根にかけ、よもぎの人形をつくるこのしきたりに加えて、鎌倉時代になると「菖蒲」が「尚武」に通じることなどから(ク)武士の間にも盛んになって男子中心の勇ましい行事にかわっていきました。室町時代にはかぶと人形がつくられ、江戸時代になると男子の出世を願ってこいのぼりを立てるようになったと言います。端午の節句で飾られる武者人形のモデルは、(ケ)加藤清正など歴史上活躍した武士たちです。

- 問1 下線部(ア)が成立した頃について述べた文として正しいものを、次の①～④の中からひとつ選んで番号で答えなさい。

- ① 隋から鑑真が来日し、戒律を伝えた。
- ② 三世一身法が施行され、耕地の拡大がはかられた。
- ③ 藤原定家らによって、『万葉集』が成立した。
- ④ 僧の行基は、民衆への布教や用水施設の整備をおこなったが、桓武天皇によって処罰された。

問2 下線部(イ)に関連して、4～7世紀頃に中国大陸や朝鮮半島から移り住み、日本に技術や文化を伝えた人々は何とよばれていますか。漢字で答えなさい。

問3 下線部(ウ)の在位中のできごととしてふさわしいものを、次の①～④の中からひとつ選んで番号で答えなさい。

- ① 世の中を風刺した川柳や狂歌が盛んにつくられた。
- ② 日本人の海外渡航と、海外からの帰国がこの頃はじめて禁止された。
- ③ 優秀な人材を登用するために、足高の制を定めた。
- ④ 儒教を重んじて、江戸の湯島に孔子をまつる聖堂を建てた。

問4 下線部(エ)に起こったできごととしてふさわしいものを、次の①～④の中からひとつ選んで番号で答えなさい。

- ① 20歳以上の男子に兵役の義務を課す徴兵令が發布された。
- ② 大日本帝国憲法が發布された。
- ③ 板垣退助が、フランス流の自由主義をとなえる自由党を結成した。
- ④ 大隈重信が、イギリス流の議院内閣制をとなえる立憲改進黨を結成した。

問5 下線部(オ)が成立したと考えられる10～11世紀頃の日本について述べた文としてふさわしいものを、次の①～④の中からひとつ選んで番号で答えなさい。

- ① 藤原良房が天皇の外祖父となり、摂政の地位についた。
- ② 保元の乱において、後白河天皇・平清盛・源義朝らが勝利した。
- ③ 尾張の国司藤原元命が、郡司・農民によって訴えられた。
- ④ 坂上田村麻呂が征夷大將軍に任命され、東北地方の蝦夷と戦った。

問6 下線部(カ)は奈良時代の称徳天皇以来の女性天皇でした。女性天皇に関連して述べた文X・Yについて、その正誤の組み合わせとして正しいものを、次の①～④の中からひとつ選んで番号で答えなさい。

X 持統天皇の治世に、刑部親王らによる大宝律令が完成した。  
Y 元明天皇の治世に、唐の長安を手本として平城京がつけられた。

- ① X 正 Y 正
- ② X 正 Y 誤
- ③ X 誤 Y 正
- ④ X 誤 Y 誤

問7 下線部(キ)に、いわゆる三大改革とよばれる幕政改革をおこなった老中首座を、姓名ともに漢字で答えなさい。

**問8** 下線部(ク)に関連して、鎌倉時代の武士について述べた文としてふさわしいものを、次の①～④の中からひとつ選んで番号で答えなさい。

- ① 東国武士の多くは、地頭に任命されることによって、所領の支配を将軍から保障された。
- ② 1万石以上の領地を持つ武士は大名とされ、親藩・譜代・外様の3種類に分けられた。
- ③ 富国強兵をおこなって自らの領地の強化につとめ、分国法を定めて支配を固めていった。
- ④ 守護に任命された武士は、任国を自らの領国のように支配するようになった。

**問9** 下線部(ケ)は、豊臣秀吉に仕えた槍<sup>やり</sup>の名手であり、朝鮮出兵の際にも活躍<sup>かつやく</sup>しました。1度目の朝鮮出兵は何とよばれていますか。日本における名称<sup>めいしょう</sup>を答えなさい。



**3** 次の国政選挙に関する【資料】を見て、あとの問いに答えなさい。

【資料】

じっし 実施日		衆議院議員総選挙	じっし 実施日		参議院議員通常選挙
2012年	12月16日	(ア) 第46回 総選挙	2013年	7月21日	(イ) 第23回 選挙
2009年	8月30日	(ウ) 第45回 総選挙	2010年	7月11日	第22回 選挙
2005年	9月11日	(エ) 第44回 総選挙	2007年	7月29日	(オ) 第21回 選挙
⋮			⋮		
1996年	10月20日	(カ) 第41回 総選挙	1992年	7月26日	(キ) 第16回 選挙

**問1** 下線部(ア)の選挙をめぐり、選挙区によって一票の投票価値が異なる問題について裁判がおこなわれてきました。2013年に最高裁判所の下した判決について述べた文としてふさわしいものを、次の①～④の中からひとつ選んで番号で答えなさい。

- ① 違憲状態とし、選挙無効の請求は退けた。
- ② 違憲状態とし、さらに選挙を無効とした。
- ③ 違憲とし、選挙無効の請求は退けた。
- ④ 違憲とし、さらに選挙を無効とした。

**問2** 下線部(イ)の選挙から、公職選挙法の改正によりインターネットを利用した選挙運動が可能となりました。この選挙の段階において公職選挙法で認められている選挙運動について述べた文として正しいものを、次の①～④の中からひとつ選んで番号で答えなさい。

- ① 有権者は、特定の候補者を当選させるために電子メールを用いて選挙運動をおこなうことができるようになった。
- ② 候補者は、選挙運動用のホームページを印刷して、有権者へ広く配ることができるようになった。
- ③ 政党や候補者は、ホームページや電子メールを用いて選挙運動をおこなうことができるようになった。
- ④ 未成年であっても、保護者の同意があればインターネットを利用した選挙運動をおこなうことができるようになった。

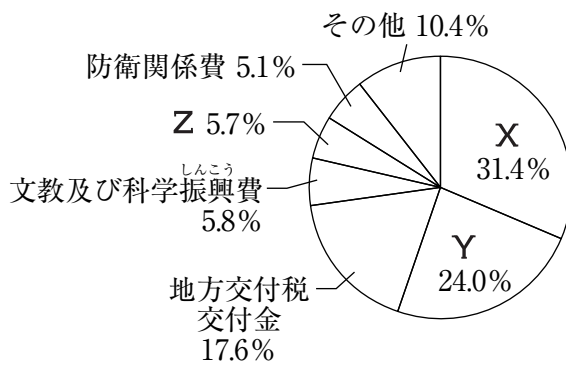
問3 下線部(ウ)の選挙後、最初に国会が召集された日付としてふさわしいものを、次の①～④の中からひとつ選んで番号で答えなさい。

- ① 2009年9月16日
- ② 2009年9月30日
- ③ 2009年10月16日
- ④ 2009年10月30日

問4 下線部(工)の選挙の結果、いわゆる「ねじれ国会」とよばれる状態が発生しました。「ねじれ国会」とは、どのような状態ですか。文章で説明しなさい。

問5 下線部(オ)の選挙ののち、小泉純一郎内閣は郵政民営化を実施しました。小泉純一郎内閣の政策には、他に「三位一体の改革」とよばれるものがあります。これは日本における国と地方公共団体の財政に関する改革であり、国の財政負担軽減を図ったものです。2013年度の日本の一般会計予算の歳出割合をあらわした【資料】中のX～Zにあてはまる語句の組み合わせとして最もふさわしいものを、次の①～⑥の中からひとつ選んで番号で答えなさい。

【資料】



(『日本国勢図会 2013/14年版』より作成)

- |             |           |           |
|-------------|-----------|-----------|
| ① X—社会保障関係費 | Y—公共事業関係費 | Z—国債費     |
| ② X—社会保障関係費 | Y—国債費     | Z—公共事業関係費 |
| ③ X—国債費     | Y—公共事業関係費 | Z—社会保障関係費 |
| ④ X—国債費     | Y—社会保障関係費 | Z—公共事業関係費 |
| ⑤ X—公共事業関係費 | Y—社会保障関係費 | Z—国債費     |
| ⑥ X—公共事業関係費 | Y—国債費     | Z—社会保障関係費 |

**問6** 下線部(力)に関連して、A・Bそれぞれの問いに答えなさい。

**A** 公職選挙法の改正により、この選挙から現在も衆議院議員総選挙の際に採用されている選挙制度が導入されました。この選挙制度を漢字で答えなさい。

**B** この選挙ののち、1997年4月1日、橋本内閣は消費税率を3%から5%へ引き上げました。日本の税制度について述べた文としてふさわしくないものを、次の①～④の中からひとつ選んで番号で答えなさい。

- ① 所得税は累進課税制度がとられ、所得の多い人ほど税率が高くなるというしくみになっている。
- ② 国税の直接税には、法人税や相続税、所得税などがある。
- ③ 間接税は所得水準に関係なく、税率が一定であるため、所得の高い人も低い人も所得に対する税負担の割合は一律である。
- ④ 国税の間接税には、酒税や関税、消費税などがある。

**問7** 下線部(キ)の選挙の直前に、自衛隊の海外派遣<sup>はけん</sup>を可能にした法律が成立しました。この法律を答えなさい。

