

算数は計算問題が2問、一行題、そして図形や関数などの大問から構成されています。配点は計算問題が各5点、一行題は5点が4問、6点が4問、大問は5点が2問、6点が6問となります。また記述式の問題を3問出題しています。その記述式の問題の採点では、まず答えがっているかを見ます。答えがっていない場合のみ、途中の考え方を見て、部分点を加えています。

① 基本的な計算問題です。

- (1) 計算の順序を的確に行えるかを見る問題です。答えは42です。
- (2) 小数と分数が入っているので、このような問題では分数に統一して計算します。答えは10です。

② 一行題（基本）です。

- (1) は相当算、(2) は割合、(3) は条件を整理する問題、(4) は立体の体積の問題です。
- 各問いの正答例は、(1) は60ページ、(2) は400 cm^2 、(3) は29人、(4) は150 cm^2 です。

③ 一行題（応用）です。

- (1) は図形の角度、(2) は食塩水、(3) は公約数、(4) は平均算の問題です。
- 各問いの正答例は、(1) は12度、(2) 120 g、(3) 16ヶ所、(4) 60点です。

(4) は平均算の問題で、検定試験の合格基準点を求める問題です。まず合格基準点より、合格者は10点平均点が高く、不合格者は20点平均点が低かったことから、合格者と不合格者の平均点の差は30点であることがわかります。

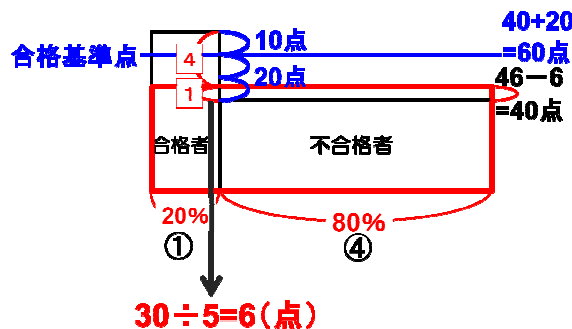
全体の平均点は46点で、受験者の20%が合格したことから、合格者と不合格者の比は1:4であることがわかります。

つまり、合格者と不合格者の平均点と全体の平均点との差は④:①となります。

合格者と不合格者の平均点の差は30点でしたので、①は、6点分に等しくなります。

よって、全体の平均点が46点だったので、不合格者の平均点は40点と求められます。

合格基準点はこれよりも20点高いので、求める答えは60点となります。



4は規則性の問題です。まず、十干・十二支を用いた干支の表し方を考えていきます。

昨年2010年は「庚寅」、今年2011年が「辛卯」、来年2012年が「壬辰」の年であることから、2013年は「癸巳」、2014年は「甲午」というように、十干は10年、十二支は12年の周期で成り立っています。よって、十干は西暦を10で割った余り、十二支は12で割ったときの余りに注目することによって、その年の干支を表すことができます。

(1) は2027年の干支を求める問題です。

2027を10で割ったときの余りは7、12で割ったときの余りは11であるので、答えは、「丁未」の年です。

10で割ったときの余り												
	4	5	6	7	8	9	0	1	2	3		
十干	甲	乙	丙	丁	戊	己	庚	辛	壬	癸		
十二支	子	丑	寅	卯	辰	巳	午	未	申	酉	戌	亥
	4	5	6	7	8	9	10	11	0	1	2	3
12で割ったときの余り												
2027 ÷ 10 = 202...7												
2027 ÷ 12 = 168...11												

(2) は甲子園球場が作られた年を答える問題です。

まず求める答えは、十干に注目して、10で割ったときの余りが4であることがわかります。20世紀前半で、10で割ったときの余りが4であるのは1904年、1914年、1924年、1934年、1944年の5つの年です。この中で12で割ったときの余りが4になるのは1924年のみです。よって答えは1924年です。

(3) は十干が10年、十二支が12年周期であることから、10と12の最小公倍数の60年で、一巡します。すなわち、答えは60種類になります。

5は水の体積の問題です。

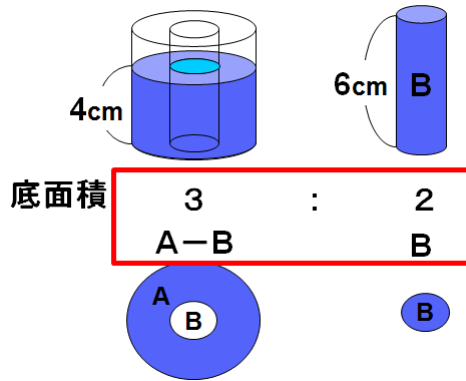
(1) は容器AとBの底面積の比を求める問題です。水面の深さに注目して考えていきます。

Bの容器いっぱいの水をAの容器に移し、その後Bの容器をAの中へ入れました。

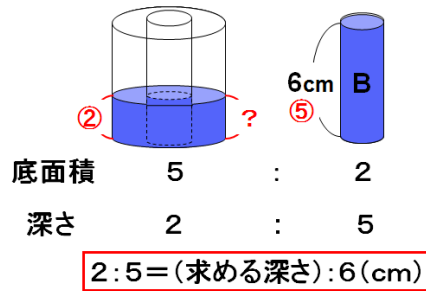
このとき水の深さは4cmになったそうです。この水はBの容器6cm分の水です。

すなわち、高さの比が4:6であることから、底面積の比は6:4つまり3:2であることがわかります。

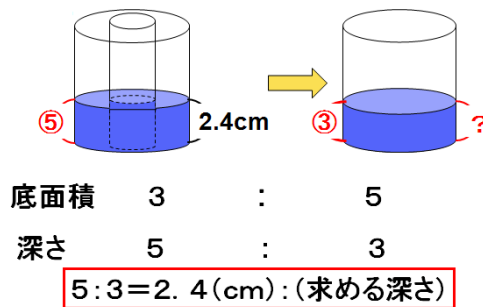
今 A の容器の水が入っている部分の底面積は、元の A から B の底面積を引いた分になっています。よって、これらのことから A と B の底面積の比は、5 : 2 となります。



(2) は (1) の状態から B を取り出し、A の水の一部を B へ戻した後、もう一度 B を A に入れると 同じ高さになったそうです。このときの容器 A の水は元々、容器 B いっぱいに入っていました。このときの容器 A と B の水が入っている部分の底面積の比は、(1) より 5 : 2 です。よって水の深さの比は、2 : 5 となります。B の容器は高さ 6 cm です。よって、求める答えは 2.4 cm です。



(3) は (2) の作業の後、容器 B を取り出す前と後の底面積比は、(1) (2) より 3 : 5 であることがわかるので、水の深さの比は 5 : 3 となります。よって、求める水の深さは 1.44 cm となります。



6は動く図形と面積のグラフの問題です。

(1)は図形Aの動く速さを求める問題です。

グラフよりAは12秒で18cm動いたこととなります。

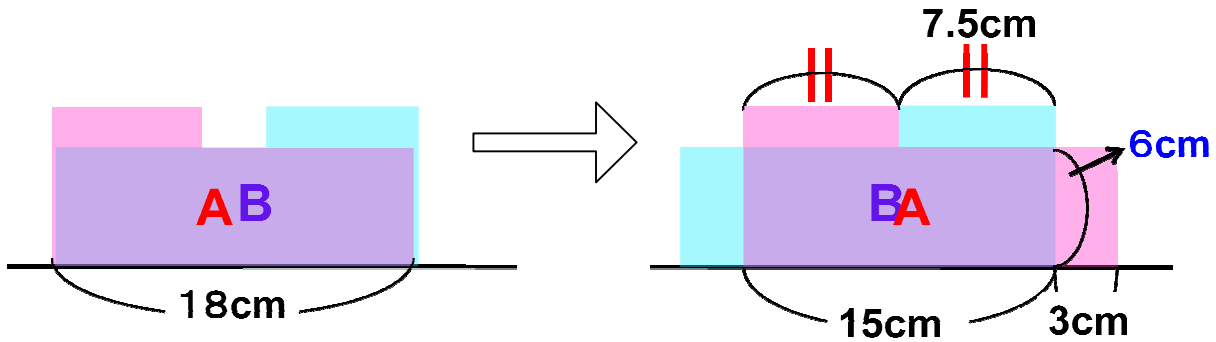
よって、求めるAの速さは、毎秒1.5cmとなります。

(2)はこの図形の面積を求める問題です。必要な辺の長さを求めていきます。

下図の左の状態から右の状態になるまでは、グラフより2秒間かかっているため、(1)よりAの動く速さは毎秒1.5cmだったことから、3cm動いたことがわかります。

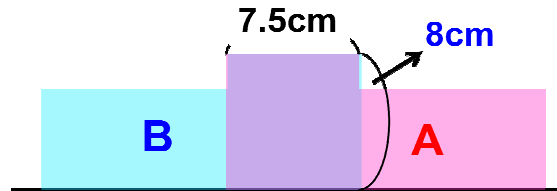
よって、重なっている部分の底辺は15cmとなります。

またAとBは同じ形で同じ大きさなので、上の辺の長さが7.5cmであることがわかります。

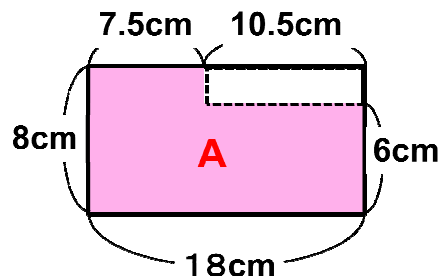


また、14秒後AとBの図形が重なっている部分の面積はグラフより 90 cm^2 であり、底辺の長さは15cmであるため、高さは6cmと求められます。

また、グラフより下図の状態の時の重なっている部分の面積は 60 cm^2 です。横の長さが7.5cmなので、縦の長さは8cmと求められます。



よってAの各辺の長さは下図のようになっていることがわかり、この面積は 123 cm^2 となります。



解説は以上です。