

# 2019年度 入試問題説明会

## 社 会

||||| **【注 意】** |||||

試験時間は理科とあわせて40分間です。

午前の部（10：10～10：50）

午後の部（14：40～15：20）

社会と理科両方の教科の問題を時間内に解いてください。

問題は1ページから10ページまでです。

解答はすべて解答用紙に記入してください。

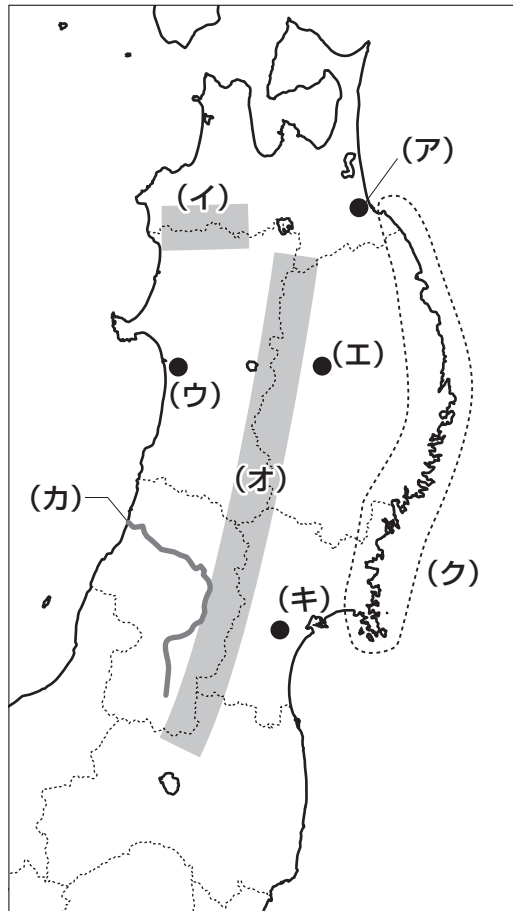
解答用紙に受験番号、氏名を記入してください。



洗足学園中学校

1 次の東北地方の【地図】を見て、あとの問いに答えなさい。

【地図】



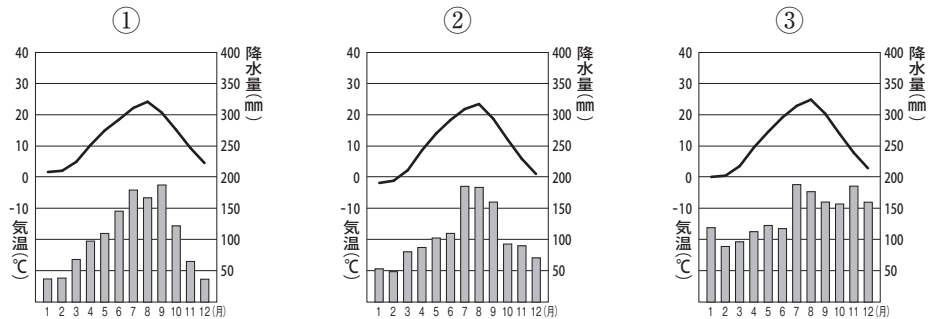
問1 【地図】中の(ア)は国内有数の水揚げ量みずあを誇る港です。これに関連して、青森県をはじめ、全国各地で漁業者たちによる植樹活動しょくじゆがおこなわれています。このような活動は漁業にどのような良い影響えいきやうを与えますか。文章で説明しなさい。

問2 【地図】中の(イ)は、日本最大規模のブナの原生林におおわれています。(イ)とともに1993年、日本で最初に世界自然遺産に登録されたものを、次のA～Dの中からひとつ選んでアルファベットで答えなさい。

- A 屋久島      B 富士山      C 小笠原諸島      D 釧路湿原

問3 次の【資料】中の①～③は、【地図】中の(ウ)・(エ)・(キ)の月別平均気温と降水量を示したものです。【資料】中の①～③と【地図】中の(ウ)・(エ)・(キ)の組み合わせとして正しいものを、次のA～Fの中からひとつ選んでアルファベットで答えなさい。

【資料】



(『理科年表 平成30年』より作成)

- |   |         |         |         |
|---|---------|---------|---------|
| A | ① - (ウ) | ② - (エ) | ③ - (キ) |
| B | ① - (ウ) | ② - (キ) | ③ - (エ) |
| C | ① - (エ) | ② - (ウ) | ③ - (キ) |
| D | ① - (エ) | ② - (キ) | ③ - (ウ) |
| E | ① - (キ) | ② - (ウ) | ③ - (エ) |
| F | ① - (キ) | ② - (エ) | ③ - (ウ) |

問4 【地図】中の(オ)の山脈付近では、再生可能エネルギーのひとつである地熱発電が盛んです。再生可能エネルギーとしてふさわしくないものを、次のA～Fの中からすべて選んでアルファベットで答えなさい。

- |   |      |   |    |   |       |
|---|------|---|----|---|-------|
| A | 風力   | B | 石油 | C | バイオマス |
| D | 天然ガス | E | 水力 | F | 太陽光   |

問5 [地図] 中の(力)の河川に関連して、次の(1)・(2)にそれぞれ答えなさい。

- (1) (力)の中流に位置する盆地では果樹栽培が盛んです。次の【資料】は、日本で生産される主な果実の都道府県別生産量とその割合(2016年)の上位5県を示したものです。ももを示しているものを、次のA~Dの中からひとつ選んでアルファベットで答えなさい。

【資料】

A			B		
	t	%		t	%
山梨	39,900	31.3	千葉	32,700	13.2
福島	29,300	23.0	茨城	24,800	10.0
長野	16,100	12.6	栃木	19,600	7.9
和歌山	9,870	7.8	福島	19,400	7.9
山形	9,180	7.2	鳥取	18,800	7.6
全国	127,300	100.0	全国	247,100	100.0

C			D		
	t	%		t	%
山梨	42,500	23.7	青森	447,800	58.5
長野	28,800	16.1	長野	142,100	18.6
山形	18,700	10.4	山形	45,700	6.0
岡山	14,900	8.3	岩手	43,800	5.7
福岡	8,020	4.5	福島	27,000	3.5
全国	179,200	100.0	全国	765,000	100.0

(『日本国勢図会 2018/19年版』より作成)

- (2) (力)の下流に広がる平野には、収穫した米を貯蔵する大型の倉庫がいくつかあります。【資料】のような、貯蔵の際の温度管理や出荷の際の梱すりなどをおこなう設備を備えた施設を何といいますか。カタカナで答えなさい。

【資料】



(JA 鶴岡 (鶴岡市農業協同組合) ホームページより)

問6 【地図】 中の(ク)の海岸では、大きな津波による被害をこれまで何度も受けています。また、近年は国内各地において豪雨などによる災害が多発しています。このような状況から防災や危機管理対策の一環として、被災想定区域や避難場所・避難経路などを表示した地図の作成・見直しが緊急の課題となっています。このような地図を何とといいますか。カタカナ7字で答えなさい。

**2** 原始・古代・中世・近世・近代・現代という時代区分は、人々の暮らしのあり方や社会のしくみによって、時代を大きくとらえ、歴史を六つに分ける方法です。

これらは、皆さんが社会科の授業で学んだように、さらに細かく区分することができます。縄文時代・弥生時代のように文明の特徴によって区分する方法、政治の中心地などで区分する方法、明治時代・大正時代というように元号で区分する方法などがあります。以下は、これらの方法で日本の歴史を区分したときの、それぞれの時代のキーワードをまとめた**歴史カード**を年代順に並べています。各カードを見て、あとの問いに答えなさい。ただし、**歴史カード㊸～㊾**は、年代順に並んでいません。

**歴史カード [1]**  
万葉集 平城京  
(ア) 天皇中心の国づくり  
壘田永年私財法

**歴史カード㊸**  
北条時政 六波羅探題  
元寇 (オ) 御家人

**歴史カード [2]**  
(イ) 平安京 摂関政治  
院政 平等院鳳凰堂

**歴史カード [7]**  
日清戦争 富国強兵  
産業革命 牛鍋

**歴史カード㊹**  
朱印船貿易 生類憐みの令  
(ウ) 幕藩体制の確立  
享保の改革

**歴史カード [8]**  
大正デモクラシー  
吉野作造 普通選挙法  
ベルサイユ条約

**歴史カード㊺**  
応仁の乱 金閣  
(エ) 一揆 勘合貿易

**歴史カード [9]**  
(カ) 高度経済成長  
太平洋戦争 日本国憲法  
東京オリンピック

**歴史カード㊻**  
大坂城 歌舞伎踊り  
天正遣欧少年使節  
千利休

問1 下線部(ア)に関連した出来事を述べた次の文①～③について、古いものから年代順に正しく並べたものを、次のA～Fの中からひとつ選んでアルファベットで答えなさい。

- ① 律令国家のしくみを定めた大宝律令がつくられた。
- ② 聖武天皇は、仏教の力で国を守り、不安を取り除くため、国ごとに国分寺をつくらせた。
- ③ 天智天皇のあとつぎをめぐる争いがあった。

- A ①-②-③                      B ①-③-②                      C ②-①-③  
D ②-③-①                      E ③-①-②                      F ③-②-①

問2 下線部(イ)について述べた文として正しいものを、次のA～Dの中からひとつ選んでアルファベットで答えなさい。

- A 桓武天皇は、仏教勢力が政治と結びつくことを防ぐため、平安京へ都を移した。
- B 平安京は現在の奈良県に位置することから、南都とよばれた。
- C 平安京の北側は左京、南側は右京とよばれた。
- D 平安京の中に庶民が立ち入ることは禁止されていた。

問3 下線部(ウ)に関連して、次の文章は、この時代に制定されたある法の一部を現代語に訳したものです。この法を漢字で答えなさい。

- 一、学問や武芸にひたすらはげむようにせよ。  
一、大名は幕府の許可なく、かつてに婚姻こんいんを結んではいけない。  
一、大名が自分の領地と江戸とを交代で住むように定める。毎年4月に江戸へ参勤せよ。  
一、新たに事をくわだて、同盟せいやくの誓約をしてはならない。

問4 下線部(エ)について述べた文として正しいものを、次のA～Dの中からひとつ選んでアルファベットで答えなさい。

- A 近江国の土倉や酒屋が中心となり、幕府に徳政令を要求する、正長の土一揆いけいがあった。
- B 加賀国では浄土宗の信徒が一向一揆いけいをおこした。
- C 山城国では武士や農民が協力して、守護大名である畠山氏の軍勢を追い出す国一揆いけいがあった。
- D 播磨国では米を買いしめた商人に対して、貧しい町人による百姓一揆いけいがあった。

問5 下線部(オ)に関連して、次の文章中の空欄  ・  にあてはまる語句をそれぞれ漢字で答えなさい。

將軍は、主人として御家人に対し、主に  に任命することによって先祖伝来の領地の支配を保障したり、新たな領地を与えたりしました。 は、莊園や公領ごとにおかれ、年貢の徴収・納入や土地の管理を担いました。この御恩に対して御家人は、京都や鎌倉の警備をつとめ、家来として  しました。この御恩と  による主人と家来の主従関係をもとに、住民や土地などを支配するしくみができました。

問6 下線部(カ)に関連して、1973年に中東でおきた戦争が、世界経済に「大きな混乱」をもたらしました。日本ではこの影響で、高度経済成長が終わりを迎えました。この経済的な「大きな混乱」のことを何といいますか。漢字で答えなさい。

問7 歴史カード㉔～㉞を、その内容の古いものから年代順に正しく並べたものを、次のA～Dの中からひとつ選んでアルファベットで答えなさい。

A ㉔-㉞-㉕-㉗

B ㉗-㉔-㉞-㉕

C ㉞-㉗-㉕-㉔

D ㉕-㉔-㉗-㉞



3 次の文章は、2018年5月17日の朝日小学生新聞に掲載された記事を抜粋したものです。これを読んで、あとの問いに答えなさい。なお、一部ふりがなを省略した部分があります。

ジャン NPO ってよく聞くけど、どんな団体？

山下記者 災害や環境、(ア)福祉までさまざまな社会の課題解決などに取り組む団体で、お金をもうけることを目的にしているよ。活動を後押しするNPO法(特定非営利活動促進法)ができて20年。NPOの数は5万を超え、私たちの生き方や考え方に影響を与えるほど存在感を増してきた。

ケン 何がきっかけになったの？

山下記者 二つの大震災だ。

ボン NPO法ができたのはいつ？

山下記者 1998年だよ。それまで市民団体は法的な地位を得にくく、事務所を借りるのも銀行口座を開くのも難しかった。変わるきっかけとなったのは、95年の(イ)だ。被災地にはのべ100万人以上のボランティアがかけつけて救援活動をした。「ボランティア元年」と呼ばれ、市民のパワーを見せつけた。

ジャン 震災での支援がきっかけなんだね。

山下記者 そうしたうねりが(ウ)国会を動かす。当時は自民、社会(後に社民)、さきがけの(エ)連立内閣。市民団体が党派を超えた議員と手を組み、自民党内の反対派を説得し、NPO法が成立した。

NPOへの「寄付控除」の仕組みも2001年に実現した。認定を受けたNPO(認定NPO法人)に寄付したら、寄付した金額の一部が、納めた税金から戻る仕組みだ。

ケン 11年の(オ)は影響しているの？

山下記者 多くのNPOが組織の柔軟さやアイデア、(カ)SNSを駆使して復興に活躍した。寄付も多く集まり、「寄付元年」と注目された。民主党政権のもとで、NPOが寄付の受け皿になりやすくなるよう、税金の制度が大幅に見直された。認定NPO法人はいまでは1千を超える。

この20年間の大きな変化の一つは、活動から利益を得る「事業型」NPOが増えたことだ。

ボン 利益を得ていいの？

山下記者 誤解されがちだが、NPOはお金もうけを目的とはしないが、活動で利益をあげていい。ただ、その利益を関係者で分け合っはいけない。次の事業の活動費として使うんだ。

(中略)

ケン 社会問題の解決に取り組むNPOもあるの？

山下記者 政治の場面でもNPOの存在感は増してきている。病気の子どもを預かる病児保育などを手がけるNPO「フローレンス」の駒崎弘樹代表理事は、障がいのある子どもの保育や赤ちゃんの養子縁組といった課題に、与野党の議員とともに取り組む。駒崎さんは「サービスのインフラ(設備や施設)を作りつつ、(キ)法律も変えていく。アクション(実際の活動)とボイス(意見を示すこと)の両方の役割を求められているのが、現在のNPOだ」と話す。

問1 下線部(ア)に関連して、日本の社会保障制度について述べた文として誤っているものを、次のA～Dの中からひとつ選んでアルファベットで答えなさい。

- A すべての日本国民は医療保険に加入しなければならない。
- B 満40歳以上のすべての日本国民は介護保険に加入しなければならない。
- C 社会保障関係費のうち、公的扶助にあてる費用の割合が最も高い。
- D 少子高齢化が進むことにより、社会保障関係費は増大することが見込まれている。

問2 空欄(イ)・(オ)にあてはまる語句の組み合わせとして正しいものを、次のA～Fの中からひとつ選んでアルファベットで答えなさい。

- |   |     |          |     |          |
|---|-----|----------|-----|----------|
| A | (イ) | - 関東大震災  | (オ) | - 東日本大震災 |
| B | (イ) | - 関東大震災  | (オ) | - 阪神大震災  |
| C | (イ) | - 東日本大震災 | (オ) | - 関東大震災  |
| D | (イ) | - 東日本大震災 | (オ) | - 阪神大震災  |
| E | (イ) | - 阪神大震災  | (オ) | - 東日本大震災 |
| F | (イ) | - 阪神大震災  | (オ) | - 関東大震災  |

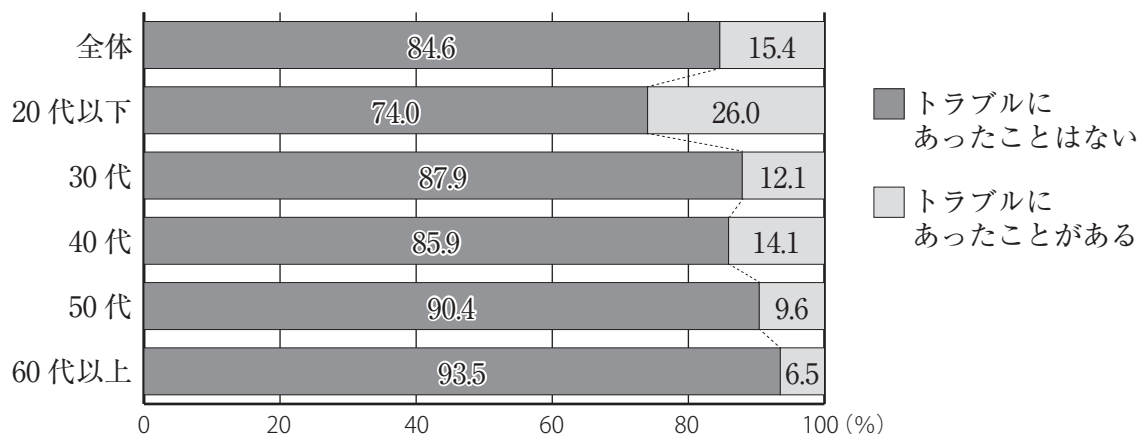
問3 下線部(ウ)の仕事としてふさわしいものを、次のA～Dの中からひとつ選んでアルファベットで答えなさい。

- A 国政調査
- B 裁判官の任命
- C 条約の締結
- D 天皇の国事行為に対しての助言と承認

問4 下線部(エ)とはどのような内閣のことですか。文章で説明しなさい。

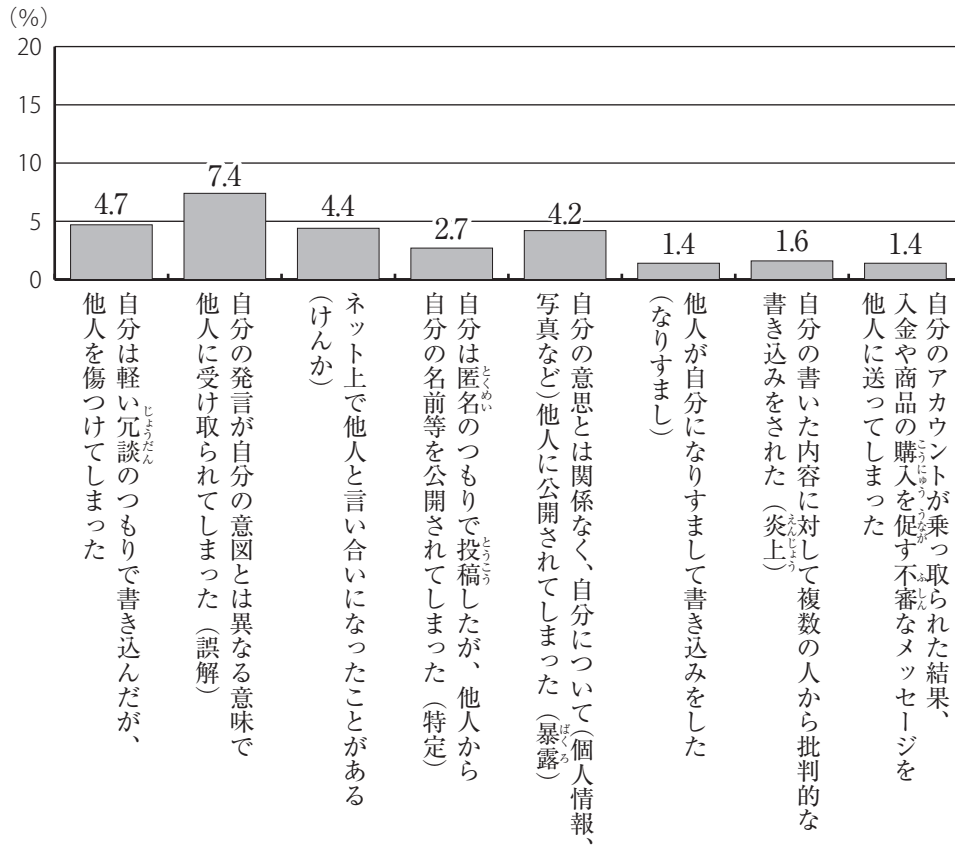
問5 下線部(カ)とは、ソーシャルネットワーキングサービスの略で、登録された利用者同士が交流できるウェブサイトの会員制サービスのことです。次の【資料1】・【資料2】は総務省による、SNSの利用に関する意識調査の結果を示したものです。これらから読み取れる内容として最もふさわしいものを、次のA～Dの中からひとつ選んでアルファベットで答えなさい。

【資料1】 SNS上でのトラブル経験の有無(年代別)



[資料2]

SNS上でのトラブル経験の内容



(総務省「社会課題解決のための新たなICTサービス・技術への人々の意識に関する調査研究」(平成27年)より作成)

- A 年代が上がるほど、トラブルにあったことがある人が増える傾向にある。
- B 20代以下では、回答者の4分の1以上が「トラブルにあったことがある」と回答している。
- C SNS上では、自分の本意と異なるように解釈されることはない。
- D 自身のアカウントに他人がログインしてしまうことはない。

問6 下線部(キ)に関連して、国会で法律案を審議する過程において、専門家やその法律に影響を受ける人から意見を聴くために開く会合を漢字で答えなさい。

