

- 1** みなさんは自分が住んでいる地域の「地名」を調べたことはありますか。「地名」からはさまざまなことがらを読み取ることができます。これについて、あとの問いに答えなさい。

問1 洗足学園中学校は「神奈川県」に位置しています。この「神奈川県」という都道府県名には「川」という地形を表す漢字が含まれていますが、こうした地形を表す漢字を含んだ都道府県について、次の(1)・(2)にそれぞれ答えなさい。

(1) 名前に「川」がつく都道府県は、「神奈川県」以外にいくつありますか。数字で答えなさい。

(2) 「新潟県」について述べた次の文章を読んで、空欄 **X** ~ **Z** にあてはまる語句をそれぞれ漢字で答えなさい。

「新潟県」には「潟」という漢字が含まれています。この地名の由来には諸説ありますが、長野県を源流とする **X** 川と、福島県や群馬県を源流とする **Y** 川が土砂を堆積させて **Z** 平野を形成する過程でさまざまな湖沼が生まれ、それらが「潟」とよばれてきたことと関係すると考えられています。


問2 市町村名には、「ひらがな」や「カタカナ」が含まれるものが存在します。これについて、次の(1)・(2)にそれぞれ答えなさい。

(1) 埼玉県の「さいたま市」は、政令指定都市の中で唯一の「ひらがな市」です。次のA~Dの政令指定都市のうち、2019年時点でさいたま市よりも人口が少ないものをひとつ選んでアルファベットで答えなさい。

A 静岡市 **B** 横浜市 **C** 神戸市 **D** 札幌市

(2) 山梨県の「南アルプス市」は、日本で唯一の「カタカナ市」です。この市が位置する山梨県では果物栽培が盛んです。次の【資料】は、みかん、りんご、ぶどう、ももの都道府県別のとれ高の割合（2018年）を示したもので、【資料】中のA~Dは、山梨県、長野県、青森県、和歌山県のいずれかです。山梨県を示したものを、【資料】中のA~Dの中からひとつ選んでアルファベットで答えなさい。

【資料】



(矢野恒太記念会『日本国勢図会 2020/21年版』より作成)

問3 市町村名が企業の名前からつけられることもあります。愛知県の豊田市は「トヨタ自動車」と同社の創業者一族の姓である「豊田」に由来しています。トヨタ自動車をはじめ、日本の自動車メーカーの多くは、海外でも生産台数を増やしています。これに関連して、次の(1)・(2)にそれぞれ答えなさい。

(1) 次の【資料】は、日本の自動車メーカーによる海外での自動車の生産台数の推移を示したもので、【資料】中のA～Dは、アジア、ヨーロッパ、北アメリカ、アフリカのいずれかです。アジアを示したものを、【資料】中のA～Dの中からひとつ選んでアルファベットで答えなさい。

【資料】

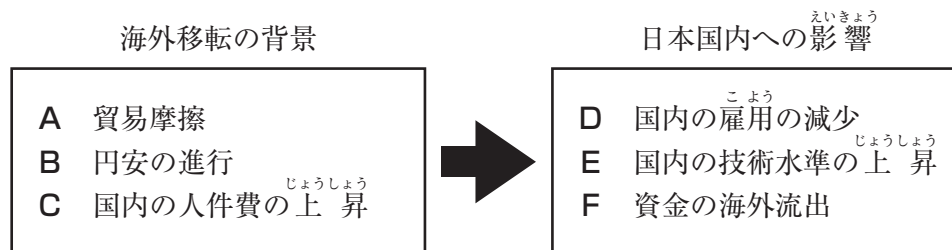
(単位：千台)

	1990年	2000年	2010年	2015年	2019年
A	952	1,678	7,127	9,472	10,850
B	227	953	1,356	1,669	1,638
C	1,570	2,992	3,390	4,823	4,407
中南アメリカ	161	388	982	1,821	1,746
D	186	146	206	218	212
オセアニア	169	131	119	92	—
計	3,265	6,288	13,182	18,095	18,853

(矢野恒太記念会『日本国勢図会 2020/21年版』より作成)

(2) 自動車メーカーに限らず、さまざまな日本企業が工場を海外に移しています。次の【資料】は、日本企業が工場を海外に移転させる背景と、それによる日本国内への影響をまとめたものです。これに関連することがらとしてふさわしくないものを、【資料】中のA～Fの中から2つ選んでアルファベットで答えなさい。

【資料】



問4 地名はその地域の歴史とも関係します。北海道の地名はアイヌの言葉、沖縄の地名は琉球の言葉に由来するものが多くあります。地名の由来とその地域の説明をした文のうち、下線部が誤っているものを、次のA～Dの中からひとつ選んでアルファベットで答えなさい。

- A 「札幌」はアイヌの言葉で「サツ・ポロ・ベツ（乾く・大きい・川）」に由来すると考えられる地名である。北海道庁が置かれており、中心部の街路は碁盤の目のように規則正しく区画されている。
- B 「知床」はアイヌの言葉で「シリ・エトク（地面の・出っぱった先端）」に由来すると考えられる地名である。世界最大級のブナの原生林が広がることから世界自然遺産に登録されている。
- C 「那覇」は琉球の言葉で「ナバ（キノコ、もしくは漁場）」に由来すると考えられる地名である。沖縄県庁が置かれており、高温多湿な亜熱帯性の気候がみられる。
- D 「辺野古」は琉球の言葉で「フィヌク（村落発見の伝え話に火（フィ）が出てくるとされる）」に由来すると考えられる地名である。アメリカ海兵隊普天間飛行場の移転のための埋め立て工事がおこなわれている。

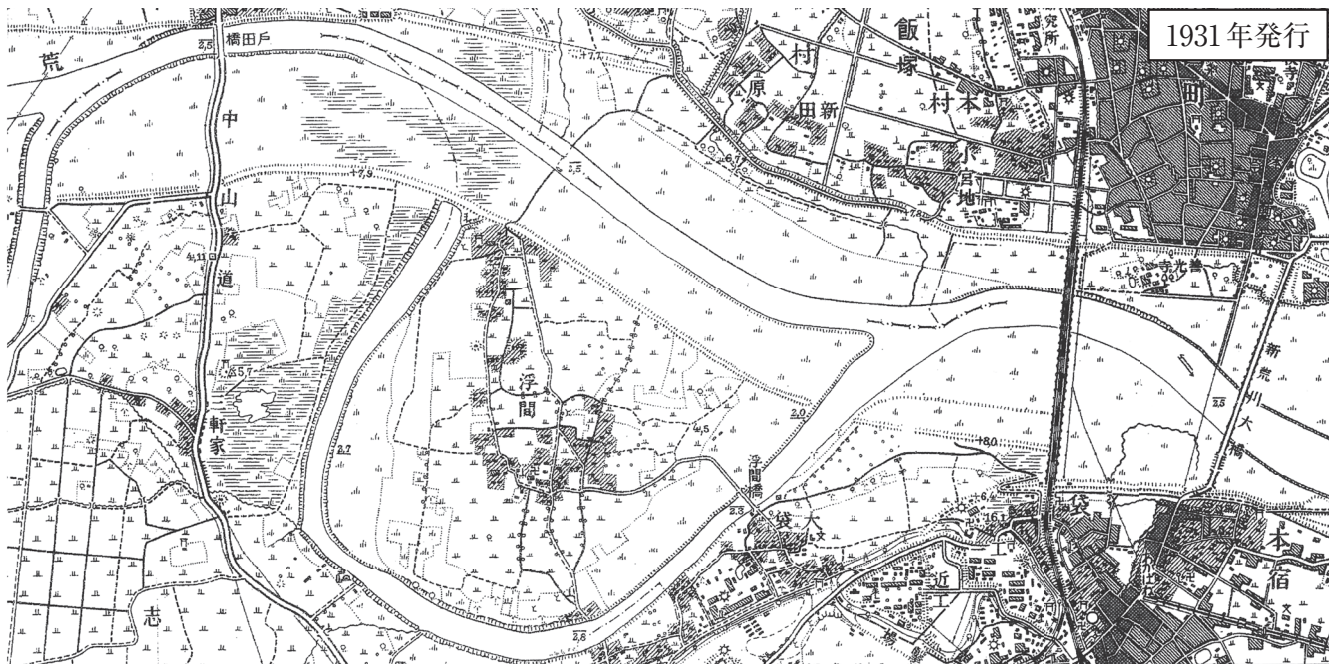
問5 JR埼京線には「浮間舟渡駅」があります。この駅は東京都北区「浮間」と板橋区「舟渡」にまたがる場所に位置します。「浮間」も「舟渡」も河川と関係する地名であり、付近には荒川が流れています。次のページの【地図】は浮間舟渡駅周辺の1919年、1931年、1967年、1993年発行の2万5千分の1の地形図（一部改変）です。これについて、次の(1)・(2)にそれぞれ答えなさい。

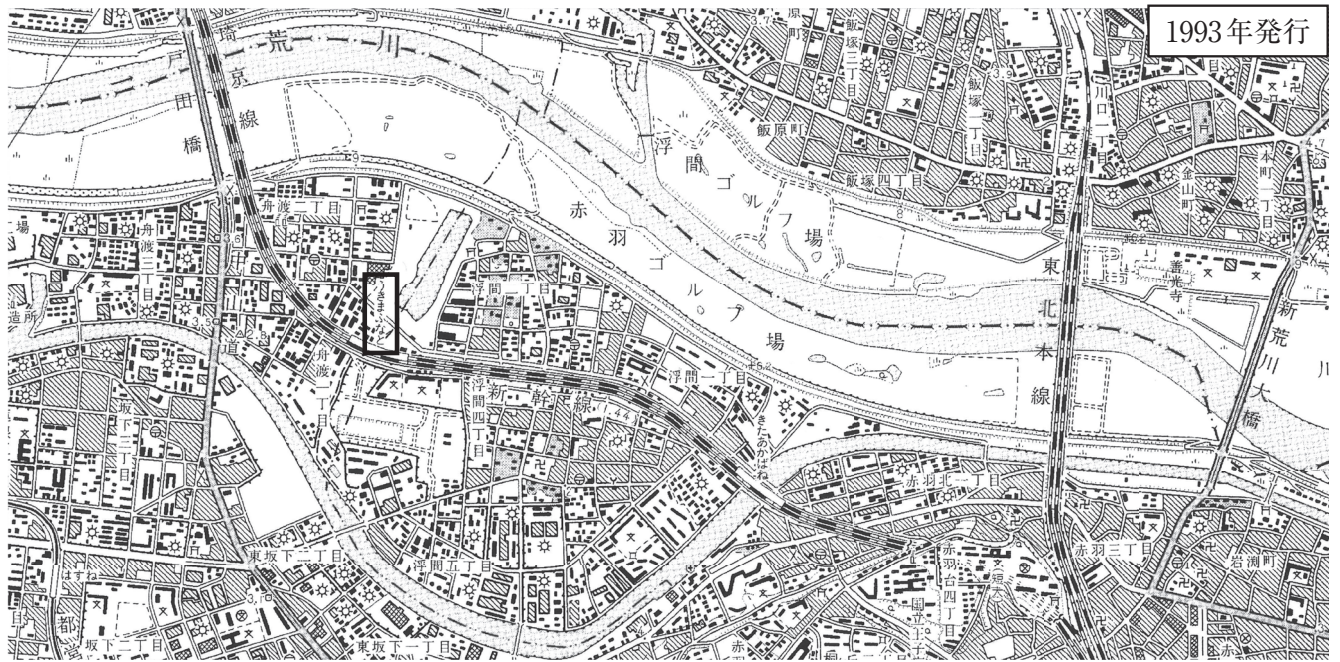
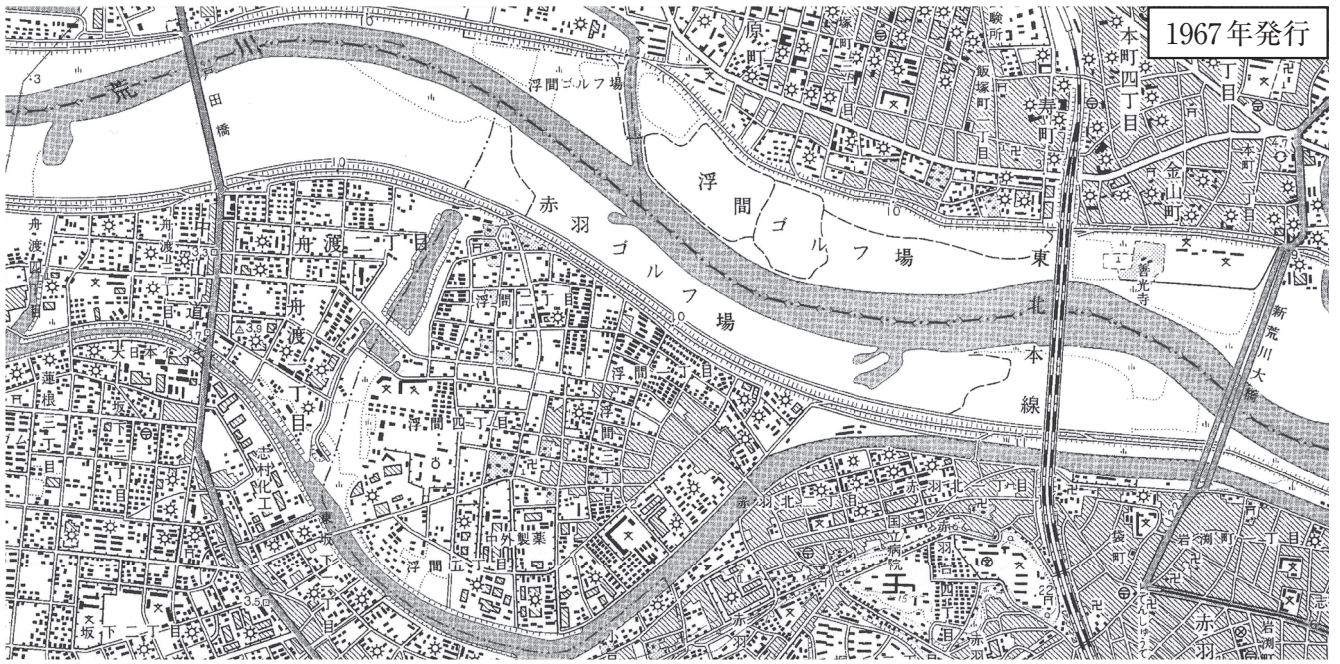
(1) 【地図】から読み取れることとしてふさわしくないものを、次のA～Dの中からひとつ選んでアルファベットで答えなさい。

- A JR東北本線に乗車して北を目指すとき、1919年発行の地形図では、荒川を渡る鉄道橋の手前に桑畑が広がっていたが、1931年発行の地形図では、桑畑がみられなくなっている。
- B この地図の東部に位置する新荒川大橋は、1960年代に建設されたと考えられ、この橋を渡ることで岩淵町から埼玉県に入ることができる。
- C 高度経済成長期には、荒川流域で複数の工場をみることができ、河川敷にはゴルフ場も整備されていることがわかる。
- D JR埼京線や新幹線は、1967年から1993年の間に建設されたと考えられ、1993年発行の地形図をみると、戸田橋と並行する鉄道橋を渡って荒川を渡っている。

(2) 「浮間」地区は、かつては埼玉県に区分されていました。「浮間」地区が埼玉県から東京都に編入された理由として考えられることを、【地図】を参考に文章で説明しなさい。

[地図]





(国土地理院発行 2万5千分の1地形図より作成)

2 ^{こよみ} 暦について調べた園子さんのレポートを読んで、あとの問いに答えなさい。

「ねずみ年」や「うし年」など、下の表に示した十二支を使って年を表す方法が、古くから用いられてきました。江戸時代の将軍、(ア) 徳川綱吉は、自身が戊年生まれであったことから、動物愛護に力を入れていたという話も残っています。十二支は、近年でも年賀状のイラストなどに用いられており、現代を生きる我々にとっても身近なものになっています。また、年だけではなく、(イ) 日付や時間を表すためにも使われてきました。昼の12時を正午というのは、その時間帯が「午の刻」と表されていたことに由来しています。

	し	ちゅう	いん	ぼう	しん	し	ご	び	しん	ゆう	じゅつ	がい
	ね	うし	とら	う	たつ	み	うま	ひつじ	さる	とり	いぬ	い
十二支	子	丑	寅	卯	辰	巳	午	未	申	酉	戌	亥

この十二支と下の表に示した十干^{じっかん}を組み合わせて表す方法を、干支^{えと}といいます。十干^{じっかん}も、十二支と同じように月日などにあてはめて、古くから使われてきた表現です。

	こう	おつ	へい	てい	ぼ	き	こう	しん	じん	き
	きのえ	きのと	ひのえ	ひのと	つちのえ	つちのと	かのえ	かのと	みずのえ	みずのと
十干	甲	乙	丙	丁	戊	己	庚	辛	壬	癸

例えば、2021年の十干^{じっかん}は「(ウ) 辛^{かのと}」、十二支は「丑^{うし}」にあたるので、ふたつを組み合わせ、干支^{えと}は「辛丑^{かのとうし}」と表します。同じように、2022年は「壬寅^{みずのえとら}」にあたります。60歳^{さい}になると還暦^{かんれき}のお祝いをするのは、この十干^{じっかん}と十二支の組み合わせが、60年で1周するからです。

干支^{えと}が使われている例を挙げてみましょう。645年に、中大兄皇子が中臣鎌足と協力して蘇我入鹿を殺害した出来事^{いっし}を、乙巳^{いっし}の変^{きのと}といいます。645年は十干^{じっかん}が「乙」、十二支が「巳」にあたることから、このようによばれています。また、天智天皇の後継ぎをめぐる争いは、672年の干支^{えと}から、壬申^{みずのえとら}の乱とよばれています。(エ) 豊臣秀吉による朝鮮出兵は、日本では当時の年号をとって文禄の役・慶長の役といいますが、干支^{えと}を用いていた朝鮮では、壬辰倭乱^{じんしんわらん}・丁酉倭乱^{ていゆうわらん}とよんでいます。1838年、高野長英は『戊戌夢物語』を著し、幕府の政策を批判したとして処罰^{じょばつ}されることとなりました。その30年後、同じく「戊」の年である1868年には、新政府軍と旧幕府軍が対立する戊辰戦争^{つちのえ}が起こっています。明治期に朝鮮半島で起こった甲午農民戦争は、(オ) 戦争^{せんそう}のきっかけになりました。

また、干支^{えと}は日付や年代を表すために用いられるとともに、占いにも使われました。律令制度においては、陰陽寮^{おんようのつかさ}という役所がおかれ、暦^{こよみ}や占いの管理をおこなっていました。特に(カ) 平安時代^{こよみ}には、暦^{こよみ}や天文観察、占いなどにより、おこないの吉凶^{きつきょう}を判断する陰陽道^{おんみょうどう}が発達し、暦^{こよみ}が貴族の生活と密接に関わるようになりました。

その後、明治期に入ると、干支^{えと}にまつわる言い伝えは、迷信であると考えられることが多くなりました。しかし、(キ) 大正・昭和期^{こよみ}に入っても、(ク) 「丙午^{ひのえうま}の年に生まれた女性^{じょうきょう}は気性が激しく、夫の命を縮める」という迷信が出生状況^{じょうきょう}を大きく左右するなど、干支^{えと}は社会に影響^{えいきょう}を与えていたようです。

問1 下線部(ア)について述べた文としてふさわしくないものを、次のA～Dの中からひとつ選んでアルファベットで答えなさい。

- A 財政悪化への対応として、貨幣の質を落とした。
- B 江戸の湯島に、孔子をまつる湯島聖堂を建てた。
- C 儒学を幕府の学問とすることを決め、寛政異学の禁を発した。
- D 網吉のころに栄えた文化は、当時の年号をとって元禄文化とよばれる。

問2 下線部(イ)に関連して、次の【史料】は、「ある天皇」の政策について記したものであり、「乙巳」が日付を表すものとして用いられていたことが分かっています。「ある天皇」を漢字で答えなさい。

【史料】

(天平十三年三月) 乙巳、天皇は次のように述べられた。「近ごろは不作続きで、病も流行している。(略)そこで、諸国に命じて、国ごとに七重塔をつくり、経典を写させよ。仏法の繁栄が天地ともに永く続き、仏の加護がいつまでも満ちているようにと願う。(略)」

※史料は、現代語訳・意識し、一部省略した部分があります。

問3 下線部(ウ)の年に起こった出来事について述べた文①～③の、下線部の内容の正誤の組み合わせとして正しいものを、下のA～Hの中からひとつ選んでアルファベットで答えなさい。

- ① 足利義満が、明に使者を派遣して国交を開いた。
- ② 後鳥羽上皇が、源実朝を倒して政治の実権を取り戻すために挙兵した。
- ③ 織田信長が、一向宗の中心寺院である比叡山延暦寺を焼打ちした。

- | | | | | | | | |
|---|-----|-----|-----|---|-----|-----|-----|
| A | ①-正 | ②-正 | ③-正 | B | ①-正 | ②-正 | ③-誤 |
| C | ①-正 | ②-誤 | ③-正 | D | ①-正 | ②-誤 | ③-誤 |
| E | ①-誤 | ②-正 | ③-正 | F | ①-誤 | ②-正 | ③-誤 |
| G | ①-誤 | ②-誤 | ③-正 | H | ①-誤 | ②-誤 | ③-誤 |

問4 下線部(工)による政権がおこなった土地調査事業を何といいますか。漢字4字で答えなさい。

問5 空欄(オ)にあてはまる語句を漢字で答えなさい。

問6 下線部(力)に起こった出来事について述べた文として正しいものを、次のA～Dの中からひとつ選んでアルファベットで答えなさい。

- A 菅原道真が、遣唐使派遣の停止を提案した。
- B 藤原純友の反乱を平清盛が鎮圧したことをきっかけに、平氏が台頭した。
- C 犬上御田鎌が征夷大將軍に任命され、東北地方の蝦夷討伐を進めた。
- D 保元の乱において平氏に敗北した源頼朝が、伊豆へ流された。

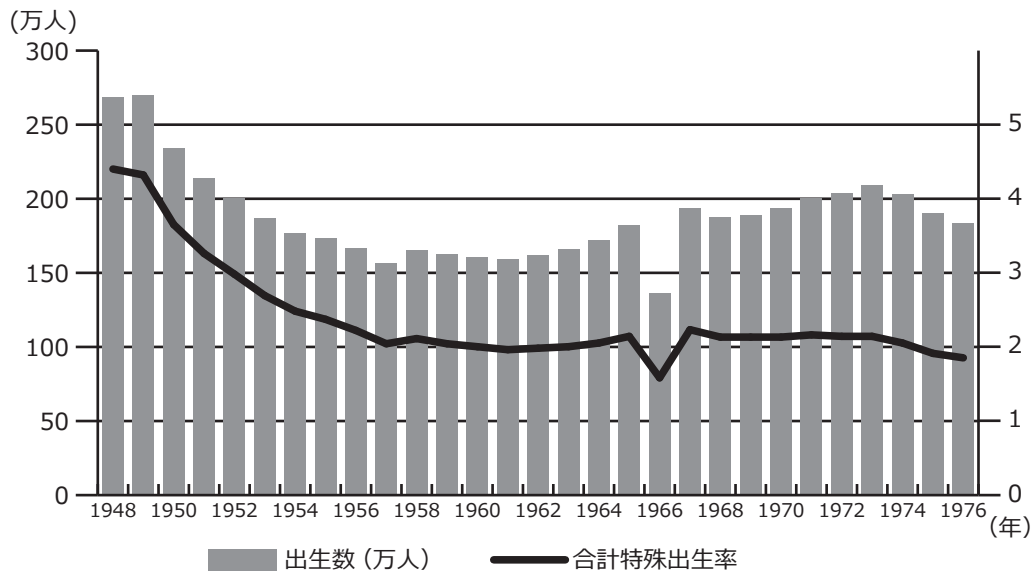
問7 下線部(キ)に起こった出来事について述べた文①～③を、古いものから年代順に正しく並べたものを、次のA～Fの中からひとつ選んでアルファベットで答えなさい。

- ① 共産主義の思想が広がることを防ぐため、治安維持法が制定された。
- ② 北京郊外の盧溝橋で、日本軍と中国軍が衝突した。
- ③ 日本は、中国に対して、二十一カ条の要求をおこなった。

- A ① - ② - ③ B ① - ③ - ② C ② - ① - ③
- D ② - ③ - ① E ③ - ① - ② F ③ - ② - ①

問8 下線部(ク)に関連して、次の【資料】は1948年から1976年までの日本における出生数と合計特殊出生率の推移を示したものです。【資料】中の丙午の年よりあとに起こった出来事としてふさわしいものを、下のA～Dの中からひとつ選んでアルファベットで答えなさい。

【資料】



(厚生労働省「人口動態統計」より作成)

- A 日ソ共同宣言が結ばれ、日本の国際連合への加盟が実現した。
- B 日米安全保障条約の改定をめぐり、安保闘争が起こった。
- C 第四次中東戦争の影響によって、石油危機が起こった。
- D 北朝鮮軍が韓国に攻め込み、朝鮮戦争が始まった。

問9 園子さんは、1872年につくられた戸籍の通称つうしょうにも、その年の干支えとが使われていることを知りました。園子さんと、友人の花子さんは、この戸籍の通称つうしょうを知らなかったため、それぞれ異なる方法で1872年の干支えとを考えました。これについて、次の(1)・(2)にそれぞれ答えなさい。

園子さん	基準	1868年が「戊辰」にあたることを基準にする。
	考え方	1872年はその4年後 <small>じっかん</small> なので、十干・十二支はともに4つずつ進む。
	結論	よって、1872年の干支 <small>えと</small> は、 <input type="text" value="X"/> であると考えられる。
花子さん	基準	<input type="text" value="Y"/> 年が <input type="text" value="X"/> にあたることを基準にする。
	考え方	<input type="text" value="Z"/>
	結論	よって、1872年の干支 <small>えと</small> は、 <input type="text" value="X"/> であると考えられる。

(1) 文中の空欄 にあてはまる干支えとと にあてはまる年代の組み合わせとしてふさわしいものを、次のA～Dの中からひとつ選んでアルファベットで答えなさい。

- | | | | | |
|---|--------------------------------|---------------------------|--------------------------------|--------|
| A | <input type="text" value="X"/> | - 乙巳 <small>いっし</small> | <input type="text" value="Y"/> | - 645 |
| B | <input type="text" value="X"/> | - 壬申 <small>じんしん</small> | <input type="text" value="Y"/> | - 672 |
| C | <input type="text" value="X"/> | - 戊戌 <small>ぼじゅう</small> | <input type="text" value="Y"/> | - 1838 |
| D | <input type="text" value="X"/> | - 辛丑 <small>しんちゆう</small> | <input type="text" value="Y"/> | - 2021 |

(2) 園子さんの「考え方」を参考にして、空欄 にあてはまる考え方を文章で説明しなさい。

3 次の文章は、2020年7月22日の朝日新聞（朝刊）に掲載された記事です。これを読んで、あとの問いに答えなさい。なお、一部ふりがなをつけた部分があります。

(ア) 女性リーダーを各分野で3割にする目標を、日本は17年かけても達成できなかった。少しずつ変化は起きているが、自主的な取り組みに委ねる面が大きく、(イ) 平等に向けて意識的に変化のアクセルを踏み込む諸外国から取り残されつつある。

日本の(ウ) 国会議員（衆院）や企業の女性管理職の割合は、17年の間に少しずつ増えているが、依然1割ほどにとどまる。一方、(エ) 英国やフランス、ドイツなど主な先進国は、すでに3～4割になっている。

最大の違いは、(オ) 政党や企業の自主性に任せず、クォータ（割り当て）と呼ばれるルールを法律などで作って女性の割合を確保する手法が定着していることだ。

議員選挙では120以上の国で、候補者や当選者について「どちらの性も40%を下回らない」などと法律で定めたり、政党が自主ルールを設けたりしている。企業の役員についても、ノルウェーやオランダ、フランスなど、法律でクォータを導入している国がある。

クォータ導入の背景にあるのは、自主性や時間の経過に委ねては平等が実現できないため、積極的な改善措置が必要だとの発想だ。自民党の二階俊博幹事長は21日の記者会見で、目標未達成について問われ、「あくまで努力目標ですから。今後に期待したい」。世耕弘成参院幹事長は「経験を積み、候補者になる人の層が厚くなって初めて指導的地位に就く女性が増えてくる」と述べた。

日本も、16年には企業に女性管理職を増やす計画づくりを義務づける女性活躍推進法が、18年には政党に候補者を出来る限り男女同数にするよう求める政治分野における男女共同参画推進法が施行されたが、共に強制力はない。クォータ導入の機運も低く、二階幹事長は「割合を決めて無理無理そこに押しこんでいくようなことは」。日本商工会議所の三村明夫会頭は「女性の役員比率を増やすことは必要だが、（クォータは）逆差別になる。能力とは関係ない人たちを役員につけることになり、すべきではない」と話す。

(カ) 国連の(キ) 女性差別撤廃委員会で委員長を務めた林陽子弁護士は、日本は「世界から周回遅れ」とし、「先進国の中には、国会に法案や(ク) 予算案を(イ) 視点でチェックする委員会を常設し、その審査を通らないと審議しない国もある。日本もそのくらい本気でやるべきだ」と話す。

問1 下線部(ア)に関連して、次の【資料】は、2020年10月末の時点で政治分野における指導的地位に就いている女性の人数を示しています。それぞれの地位において女性の占める割合が最も高いものを、【資料】中のA～Dの中からひとつ選んでアルファベットで答えなさい。

【資料】

	地位	女性の人数
A	衆議院議員	46人
B	参議院議員	56人
C	都道府県知事	2人
D	政令指定都市市長	2人

(衆議院、参議院、全国知事会、指定都市市長会 各ホームページより作成)

問2 空欄(イ)には、社会的・文化的につくられる性別を意味する語句があてはまります。その語句をカタカナで答えなさい。

問3 下線部(ウ)は、日本国憲法第41条において、「国の唯一の立法機関」とされています。国家権力を立法権・行政権・司法権の3つに分け、それぞれ別々の機関に担当させ、互いに牽制しあう仕組みを三権分立といいます。国会がもつ立法権は法律を制定する権限ですが、行政権・司法権はどのような権限ですか。それぞれ「法律」という語句を用いて、文章で説明しなさい。

問4 下線部(エ)について述べた文①～③の内容の正誤の組み合わせとして正しいものを、次のA～Hの中からひとつ選んでアルファベットで答えなさい。

- ① 1972年の国連人間環境会議は、イギリスの首都で開催された。
- ② イギリスは、国連安全保障理事会の非常任理事国を何度も務めている。
- ③ イギリスは、2019年にEU(ヨーロッパ連合)を離脱した。

- | | |
|---------------|---------------|
| A ①-正 ②-正 ③-正 | B ①-正 ②-正 ③-誤 |
| C ①-正 ②-誤 ③-正 | D ①-正 ②-誤 ③-誤 |
| E ①-誤 ②-正 ③-正 | F ①-誤 ②-正 ③-誤 |
| G ①-誤 ②-誤 ③-正 | H ①-誤 ②-誤 ③-誤 |

問5 下線部(オ)に関連して、この記事が掲載されたときの日本における与党を、次のA～Fの中からすべて選んでアルファベットで答えなさい。

- | | | |
|----------|---------|---------|
| A 自由民主党 | B 立憲民主党 | C 公明党 |
| D 日本維新の会 | E 日本共産党 | F 国民民主党 |

問6 下線部(力)にはさまざまな機関があります。次の文①～③は、UNESCO、WFP、WHOのいずれかについて説明したものです。①～③と機関名の組み合わせとして正しいものを、下のA～Fの中からひとつ選んでアルファベットで答えなさい。

- ① 教育・科学・文化を通じて国際協力を促進^{そくしん}して、世界平和を目指している。
- ② 紛争や自然災害が発生した地域に対して食料支援^{しえん}をおこなうなどして、飢餓のない世界を目指している。
- ③ 感染症^{かんせんしょう}の撲滅^{ぼくめつ}や各国の保健制度の強化などにより、世界中の人々の健康増進を目指している。

- | | | | |
|---|------------|------------|------------|
| A | ① - UNESCO | ② - WFP | ③ - WHO |
| B | ① - UNESCO | ② - WHO | ③ - WFP |
| C | ① - WFP | ② - UNESCO | ③ - WHO |
| D | ① - WFP | ② - WHO | ③ - UNESCO |
| E | ① - WHO | ② - UNESCO | ③ - WFP |
| F | ① - WHO | ② - WFP | ③ - UNESCO |

問7 下線部(キ)は2016年、国連女性差別撤廃条約の実施^{じっし}状況^{じょうきょう}に関する第7回および第8回日本政府報告書に対する最終見解を発表しました。次の文章は、その一部を日本語訳したものです(一部ふりがなをつけた部分があります)。空欄 にあてはまる法律を、下のA～Dの中からひとつ選んでアルファベットで答えなさい。

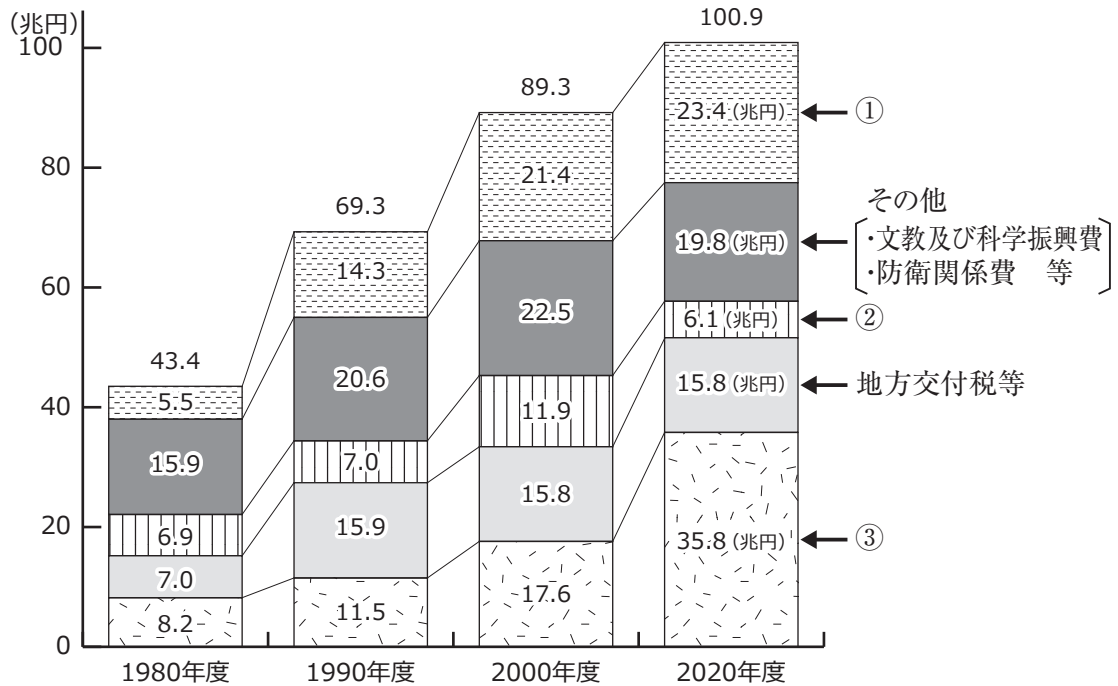
12. 委員会は、既存^{きそん}の差別的な規定に関する委員会のこれまでの勧告^{かんこく}への対応がなかったことを遺憾^{いかん}に思う。委員会は特に以下について懸念^{けんねん}する。
- (a) 女性と男性にそれぞれ16歳と18歳の異なった婚姻^{こんいん}適齢^{てきれい}を定めているように が差別的な規定を保持していること
 - (b) 期間を6か月から100日に短縮すべきとする最高裁判所の判決にもかわらず、 が依然として女性のみ^{りこん}に離婚後の再婚^{さいこん}を一定期間禁止していること
 - (c) 2015年12月16日に最高裁判所は夫婦同氏を求めている 第750条を合憲と判断したが、この規定は実際には多くの場合、女性に夫の姓^{せんたく}を選択せざるを得なくしていること

(内閣府男女共同参画局ホームページより)

- A 憲法 B 刑法 C 民法 D 男女共同参画社会基本法

問8 下線部(ク)に関連して、次の【資料】は、日本の一般会計歳出の主要経費の推移を示したものです。【資料】中の①～③の項目の組み合わせとして正しいものを、下のA～Fの中からひとつ選んでアルファベットで答えなさい。

【資料】



(財務省「我が国の財政事情(令和2年度政府予算案)」より作成)

- | | | | |
|---|-------------|-------------|-------------|
| A | ① - 公共事業関係費 | ② - 国債費 | ③ - 社会保障関係費 |
| B | ① - 公共事業関係費 | ② - 社会保障関係費 | ③ - 国債費 |
| C | ① - 国債費 | ② - 公共事業関係費 | ③ - 社会保障関係費 |
| D | ① - 国債費 | ② - 社会保障関係費 | ③ - 公共事業関係費 |
| E | ① - 社会保障関係費 | ② - 公共事業関係費 | ③ - 国債費 |
| F | ① - 社会保障関係費 | ② - 国債費 | ③ - 公共事業関係費 |

問9 この新聞記事の見出し(タイトル)として最もふさわしいものを、次のA～Dの中からひとつ選んでアルファベットで答えなさい。

- A 女性活躍推進法、ようやく成立
- B 女性リーダー「3割」目標達成
- C 女性リーダー増加に向け、クォータ導入へ前向き
- D 女性登用、自主性任せの限界

