

# 平成29年度 入学試験問題

## 社 会

### 第 3 回

||||| 【注 意】 |||||

試験時間は理科とあわせて60分間です。(11:10～12:10)

社会と理科両方の教科の問題を時間内に解いてください。

問題は1ページから11ページまでです。

解答はすべて解答用紙に記入してください。

解答用紙に受験番号、氏名を記入してください。

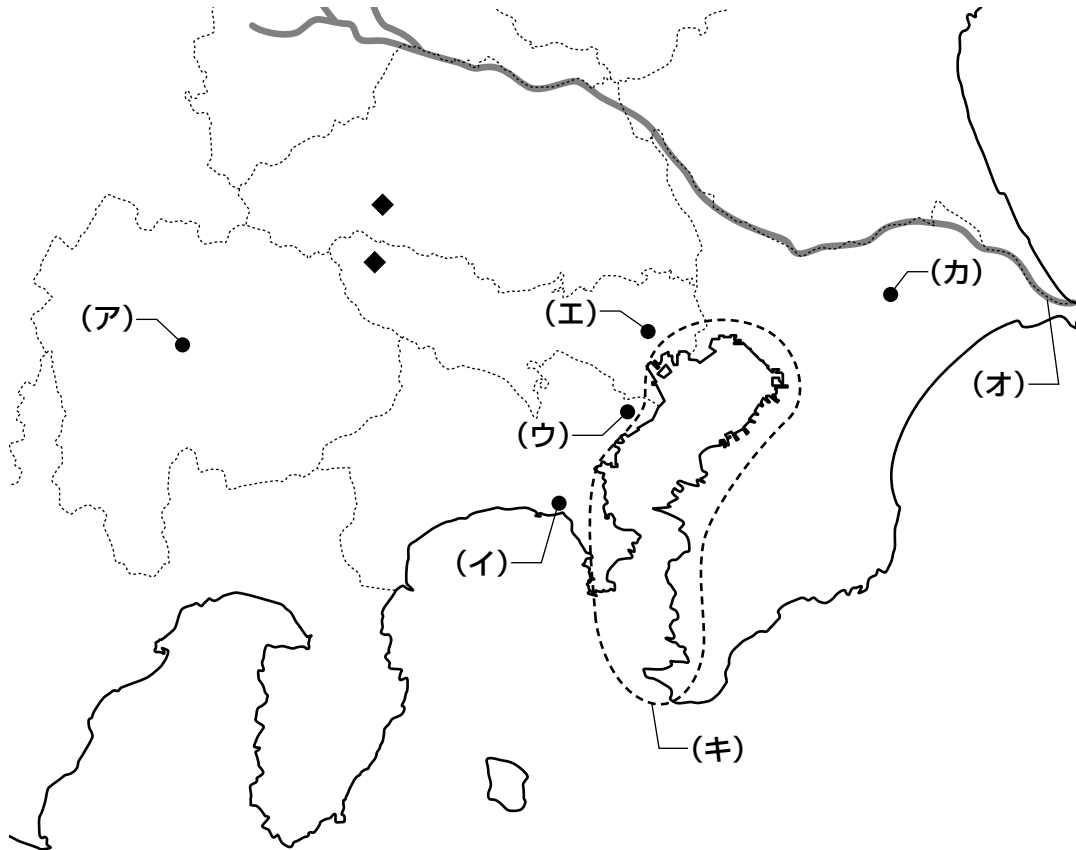
|||||



洗足学園中学校

1 次の【地図1】を見て、あとの問いに答えなさい。

【地図1】



問1 【地図1】中の(ア)周辺は、果樹の栽培が盛さかんであることで知られています。その要因のひとつに地形的な特徴があります。この地域の地形的な特徴として最もふさわしいものを、次の①～④の中からひとつ選んで番号で答えなさい。

- ① 河川的作用によってできた扇状地が広がり、水はけがよい。
- ② 河川的作用によってできた扇状地が広がり、水はけが悪い。
- ③ 河川的作用によってできた三角州が広がり、水はけがよい。
- ④ 河川的作用によってできた三角州が広がり、水はけが悪い。

問2 【地図1】中の(イ)は、ナショナルトラスト運動がおこなわれた場所のひとつとして知られています。ナショナルトラスト運動では、自然環境や歴史的環境を保存するために、どのような方法をとりますか。文章で説明しなさい。

問3 [地図1]中の(ウ)は、洗足学園中学校が所在する都市です。次の[資料]は、この都市と、札幌市、新潟市、大阪市の4つの政令指定都市の人口、面積、産業別就業者割合、耕地面積、製造品出荷額等しゅつかを示したものです。このうち、(ウ)について示しているものを、次の①～④の中からひとつ選んで番号で答えなさい。

[資料]

		①	②	③	④
人口 (万人)		266	192	143	81
面積 (km <sup>2</sup> )		225	1,121	143	726
産業別 就業者割合 (%)	第1次	0.1	0.5	0.4	3.7
	第2次	23.0	15.2	21.2	22.2
	第3次	76.9	84.3	78.4	74.1
耕地面積 (ha)		93	2,830	571	33,100
製造品出荷額等 <small>しゅつか</small> (億円)		38,679	4,953	42,839	10,050

人口：統計年次は2013年。『データでみる県勢2014』より

面積：統計年次は2015年。国土地理院「平成27年全国都道府県市区町村別面積調」より

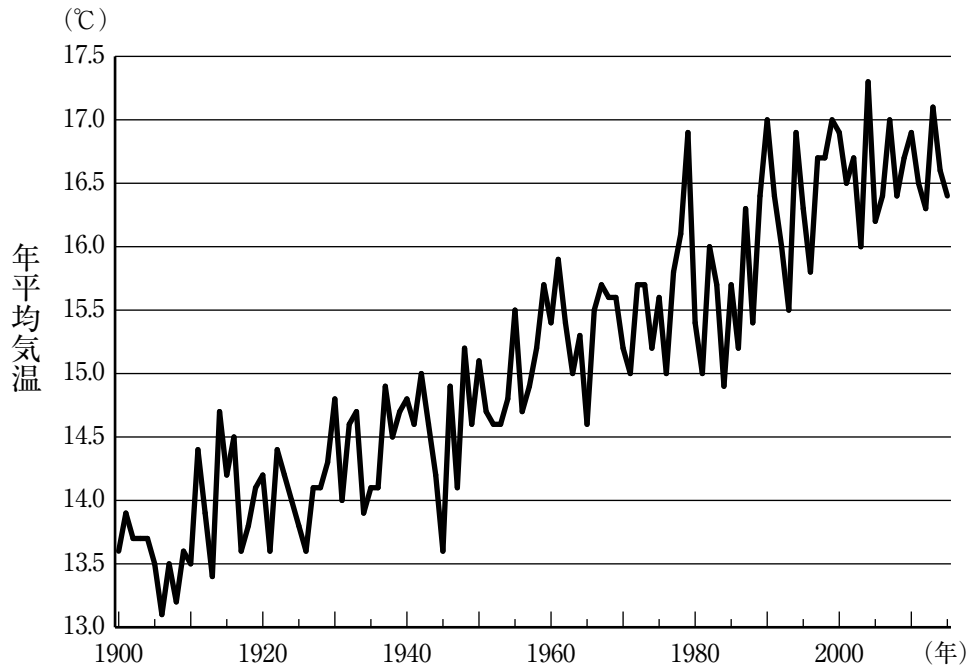
産業別就業者割合：統計年次は2010年。『データでみる県勢2014』より

耕地面積：統計年次は2015年。農林水産省「農林水産関係市町村別統計」より

製造品出荷額等しゅつか：統計年次は2011年。『データでみる県勢2014』より

問4 [地図1] 中の(工)は気象庁本庁の位置を示しています。次の[資料]は、東京の年平均気温の推移を示したものです。この都市の年平均気温は、過去100年ほどでおよそ3℃上昇しており、他の都市よりも気温上昇幅が大きくなっています。これは、地球温暖化の影響以外に、ヒートアイランド現象とよばれる、大都市でみられる現象が原因になっていると考えられています。ヒートアイランド現象をもたらす原因として誤っているものを、次の①～④の中からひとつ選んで番号で答えなさい。

[資料]



(気象庁ホームページより作成)

- ① アスファルトによる舗装や建築物のコンクリート面が増大し、これらが熱をたくわえている。
- ② 自動車の交通量が増大し、自動車からの排熱が増えている。
- ③ 緑地や農地が減少し、蒸散効果が減少している。
- ④ 省エネルギーを意識してエアコンの使用が減少し、気温が下がりにくくなっている。

問5 【地図1】中の(オ)について述べた文X～Zについて、その正誤の組み合わせとして正しいものを、次の①～⑧の中からひとつ選んで番号で答えなさい。

X この河川の流域面積は国内第2位である。  
 Y この河川の下流域では稲作がおこなわれており、台風の被害にあう前に<sup>ひがい</sup>収穫する早場米の生産地として知られている。  
 Z この河川の河口付近にある銚子港は、日本有数の水揚げ量をほこる漁港である。

- ① X—正 Y—正 Z—正      ② X—正 Y—正 Z—誤  
 ③ X—正 Y—誤 Z—正      ④ X—正 Y—誤 Z—誤  
 ⑤ X—誤 Y—正 Z—正      ⑥ X—誤 Y—正 Z—誤  
 ⑦ X—誤 Y—誤 Z—正      ⑧ X—誤 Y—誤 Z—誤

問6 【地図1】中の(カ)は、日本で最も貿易額の大きい貿易港です。次の【資料】は、日本の貿易港別の主要貿易品目(2015年)を示しています。このうち、(カ)について示しているものを、次の①～④の中からひとつ選んで番号で答えなさい。

【資料】

①			
輸出品目	%	輸入品目	%
自動車	27.0	液化ガス	10.4
自動車部品	15.1	石油	8.9
内燃機関	4.4	衣類	7.0
金属加工機械	4.2	アルミニウム	4.9
電気計測機器	3.4	絶縁電線・ケーブル	4.0
計(その他を含む)	100.0	計(その他を含む)	100.0

②			
輸出品目	%	輸入品目	%
石油製品	29.6	石油	50.1
有機化合物	18.3	液化ガス	23.6
鉄鋼	17.2	自動車	7.5
自動車	8.2	鉄鋼	3.0
プラスチック	6.6	有機化合物	2.6
計(その他を含む)	100.0	計(その他を含む)	100.0

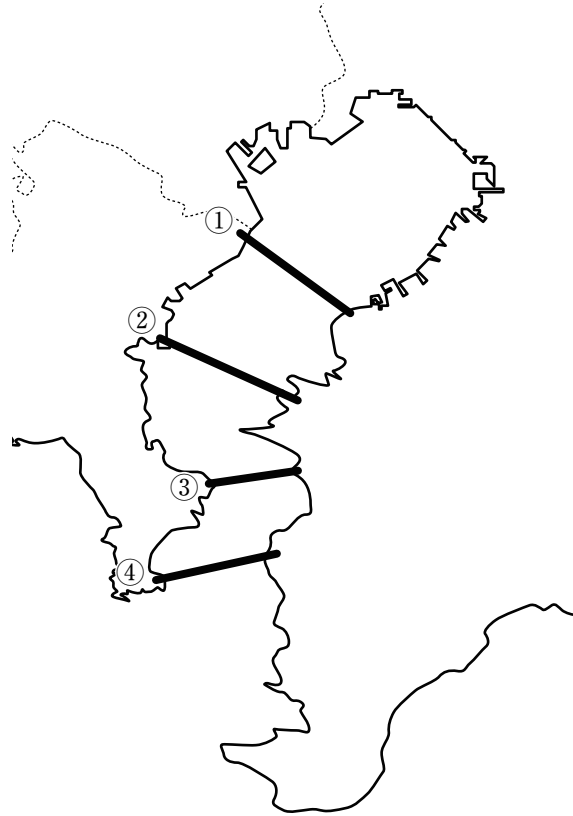
③			
輸出品目	%	輸入品目	%
自動車	23.0	魚介類	6.6
タイヤ・チューブ	11.0	家具	4.8
映像記録・再生機器	6.9	コンピュータ	3.9
プラスチック	4.7	自動車部品	3.8
半導体製造装置	4.6	衣類	3.8
計(その他を含む)	100.0	計(その他を含む)	100.0

④			
輸出品目	%	輸入品目	%
科学光学機器	6.6	通信機	13.7
金(非貨幣用)	5.8	医薬品	13.0
集積回路	5.0	集積回路	9.5
電気回路用品	3.5	コンピュータ	7.1
半導体製造装置	3.2	科学光学機器	6.3
計(その他を含む)	100.0	計(その他を含む)	100.0

(『日本国勢図会2016/17年版』より作成)

問7 【地図1】中の(キ)の区域には、東京湾を横断して神奈川県と千葉県を結ぶ自動車専用の有料道路である東京湾アクアライン（東京湾横断道路）が通っています。東京湾アクアラインが通っている位置としてふさわしいものを、次の【地図2】中の①～④の中からひとつ選んで番号で答えなさい。

【地図2】




問8 【地図1】中の◆は、ある資源の分布を示しています。この資源を、次の①～④の中からひとつ選んで番号で答えなさい。

- ① 石炭      ② 石灰石      ③ 金      ④ 硫黄

問9 【地図1】で示されている1都4県では、東京という大消費地に近いことを利点として、野菜や花卉の栽培が盛んです。このような農業形態を何といいますか。解答欄にあわせて漢字2字で答えなさい。

問10 次の【資料】は、東京都と、東京都に隣接する4県の製造品出荷額等（2011年）の割合を示したものです。東京都について示しているものを、次の①～⑤の中からひとつ選んで番号で答えなさい。

【資料】



（『データでみる県勢2014』より作成）

2 次の先生と生徒の会話を読んで、あとの問いに答えなさい。

生徒 自由研究の内容として、日本史上の戦乱について調べています。そのうちのひとつ、「壬申の乱」について質問していいですか。

先生 どんな質問ですか。

生徒 壬申の乱は、大友皇子と、彼のおじである、のちの (ア) 天皇との戦いですよね。

調べてみると、この戦いが起きる前に、大友皇子は (イ) 天皇の後継者になったようです。しかし、明治三年に「淳仁天皇」・ (ウ) 「仲恭天皇」と同様に、(エ) 「弘文天皇」という号がおくられています。ということは、天皇に即位しなかったのですか。

先生 この頃の時代を知る際の基本的な史料は『日本書紀』なのですが、この歴史書の記録では即位したとは書かれていません。ところが、(オ) 平安時代のいくつかの史料には、大友皇子の即位が記されていますから、『日本書紀』が記された時代の人々はともかく、少なくとも平安時代の人々は、彼の即位を事実として考えていたのかもしれない。

生徒 どちらが正しいのでしょうか。平安時代の文献に書いてあったとしても、壬申の乱が起きた頃と編纂された時期が近く、さらに正史である『日本書紀』の記載が正しいと考えるのがよいのでしょうか。

先生 とても良い疑問ですね。歴史を学ぶうえで、いわゆる「史料批判」が大切であるとされています。「史料批判」とは、簡単に言うと、その史料がつけられた背景や、編者の意図や立場などを考慮して、史料の内容が妥当なのかを検討することです。史料の編纂時期と出来事が時代的に近いということは重要なことです。ただし、『日本書紀』は (ア) 天皇の子である (カ) 親王が中心となって編纂されたものですし、完成時の元正天皇は (ア) 天皇の孫です。

生徒 この関係性を考えると、この史料は、 (キ) ですよね。

先生 その可能性がありますね。『日本書紀』の記載に対して、歴史上の人物たちも意見や疑問をもったようです。徳川光圀が編纂を始めさせ、(ク) 正徳年間に命名された『大日本史』は、光圀の意向もあって大友皇子が即位した立場で記されています。

また、国学者 (ケ) の養子大平に学んだ伴信友も大友皇子即位の立場をとっています。

生徒 では、現在はやはり即位説が有力なのですか。

先生 第二次世界大戦後にも研究がおこなわれていますが、大友皇子が即位せずに政務をとったとする称制説や、 (イ) 天皇の皇后による称制説など、いまだに決着がついていません。

生徒 自由研究の参考になりました。教えられた内容をただ覚えるだけでなく、本当にそうなのか、あるいは、そのように考えられている根拠について配慮しながら、授業を聴くと、より深く学べるのかもしれないね。



問1 空欄  ・  ・  にあてはまる語句の組み合わせとしてふさわしいものを、次の①～⑥の中からひとつ選んで番号で答えなさい。

- |   |                                      |                                      |                                      |
|---|--------------------------------------|--------------------------------------|--------------------------------------|
| ① | <input type="text" value="(ア)"/> 一天武 | <input type="text" value="(イ)"/> 一文武 | <input type="text" value="(カ)"/> 一刑部 |
| ② | <input type="text" value="(ア)"/> 一天智 | <input type="text" value="(イ)"/> 一天武 | <input type="text" value="(カ)"/> 一刑部 |
| ③ | <input type="text" value="(ア)"/> 一文武 | <input type="text" value="(イ)"/> 一天智 | <input type="text" value="(カ)"/> 一舍人 |
| ④ | <input type="text" value="(ア)"/> 一天智 | <input type="text" value="(イ)"/> 一文武 | <input type="text" value="(カ)"/> 一刑部 |
| ⑤ | <input type="text" value="(ア)"/> 一天武 | <input type="text" value="(イ)"/> 一天智 | <input type="text" value="(カ)"/> 一舍人 |
| ⑥ | <input type="text" value="(ア)"/> 一文武 | <input type="text" value="(イ)"/> 一天武 | <input type="text" value="(カ)"/> 一舍人 |

問2 下線部 (ウ) は、祖父  上皇が北条義時追討の兵を挙げるに際して、父の順徳天皇より譲位じょういされました。義時の子  が率いる軍勢によって、上皇側が敗れたために在位70日余りで廃位はいいされ、「承久の廢帝」とよばれました。空欄  ・  にあてはまる語句・人物の組み合わせとしてふさわしいものを、次の①～⑥の中からひとつ選んで番号で答えなさい。

- |   |                                     |                                    |
|---|-------------------------------------|------------------------------------|
| ① | <input type="text" value="X"/> 一後醍醐 | <input type="text" value="Y"/> 一泰時 |
| ② | <input type="text" value="X"/> 一後白河 | <input type="text" value="Y"/> 一政子 |
| ③ | <input type="text" value="X"/> 一後鳥羽 | <input type="text" value="Y"/> 一時宗 |
| ④ | <input type="text" value="X"/> 一後醍醐 | <input type="text" value="Y"/> 一政子 |
| ⑤ | <input type="text" value="X"/> 一後白河 | <input type="text" value="Y"/> 一時宗 |
| ⑥ | <input type="text" value="X"/> 一後鳥羽 | <input type="text" value="Y"/> 一泰時 |

問3 下線部 (エ) の出来事と最も年代が近いものを、次の①～⑤の中からひとつ選んで番号で答えなさい。

- ① 御成敗式目が制定された。
- ② 廃藩置県がおこなわれた。
- ③ 『新古今和歌集』が編纂へんさんされた。
- ④ シベリア出兵がおこなわれた。
- ⑤ 東大寺南大門金剛力士像がつくられた。

問4 下線部(才)に関連して、A・Bそれぞれの問いに答えなさい。

A 摂関政治と平氏政権には共通点があるとされています。次の語句を用いて、政治的基盤と経済的基盤の観点から、その共通点を文章で説明しなさい。

[ 天皇 莊園 外戚 ]

B 平安時代について述べた文として誤っているものを、次の①～④の中からひとつ選んで番号で答えなさい。

- ① 白河上皇は、自分の意のままにならないもののひとつとして興福寺の僧兵を挙げたとされる。
- ② 9世紀に藤原良房が臣下として初めて摂政の任についた。
- ③ 9世紀に藤原基経が関白の任についた。
- ④ 平治の乱において、平清盛側が勝利したため、源頼朝は伊豆国に流された。

問5 空欄(キ)にあてはまる文章として最もふさわしいものを、次の①～④の中からひとつ選んで番号で答えなさい。

- ① (ア) 天皇のあとに、大友皇子が即位した可能性が高い
- ② 大友皇子が即位した可能性が高い
- ③ 「(ア) 天皇に正当性がある立場」で書かれている可能性が高い
- ④ 「大友皇子に正当性がある立場」で書かれている可能性が高い

問6 下線部(ク)と最も年代が近いものを、次の①～④の中からひとつ選んで番号で答えなさい。

- ① 上知令が出された。
- ② 株仲間の解散が命じられた。
- ③ 生類憐みの令が廃止された。
- ④ 人返しの法が発せられた。

問7 空欄(ケ)にあてはまる人物としてふさわしいものを、次の①～④の中からひとり選んで番号で答えなさい。

- ① 前野良沢
- ② 杉田玄白
- ③ 緒方洪庵
- ④ 本居宣長

**3** 次の先生と生徒の会話を読んで、あとの問いに答えなさい。

生徒 2015年に、いわゆる安全保障関連法案が〔ア〕の特別〔イ〕において可決されましたが、その際、ニュースで「強行採決」という言葉を聞きました。「強行採決」という言葉は、どのような時に使われるのですか。

先生 (ウ)国会などにおいて、(エ)与党・野党の合意がなされず、少数派が審議の継続を求めている状況で採決がおこなわれたとみなされた際に、使われます。(オ)自由民主党が議席の過半数を占める状態が続くようになると、法案採決の際に野党の合意をとりつけることが慣例的になっていたようです。したがって、合意がなされなかった場合、少数派やマスコミなどによって「強行採決」という批判的な表現が使われているようです。

生徒 (カ)現行の憲法が施行されてからのことですか。

先生 「強行採決」そのものは大日本帝国憲法下の帝国議会でも存在していました。この頃は本会議における採決を中心としていたために、安全保障関連法案の時のような〔イ〕における「強行採決」はまずありませんでした。

生徒 かつての「強行採決」の事例を教えてください。

先生 サンフランシスコ平和条約と同日に調印された〔キ〕が改定される際、当時の(ク)内閣総理大臣である岸信介のもと、衆議院特別〔イ〕において、いわゆる「強行採決」がなされ、本会議通過後、〔ア〕の議決がないまま自然成立した事例があります。

生徒 1960年に撮影された、デモにとり囲まれる国会議事堂の写真を見ることがありますが、あれは改定に対する反対運動の写真だったのですね。

先生 当時も同様だったようですが、いわゆる「強行採決」がおこなわれたとされる際、その採決に対して相反する評価があるようです。いずれにせよ、みなさんが大人になったときに、より良い日本になっているように、そして国民の幸福と世界平和のために、慎重な議論がおこなわれることを願います。

問1 空欄〔ア〕にあてはまる語句を漢字で答えなさい。

問2 空欄〔イ〕にあてはまる語句を漢字で答えなさい。

問3 下線部(ウ)について、国会の権限のうち衆議院のみに認められた権限を、次の①～④の中からひとつ選んで番号で答えなさい。

- ① 予算の議決
- ② 条約の承認
- ③ 内閣不信任の決議
- ④ 弾劾裁判所の設置

問4 下線部(エ)とは、どのような政党ですか。文章で説明しなさい。

問5 下線部(オ)の初代総裁を、次の①～④の中からひとり選んで番号で答えなさい。

- ① 鳩山一郎
- ② 吉田茂
- ③ 池田勇人
- ④ 田中角栄

問6 下線部(力)に関連して、現行の日本国憲法について述べた文として正しいものを、次の①～④の中からひとつ選んで番号で答えなさい。

- ① 国民の権利として、自由権や平等権、社会権、環境権などが盛り込まれている。
- ② 慎重に審議するため、国会は衆議院と貴族院の両議院で構成されている。
- ③ 天皇の国事に関する行為には内閣の助言と承認を必要とする。
- ④ 地方自治について規定されていない。

問7 空欄(キ)にあてはまるものを、次の①～④の中からひとつ選んで番号で答えなさい。

- ① 日ソ共同宣言
- ② 日中共同声明
- ③ 日米安全保障条約
- ④ 日韓基本条約

問8 下線部(ク)に関連して、内閣総理大臣について述べた文として正しいものを、次の①～⑤の中からすべて選んで番号で答えなさい。

- ① 天皇によって任命される。
- ② 国会議員の中から、国民によって選挙で選ばれる。
- ③ 国務大臣を任命し、罷免することができる。
- ④ 外務大臣が結んだ条約を承認する。
- ⑤ 議長として閣議を開く。







