

# 平成29年度 入学試験問題

## 社 会

### 第 2 回

||||| 【注 意】 |||||

試験時間は理科とあわせて60分間です。(11:10～12:10)

社会と理科両方の教科の問題を時間内に解いてください。

問題は1ページから11ページまでです。

解答はすべて解答用紙に記入してください。

解答用紙に受験番号、氏名を記入してください。

|||||



洗足学園中学校

- 1 次の【文章Ⅰ】～【文章Ⅲ】は、日本の半島について述べたものです。これを読んで、あとの問いに答えなさい。

### 【文章Ⅰ】

能登半島は、本州の日本海側では最大の半島です。大部分は(ア)石川県に、南東部の一部は富山県に属しています。(イ)海岸線は日本海側の外浦と富山湾側の内浦に分かれ、多くの地域が能登半島国定公園に指定されています。外浦は断崖や奇岩が多く、内浦はリアス海岸が多くなっています。産業は、農林水産業が中心です。ブリ・(ウ)イカなどの沿岸漁業が盛んであり、氷見、七尾などが漁業基地となっています。また、外浦の中心の輪島市は、伝統的工芸品の【(工)】である輪島塗の産地として知られています。西岸の志賀町には志賀原子力発電所があり、半島北部には能登空港があります。

### 【文章Ⅱ】

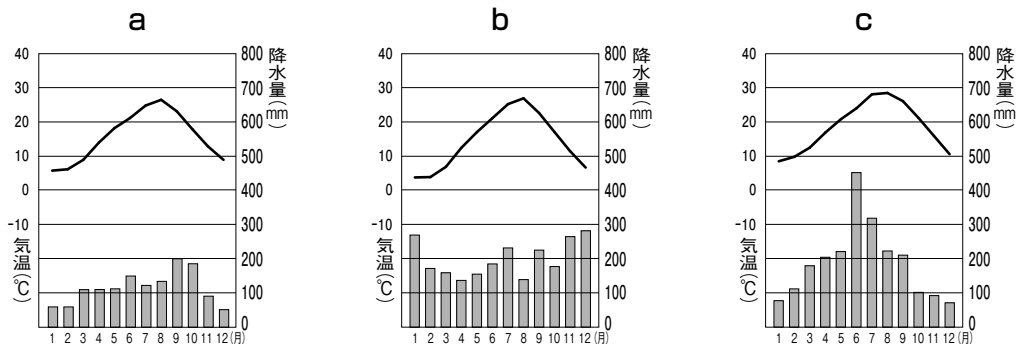
大隅半島は、(オ)鹿児島県南東部に位置する半島です。東側は太平洋に面し、西側は鹿児島湾に面していて、南端には佐多岬があります。半島内には、一般に【(力)】とよばれる火山噴出物によって形成された笠野原などの【(力)】台地が分布し、北西部には、1914年の大噴火で陸続きとなった桜島があります。鹿児島湾岸南部と桜島は霧島錦江湾国立公園、志布志湾岸は日南海岸国定公園に属しています。笠野原では、(キ)従来のサツマイモなどの他に、キャベツなどの露地野菜、茶、花卉などの作物が栽培されており、(ク)畜産も盛んです。

### 【文章Ⅲ】

【(ケ)】半島は、関東地方南東部に突き出た半島であり、(コ)千葉県の大部分を占めています。太平洋側は外房とよばれ、東京湾側は内房とよばれています。北西部では、(カ)千葉ニュータウンをはじめとする住宅地、工業団地が開発され、東京湾岸には、(セ)京葉工業地域が形成されています。外房の九十九里平野では干害が起きていましたが、用水の完成によって稲作が安定し、さらに施設園芸、養豚などもおこなわれるようになりました。また、南部では、野菜・花卉の栽培が盛んであり、南【(ケ)】国定公園に指定されている海岸が、首都圏の観光地として発展してきました。

問1 次の【資料】は、下線部(ア)・(オ)・(コ)の県庁所在地の都市の月別平均気温と降水量を示したものです。a～cと(ア)・(オ)・(コ)の組み合わせとしてふさわしいものを、次の①～⑥の中からひとつ選んで番号で答えなさい。

【資料】



(気象庁ホームページより作成)

- |   |       |       |       |
|---|-------|-------|-------|
| ① | a—(ア) | b—(オ) | c—(コ) |
| ② | a—(ア) | b—(コ) | c—(オ) |
| ③ | a—(オ) | b—(ア) | c—(コ) |
| ④ | a—(オ) | b—(コ) | c—(ア) |
| ⑤ | a—(コ) | b—(ア) | c—(オ) |
| ⑥ | a—(コ) | b—(オ) | c—(ア) |

問2 下線部(イ)に関連して、海岸の地形について述べた文として正しいものを、次の①～④の中からひとつ選んで番号で答えなさい。

- ① 砂浜海岸は、波の働きで砂が打ち上げられて堆積してできた海岸であり、九十九里平野や鳥取平野などにみられる。
- ② リアス海岸は、山地が海面に比べて盛り上がり形成された、複雑な海岸線をもつ海岸であり、三陸海岸や若狭湾などにみられる。
- ③ 砂州がさらに伸びてできた、海岸から突き出るように延びている砂の堆積した細長い陸地を砂嘴といい、三保の松原などにみられる。
- ④ 沖合の島が砂嘴によって海岸とつながっている場所があり、男鹿半島や沖ノ島などにみられる。

問3 下線部(ウ)に関連して、次の【資料】は、日本における、イカ、エビ、サケ・マス、マグロの漁獲量(2014年)と輸入量(2015年)を示しています。イカを示しているものを【資料】の①～④の中からひとつ選んで番号で答えなさい。

【資料】

(単位 千t)

	漁獲量	輸入量
①	151	249
②	16	157
③	190	207
④	210	91

(『日本国勢図会2016/17年版』より作成)

問4 空欄(工)にあてはまる語句を、次の①～④の中からひとつ選んで番号で答えなさい。

- ① 漆器      ② 銅器      ③ 陶磁器      ④ 鉄器

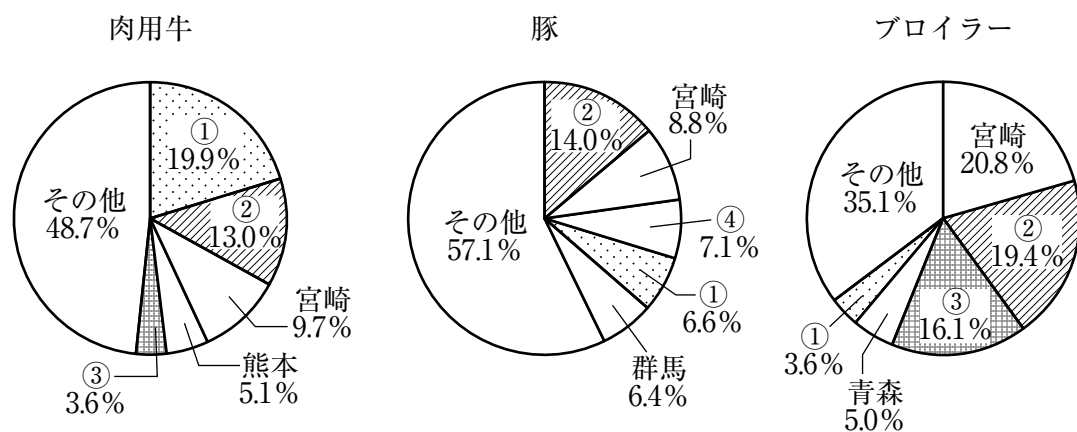
問5 空欄(力)にあてはまる語句を答えなさい。

問6 下線部(キ)について述べた文としてふさわしくないものを、次の①～④の中からひとつ選んで番号で答えなさい。

- ① サツマイモは、18世紀半ばに青木昆陽が日本全国に広めた作物であり、2015年現在、鹿児島県が全国1位の収穫量となっている。
- ② キャベツは、千葉県や神奈川県では主に夏から秋にかけて収穫されるが、群馬県の嬬恋村や長野県の野辺山原では主に早春に収穫される。
- ③ 茶は、若葉を摘んで緑茶や紅茶を作る工芸作物であり、2015年現在、静岡県が全国1位、鹿児島県が全国2位の収穫量となっている。
- ④ チューリップは、世界的にはオランダが栽培の中心であり、日本では、富山県の砺波平野などで球根の栽培が盛んである。

問7 下線部(ク)に関連して、次の【資料】は、日本における肉用牛・豚・ブロイラーの都道府県別頭数・羽数(2014年)を示しており、【資料】中の①～④は、北海道・岩手県・千葉県・鹿児島県のいずれかを示しています。このうち鹿児島県を示しているものを、【資料】中の①～④の中からひとつ選んで番号で答えなさい。

【資料】



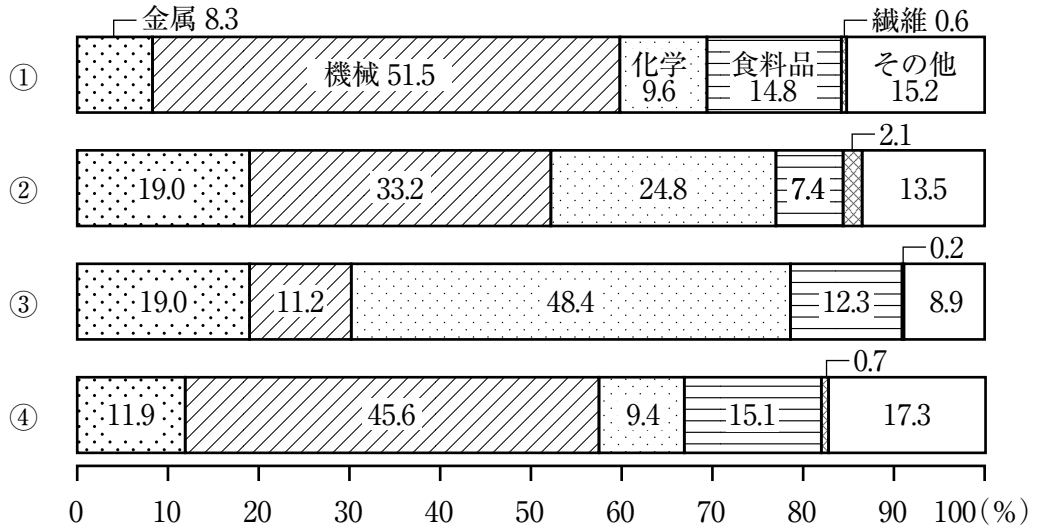
(『日本国勢図会2016/17年版』より作成)

問8 空欄(ケ)にあてはまる語句を漢字で答えなさい。

問9 下線部(サ)に関連して、1970年代から1980年代にかけては、東京都心部の人口が減少し、千葉県のよう、ニュータウンが建設された郊外の地域において人口が増えました。しかし、1990年代後半以降は、東京都心部の人口が再び増加に転じました。東京の人口が一時減少したことと、再び増加に転じた理由を文章で説明しなさい。

問10 下線部 (シ)に関連して、次の【資料】は、関東内陸工業地域・京葉工業地域・東海工業地域・瀬戸内工業地域の製造品出荷額等（2014年）の構成を示しています。京葉工業地域を示しているものを、【資料】の①～④の中からひとつ選んで番号で答えなさい。

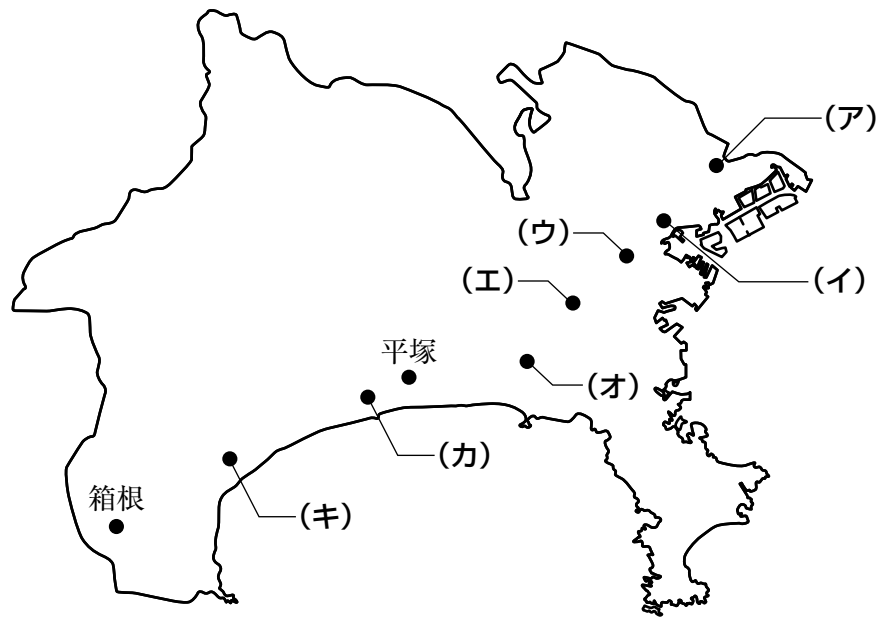
【資料】



(『日本国勢図会 2016/17年版』より作成)

- 2 次の【地図】は東海道五十三次のうち、洗足学園のある神奈川県の一部を示したものです。この【地図】をみて、あとの問いに答えなさい。

【地図】



- 問1 【地図】中の(ア)は日本橋を起点とした東海道五十三次の2番目の宿場です。この宿場があった付近は、現在の川崎市にあたります。川崎市には縄文時代早期後半の貝塚である子母口貝塚しほぐちがあります。同じく縄文時代の貝塚であり、アメリカ人モースによって東京で発見された貝塚を漢字で答えなさい。
- 問2 【地図】中の(イ)の神奈川宿は日本橋を起点とした東海道五十三次の3番目の宿場です。幕末に結ばれた日米修好通商条約により神奈川宿が開港場に指定されましたが、実際には横浜村が開港場として選ばれました。貿易開始後、金銀の交換比率そういの相違により、「あること」が起き、日本経済は大きな影響えいきょうを受けました。「あること」とは何ですか。文章で説明しなさい。
- 問3 【地図】中の(ウ)は日本橋を起点とした東海道五十三次の4番目の宿場であり、東海道における武蔵国最西端さいせいたんの宿場でした。かつて、武蔵国では秩父郡で銅が発見され朝廷に献上けんじょうされたことを祝い、年号が改められるとともに、銭貨が発行されました。この時、発行された銭貨を漢字で答えなさい。

問4 【地図】中の(工)は日本橋を起点とした東海道五十三次の5番目の宿場です。この戸塚宿があった付近は、今も横浜市戸塚区の中心地として賑わっています。戸塚区には富塚古墳があり、一説には、「戸塚」の地名の由来とも伝えられています。古墳時代について述べた文としてふさわしくないものを、次の①～④の中からひとつ選んで番号で答えなさい。

- ① 倭の五王とよばれた王たちが、中国に使いを送った。
- ② 儒教や仏教が伝えられ、のちの日本の文化に大きな影響を与えた。
- ③ ヤマト政権の指導者である大王は、臣・連などの姓を豪族に与えた。
- ④ 倭の奴国の王が中国に使いを送り、皇帝から金印を授けられた。

問5 【地図】中の(才)は日本橋を起点とした東海道五十三次の6番目の宿場であり、現在の藤沢市にありました。これに関連して、A・Bそれぞれの問いに答えなさい。

A 藤沢は、江戸時代に「清浄光寺」の門前町として栄えました。寺社と、その周辺に形成された門前町の組み合わせとしてふさわしくないものを、次の①～④の中からひとつ選んで番号で答えなさい。

- ① 善光寺 — 長野
- ② 石山本願寺 — 堺
- ③ 鶴岡八幡宮 — 鎌倉
- ④ 伊勢神宮 — 宇治・山田

B 藤沢には、藤沢御殿とよばれる将軍家の宿泊所が置かれ、徳川家康などに利用されました。徳川家康が生きていたときの出来事について、古いものから年代順に正しく配列したものを、次の①～⑧の中からひとつ選んで番号で答えなさい。

- ① 禁中並公家諸法度制定 — 本能寺の変 — 桶狭間の戦い — 長篠の戦い
- ② 禁中並公家諸法度制定 — 桶狭間の戦い — 本能寺の変 — 長篠の戦い
- ③ 本能寺の変 — 桶狭間の戦い — 長篠の戦い — 禁中並公家諸法度制定
- ④ 本能寺の変 — 禁中並公家諸法度制定 — 桶狭間の戦い — 長篠の戦い
- ⑤ 長篠の戦い — 桶狭間の戦い — 禁中並公家諸法度制定 — 本能寺の変
- ⑥ 長篠の戦い — 本能寺の変 — 桶狭間の戦い — 禁中並公家諸法度制定
- ⑦ 桶狭間の戦い — 長篠の戦い — 本能寺の変 — 禁中並公家諸法度制定
- ⑧ 桶狭間の戦い — 本能寺の変 — 長篠の戦い — 禁中並公家諸法度制定



**問6** 【地図】 中の（力）は、日本橋を起点とした東海道五十三次の8番目の宿場であり、現在の大磯町にありました。大磯町には、第二次世界大戦後に首相を務めた吉田茂の邸宅ていたくがありました。第二次世界大戦後の首相と在任中のできごとの組み合わせとして正しいものを、次の①～④の中からひとつ選んで番号で答えなさい。

- ① 吉田 茂 — 日米新安全保障条約調印
- ② 田中角栄 — 日中平和友好条約調印
- ③ 池田勇人 — 沖縄返還協定調印
- ④ 佐藤栄作 — 日韓基本条約調印

**問7** 【地図】 中の（キ）は、日本橋を起点とした東海道五十三次の9番目の宿場であり、現在の小田原市にありました。小田原は小田原城の城下町として栄えました。小田原城は、室町時代にはすでにその前身が築かれていました。室町時代のできごととしてふさわしいものを、次の①～④の中からひとつ選んで番号で答えなさい。

- ① 朝廷を監視かんしするために、京都に六波羅探題がおかれた。
- ② 杉田玄白たちが、『ターヘル・アナトミア』を翻訳し、『解体新書』として出版した。
- ③ 畠山氏を追い出し、8年の間、住民が自治的に支配した。
- ④ 尾張の国司藤原元命が、郡司・農民によって訴えられた。

- 3 次の文章は、2015年10月3日の朝日小学生新聞の一部を抜粋したものです。これを読んで、あとの問いに答えなさい。なお、一部ふりがなをつけたり省略したりした部分があります。また、読みやすいように書き加えた部分があります。

ジャン ニュースで「今月からマイナンバーを知らせる便りが届く」とかいていたわ。何のこと？

青山記者 赤ちゃんからお年寄りまで、日本で暮らす住民すべてに割りふられる番号だ。11月までをめぐりに、郵便で家族ごとにまとめて伝えられるよ。

ケン なんで、みんなに番号が割りふられるの？

青山記者 暮らしを支える行政サービスは、大人が納める(ア)税金で成り立っている。でも日本では働き盛りの人が減り、年金や医療などの「社会保障」を受ける(イ)お年寄りが増えているから、(ウ)政府はお金が足りなくて困っている。だから、税金にかかわる仕事をすいすい進め、もれなく集めたい。マイナンバーは、その手立てだ。

ケン なぜ税金と番号が関係あるの？

青山記者 きちんと税金を納めてもらうには、その人がどれくらいの(エ)収入を得ているか、といった情報がカギになる。これまでそうした情報は役所ごとにバラバラに管理していたんだけど、2016年1月からマイナンバーを付けていき、だれのものかをすぐに識別できるようにしておく。17年からは、国や(オ)地方自治体のシステムが一つにつながる。役所はそのネットワーク上で、マイナンバーを使って個人情報を検索し、簡単に取り寄せられるようになるんだ。

(中略)

青山記者 実現すればマイナンバーが人目に触れる機会も格段に増え、悪用される危険も高まる。海外では他人の番号を使った「成りすまし」の詐欺被害なども起きているから、マイナンバーはできるだけ、他の人に知られないようにしなければいけないんだ。もちろん、ツイッターやフェイスブックにのせるのも禁物だ。

ジャン 気を付けなくちゃいけないわね。

青山記者 自分の情報が政府に管理されるのは気持ちが悪い、と感じる人も多いかもしれない。だから、政府がマイナンバーで管理できるのは税や社会保障など限られた分野の情報だけ、と(カ)法律で定められている。使い道を広げるには、そのつど(キ)国会で話し合っ、法律を改正する必要がある。それでも、政府が国民の監視を強めるためにマイナンバーを使おうとするのではないか、という心配を持つ人も多い。(ク)制度が始まってからも、みんなが暮らしやすい社会をつくるために役立っているか、しっかり見守っていく必要があるね。

問1 下線部(ア)に関連して、日本の税金には国税と地方税があります。地方税としてふさわしいものを、次の①～④の中からひとつ選んで番号で答えなさい。

- ① 法人税      ② 関税      ③ 所得税      ④ 固定資産税

問2 下線部(イ)について、次の文は2000年から始まった介護保険制度について述べたものです。文中の空欄  ・  にあてはまる数字の組み合わせとして正しいものを、次の①～④の中からひとつ選んで番号で答えなさい。

高齢者の介護を社会全体で支えるために2000年4月から介護保険制度が実施されました。原則として、介護保険料は  歳以上のすべての国民が支払い、 歳以上の介護を必要とする人がサービスを受けられます。ただし、 歳以上から  歳未満の年齢層においても、末期がんなどの特定疾病により介護が必要と認定された場合は、介護サービスを受けることができます。

- |   |   |   |    |   |   |   |    |
|---|---|---|----|---|---|---|----|
| ① | X | — | 40 | — | Y | — | 60 |
| ② | X | — | 40 | — | Y | — | 65 |
| ③ | X | — | 45 | — | Y | — | 60 |
| ④ | X | — | 45 | — | Y | — | 65 |

問3 下線部(ウ)に関連して、内閣の仕事としてふさわしくないものを、次の①～④の中からひとつ選んで番号で答えなさい。

- |                     |         |
|---------------------|---------|
| ① 最高裁判所の長たる裁判官の任命   | ② 予算の作成 |
| ③ 天皇の国事行為に対するの助言と承認 | ④ 条約の締結 |

問4 下線部(エ)に関連して、個人の収入にかけられる税金を所得税といいます。所得税は、累進課税制度を採用しています。この制度の仕組みを、その目的にふれて、文章で説明しなさい。

問5 下線部(オ)に関連して、住民の代理人として、地方自治体による不当な活動に対する調査および是正をはかる、スウェーデンで生まれた制度を答えなさい。

問6 下線部(カ)について、法律案が再議決される流れを述べた次の文中の空欄  ・  にあてはまる語句の組み合わせとして正しいものを、次の①～④の中からひとつ選んで番号で答えなさい。

法律案が衆議院で可決され、参議院で否決された時でも、再び衆議院で審議し、 の  で再可決すれば法律として成立する。

- |   |   |   |      |   |   |   |        |
|---|---|---|------|---|---|---|--------|
| ① | X | — | 総議員  | — | Y | — | 過半数    |
| ② | X | — | 総議員  | — | Y | — | 3分の2以上 |
| ③ | X | — | 出席議員 | — | Y | — | 過半数    |
| ④ | X | — | 出席議員 | — | Y | — | 3分の2以上 |

問7 下線部(キ)に関連して、次の日本国憲法第41条の条文中の空欄  ・  にあてはまる語句をそれぞれ漢字で答えなさい。

国会は国権の  機関であつて、国の唯一の  機関である。

問8 下線部(ク)に関連して、この新聞記事を読んだ洗足学園の生徒である花子さんは、市民のひとりとして、具体的にどのようなことができるかを考えました。次の文は花子さんの考えを述べたものです。文中の空欄  ・  にあてはまる語句の組み合わせとして正しいものを、次の①～⑥の中からひとつ選んで番号で答えなさい。

税や社会保障の管理がスムーズになるなどメリットも多い制度ですが、マイナンバーを使った政府の管理が強化されていくのも、個人情報のセキュリティ対策にも不安が残ります。これに対して私たちができることはいろいろあります。例えば、私たちの  を守るために成立した情報公開制度を利用して、国や地方公共団体に行政文書の開示を請求し、政治の動向を確認する。また、本人の同意なく個人情報が第三者に売られた場合、これは  を侵害されたことになるので、個人情報保護法に基づき、その違法性を訴える。

- |   |                                |   |           |                                |   |           |
|---|--------------------------------|---|-----------|--------------------------------|---|-----------|
| ① | <input type="text" value="X"/> | — | 自己決定権     | <input type="text" value="Y"/> | — | プライバシーの権利 |
| ② | <input type="text" value="X"/> | — | 自己決定権     | <input type="text" value="Y"/> | — | 知る権利      |
| ③ | <input type="text" value="X"/> | — | プライバシーの権利 | <input type="text" value="Y"/> | — | 知る権利      |
| ④ | <input type="text" value="X"/> | — | プライバシーの権利 | <input type="text" value="Y"/> | — | 自己決定権     |
| ⑤ | <input type="text" value="X"/> | — | 知る権利      | <input type="text" value="Y"/> | — | 自己決定権     |
| ⑥ | <input type="text" value="X"/> | — | 知る権利      | <input type="text" value="Y"/> | — | プライバシーの権利 |







