

# 平成28年度 入学試験問題

## 社 会

### 第 3 回

||||| 【注 意】 |||||

試験時間は理科とあわせて60分間です。(11:10～12:10)

社会と理科両方の教科の問題を時間内に解いてください。

問題は1ページから9ページまでです。

解答はすべて解答用紙に記入してください。

解答用紙に受験番号、氏名を記入してください。

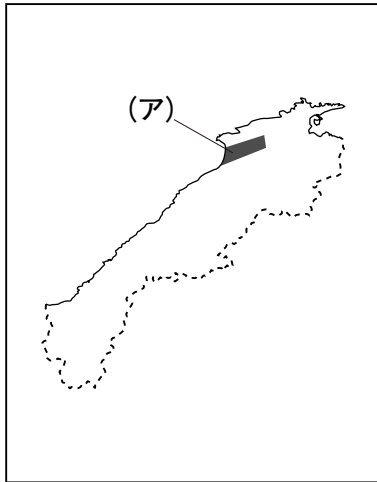
|||||



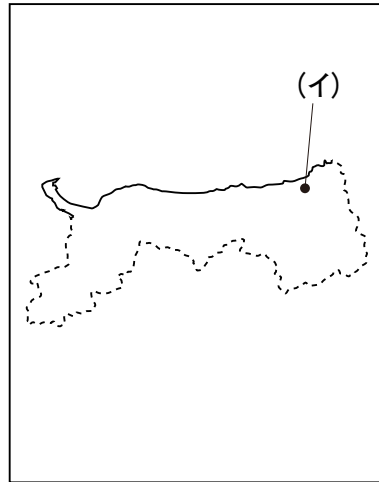
洗足学園中学校

1 次の【地図1】～【地図6】について、あとの問いに答えなさい。

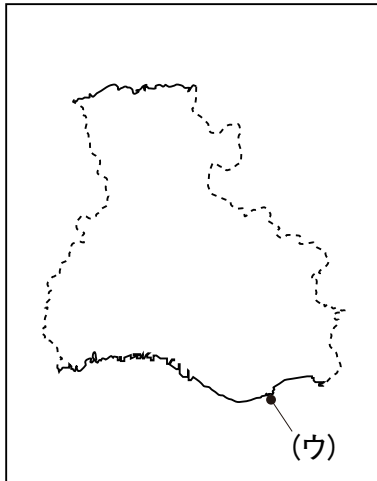
【地図1】



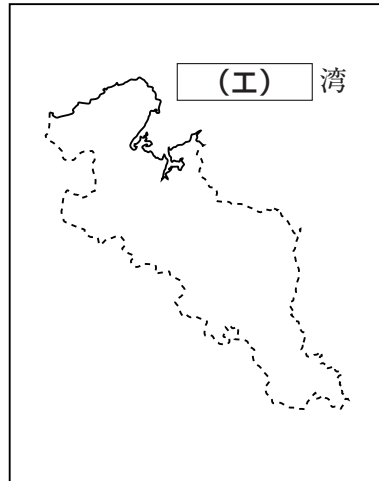
【地図2】




【地図3】



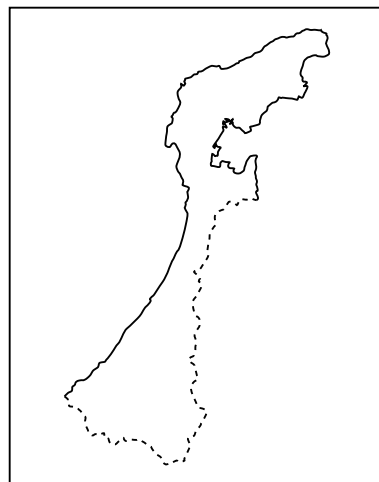
【地図4】



【地図5】



【地図6】



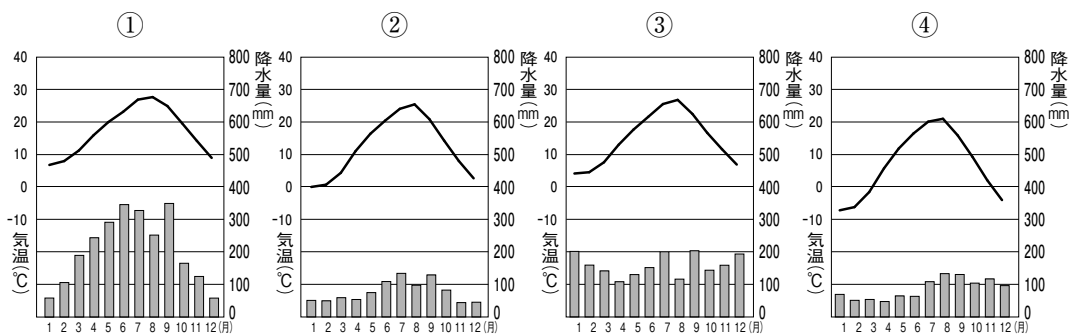
問1 【地図1】が示している県と隣接している県の組み合わせとしてふさわしいものを、次の①～④の中からひとつ選んで番号で答えなさい。

- ① 鳥取県・岡山県
- ② 広島県・山口県
- ③ 兵庫県・岡山県
- ④ 愛媛県・山口県

問2 【地図1】中の(ア)は、山陰地方最大級の沖積平野を示しています。この平野に位置する  市は、 大社などの歴史的・文化的遺産に恵まれるとともに、隣接している県庁所在地の  市に次ぐ人口集中地です。この文章中の空欄  ・  にあてはまる語句を漢字でそれぞれ答えなさい。

問3 【地図2】中の(イ)が示している都市に位置する砂丘では、規模の縮小や草原化、生態系の変化が生じるなどの問題が起きています。この問題は、かつて地方公共団体などによっておこなわれた「ある取り組み」が、主な原因であると考えられています。「ある取り組み」とその取り組みの主な目的を文章で説明しなさい。

問4 【地図2】中の(イ)は、この県の県庁所在地を示しています。この県庁所在地における月別の平均気温と降水量を示しているグラフを、次の①～④の中からひとつ選んで番号で答えなさい。



(『理科年表 平成28年』より作成)

問5 【地図3】中の(ウ)は、 市の運営によって営業が始まった空港を示しています。また、【地図3】が示している県北部には「コウノトリ但馬空港」の愛称で知られる但馬飛行場があり、県東部には  国際空港があります。この文章中の空欄  ・  にあてはまる語句の組み合わせとしてふさわしいものを、次の①～⑥の中からひとつ選んで番号で答えなさい。

- ①  - 大阪
- ②  - 大阪
- ③  - 神戸
- ④  - 神戸
- ⑤  - 岡山
- ⑥  - 岡山
- 中部
- 関西
- 関西
- 大阪
- 大阪
- 中部

問6 【地図3】が示している県の東部を含む工業地帯について述べた文としてふさわしいものを、次の①～④の中からひとつ選んで番号で答えなさい。

- ① 太平洋岸の鉄道や東名高速道路に沿って発達しており、天竜川などの河川によって工業用水を得ている。
- ② 金属製品・電気機器の部品や、日用雑貨を製造する中小工場が多く分布し、尼崎・堺・門真などの工業都市がある。
- ③ この工業地帯において自動車生産の中心となっている豊田市は、いわゆる企業城下町のひとつである。
- ④ 第二次世界大戦の際、空襲を避けて他の地域から諏訪湖周辺に工場が移ってきており、戦後、それらを起点に機械工業が発展した。

問7 【地図4】中の(工)湾に関連して、A・Bそれぞれの問いに答えなさい。

A 空欄(工)にあてはまる語句を漢字で答えなさい。

B (工)湾について述べた文として誤っているものを、次の①～④の中からひとつ選んで番号で答えなさい。

- ① 湾に面する敦賀市などに原子力発電所が建設されている。
- ② 志摩半島、三陸海岸などと同様に、起伏の大きな山地が海に沈んでできたリアス海岸が発達している。
- ③ 日本三景のひとつである天橋立が湾内にある。
- ④ 東北地方太平洋沖地震とそれにもなう津波によって、湾内の原子力発電所の一部は大きな被害を受け、現在は廃止されている。

問8 【地図1】～【地図6】は、「ある法則」にもとづいて順番に並べられています。【地図5】にあてはまる県としてふさわしいものを、次の①～④の中からひとつ選んで番号で答えなさい。

- ① 福井県                      ② 静岡県                      ③ 和歌山県                      ④ 三重県

問9 【地図6】が示している県は、伝統工芸品の生産地として知られています。

【地図6】が示している県の伝統工芸品としてふさわしいものを、次の①～④の中からひとつ選んで番号で答えなさい。

- ① 西陣織                      ② 美濃焼                      ③ 輪島塗                      ④ 有田焼

2 次の文章を読んで、あとの問いに答えなさい。

「源」という姓は、天皇を祖とする氏族と与えられたものです。皇族がその身分を離れ、姓を与えられて臣下となることを「臣籍降下」といいます。「源」の命名の由来については、皇室と祖先（源流）を同じくする氏族という意味、「水元」という意味、5～6世紀にかけて中国華北を支配した(ア)北魏において皇帝の同族に「源」を名乗らせた事例の影響を受けた等、諸説あります。

一般的に、系図を遡って最初に行き当たる天皇の名を冠して「○○源氏」と表現します。この表記で示すことのできる「源氏」は約20ほど存在します。そのなかでも「源氏」といえば、源頼朝など武士の棟梁となった(イ)「清和源氏」が有名ですが、日本の歴史上、清和源氏以外にも多くの「源氏」が存在しており、武士や公家として活躍しています。そのひとつとして(ウ)「村上源氏」を挙げることができます。

10世紀半ば頃、村上天皇の親王とその子らを臣籍降下させ、「源」の姓が与えられました。「村上源氏」とは、彼らとその子孫を指します。源氏の各系統の公家の中では数の面で最大級の勢力を有しており、藤原氏に次ぐ存在といっても過言ではありません。

(エ) 朝の重臣として有名な北畠親房も村上源氏です。後醍醐・後村上両天皇に仕えるとともに、神代から皇室の歴史を記した(オ)『神皇正統記』の著者としても知られています。その子孫は、織田信長によって事実上滅ぼされるまで、伊勢国を本拠地としました。

村上源氏の系統のひとつであり、戦国時代を生き抜いて大名として存続した久留米藩の有馬家があります。松平頼方、のちの徳川吉宗が有馬家の大名行列を見て羨んだという逸話が残っています。同じ村上源氏の系統である(カ)の娘を母とする、昭和初期の当主頼寧は、農林大臣等を務めた政治家であり、戦後は日本中央競馬会理事長となりました。競馬の「有馬記念」は、彼の功績に因んで命名されました。江戸時代を経て、現在までその家系は続いています。

村上源氏の系統の公家のなかでは、孝明・明治両天皇に仕えた(キ)が有名です。彼は、(ク)の予備交渉を目的とした欧米への使節団の大使として派遣されるなど、(カ)明治政府の中心人物のひとつとして活躍しました。その功績によって、彼の死後、日本初の国葬が執りおこなわれました。また、昭和二十年代から昭和の末頃まで(ケ)彼の肖像の描かれた五百円紙幣が発行されていました。

このように、清和源氏以外にも「源氏」は多く存在しています。これらを調べると、新たな発見があるかもしれません。

問1 下線部(ア)の彫刻様式の影響を強く受けた仏像として最もふさわしいものを、次の①～④の中からひとつ選んで番号で答えなさい。

- ① 東大寺南大門金剛力士像
- ② 法隆寺金堂釈迦三尊像
- ③ 平等院鳳凰堂阿弥陀如来像
- ④ 東大寺大仏

問2 下線部(イ)に関連して述べた文として誤っているものを、次の①～④の中からひとつ選んで番号で答えなさい。

- ① 源頼義・義家親子が、前九年合戦とよばれる、現在の東北地方における戦乱を平定した。
- ② 源義家が、後三年合戦とよばれる、現在の東北地方における戦乱を平定した。
- ③ 尊氏で知られる足利氏は、清和源氏の流れを汲む一族である。
- ④ 信長で知られる織田氏は、清和源氏の流れを汲む一族である。

問3 下線部(ウ)が誕生した頃の出来事について述べた文として最もふさわしいものを、次の①～④の中からひとつ選んで番号で答えなさい。

- ① 摂政または関白がほぼ常置されるようになり、その地位には藤原氏が就くようになった。
- ② 中臣鎌足が藤原姓を与えられた。
- ③ 藤原氏出身の光明子が聖武天皇の皇后となった。
- ④ 天武天皇の皇子である刑部親王と、藤原不比等らによって、大宝律令が完成した。

問4 空欄(工)にあてはまる語句を漢字1字で答えなさい。

問5 下線部(オ)において触れられている内容としてふさわしくないものを、次の①～④の中からひとつ選んで番号で答えなさい。

- ① 承久の乱
- ② 院政の開始
- ③ 鉄砲の伝来
- ④ 保元の乱

問6 空欄(力)にあてはまる人物を姓名ともに漢字で答えなさい。

問7 空欄(キ)に適切な文章を答えなさい。

問8 下線部(ク)に関連して、明治政府の政策について述べた文として正しいものを、次の①～④の中からひとつ選んで番号で答えなさい。

- ① 大日本帝国憲法は、衆議院の議決を経て制定された。
- ② 地租改正条例が公布され、農民すべてが地価の3%を地租として米などで納めることとした。
- ③ 樺太・千島交換条約によって、千島全島を日本領、樺太をロシア領とした。
- ④ 西洋諸国に倣って、旧暦を廃止して太陰暦を採用した。

問9 下線部(ケ)が発行されていた頃について述べた文としてふさわしくないものを、次の①～④の中からひとつ選んで番号で答えなさい。

- ① 柳条湖事件を契機<sup>けいき</sup>に、満州事変が始まった。
- ② 日ソ共同宣言が調印された。
- ③ 佐藤栄作内閣によって、日韓基本条約が締結された。
- ④ 中曽根康弘内閣によって、日本国有鉄道が民営化された。

**3** 次の文章は、「川崎市子どもの権利に関する条例」の前文です。文章を読んで、あとの問いに答えなさい。(文章には一部ふりがなをつけた部分があります。)

子どもは、それぞれが一人の人間である。子どもは、かけがえのない価値と尊厳を持っており、個性や他の者との違いが認められ、自分が自分であることを大切にされたいと願っている。

子どもは、<sup>(ア)</sup> 権利の全面的な主体である。子どもは、子どもの最善の利益の確保、<sup>(イ)</sup> 差別の禁止、子どもの意見の尊重などの国際的な原則の下で、その権利を総合的に、かつ、現実に保障される。子どもにとって権利は、人間としての尊厳をもって、自分を自分として実現し、自分らしく生きていく上で不可欠なものである。

子どもは、その権利が保障される中で、豊かな子ども時代を過ごすことができる。

<sup>(ウ)</sup> 子どもの権利について学習することや実際に行使することなどを通して、子どもは、権利の認識を深め、権利を実現する力、他の者の権利を尊重する力や責任などを身に付けることができる。また、自分の権利が尊重され、保障されるためには、同じように他の者の権利が尊重され、保障されなければならず、それぞれの権利が相互に尊重されることが不可欠である。

子どもは、大人とともに社会を構成するパートナーである。<sup>(エ)</sup> 子どもは、現在の社会の一員として、また、未来の社会の担い手として、社会の在り方や形成にかかわる固有の役割があるとともに、そこに参加する権利がある。そのためにも社会は、子どもに開かれる。

子どもは、同時代を生きる地球市民として国内外の子どもと相互の理解と交流を深め、共生と平和を願い、自然を守り、都市のより良い環境を創造することに欠かせない役割を持っている。

<sup>(オ)</sup> 市における子どもの権利を保障する取組は、市に生活するすべての人々の共生を進め、その権利の保障につながる。私たちは、子ども最優先などの国際的な原則も踏まえ、それぞれの子どもが一人の人間として生きていく上で必要な権利が保障されるよう努める。

私たちは、こうした考えの下、平成元年11月20日に<sup>(カ)</sup> 国際連合総会で採択された<sup>(キ)</sup>「児童の権利に関する条約」の理念に基づき、子どもの権利の保障を進めることを宣言し、この<sup>(ク)</sup> 条例を制定する。



問1 下線部(ア)に関連して、日本国憲法で定められている国民の権利及び義務について、次の日本国憲法第12条の条文中の空欄  ・  にあてはまる語句を漢字で答えなさい。

この憲法が国民に保障する自由及び権利は、国民の  の努力によつて、これを保持しなければならない。又、国民は、これを濫用してはならないのであつて、常に公共の  のためにこれを利用する責任を負ふ。

問2 下線部(イ)に関連して、日本国憲法では、すべての国民が法の下に平等であるとされています。日本における「平等」について述べた文として誤っているものを、次の①～④の中からひとつ選んで番号で答えなさい。

- ① 婚姻は、両性の合意のみに基づいて成立し、婚姻後は夫の氏を称する。
- ② 人種・性別により、政治的・経済的または社会的関係において差別されない。
- ③ 国会議員の資格は、社会的身分や財産などによって差別されない。
- ④ 華族その他の貴族の制度は認められない。

問3 下線部(ウ)について、子どもにこのような力を身に付けさせるための手段のひとつに「教育」を挙げることができます。教育を受ける権利の内容について、次の日本国憲法第26条の条文中の空欄  にあてはまる語句を漢字で答えなさい。

すべて国民は、法律の定めるところにより、その  に応じて、ひとしく教育を受ける権利を有する。

問4 下線部(エ)に関連して、未成年者の民意を反映させるため、実際に「ある地方公共団体」でおこなわれた例としてふさわしいものを、次の①～④の中からひとつ選んで番号で答えなさい。

- ① 特定の地方公共団体のみに適用される特別法の制定に必要な住民投票に、中学生も参加した。
- ② 対象を特定せずに市町村合併の賛否を問う住民投票をおこなった際、条例を定めて中学生にもこの住民投票の投票資格を与えた。
- ③ 首長の解職の賛否を問う住民投票において、中学生にも投票資格が与えられた。
- ④ 議会の解散の賛否を問う住民投票において、中学生にも投票資格が与えられた。

**問5** 下線部(オ)に関連して、日本における「市」について述べた文として正しいものを、次の①～④の中からひとつ選んで番号で答えなさい。

- ① 公正な教育行政をおこなうため、市長の指導の下に教育委員会が置かれている。
- ② 市議会は、一院制である。
- ③ 市の財政は、市議会や国が監視しており、破綻することはない。
- ④ 市長は、市議会議員の中から選出される。

**問6** 下線部(力)について述べた文として正しいものを、次の①～④の中からひとつ選んで番号で答えなさい。

- ① 国際連合の総会での議決方法は、全会一致制が採用されている。
- ② 現在、国際連合の加盟国の約半数をアジアの国々が占めている。
- ③ 国際連合の本部は、スイスのジュネーヴにある。
- ④ 国際連合の専門機関のひとつに、国際的保健事業を担うWHOがある。

**問7** 下線部(キ)に関連して、「児童の権利に関する条約」(「子どもの権利条約」)の草案作りに参加し、世界の子どもたちを保護する活動をしている、国際連合の機関を答えなさい。

**問8** 下線部(ク)の制定を求めて、住民が一定数以上の署名を集めて直接請求する請求先として最もふさわしいものを、次の①～④の中からひとつ選んで番号で答えなさい。

- ① 地方議会
- ② 選挙管理委員会
- ③ 地方公共団体の首長
- ④ 公安委員会