

平成28年度 入学試験問題

社 会

第 2 回

||||| 【注 意】 |||||

試験時間は理科とあわせて60分間です。(11:10～12:10)

社会と理科両方の教科の問題を時間内に解いてください。

問題は1ページから11ページまでです。

解答はすべて解答用紙に記入してください。

解答用紙に受験番号、氏名を記入してください。

|||||



洗足学園中学校

1 次の文章を読んで、あとの問いに答えなさい。

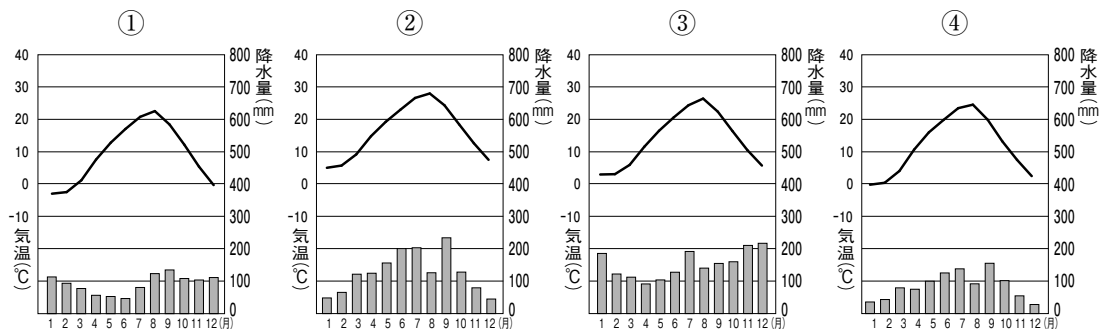
東海地方3県の人口は、全国の人口の約10%を占めています。愛知県西部には(ア)名古屋市があり、周辺の岐阜県南部や岡崎平野と合わせて中京圏を形成しています。静岡県は首都圏と中京圏の間にあり、かつては主に(イ)東西間の通路の役割を担っていましたが、高度経済成長期の頃から工業集積が進み、太平洋ベルトの一部として発展し、多くの都市が形成されました。

(ウ)東海地方の工業は、工業製品出荷額で全国の約20%を占めています。愛知県を中心に岐阜県南部と静岡県西部を合わせた地域では、江戸時代後期から明治時代にかけて(エ)繊維・衣服、食品、木材加工業などが発達し、それに関連して織機や茶摘機などの機械工業も発達しました。その後は、さらに各地でさまざまな工業が発達し、なかでも名古屋市周辺における(オ)工業の発展が著しく、東海地方は全国有数の生産地となっています。

東海地方には、多様な農業地域が成立しており、(カ)各種の野菜・果実・花卉類、茶などが生産されています。農業生産額が多い市町村は、太平洋に面した温暖な地域に分布しています。沿海部には多くの漁港が発達し、清水港・焼津港に代表される遠洋漁業基地もあります。また、愛知県と静岡県は全国有数の(キ)の養殖地となっています。

東海地方の山間部は、降水に恵まれ、(ク)森林を育むと同時に、(ケ)そこから流れ出す河川が下流部にいくつもの平野をつくりました。また、河川の下流部には、丘陵や台地も発達しています。北部の山地では、山岳観光が盛んで、沿海部の(コ)砂浜には海水浴場が多く、また、伊豆半島をはじめとして各地に温泉があります。それらのなかには国立公園・国定公園に指定されているところもあります。

問1 下線部(ア)における月別の平均気温と降水量を示しているグラフを、次の①～④の中からひとつ選んで番号で答えなさい。



(『理科年表 平成28年』より作成)

問2 下線部（イ）に関連して、静岡県の交通機関について述べた文として正しいものを、次の①～④の中からひとつ選んで番号で答えなさい。

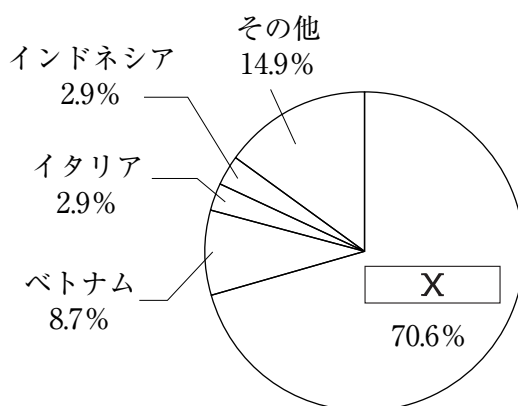
- ① 静岡県には、複数の高速道路が通っている。
- ② 静岡県には、新幹線に加えてリニア新幹線の駅が複数建設される予定である。
- ③ 静岡県には、空港が建設されていない。
- ④ 静岡県には、日本で最も貿易額が大きい港がある。

問3 下線部（ウ）に関連して、東海地方周辺の工業について述べた文として正しいものを、次の①～④の中からひとつ選んで番号で答えなさい。

- ① 中京工業地帯の工業製品出荷額^{しゅつか}は、2013年現在、全国の工業地帯・工業地域のなかでは、京浜工業地帯に次いで多い。
- ② 東海工業地域の工業製品出荷額^{しゅつか}は、2013年現在、瀬戸内工業地域や北九州工業地帯を上回っている。
- ③ 中京工業地帯と東海工業地域の機械工業の産業別出荷額割合^{しゅつか}は、2013年現在、ともに50%を上回っている。
- ④ 中京工業地帯には信楽焼の生産で知られる瀬戸市があり、東海工業地域には楽器の生産で知られる浜松市がある。

問4 下線部 (工) に関連して、次の【資料1】は日本の衣類の主な輸入先を示したものです。また、【資料2】は、日本と【資料1】中の空欄 にあてはまる国との間の貿易における主な輸出入品目を示したものです。空欄 にあてはまる国を答えなさい。

【資料1】



(『日本国勢図会2015/16年版』より作成)

【資料2】

<input type="text" value="X"/> への輸出	百万円	%	<input type="text" value="X"/> からの輸入	百万円	%
機械類	5,601,080	41.9	機械類	8,870,619	46.3
科学光学機器	917,538	6.9	衣類	2,303,346	12.0
有機化合物	844,001	6.3	金属製品	604,173	3.2
自動車部品	716,183	5.4	家具	437,410	2.3
プラスチック	709,571	5.3	がん具	420,091	2.2
自動車	630,320	4.7	プラスチック製品	391,865	2.0
鉄鋼	615,632	4.6	はきもの	381,021	2.0
銅・同合金	249,755	1.9	科学光学機器	322,040	1.7
金属製品	244,709	1.8	有機化合物	311,945	1.6
織物類	150,099	1.1	自動車部品	303,720	1.6
石油製品	144,557	1.1	バッグ類	288,513	1.5
鉄鋼くず	144,035	1.1	魚介類	269,480	1.4
			野菜	260,199	1.4
			鉄鋼	228,541	1.2
			無機化合物	210,787	1.1
計 (その他を含む)	13,381,487	100.0	計 (その他を含む)	19,176,450	100.0

(『日本国勢図会2015/16年版』より作成)

問5 次の【地図】は、空欄(オ)にあてはまる工業製品の工場の立地を示したものです。空欄(オ)にあてはまる工業製品を答えなさい。

【地図】



(『日本国勢図会 2015/16年版』より作成)

問6 下線部(力)に関連して、次の【資料】は、日本における農業総産出額の構成の推移を示したものです。【資料】中の①～④は、米・野菜・果実・畜産物のいずれかを示しています。野菜を示しているものを、【資料】中の①～④の中からひとつ選んで番号で答えなさい。

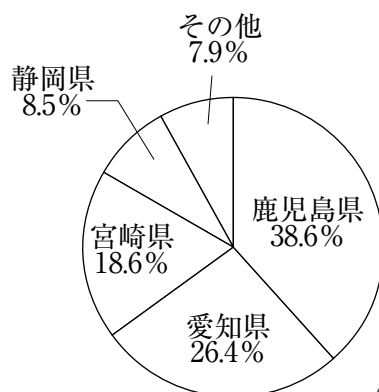
【資料】

	1970年	1985年	2000年	2013年
①	25.9%	28.0%	26.9%	32.0%
②	15.8%	18.1%	23.2%	26.6%
③	37.9%	32.9%	25.4%	21.0%
④	8.5%	8.1%	8.9%	9.0%
その他	11.9%	12.9%	15.6%	11.4%

(『日本国勢図会 2015/16年版』より作成)

問7 次の【資料】は、空欄(キ)にあてはまる水産物の都道府県別漁獲量の割合を示したものです。空欄(キ)にあてはまる水産物を答えなさい。

【資料】



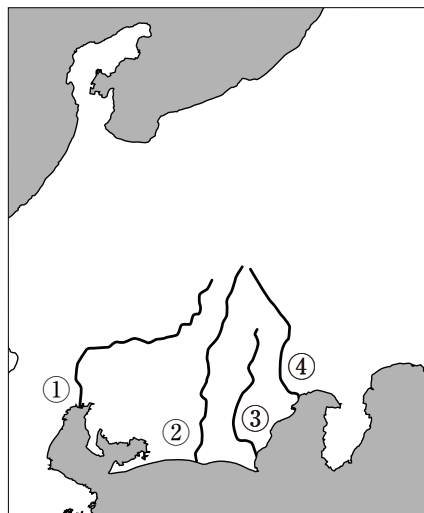
(『データでみる県勢2014年版』より作成)

問8 下線部(ク)に関連して、日本の林業に関わることがらについて述べた文として誤っているものを、次の①～④の中からひとつ選んで番号で答えなさい。

- ① 青森のひば・秋田のすぎ・木曽のひのきは、天然の三大美林とよばれている。
- ② 2012年現在、日本の森林蓄積量の約60%を人工林が占めている。
- ③ 2013年現在、日本の木材は、パルプ・チップ用として用いられるものが最も多く、製材用として用いられるものがその次に多い。
- ④ 2014年現在、日本の木材の輸入先の第1位はインドネシアであり、第2位はアメリカ合衆国である。

問9 下線部(ケ)に関連して、天竜川を示しているものを、【地図】中の①～④の中からひとつ選んで番号で答えなさい。

【地図】



問10 下線部(コ)に関連して、砂浜は、川が運んできた土砂などによってつくられていきます。近年、東海地方の砂浜のなかには、侵食が進み、面積が減っているところがあります。その原因を、川の上流でおこなわれてきたことにふれて、文章で説明しなさい。

2 次の川崎市に関連する歴史年表を見て、あとの問いに答えなさい。

(ア) 紀元前8000年頃	野川、神木、梶ヶ谷などで尖頭器が用いられていた。
紀元前5000年頃	子母口に集落が作られる。
紀元前5000～3000年頃	溝の口付近に海岸線があった。久本に集落が作られる。
1世紀頃	(イ) 現在の川崎市域で稲作が開始される。
100～300年頃	多摩川に面した台地の上に多くの集落が作られる。
400年頃	加瀬、白山に古墳が造営される。
740年	野川に影向寺が建立される。
755年	橋樹郡の (ウ) 農民物部真根が西への出発に際して妻と惜別の歌を交換。(『万葉集』)
756年	橋里の刑部直が調庸として布を納める。
1184年	稲毛重成が率いる軍兵が源範頼に従って、源義仲を攻める。
1333年	(エ) 後醍醐天皇、足利尊氏に恩賞として麻生郷を与える。
1590年	(オ) 豊臣秀吉は現在の川崎市内にある村々に対し、兵士が乱暴・狼藉などをすることを禁止する。
1608年	徳川秀忠が小杉御殿を建設する。
1623年	徳川秀忠・家光父子が京都に上るのに際して、川崎を正規の宿場とし、これによって東海道は五十三次となる。
1800年	下総国古河から古河梨を移植して川崎地域で栽培する。
1809年	(カ) 『東海道中膝栗毛』が完成し、川崎宿の様子が描かれる。
1821年	早魃が起こり幕領川崎領の20村と溝の口村との間に、二ヶ領用水の分水をめぐって争いが起こる。
1872年	川崎停車場が造られる。
1890年	(キ) 第1回衆議院議員総選挙で、神奈川2区で橋樹郡出身の山田泰造が当選する。(神奈川2区は、現在の川崎市と、横浜市の大部分から構成されていました)
1924年	(ク) 川崎町、美幸村、大師町が合併して川崎市が誕生する。

(注) 「みぞのくち」の表記は、住所は「溝口」、東急線の駅名は「溝の口」、JR南武線の駅名は「武蔵溝ノ口」とされています。ここでは「溝の口」を用いました。

問1 下線部(ア)の時期の日本列島の様子について述べた文としてふさわしいものを、次の①～④の中からひとつ選んで番号で答えなさい。

- ① 人々は竪穴住居に住んでいた。
- ② ナウマンゾウなど、大型動物が大陸から渡ってきた。
- ③ 中国の歴史書には、倭国が百余国に分かれていたと記されている。
- ④ 朝鮮半島から青銅器がもたらされた。

問2 下線部(イ)に関連して、1330年代頃成立したと思われる「ある書物」のなかに、「宿河原」という地名が登場します。これは、現在の川崎市多摩区の宿河原だと考えられています。この書物の著者としてふさわしいものを、次の①～④の中からひとり選んで番号で答えなさい。

- ① 鴨長明
- ② 曲亭馬琴
- ③ 兼好法師
- ④ 日蓮

問3 下線部(ウ)の歌は、当時この地方で使われていた方言で書かれています。物部真根は「ある役割」を務めるために故郷を旅立ちました。「ある役割」とは何ですか。【歌の大意】を参考にして漢字2字で答えなさい。

「家ろには 葦火焚けども 住み良けを 筑紫に至りて 恋しけもはも」

【歌の大意】

今まで、この家で葦を焚くような貧しい生活でも住み良かったのだが、(このことを)筑紫に着いたら恋しく思うのだろうか。

問4 下線部(エ)に関連して、足利尊氏は建武の新政政府より麻生郷を与えられました。建武の新政政府誕生における足利尊氏の功績として最もふさわしいものを、次の①～④の中からひとつ選んで番号で答えなさい。

- ① 京都の室町に「花の御所」とよばれる邸宅を築いた。
- ② 南北朝の合一を実現した。
- ③ 鎌倉を攻撃し、幕府を滅ぼした。
- ④ 六波羅探題を攻め落とした。

問5 下線部(オ)の命令は、この年の3月と4月に出されました。4月から豊臣秀吉は関東に軍を派遣して「ある戦い」を始めました。この命令は、戦いに従軍する兵士たちが村人に損害を与えないようにすることを目的としています。「ある戦い」としてふさわしいものを、次の①～④の中からひとつ選んで番号で答えなさい。

- ① 小田原攻め ② 文禄の役 ③ 延暦寺焼打ち ④ 長篠合戦

問6 下線部(カ)の作者と同じく、東海道を題材とした東海道五十三次の作者としてふさわしいものを、次の①～④からひとり選んで番号で答えなさい。

- ① 狩野永徳 ② 歌川広重 ③ 雪舟 ④ 快慶

問7 下線部(キ)について述べた文として正しいものを、次の①～④の中からひとつ選んで番号で答えなさい。

- ① 第1回衆議院議員総選挙の当選者は、その過半数が明治政府の官僚出身者であった。
② 国民の半数以上に選挙権が与えられ、有権者の90%以上が投票した。
③ 北海道と沖縄県では、第1回衆議院議員総選挙がおこなわれなかった。
④ 衆議院議員のなかから、伊藤博文が初代総理大臣に選出された。

問8 下線部(ク)に関連して、川崎市が誕生した1924年には、洗足学園の前身である平塚裁縫女学校が創立されました。洗足学園の創立者前田若尾が、市川房枝らとともに取り組んだこととして最もふさわしいものを、次の①～④の中からひとつ選んで番号で答えなさい。

- ① 社会主義者の取り締まり ② 女性の参政権獲得
③ 日中戦争の即時停止 ④ 生活保護制度の創設

3 次の文章は、2015年4月9日の毎日小学生新聞の一部抜粋です。これを読んで、あとの問いに答えなさい。(一部ふりがなをつけた部分があります。)

(ア) 選挙には国政選挙と地方選挙があります。(イ) 国会議員を選ぶのが国政選挙であり、都道府県知事や市区町村長、それぞれの議会の議員を選ぶのが地方選挙です。全国一斉にやるので「統一地方選挙」と呼びます。

地方選挙で選ばれるのは、まちに施設を造ったり、(ウ) まちの新しいルールを作ったりと、私たちの生活に身近な政治をする人たちです。地方選挙は国政選挙ほど大きくは報じられません。しかし、選挙結果が私たちの暮らしに及ぼす影響は、身近なだけにより大きいと言えます。

最初の統一地方選は(エ) 1947年4月でした。戦争が終わって(オ) 憲法が新しくなり、地域のリーダーも選挙で選ぶことになりました。新しい制度が始まるのに合わせて選挙をしたので、全国で同じ日に実施することになったのです。

(中略)

まとめて選挙をすることには、いくつかのメリットがあります。一つは、選挙の事務をする役所の仕事が効率よくでき、お金も節約できること。もう一つは、世の中に選挙のムードが広がり、投票率のアップが期待できることです。

しかし、実際の統一地方選の投票率は、下がり続けています。前回2011年の都道府県議選では、ついに50%を割ってしまいました。今回の選挙で投票率がどうなるかは大きな関心事です。

選挙の結果にも注目が集まります。最近実施された滋賀(昨年7月)、沖縄(同12月)、佐賀(今年1月)の三つの県知事選では、いずれも自民党が応援する候補が負けました。「地方を大事にする」とアピールしている自民党の応援する候補が、今回どれくらい当選するか。(カ) 安倍晋三総理大臣の政治に対する評価の目安になると考えられています。

統一地方選があるのは日本だけではありません。昨年を振り返ってみても、フランス(3月)、韓国(6月)、台湾(11月)などで統一地方選がありました。また、(キ) 沖縄県では、日本がアメリカに占領されていた1946年9月に最初の地方選挙があったので、約半年早く統一地方選が実施されます。やはり辞職や合併などで、自治体によりズレがあります。

選挙で投票できる年齢を20歳以上から18歳以上に引き下げる準備が進んでいます。公職選挙法の改正案が、今開かれている国会で成立する見通しです。世界的には18歳になったら投票できる国が多く、若者にも選挙に関心を持ってもらおうというのが狙いです。

問1 下線部（ア）に関連して、A・Bそれぞれの問いに答えなさい。

A 選挙の際、政党や候補者が自分たちの政策などについて有権者にする約束を何といいますか。漢字2字で答えなさい。

B 日本でおこなわれている選挙の原則について述べた文としてふさわしくないものを、次の①～④の中からひとつ選んで番号で答えなさい。

- ① 有権者はひとりにつき1票を持つ平等選挙である。
- ② 有権者に投票義務がある責任選挙であるが、投票しなくても罰則はない。
- ③ 一定の年齢に達した国民すべてに選挙権がある普通選挙である。
- ④ 投票の内容が他者に知られないよう、無記名でおこなう秘密選挙である。

問2 下線部（イ）に関連して、内閣総理大臣は国会において、国会議員の中から選ばれます。内閣は国会に対して連帯して責任を負います。このような制度を何といいますか。漢字で答えなさい。

問3 下線部（ウ）について、地方公共団体が制定する法規を漢字で答えなさい。

問4 下線部（エ）の年、日本に最高裁判所が設置されました。次の日本国憲法第79条の条文中の空欄 にあてはまる語句を漢字で答えなさい。

最高裁判所は、その長たる裁判官及び法律の定める員数のその他の裁判官でこれを構成し、その長たる裁判官以外の裁判官は、 でこれを任命する。

問5 下線部（オ）に関連して、日本国憲法は国の最高法規であるため、その改正には慎重な手続きが規定されています。憲法の改正について述べた文X・Yについて、その正誤の組み合わせとして正しいものを、次の①～④の中からひとつ選んで番号で答えなさい。

X 各議院の総議員の過半数の賛成で、国会が憲法の改正を発議する。
Y 国会で発議された改正案は国民投票で有効投票数の3分の2以上の賛成により承認される。

- ① X 正 Y 正
- ② X 正 Y 誤
- ③ X 誤 Y 正
- ④ X 誤 Y 誤

問6 下線部(力)に関連して、2014年11月に衆議院が解散されました。衆議院の解散がなされる場合について、日本国憲法ではふたつの条文で規定されています。ひとつは、衆議院で内閣不信任決議案が可決されるか、内閣信任決議案が否決された場合です。もうひとつはどのように定められていますか。「内閣」・「天皇」のふたつの語句を用いて文章で説明しなさい。

問7 下線部(キ)について、A・Bそれぞれの問いに答えなさい。

A 連合軍に占領^{せんりょう}されていた日本は、サンフランシスコ平和条約によって独立を回復しました。この条約が締結された年の出来事としてふさわしいものを、次の①～④の中からひとつ選んで番号で答えなさい。

- ① 日本が国際連合に加盟した。 ② 自衛隊が発足した。
③ 日米安全保障条約が調印された。 ④ 朝鮮戦争が勃発^{はっぱつ}した。

B アメリカ合衆国に占領^{せんりょう}されていた沖縄が日本に復帰した際の内閣総理大臣を、次の①～④の中からひとり選んで番号で答えなさい。

- ① 佐藤栄作 ② 池田勇人 ③ 大平正芳 ④ 福田赳夫