

平成28年度 入学試験問題

社 会

第 1 回

||||| 【注 意】 |||||

試験時間は理科とあわせて60分間です。(11:10～12:10)

社会と理科両方の教科の問題を時間内に解いてください。

問題は1ページから10ページまでです。

解答はすべて解答用紙に記入してください。

解答用紙に受験番号、氏名を記入してください。

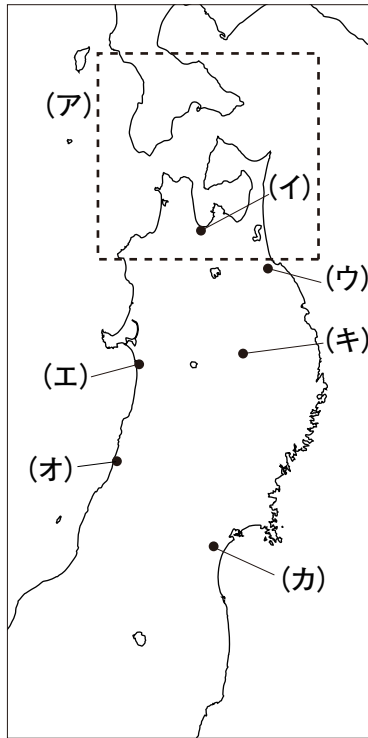
|||||



洗足学園中学校

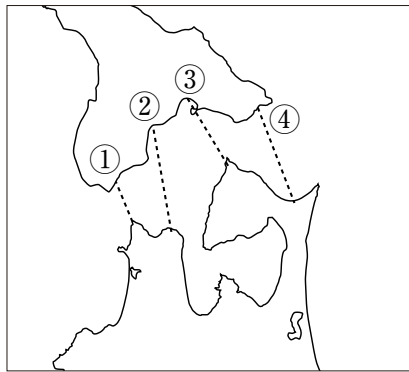
1 東北地方について、次の【地図】を見て、あとの問いに答えなさい。

【地図】



問1 【地図】中の(ア)の区域には、青森県と北海道を結ぶ青函トンネルが通っています。青函トンネルを示しているものを、次の【地図】中の①～④の中からひとつ選んで番号で答えなさい。

【地図】



問2 【地図】中の(イ)・(エ)・(カ)の都市では、夏になると有名な祭りがそれぞれおこなわれ、「東北三大祭り」とよばれています。都市と祭りの組み合わせとして正しいものを、次の①～⑥の中からひとつ選んで番号で答えなさい。

- | | | | |
|---|-------------|-------------|-------------|
| ① | (イ) - 七夕祭り | (エ) - ねぶた祭り | (カ) - 竿灯祭り |
| ② | (イ) - 七夕祭り | (エ) - 竿灯祭り | (カ) - ねぶた祭り |
| ③ | (イ) - ねぶた祭り | (エ) - 七夕祭り | (カ) - 竿灯祭り |
| ④ | (イ) - ねぶた祭り | (エ) - 竿灯祭り | (カ) - 七夕祭り |
| ⑤ | (イ) - 竿灯祭り | (エ) - 七夕祭り | (カ) - ねぶた祭り |
| ⑥ | (イ) - 竿灯祭り | (エ) - ねぶた祭り | (カ) - 七夕祭り |

問3 【地図】中の(ウ)は、東北地方の主な漁港において、2013年に最も水揚量が多かった漁港がある都市です。次の【資料】は、東北地方で水揚量が多い水産物の、都道府県別の海面漁業魚種別漁獲量および海面養殖業魚種別収穫量の割合を示したもので、【資料】中の①～④は、いか類、かき類、まぐろ類、わかめ類のいずれかを示しています。かき類について示しているものを、①～④の中からひとつ選んで番号で答えなさい。

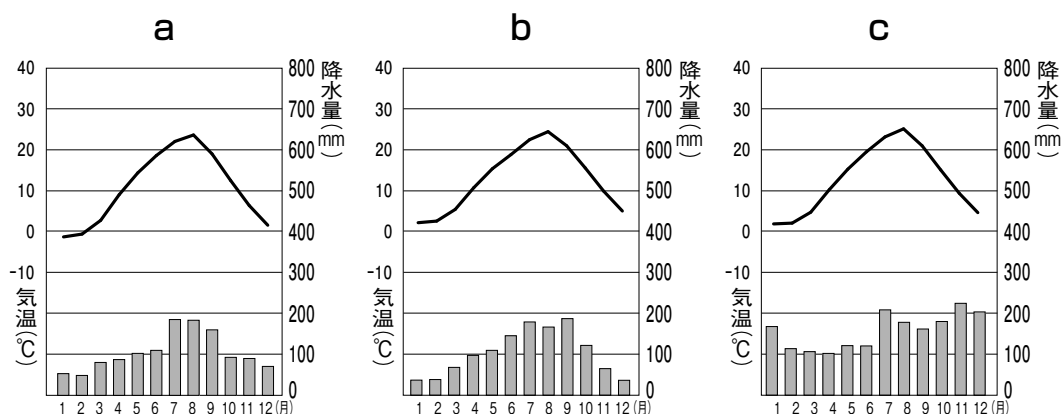
【資料】

①	②	③	④
静岡県 15.1%	北海道 29.2%	広島県 63.4%	岩手県 35.8%
宮城県 11.2%	青森県 24.4%	宮城県 11.4%	宮城県 30.3%
高知県 11.0%	長崎県 7.8%	岡山県 9.1%	徳島県 15.5%

(「農林水産省 平成26年漁業・養殖業生産統計」より作成)

問4 次の【資料】は、【地図】中の(オ)・(力)・(キ)の都市の月別の平均気温と降水量を示したものです。a～cと(オ)・(力)・(キ)の組み合わせとしてふさわしいものを、次の①～⑥の中からひとつ選んで番号で答えなさい。

【資料】



(『理科年表 平成28年』より作成)

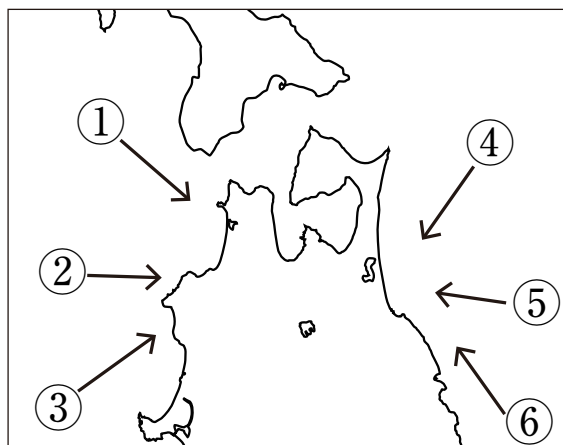
- | | | | |
|---|---------|---------|---------|
| ① | a - (オ) | b - (力) | c - (キ) |
| ② | a - (オ) | b - (キ) | c - (力) |
| ③ | a - (力) | b - (オ) | c - (キ) |
| ④ | a - (力) | b - (キ) | c - (オ) |
| ⑤ | a - (キ) | b - (オ) | c - (力) |
| ⑥ | a - (キ) | b - (力) | c - (オ) |

問5 【地図】中の(オ)の都市は、「ある河川」により運ばれた土砂が堆積して形成された沖積平野における中心都市です。米沢盆地や山形盆地を通して日本海に流れ込んでいる「ある河川」を漢字で答えなさい。

問6 東北地方では、「やませ」という風が吹くことによって、農作物の収穫量が少なくなる場合があります。これに関連して、A・Bそれぞれの問いに答えなさい。

A 「やませ」は主にどの方角から吹く風ですか。次の【地図】中の①～⑥の中からひとつ選んで番号で答えなさい。

【地図】



B 「やませ」が吹くことによって、農作物の収穫量が少なくなる場合があるのはなぜですか。その理由を「やませ」が吹く季節や風の性質にふれて、文章で説明しなさい。

問7 東北地方では果実の栽培が盛んです。次の【資料】は、東北地方で生産量の多い果実の都道府県別の生産量の割合を示したものです。このうち、ももを示しているものを、次の①～④の中からひとつ選んで番号で答えなさい。

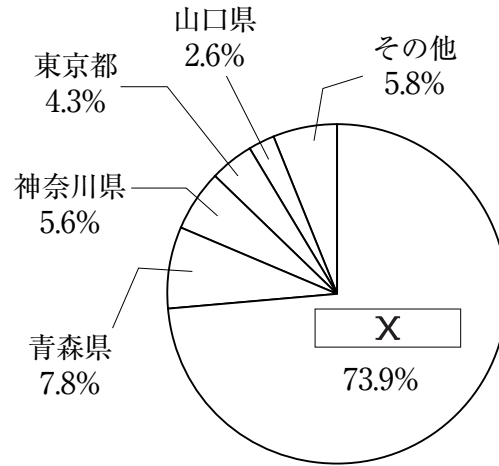
【資料】

①	②	③	④
青森県 55.5%	山形県 63.2%	山梨県 25.4%	山梨県 31.4%
長野県 20.9%	新潟県 7.4%	長野県 14.1%	福島県 23.5%
山形県 6.3%	長野県 7.0%	山形県 8.8%	長野県 12.3%

(『日本国勢図会 2015/16年版』より作成)

問8 青森県の三沢市には、在日米軍施設があります。次の[資料]は、在日米軍施設・区域（専用施設）の都道府県別面積の割合を示したものです。空欄 にあてはまる都道府県を、次の①～⑥の中からひとつ選んで番号で答えなさい。

[資料]

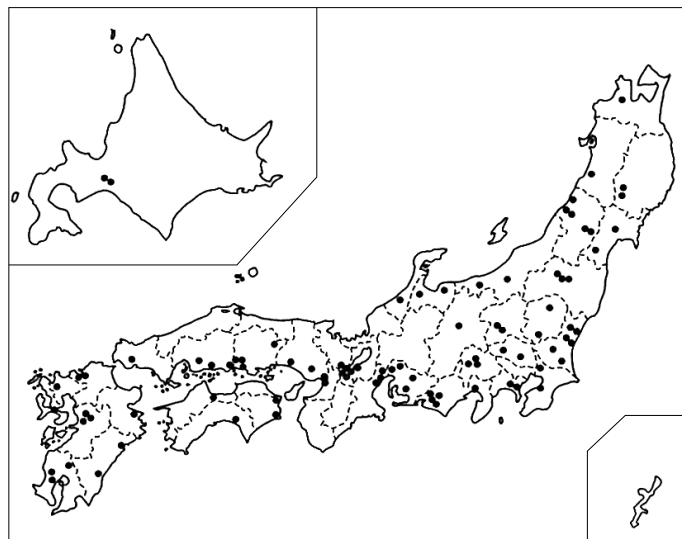


(防衛省ホームページより作成、2015年3月31日現在)

- | | | |
|-------|-------|-------|
| ① 沖縄県 | ② 長崎県 | ③ 広島県 |
| ④ 石川県 | ⑤ 静岡県 | ⑥ 北海道 |

問9 次の[地図]は、「ある工業製品」の工場の立地を示したものです。東北地方では高速道路沿いと空港周辺に多く立地していることがわかります。「ある工業製品」を漢字3字で答えなさい。

[地図]



(『日本国勢図会 2015/16年版』より作成)

2 次の文章を読んで、あとの問いに答えなさい。

江戸時代、現在の東京都世田谷区はその3分の2ほどが井伊家の領地であり、その代官を務めていた大場家の世田谷代官屋敷が今も残されています。(ア)1753年に建てられたとされており、その敷地内には代官が(イ)裁判をおこなった臼洲跡があります。毎年1月と12月の15・16日にはボロ市が開かれます。代官屋敷の敷地内に建てられた(ウ)世田谷区立郷土資料館にはボロ市の起源を示すとされる古文書が残されています。

代官だった大場家の日記に、1860年、江戸の屋敷で「変事」があったようだというので、急使を立てて様子を見に行かせたところ、(エ)井伊直弼が亡くなったということを知り、あわてて帰ってきて数人の農民を連れて、また江戸の屋敷に向かったということが記されています。このコースをたどってみました。世田谷の代官屋敷から世田谷通りに出ると、そのまま桜田門まで行くことができます。現在の世田谷通りは、1964年の(オ)東京オリンピック開催の頃に距離を縮めるように改造されました。

世田谷通りを東に進むと、左手に(カ)松陰神社があります。吉田松陰は、1859年に死刑となり、1863年になってこの土地に埋葬されました。

世田谷通りが環状7号線と交差するあたりに駒留八幡神社があります。残されている神像に記された文字から、執権北条時頼があがめた像であることが分かります。

三軒茶屋において世田谷通りは国道246号線に合流します。国道246号線を進むと、道玄坂を下り、渋谷駅に到着します。(キ)道玄坂1丁目と2丁目において、古墳時代から奈良時代にかけて造られた横穴古墳群などが発見されていますが、当時の人々はこうした台地の上に住んでいたと思われます。

渋谷駅前を通過すると宮益坂を登ります。宮益坂を登り切ると、右側に青山学院大学、左側に国連大学があります。この付近において(ク)高野長英が幕府の役人に追われて自殺しました。

青山や赤坂を過ぎると、江戸城防衛のための監視所であった赤坂見附に着きます。さらにしばらく進んで、最高裁判所前を右に曲がるとすぐに井伊家の屋敷跡に着きます。当時の井戸の跡があり、その向こうには国会議事堂が見えています。国会前庭を下ると警視庁があり、その前が桜田門です。ここで井伊直弼が殺害されたのです。

問1 下線部(ア)に関連して、1753年以後の出来事としてふさわしいものを、次の

①～④の中からひとつ選んで番号で答えなさい。

- ① 井原西鶴が『日本永代蔵』を著した。
- ② 徳川綱吉によって、孔子を祀る聖堂が湯島に設けられた。
- ③ 松尾芭蕉が東北地方を旅して『奥の細道』を著した。
- ④ 松平定信が飢饉にそなえて穀物を蓄えるよう命じた。

問2 下線部(イ)に関連して述べた文Ⅰ～Ⅳについて、正しいものの組み合わせを、次の①～④の中からひとつ選んで番号で答えなさい。

- Ⅰ 律の規定によって^{けいばつ}刑罰が定められた。
- Ⅱ 令の規定によって^{けいばつ}刑罰が定められた。
- Ⅲ 御成敗式目によって御家人の所領相続の規定などが定められた。
- Ⅳ 永仁の徳政令によって御家人の所領相続の規定などが定められた。

- ① Ⅰ・Ⅲ ② Ⅰ・Ⅳ ③ Ⅱ・Ⅲ ④ Ⅱ・Ⅳ

問3 下線部(ウ)に関連して、戦国大名の北条氏によって発行された文書には、次のように記されています。戦国大名が【史料】中の下線部のような政策をおこなった主な目的について、文章で説明しなさい。【史料】は一部省略し、現代の言葉に改めてあります。

【史料】

掟

一、一か月のうち、市を開く日は、次のように定める。

一日、六日、十一日、

十六日、二十一日、二十六日

一、^{けんか}喧嘩や口論することを禁止する。

一、市場内では諸税を一切取り立ててはならない。

以上、楽市として定めるものとする。

問4 下線部(工)が大老に就任したのはどの時期ですか。次の①～④の中からひとつ選んで番号で答えなさい。

- Ⅰ ペリーが浦賀に来航した。
- Ⅱ 日米和親条約が調印された。
- Ⅲ 日米修好通商条約が調印された。
- Ⅳ 吉田松陰が死刑となった。
- Ⅴ 天皇の妹を将軍徳川家茂の妻としてむかえた。

- ① ⅠとⅡの間 ② ⅡとⅢの間 ③ ⅢとⅣの間 ④ ⅣとⅤの間

問5 下線部(オ)が開催された年の日本について述べた文として正しいものを、次の①～④からひとつ選んで番号で答えなさい。

- ① 日中平和友好条約を締結した。
- ② バブル経済が崩壊した。
- ③ 「所得倍増」を唱える池田勇人首相の政策のもと、好景気をむかえていた。
- ④ 第四次中東戦争によって、原油の価格が上昇した。

問6 下線部(カ)と隣接する場所には、吉田松陰と同じ藩の出身であり、内閣総理大臣に3回就任したことがある人物の墓があります。この人物を、次の①～④の中からひとり選んで番号で答えなさい。

- ① 桂太郎
- ② 西郷隆盛
- ③ 大久保利通
- ④ 東郷平八郎

問7 下線部(キ)に関連して、古墳時代から奈良時代の間起きた出来事としてふさわしくないものを、次の①～⑥の中からふたつ選んでそれぞれ番号で答えなさい。

- ① 小野妹子が隋に派遣された。
- ② 諸国に国分寺が建立された。
- ③ 後三条天皇によって、書類不備の荘園が停止された。
- ④ 卑弥呼が魏に使者を派遣した。
- ⑤ 大宝律令が制定された。
- ⑥ 百済から仏像と経典が伝えられた。

問8 下線部(ク)の人物は、あるアメリカ商船が山川と浦賀に来航した際の幕府の対応を批判したとして処罰されました。このアメリカ商船を答えなさい。

3 次の会話は、中学1年生の教室でかわされたものです。これを読んで、あとの問いに答えなさい。

公 子 平成27年度の (ア) 税制改革によって、「ふるさと納税」が利用しやすくなった、と新聞で読みました。「ふるさと納税」をおこなうと税金が控除されると書いてありました。

先 生 居住地と異なる (イ) 地方自治体に対して寄附をおこなうと、所得税と (ウ) の一部が控除されます。生まれ育った場所とは異なる自治体で生活している人が、寄附という形で「ふるさと」を応援することができます。今回の改革によって、控除の限度額が引き上げられ、また手続きが簡単になったため、この制度を利用しやすくなったようです。

民 子 寄附を受けた自治体から、寄附した人におくる品物が話題になっていますね。

先 生 よく知っていますね。「ふるさと納税」では、誰もが全国のどの自治体に寄附してもよいことになっています。ですから、生まれ育った地方自治体に限らず、応援したいと思った地方自治体に寄附をおこなうこともできます。(エ) 東日本大震災後には多くの人がこの制度を利用して被災地となった地方自治体に寄附をしました。

公 子 寄附した人の (ウ) の一部が控除されるということは、その人が住んでいる自治体の税収が減るということですか。

先 生 その通りです。この制度については、寄附をおこなった人は寄附をおこなわない人よりも実質的に安く行政サービスを受けることになる、という指摘もあります。また、自治体によっては寄附した人がその使い道を指定できる場所もあり、税に対する国民の意識を高めることにつながるかもしれません。

民 子 私たちも税金について、さらに深く学んでいく必要がありますね。

先 生 本当にそうですね。ところで、安倍 (オ) 内閣は、この他にも「地方創生」を掲げて、さまざまな取り組みをおこなっています。

民 子 地方創生担当 (カ) 大臣も任命されていますね。地方創生に関連する (キ) 法律も成立しました。

公 子 政府も本格的に地方の支援に取り組んでいるのですね。

問1 下線部 (ア) に関連して、日本の税制について述べた文として正しいものを、次の①～④の中からひとつ選んで番号で答えなさい。

- ① 所得税などの間接税が国庫収入のおよそ8割を占める。
- ② 所得が高い人ほど、所得に占める消費税の負担の割合が大きくなる。
- ③ 高額所得者の海外流出を防ぐため、累進課税制度を廃止した。
- ④ 法人税は、国に納める直接税のひとつである。

問2 下線部(イ)について述べた文として正しいものを、次の①～④の中からひとつ選んで番号で答えなさい。

- ① 地方公共団体の首長は、その議会において選出される。
- ② 地方議会議員の任期は4年であり、政令の制定などをおこなう。
- ③ 行政を監視するオンブズマン制度はドイツで生まれた。
- ④ 地方公共団体間の財政上の格差を小さくするため、国から地方交付税交付金が交付されている。

問3 空欄^{らん} (ウ) にあてはまる語句としてふさわしいものを、次の①～④の中からひとつ選んで番号で答えなさい。

- ① 住民税 ② 相続税 ③ 固定資産税 ④ 法人事業税

問4 下線部(エ)ののち、期限つきで設置された省庁を漢字で答えなさい。

問5 下線部(オ)に関連して、A・Bそれぞれの問いに答えなさい。

A 下線部(オ)について述べた文として正しいものを、次の①～④の中からひとつ選んで番号で答えなさい。

- ① 国権の最高機関とされる。
- ② 条約を承認する。
- ③ 予算を作成する。
- ④ 最高裁判所の長官を任命する。

B 下線部(オ)は日本の行政権を担っています。『法の精神』を著して、行政・立法・司法の3つの権力を分立させることを唱えたフランスの思想家を答えなさい。

問6 下線部(カ)について述べた文として誤っているものを、次の①～④の中からひとつ選んで番号で答えなさい。

- ① 国務大臣は、文民でなければならない。
- ② 国務大臣は、内閣総理大臣が指名し、天皇が任命する。
- ③ 国務大臣の過半数は国会議員でなければならない。
- ④ 内閣総理大臣は、任意に国務大臣を罷免することができる。

問7 下線部(キ)に関連して、法律案の審議過程について述べた文として誤っているものを、次の①～④の中からひとつ選んで番号で答えなさい。

- ① 法律案は先に衆議院に提出され、審議されなければならない。
- ② 本会議の前に委員会で法律案が審議される。
- ③ 重要な法律案の審議に際して、専門家や利害関係者から意見を聴く公聴会が開かれる。
- ④ 本会議における法律案の可決には、特別な場合を除いて出席議員の過半数の賛成が必要である。