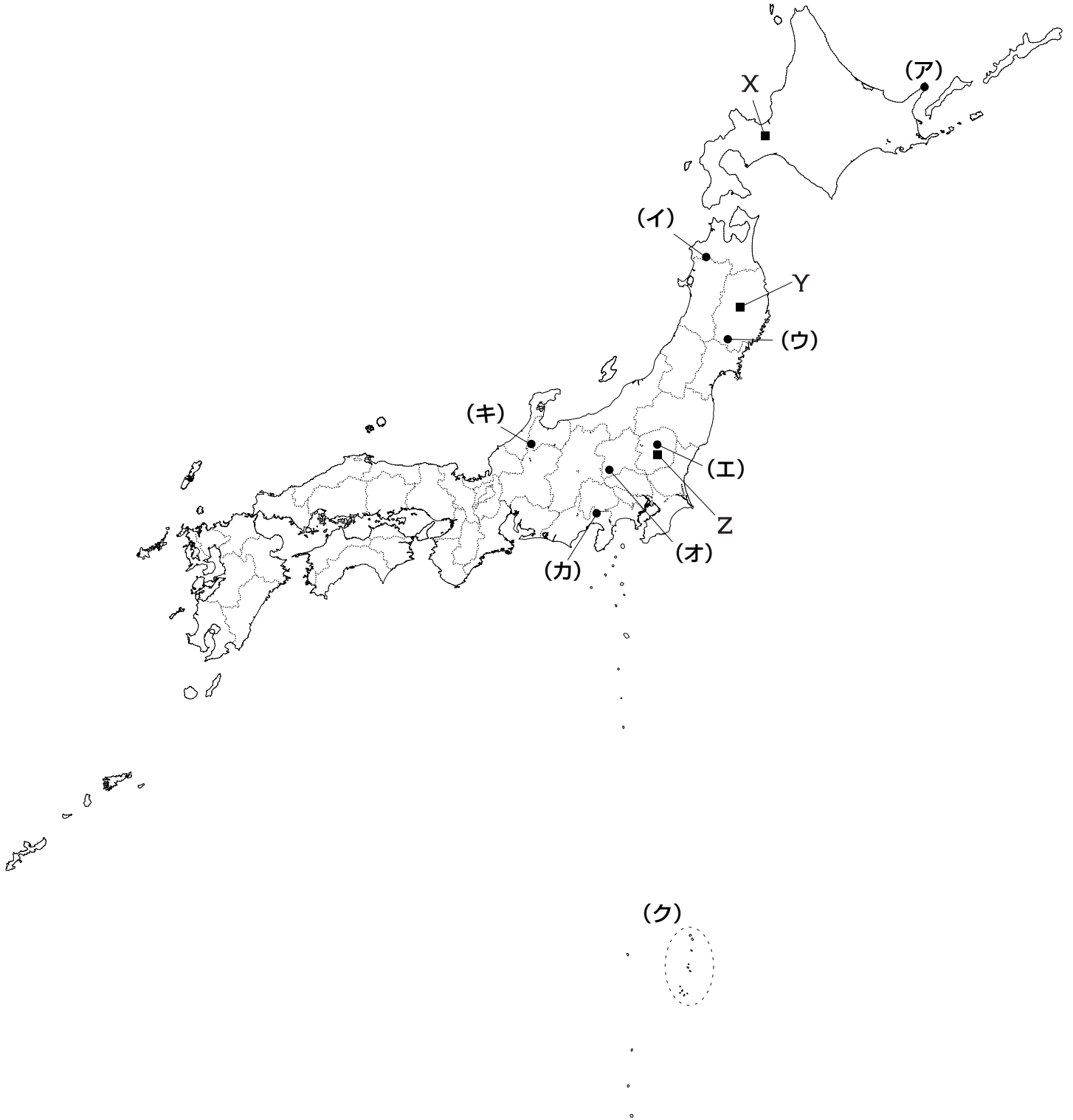


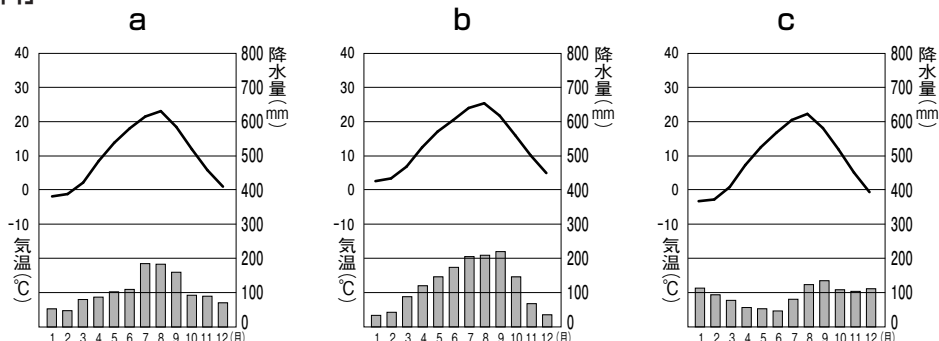
- 1 日本には2014年末現在で世界遺産（文化遺産・自然遺産）に登録されている物件が18件あります。次の【地図】中の（ア）～（ク）は、中部地方以东で登録されている物件を示しています。あとの問いに答えなさい。

【地図】



問1 [地図] 中のX～Zは、(ア)・(ウ)・(エ)のある各道県の道県庁所在地の都市を示しています。次の[資料]は、X～Zの月別平均気温と降水量を示したものです。a～cとX～Zの組み合わせとしてふさわしいものを、次の①～⑥の中からひとつ選んで番号で答えなさい。

[資料]



(『理科年表 平成24年』より作成)

- ① a－X b－Y c－Z
- ② a－X b－Z c－Y
- ③ a－Y b－X c－Z
- ④ a－Y b－Z c－X
- ⑤ a－Z b－X c－Y
- ⑥ a－Z b－Y c－X

問2 次の[資料]は、[地図]中の(ア)～(ク)のある都道府県で生産量が多い農産物の生産量上位の都道府県を示しています(2012年)。このうち、いちごについて示しているものを、①～④の中からひとつ選んで番号で答えなさい。

[資料]

| | ① | | ② | | ③ | | ④ | |
|----|----|-------|----|-------|-----|-------|----|-------|
| 1位 | 愛知 | 18.2% | 栃木 | 15.9% | 北海道 | 57.6% | 青森 | 56.2% |
| 2位 | 群馬 | 18.0% | 福岡 | 11.0% | 福岡 | 6.5% | 長野 | 20.9% |
| 3位 | 千葉 | 8.9% | 熊本 | 7.4% | 佐賀 | 6.5% | 岩手 | 6.1% |

(『日本国勢図会 2013/14年版』『日本国勢図会 2014/15年版』より作成)

問3 [地図]中の(イ)は、ある植物の原生林があることで世界自然遺産に登録されました。ある植物を答えなさい。

問4 [地図] 中の(力)は火山です。日本には数多くの火山があります。これに関連して、A・Bそれぞれの問いに答えなさい。

A 地下にある高温の熱水や蒸気を利用しておこなう地熱発電は一般的に火山の近くでおこなわれています。日本には火山が多く、地熱量も多いのですが、地熱発電所は少なく発電量も少なくなっています。なぜ日本では地熱発電所を多く造ることができないのでしょうか。その理由を、「国立公園」という語句を用いて文章で説明しなさい。

B 日本では火山活動が活発であるため、火山災害へのさまざまな対策がおこなわれています。そのうちのひとつとして、被害の予測をして、災害発生時の緊急避難経路などを示す防災を目的とした地図が作られています。その地図をカタカナで答えなさい。

問5 [地図] 中の(ク)の「ある島」周辺で、2013年12月から噴火が起き、噴火によりできた陸地が「ある島」と陸続きとなりました。「ある島」を漢字で答えなさい。

問6 [地図] 中の(イ)・(力)・(キ)は、2つの県にまたがっています。次の各文章は、(力)・(キ)それぞれの北側か南側のどちらか一方の県について述べたものです。(力)・(キ)と北側・南側の組み合わせとしてふさわしいものを、次の①～④の中からひとつ選んで番号で答えなさい。

(力) この県は、隣接する県の影響で機械工業が盛んにおこなわれている。また、楽器製造や製紙・パルプ工業もおこなわれている。

(キ) この県の西部にある砺波平野では、チューリップの球根栽培が盛んにおこなわれている。

① (力) — 北側 (キ) — 北側

② (力) — 北側 (キ) — 南側

③ (力) — 南側 (キ) — 北側

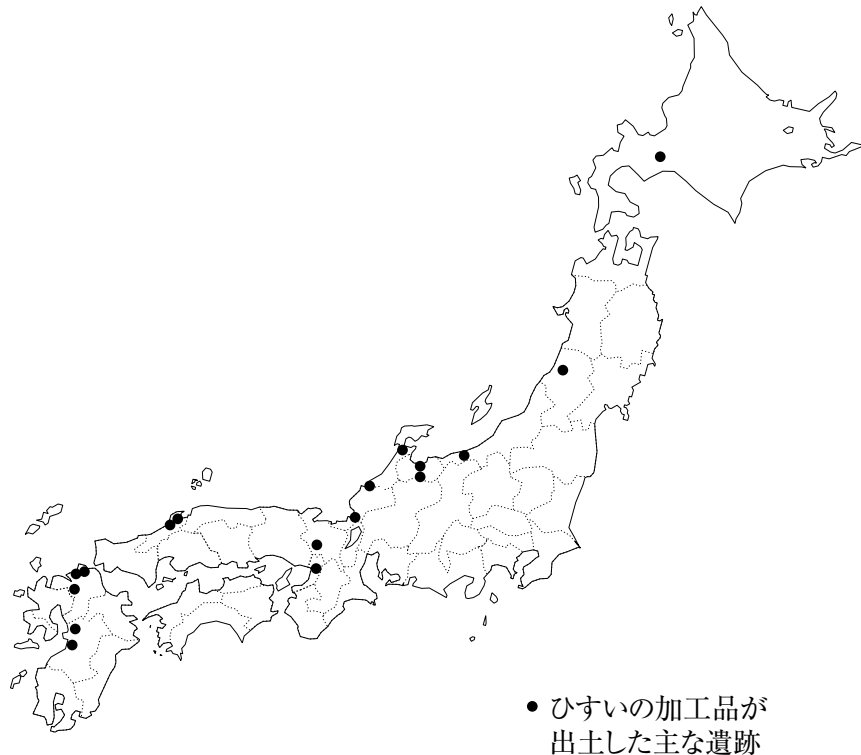
④ (力) — 南側 (キ) — 南側

問7 2014年に新たに世界文化遺産に登録された物件を、[地図] 中の(ア)～(ク)のうちからひとつ選んで記号で答えなさい。

2 次の文章を読んで、あとの問いに答えなさい。

新潟県の西端には糸魚川市があります。ここには長者ヶ原遺跡という縄文時代中期頃の遺跡があり、その付近はひすいの産地として知られています。ひすいは、淡い緑色に輝く石であり、まが玉などに加工されていました。この遺跡で作製されたひすいの加工品は、**[地図]** で示された遺跡からも出土しており、**(ア)** が推測できます。

[地図]



糸魚川市の東には上越市があります。この市の直江津地域では五智国分寺を見学できます。この寺は、奈良時代に**(イ)** 天皇の命令により全国に建てられた国分寺のひとつを発祥とする寺院です。越後国に流罪にされた **(ウ)** 親鸞は、この寺の境内に建てられた草庵に住んだことがあるそうです。

直江津から南下すると、上越市中部に春日山があります。この地に建てられた春日山城を居城とした戦国大名が **(エ)** 上杉氏です。しかし、17世紀初めに廃城となり、その全容は厳密にはよく分かっていません。

春日山城の跡地からさらに南に向かい、JR高田駅から東へしばらく歩くと、桜の名所として有名な高田公園があります。この公園は、高田城の跡地にあたるそうです。高田城は、徳川家康の六男 **(オ)** 松平忠輝の居城として築られました。**(カ)** 版籍奉還・廃藩置県ののち、高田藩は高田県となり、高田城は廃城となりました。

JR高田駅西部にひろがる金谷山の一部は公園として整備されており、冬にはスキー場としても利用されています。この山は、**(キ)** 1910年に来日したオーストリアの軍人レルヒによって、日本初のスキー講習がおこなわれた地とされ、「日本スキー発祥の地」として知られています。上越市各地の商店で見られる、新潟県の地域キャラクター「レルヒさん」はこの人物に由来するそうです。

問1 空欄 (ア) にあてはまる文章を答えなさい。

問2 空欄 (イ) に関連して、A・Bそれぞれの問いに答えなさい。

A 空欄 (イ) にあてはまる天皇号を漢字で答えなさい。

B この天皇の在位中のできごとについて述べた文としてふさわしいものを、次の①～④の中からひとつ選んで番号で答えなさい。

- ① 墾田永年私財法が出され、土地の私有が認められた。
- ② 都が藤原京から平城京に遷された。
- ③ 菅原道真の提案により遣唐使が停止された。
- ④ 坂上田村麻呂が、現在の東北地方に遠征し、蝦夷とよばれた人々を従わせた。

問3 下線部 (ウ) が開祖（宗祖）とされている仏教の宗派を漢字で答えなさい。

問4 下線部 (エ) について述べた文として誤っているものを、次の①～④の中からひとつ選んで番号で答えなさい。

- ① 甲斐から信濃に進出した武田氏と対立し、川中島で戦った。
- ② 長篠の戦いにおいて、織田・徳川の連合軍に敗れた。
- ③ 豊臣氏に従い、会津に国替えとなり、五大老として政治を動かした。
- ④ 徳川家康に敵対し、関ヶ原の戦いののち、領地を大きく減らされた。

問5 下線部 (オ) のように、徳川氏一門にあたる大名は何とよばれていますか、漢字で答えなさい。

問6 下線部 (カ) について述べた文として誤っているものを、次の①～④の中からひとつ選んで番号で答えなさい。

- ① 版籍奉還とは、支配していた土地と人民を、藩主が天皇に返すことである。
- ② 版籍奉還後、旧藩主は知藩事として藩政を担った。
- ③ 廃藩置県により、知藩事は罷免され、明治政府より府知事・県令が任命・派遣された。
- ④ 廃藩置県に対する不満によって、西南戦争をきっかけに不平士族の反乱があいついで起きた。

問7 下線部(キ)の来日の目的として最もふさわしいものを、次の①～④の中からひとつ選んで番号で答えなさい。

- ① お雇い外国人として、日本の陸軍を創設するため。
- ② 日清戦争の準備をしていた日本の陸軍を援助するため。
- ③ 日露戦争に勝利した日本の陸軍を研究するため。
- ④ 第一次世界大戦において同盟国となった日本の陸軍との連絡のため。

3 次の文章を読んで、あとの問いに答えなさい。

「ミレニアム開発目標」の達成期限である2015年をむかえました。

2000年9月、ニューヨークの国連本部で開催された国連ミレニアム・サミットに参加した147の国家元首を含む189の (ア) 国際連合の加盟国代表が、21世紀の国際社会の目標として、より安全で豊かな世界づくりへの協力を約束する「国連ミレニアム宣言」を採択しました。この宣言と1990年代に開催された主要な国際会議やサミットにおける開発目標をまとめたものが「ミレニアム開発目標」です。「ミレニアム開発目標」は国際社会の支援を必要とする課題に対して8つの目標を掲げ、それぞれの目標には、より具体的な21の取り組みと60の指標が設定されています。

- ・目標1：とてつもない貧困と (イ) 飢えをなくそう
- ・目標2： (ウ) みんなが小学校に通えるようにしよう
- ・目標3：ジェンダーの平等を進めて (エ) 女性の地位を向上させよう
- ⋮
- ・目標7： (オ) 環境の持続可能性を確保しよう

目標の達成には、各国の (カ) 政府が最も重要な責任を担っていますが、国際機関、非政府組織や地域社会、個人による貢献も必要です。少しでも次の世代の負担が減るように、この世代を生きる私たちの責任として、私たちが今できることを取り組むことが、ひとりひとりに求められています。

問1 下線部 (ア) に関連して、国際連合の主な機関について述べた文として誤っているものを、次の①～④の中からひとつ選んで番号で答えなさい。

- ① 総会において、重要問題では出席して投票した加盟国の3分の2以上の賛成を必要とする。
- ② 安全保障理事会において、重要問題では常任理事国の1か国の反対があれば決定されない。
- ③ 国際司法裁判所は、一方の当事国の訴えにより裁判がおこなわれる。
- ④ 信託統治理事会は、最後の信託統治地域が独立したため、その活動は停止している。

