

平成26年度 入学試験問題

社 会

第 2 回

||||| 【注 意】 |||||

試験時間は理科とあわせて60分です。(11:10～12:10)

問題は1ページから9ページまでです。

解答はすべて解答用紙に記入してください。

解答用紙に受験番号、氏名を記入してください。


|||||



洗足学園中学校

- 1 次の文章は、ふたつの【県章】と、それをシンボルとする県に関することがらについて述べたものです。これを読んで、あとの問いに答えなさい。

【県章Ⅰ】




【県章Ⅰ】は、(ア) 県のシンボルである、立山^{たてやま}をイメージしてつくられています。立山連峰^{たてやまれんぼう}は、2012年に日本国内で初めて氷河が発見され、また、同年に山麓^{さんろく}の弥陀ヶ原^{だ が はら}と大日平^{だいにちだいら}が、(イ) に基づく「国際的に重要な湿地^{しつち}に係る登録簿^ぼ」に登録されたことで、注目されました。

立山^{たてやま}を含む^{ふく}、県東部の飛騨山脈^{ひ かく}や、南部の飛騨高地^{ひ かく}からは、水量が比較的豊かな黒部川^{くろべがわ}や神通川^{しんどうがわ}などが流れ出ています。それらの河川によって、扇状地^{せんじょうち}が形成され、その下流には(ア) 平野^{と なみ}や砺波平野^{と なみ}が広がっています。砺波平野には、屋敷林^{やしきりん}に囲まれた農家がみられ、家屋が水田^{みづうら}などを隔てて約100～200m程度離れた散居村^{さんきょそん}が形成されています。屋敷林は、冬季に北西から吹く冷たい季節風^{せいきせうふう}や、春から初夏の頃にかけて吹き込む(ウ) 効果^{こうか}があるとされています。

(ア) 県内の農地の多くは水田単作地帯^{みづうらたんさくちたい}でしたが、冬季の就労期間^{しゅうらうきかん}の増加などを目的に、チューリップの球根^{きゅうこん}の栽培がおこなわれるようになり、現在では全国に出荷される球根の約半分は(ア) 県産^{けんさん}が占めています。そのほか、県内では、野菜や果樹栽培^{くわくじゅさいばい}、(エ) 畜産^{ちくさん}など、多角的に農業がおこなわれています。

【県章Ⅱ】



【県章Ⅱ】は、県花であるマメ科^{まめこ}の植物萩^{はぎ}の一種を図案化してつくられています。県花の名称^{めいしょう}は、古来よりの歌枕^{うたまくら}から命名されたそうです。プロ野球球団の本拠地^{ほんきよち}や、(オ) 臨海部に火力発電所^{りっかいでんぱんしょ}や工場^{こうじょう}が建設された貿易港^{ぼうえいこう} (カ) 港^{こう}がある、県庁所在地北東部の区には、県花の名前の一部がつけられています。

県庁所在地である(カ) 市^しは、緑に恵まれており、「杜^{もり}の都^{みやこ}」とよばれています。城址^{じょうし}などの史跡^{しせき}や大学^{だいがく}がある、市西部の青葉山^{あおはなやま}は、この地方の丘陵部^{きゅうりょうぶ}における本来の自然が残っています。また、県北部の湖^{うみ}や沼^{ぬま}には、ハクチョウ^{はくちゆう}や県鳥^{けんとり}であるガン

などが多く飛んで来ており、伊豆沼・内沼付近とその周辺地域は〔イ〕登録湿地となりました。県内各地に歴史的名所が多く、豊かな自然に恵まれていることから、県外からも多くの観光客がやってきます。

(中)この県は、東日本大震災における震源地に最も近く、津波の被害も大きかったため、震災の犠牲者数は、1県のみで阪神・淡路大震災を上回りました。県内の岩沼市では、震災による瓦礫を使用して小高い丘「千年希望の丘」を築いて、普段は憩いの場として、大津波が発生した際には避難所とする計画が進んでいます。かつて〔力〕藩が大津波の被害から藩祖の指導のもと復興を遂げたように、いち早い復興が望まれています。

問1 空欄〔ア〕にあてはまる語句を漢字で答えなさい。

問2 空欄〔イ〕にあてはまる条約を答えなさい。

問3 空欄〔ウ〕にあてはまる文章を、この地域で起こる自然現象にふれて答えなさい。

問4 下線部〔エ〕に関連して、A・Bそれぞれの問いに答えなさい。

A 日本の畜産業について述べた文として誤っているものを、次の①～④の中からひとつ選んで番号で答えなさい。

- ① 第二次世界大戦後、国内での肉・卵の消費量が増えたため、日本における畜産業は戦前に比べて発達した。
- ② 現在、日本の多くの地方で飼養者の高齢化や畜産農家の後継者不足が問題となっている。
- ③ 肉牛の飼育頭数が全国1位の都道府県は北海道であり、ぶたの飼育頭数が全国1位の都道府県は鹿児島県である。
- ④ 必要な飼料の大部分を国内生産によって供給できるため、日本の牛肉の自給率は、小麦や大豆と比較して高い数値となっている。

B 牛肉を生産する畜産農家の経営状態は、1991年の「あるできごと」をきっかけとして、さらに厳しくなるとされています。その理由を「あるできごと」にふれて、文章で説明しなさい。

問5 下線部(オ)に関連して、A・Bそれぞれの問いに答えなさい。

A 日本における発電について述べた文として誤っているものを、次の①～④の中からひとつ選んで番号で答えなさい。

- ① 高度経済成長期の中に、主に中東から輸入した石油を利用した火力発電が発電の中心となった。
- ② 1995年から、工場等における自家発電の余剰分を電力会社に販売する制度が導入された。
- ③ 2011年の東日本大震災の影響によって、原子力による発電量が減少したため、その供給不足分は主に水力発電で補われるようになった。
- ④ 現在、風力・地熱・太陽光などの新エネルギーによる発電量の全発電量に占める割合は10%にも満たない。

B 日本の貿易について述べた文として誤っているものを、次の①～④の中からひとつ選んで番号で答えなさい。

- ① 日本の輸出総額に占める輸出額の割合が最大の品目は、第二次世界大戦前には繊維製品であったが、現在は機械類である。
- ② 南北問題緩和のため、発展途上国の産品を適正な価格で購入する取り組みであるフェアトレードが日本でもおこなわれている。
- ③ TPP（環太平洋戦略的経済連携協定）では、日本に輸入されるすべての農作物の関税を撤廃しないことが決定した。
- ④ 日本の最大の貿易相手国は、第二次世界大戦後、長い間、アメリカ合衆国であった。

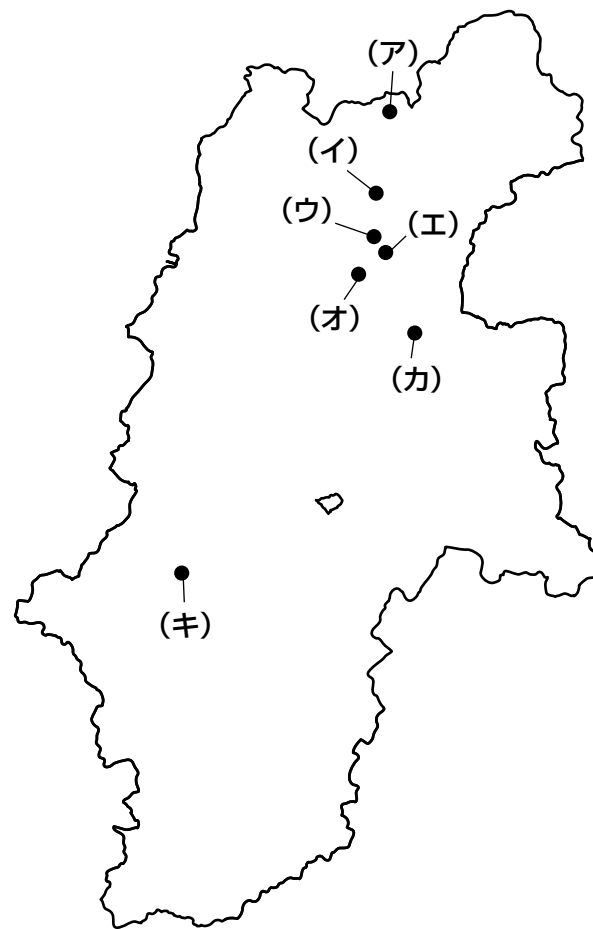
問6 空欄(力)にあてはまる語句を漢字で答えなさい。

問7 下線部(キ)と隣接している県としてふさわしくないものを、次の①～⑤の中からすべて選んで番号で答えなさい。

- ① 茨城 ② 山形 ③ 岩手 ④ 秋田 ⑤ 栃木

- 2 次の【地図】は長野県を示したものです。この【地図】をみて、あとの問いに答えなさい。

【地図】



問1 【地図】中の(ア)は「ある湖」を示しています。この付近では、ナウマンゾウやオオツノジカなど大きな動物の化石が発見されました。これに関連して、A・Bそれぞれの問いに答えなさい。

A 化石として発見されたナウマンゾウなどが生きていた頃の日本について述べた文としてふさわしいものを、次の①～④の中からすべて選んで番号で答えなさい。

- ① 人々は打製石器を使って狩り^かなどをして暮らしていた。
- ② 人々は、身分や貧富の差なく、協力して稲作をおこなっていた。
- ③ 現在の日本列島にあたる地域はユーラシア大陸と陸続きであった。
- ④ 人々は、土器に食料を入れて保存していた。

B 【地図】中の(ア)が示している「ある湖」を漢字で答えなさい。

問2 【地図】 中の（イ）は善光寺を示しています。有名な寺社の周辺には、人口が集中して町が形成されていきました。このようにして形成された町を一般的に何といいますか。漢字で答えなさい。

問3 【地図】 中の（ウ）は、川中島の戦いがおこなわれた場所を示しています。ここでは、当時越後国を支配していた戦国大名と、甲斐国を支配していた戦国大名が、信濃国をめぐる5回にわたり戦いました。当時の甲斐国を支配していた戦国大名を漢字で答えなさい。

問4 【地図】 中の（エ）は松代市を示しています。松代藩士である佐久間象山は、1864年に暗殺されました。この年よりも前のできごととしてふさわしいものを、次の①～④の中からひとつ選んで番号で答えなさい。

- ① 戊辰戦争が始まった。
- ② 坂本竜馬の仲立ちにより薩長連合が成立した。
- ③ 徳川慶喜が大政奉還の上表を朝廷に提出した。
- ④ 井伊直弼が日米修好通商条約を結んだ。

問5 【地図】 中の（オ）は、森將軍塚古墳を示しています。これに関連して、A・Bそれぞれの問いに答えなさい。

A 右の写真は調査をもとに復元された森將軍塚古墳です。このような形式の古墳を何といいますか。漢字で答えなさい。



B この古墳は4世紀から5世紀頃につくられたとされています。この時期のできごととしてふさわしくないものを、次の①～④の中からひとつ選んで番号で答えなさい。

- ① 日本に儒教や仏教が伝来した。
- ② 朝鮮半島において、小国連合が統一され、百済がおこった。
- ③ 大仙陵古墳がつくられた。
- ④ ヤマト政権の支配が、現在の東北地方中部にまでおよんだ。

問6 【地図】 中の（カ）は、信濃国分寺を示しています。この寺の付近には、「ある天皇」の詔によって建立された国分寺のひとつである当時の信濃国分寺の跡があります。これに関連して、A・Bそれぞれの問いに答えなさい。

A 「ある天皇」を漢字で答えなさい。

B 「ある天皇」が亡くなったのち、天皇の遺品は東大寺の建築物に納められました。この建築物について述べた文としてふさわしくないものを、次の①～④の中からひとつ選んで番号で答えなさい。

- ① ペルシアなどの文化の影響がみられる品が納められている。
- ② 納められた品には、遣唐使が中国から持ち帰った品も含まれている。
- ③ 国風文化の代表的な建築物のひとつである。
- ④ 校倉造でつくられた建築物として有名である。

問7 [地図] 中の(キ)には源義仲の一族の墓がある徳音寺があります。彼は平氏を都から追い出しましたが、のちに源頼朝の命令で滅ぼされました。この頃のできごとを古いものから年代順に正しく配列したものを、次の①～⑧の中からひとつ選んで番号で答えなさい。

- ① 一の谷の戦い — 承久の乱 — 奥州藤原氏の滅亡 — 御成敗式目の制定
- ② 一の谷の戦い — 奥州藤原氏の滅亡 — 承久の乱 — 御成敗式目の制定
- ③ 奥州藤原氏の滅亡 — 承久の乱 — 御成敗式目の制定 — 一の谷の戦い
- ④ 奥州藤原氏の滅亡 — 一の谷の戦い — 御成敗式目の制定 — 承久の乱
- ⑤ 承久の乱 — 一の谷の戦い — 御成敗式目の制定 — 奥州藤原氏の滅亡
- ⑥ 承久の乱 — 奥州藤原氏の滅亡 — 一の谷の戦い — 御成敗式目の制定
- ⑦ 御成敗式目の制定 — 一の谷の戦い — 承久の乱 — 奥州藤原氏の滅亡
- ⑧ 御成敗式目の制定 — 奥州藤原氏の滅亡 — 一の谷の戦い — 承久の乱

3 次の文章を読んで、あとの問いに答えなさい。

日本の (ア) 社会保障制度は、第二次世界大戦後、(イ) 日本国憲法第25条の理念に基づいて、整備されてきました。

社会保障制度のひとつである生活保護の受給者数は、1951年度の204万人が長らく最多でしたが、2011年度に初めて記録を更新しました。

(ウ) 1951年当時の日本は、朝鮮特需による急激な経済発展を果たし、敗戦から立ち直り始めた時期にありました。日本は朝鮮特需が終わったのち、いわゆる高度経済成長期に突入しました。この高度経済成長期には、生活保護の受給者数は減少しましたが、保護世帯数は増加しています。そして (エ) 日本はGNP (国民総生産) を年々増大させ、1968年には資本主義国の中で第2位となりました。この経済成長を背景に、政府は1973年を「福祉元年」とし、老人医療無料化などのさまざまな社会保障政策を打ち出します。

しかし、石油危機後の経済成長の鈍化や、少子高齢化の進行にともない、社会保障費の縮小を求められるようになりました。しかし一向に社会保障関係費は減らず、2013年度 (オ) 予算の歳出の中では、社会保障関係費が最も大きな比率を占めています。

2012年の合計特殊出生率 (ひとりの女性が生涯に産む子どもの平均数) が1.41と、1996年以来の1.4台の回復を見せましたが、すでに日本は少子高齢社会です。社会保障制度を今後どのように運営していくのか、その (カ) 政治運営を見守っていく必要があるでしょう。

問1 下線部 (ア) に関連して、A・Bそれぞれの問いに答えなさい。

A 日本の社会保障について述べた文として誤っているものを、次の①～④の中からひとつ選んで番号で答えなさい。

- ① 公的扶助とは生活に困っている人に対する救済制度である生活保護のことを指す。
- ② 児童や高齢者、母子家庭などに対して施設・サービスなどを提供する社会福祉がある。
- ③ 保健所などを通じた感染症の予防や予防接種の実施、上下水道の整備などをおこなう公衆衛生がある。
- ④ 社会保険を営むための費用は、全額税金でまかなわれている。

B 日本の社会保険としてふさわしくないものを、次の①～④の中からひとつ選んで番号で答えなさい。

- ① 雇用保険 ② 生命保険 ③ 医療保険 ④ 介護保険

問2 下線部（イ）について、日本国憲法第25条の条文中の空欄 にあてはまる語句を答えなさい。

すべて国民は、健康で文化的な を営む権利を有する。

問3 下線部（ウ）について述べた文として正しいものを、次の①～④の中からひとつ選んで番号で答えなさい。

- ① 吉田茂首相が、サンフランシスコ平和条約に調印した。
- ② 鳩山一郎内閣によって、日米安全保障条約が改定された。
- ③ 岸信介首相が国民所得倍増計画を発表した。
- ④ 池田勇人内閣によって、日ソ共同宣言の調印がなされた。

問4 下線部（エ）に関連して、この頃の日本では公害問題が多く発生していました。公害対策の推進を図るために、1967年に法律が制定されました。この法律を漢字で答えなさい。

問5 下線部（オ）に関連して述べた文として正しいものを、次の①～④の中からひとつ選んで番号で答えなさい。

- ① 現在、社会保障関係費に次いで歳出に占める割合が多いのは、地方公共団体の財政上の格差を是正するために交付される、地方交付税交付金である。
- ② 現在、社会保障関係費の内訳として、最も多い割合を占めているのは社会保険費用である。
- ③ 歳出のうち防衛関係費の占める割合は、自衛隊発足時から現在にかけて一貫して増加し続けている。
- ④ 高齢社会の進行によって所得税などの間接税収入が減少していくため、消費税などの直接税による税収の割合を高めていこうとする考えがある。

問6 下線部(力)に関連して、A～Cそれぞれの問いに答えなさい。

A 下線部(力)について述べた文として誤っているものを、次の①～④の中からひとつ選んで番号で答えなさい。

- ① 新聞やテレビなどのマス＝メディアから、政治についての情報を得るよう、努力する姿勢が大切である。
- ② 世論調査は、すべての国民の意見を正確に反映しているとは限らないため、その結果を慎重に受け取る必要がある。
- ③ 有権者は直接国会へ法律案を提出する権利を持っているため、積極的に国会へ法律案を提出して国政に関わっていくことが求められている。
- ④ 政治に国民の声をより反映させるために、国民は、憲法で認められている権利である請願権を行使する機会を増やしていく必要がある。

B 現在、日本でとりいれられている選挙制度のひとつに、小選挙区制があります。小選挙区制におけるひとつの選挙区の当選者数にふれて、小選挙区制の問題点について文章で説明しなさい。

C 衆議院議員・参議院議員、地方公共団体の議会議員と首長の選挙に関して、選挙の公明・適正さを図るために1950年に制定された法律を漢字で答えなさい。

