

平成23年度 入学試験問題

社 会

第 1 回

||||| **【注 意】** |||||

試験時間は理科とあわせて60分です。(11:10~12:10)

問題は1ページから9ページまでです。

解答はすべて解答用紙に記入してください。

解答用紙に受験番号、氏名を記入してください。



洗足学園中学校

1 次の文章を読んで、あとの問いに答えなさい。

日本付近の北緯35度線を、[地図]上で西から東へとたどってみます。北緯35度線は、日本海を通った後、中国地方の大河である (ア) 江の川河口付近から陸上を通り、中国地方の東西につらなる山地の中央部や、旧城下町の津山市がある津山盆地を経て、兵庫県西脇市で (イ) 東経135度線と交差します。さらに古都 (ウ) 京都がある京都盆地、日本最大の湖である琵琶湖の南端付近、三重県と滋賀県の境を南北に走る鈴鹿山脈、四日市市・津市などがある伊勢平野を通った後、揖斐川・長良川・木曾川などの河川が注ぐ (エ) 伊勢湾北端部に達します。そして、愛知県に入ると、[オ]が流れる知多半島の北方や、[カ]が流れる岡崎平野の北部を通ります。静岡県に入ると、「日本の屋根」とよばれる (キ) 日本アルプスの南方、静岡平野、三保の松原を経て、好漁場である駿河湾北部、山がちで温泉が多い [ク]北部を通って、相模湾の南方の海上に出ます。そして千葉県の大部分を占める房総半島の南端部を通った後は、太平洋に至ります。

北緯35度線をさらに東にたどると、(ケ) アメリカ合衆国、モロッコ、アルジェリア、シリア、イラク、イラン、アフガニスタン、中華人民共和国、大韓民国などを通っています。

問1 下線部 (ア) の位置を、[地図]中の①～④の中からひとつ選んで番号で答えなさい。

[地図]

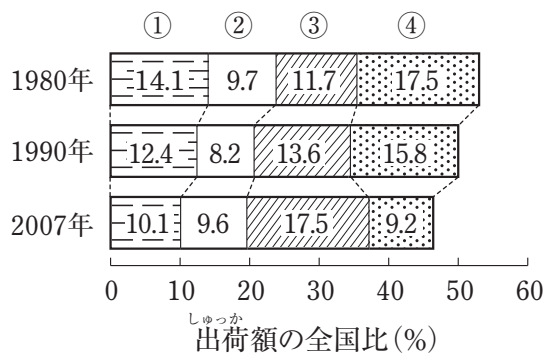
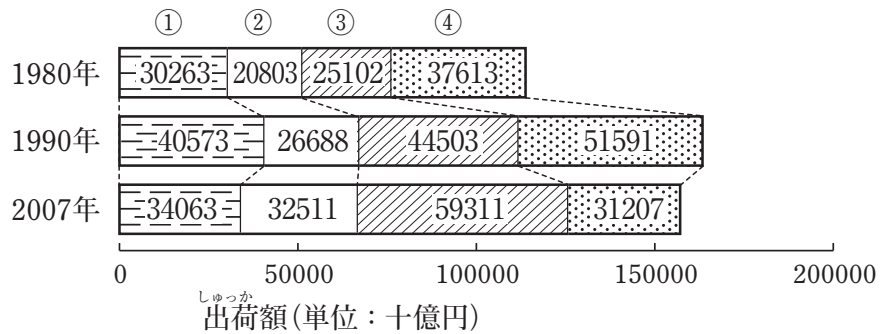


問2 下線部 (イ) は、日本で唯一の特別な経線となっています。その特別な経線とはどのような経線か、文章で説明しなさい。

問3 下線部 (ウ) の東山山麓を中心につくられている、茶の湯と関連した伝統的工芸品を答えなさい。

問4 次の【資料】は、日本における1980年の工業製品出荷額上位4位の工業地帯・工業地域について、工業製品出荷額とその全国比の推移を示したものです。このうち下線部（工）の北部沿岸に広がる工業地帯の推移を示しているものを、【資料】中の①～④の中からひとつ選んで番号で答えなさい。

【資料】



(『日本国勢図会2010/11年版』より作成)

問5 空欄(オ)・(カ)にあてはまる用水の組み合わせとして最もふさわしいものを、次の①～⑥の中からひとつ選んで番号で答えなさい。

- | | | |
|---|------------|------------|
| ① | (オ) - 愛知用水 | (カ) - 豊川用水 |
| ② | (オ) - 豊川用水 | (カ) - 愛知用水 |
| ③ | (オ) - 明治用水 | (カ) - 豊川用水 |
| ④ | (オ) - 豊川用水 | (カ) - 明治用水 |
| ⑤ | (オ) - 明治用水 | (カ) - 愛知用水 |
| ⑥ | (オ) - 愛知用水 | (カ) - 明治用水 |

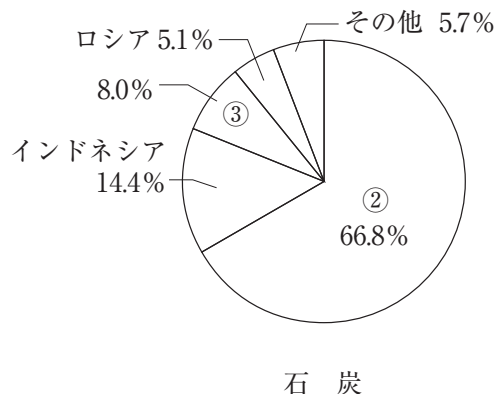


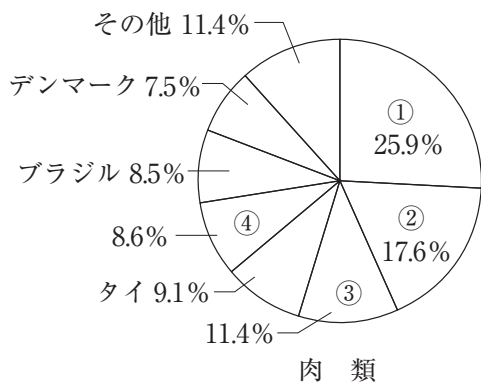
問6 下線部(キ)に関連して述べた文として正しいものを、次の①～④の中からひとつ選んで番号で答えなさい。

- ① 日本アルプスに含まれる山脈は、北西から木曾山脈、飛騨山脈、赤石山脈の順に並んでいる。
- ② 赤石山脈の東方に広がっている甲府盆地では、ぶどうやももの栽培が盛んである。
- ③ 木曾山脈の西方に広がっている長野盆地では、りんごの栽培が盛んである。
- ④ 飛騨山脈と木曾山脈に挟まれた諏訪盆地では、精密機械工業が盛んである。

問7 空欄 にあてはまる半島を漢字で答えなさい。

問8 下線部 (ケ) に関連して、次の【資料】は日本の肉類、果実、木材、石炭の主な輸入先をそれぞれ示したものです。アメリカ合衆国を示しているものを、【資料】中の①～④の中からひとつ選んで番号で答えなさい。

【資料】



(『日本国勢図会2010/11年版』より作成)

問9 次の【資料】は、北緯35度線上に位置する都道府県の中から兵庫県、京都府、愛知県、千葉県を選び、それぞれの統計を示したものです。千葉県を示しているものを、【資料】中の①～④の中からひとつ選んで番号で答えなさい。

【資料】

	人口 (千人) (注1)	人口増加率 (%) (注2)	農業産出額 (億円) (注3)	県内総生産 (億円) (注4)
①	7360	0.59	3154	371719
②	5589	-0.05	1431	191357
③	6098	0.39	4119	196509
④	2635	-0.25	703	100927

(注1) 2007年10月1日現在

(注2) 2007年10月～08年9月の1年間

(注3) 2007年

(注4) 2007年度

(『データでみる県勢2010年版』・『日本国勢図会2010/11年版』より作成)

2 次の文章を読んで、あとの問いに答えなさい。

みなさんは、博物館などで昔の文書を見たことがあるでしょうか。実際に目にする^{おどろ}と、それらが非常に美しいまま保存されていることに驚くでしょう。和紙は、長い時を越えて当時の様子を未来へと伝えるために適した素材です。

東アジアにおける紙の歴史は中国の(ア)漢の時代にさかのぼることができます。いつ頃から日本で紙がつくられるようになったのか定かではありませんが、『日本書紀』には、推古天皇のときに(イ)高句麗の僧曇徴^{どんちゆう}によって紙や墨をつくる技術が伝えられたと記されています。律令には、諸国の特産物を納めさせた(ウ)の一種として紙があげられているほか、中央政府にも紙づくりをつかさどる機関がありました。当時、(エ)紙は非常に貴重だったため、戸籍やお経など主に長く保存する必要があるものに使用されていました。平安時代になると、(オ)貴族の女性が紙を使用する機会も増え、政府の製紙所である紙屋院では、彼女たちの好むような高級な紙もつくられるようになりました。

鎌倉時代以降、武士の間にも紙が広まり、播磨^{すいぼらし}の杉原紙や美濃^{みの}の美濃紙に代表されるように、地方でも良質な紙がつくられるようになります。(カ)室町時代には商業活動が活発になり、こうした紙の生産や流通^{たずさ}に携わる紙すき職人や紙商人は紙座を結成しました。江戸時代には、紙は傘・衣類・食器・家具・おもちゃなどの材料としても使われ、日常生活に欠かせないものになりました。

一方、手書きよりも、より広く正確に情報を伝えることを可能にしたのが印刷技術です。印刷の歴史も古く、法隆寺には現存する世界最古の印刷物とされる「百万塔陀羅尼^だ」が伝わっています。平安末期から室町時代にかけては、春日版、高野版、五山版などとよばれる印刷物が寺社で出版されるようになりました。江戸時代になると、儒学、蘭学、医学などの学術書や(キ)農業の指導書など、木版印刷による出版物が広く流通するようになりました。また、錦絵^{にしきゑ}とよばれる多色刷りの(ク)浮世絵版画も数多くつくられました。

幕末に西洋式の印刷技術が導入され、明治時代以降、これまで以上に多くの出版物が発行されるようになり、(ケ)新しい知識や考えを広めるために大きな役割を果たしました。一方、これらの出版物に加えて、政府や民間では(コ)地券^{ちけん}や帳簿^{ちようぼ}などさまざまな用途^{ようど}で紙の需要が急増し、手すきの和紙にかわって機械で大量生産される洋紙が広く使われるようになりました。

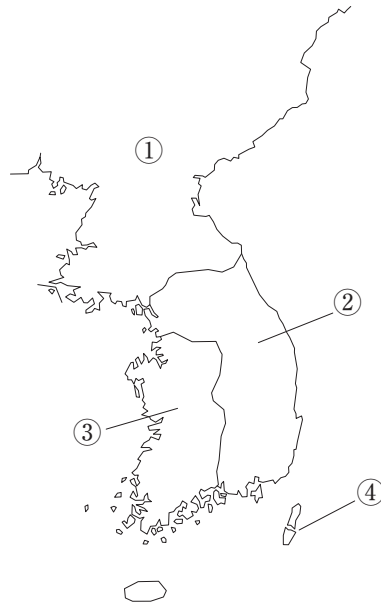
問1 下線部(ア)との交流について述べた文として最もふさわしいものを、次の

①～④の中からひとつ選んで番号で答えなさい。

- ① 律令を学ばせるために留学生がおくられた。
- ② 倭の五王から使いがおくられた。
- ③ 邪馬台国の卑弥呼から使いがおくられた。
- ④ 奴国から使いがおくられた。

問2 次の【地図】は、7世紀中頃の朝鮮半島とその周辺を示したものです。下線部（イ）を示しているものを、【地図】中の①～④の中からひとつ選んで番号で答えなさい。

【地図】



問3 空欄 (ウ) にあてはまる、民衆が朝廷に納めることとされた税の一種を、漢字1字で答えなさい。

問4 下線部 (エ) に関連して、奈良時代に、帳簿・記録・荷札などに用いられた短冊形ざくのものを答えなさい。

問5 下線部 (オ) に関連して、平安時代の貴族の女性が着用した正式な服装を答えなさい。

問6 下線部 (カ) について述べた文としてふさわしくないものを、次の①～④の中からひとつ選んで番号で答えなさい。

- ① 月6回の定期市が開かれるようになった。
- ② 港湾などでは、問丸が物資の輸送、保管、卸売おろしうをおこなった。
- ③ 酒屋などが高利貸し業を営んだ。
- ④ 両替商が発達し、幕府や藩のお金をあつかった。

問7 下線部 (キ) に関連して、江戸時代の農業技術の発達について述べた文として最もふさわしいものを、次の①～④の中からひとつ選んで番号で答えなさい。

- ① 牛や馬を使った耕作がはじまった。
- ② 麦を裏作とする二毛作がはじまった。
- ③ 草木を焼いた灰が肥料として使われはじめた。
- ④ 脱穀だっこくのために千歯こきが使われはじめた。

問8 下線部(ク)としてふさわしくないものを、次の①～④の中からひとつ選んで番号で答えなさい。

①



②



③



④



問9 下線部(ケ)に関連して、明治時代以降におこなわれた新しい知識や考えを広めるための活動について述べた文として誤っているものを、次の①～④の中からひとつ選んで番号で答えなさい。

- ① 中江兆民は、『社会契約論』を翻訳し、ルソーの人権思想を紹介した。
- ② 与謝野晶子は、最初の女子留学生としてアメリカで学び、帰国後、女子英学塾を開いた。
- ③ 福沢諭吉は、『学問のすすめ』で、人間の自主独立の精神と学問の必要性を説いた。
- ④ アメリカ人クラークは、札幌農学校で農学を教えた。

問10 明治政府は下線部(コ)を発行し、地租改正によって新しい租税制度を開始しました。これによって誰がどのように地租を納めることとされましたか。文章で説明しなさい。

- 3 次の【文章Ⅰ】～【文章Ⅴ】は、1947年に旧文部省より発行された『あたらしい憲法のはなし』から引用したものです。これを読んで、あとの問いに答えなさい。

【文章Ⅰ】

(ア) これまであった憲法は、明治二十二年にできたもので、これは明治天皇がおつくりになって、国民にあたえられたものです。しかし、こんどのあたらしい憲法は、日本国民がじぶんでつくったもので、日本国民ぜんたいの意見で、自由につくられたものであります。この国民ぜんたいの意見を知るために、昭和二十一年四月十日に総選挙が行われ、(イ) あたらしい国民の代表がえらばれて、その人々がこの憲法をつくったのです。それで、あたらしい憲法は、国民ぜんたいでつくったということになるのです。

【文章Ⅱ】

こんどの戦争で、(ウ) 天皇陛下は、たいへんごくろうをなさいました。なぜならば、古い憲法では、天皇をお助けして国の仕事をした人々は、国民ぜんたいがえらんだものでなかったの、国民の考えとはなれて、とうとう戦争になったからです。そこで、これからさき国を治めてゆくについて、二度とこのようなことのないように、あたらしい憲法をこしらえるとき、たいへん苦心をいたしました。ですから、(エ) 天皇は、憲法で定めたお仕事だけをされ、政治には関係されないことになりました。

【文章Ⅲ】

そこでこんどの憲法では、日本の国が、けっして二度と戦争をしないように、二つのことをきめました。その一つは、兵隊も軍艦も飛行機も、およそ戦争をするためのものは、いっさいもたないということです。これからさき日本には、陸軍も海軍も空軍もないのです。

【文章Ⅳ】

こんどの憲法では、この地方自治ということをおもくみて、これをはっきりきめています。(オ) 地方ごとに一つの団体になって、じぶんでじぶんの仕事をやってゆくの、です。東京都、北海道、府県、市町村など、みなこの団体です。これを (カ)「地方公共団体」といいます。

【文章Ⅴ】

憲法第九十七条は、おごそかなことばで、この (キ) 基本的人権は、人間がながいあいだ力をつくしてえたものであり、これまでいろいろのことにであってきたえあげられたものであるから、これからもけっして侵すことのできない永久の権利であると記しております。

問1 下線部(ア)について述べた文として正しいものを、次の①～④の中からひとつ選んで番号で答えなさい。

- ① 貴族院と衆議院が置かれ、両院の議員はそれぞれ国民の選挙によって選ばれることを定めていた。
- ② 裁判所は違憲立法審査権を持ち、「憲法の番人」とよばれた。
- ③ アメリカ合衆国憲法を模範としてつくられた。
- ④ 東アジアにおけるはじめての憲法で、黒田清隆首相のときに発布された。

問2 下線部(イ)に関連して、国会議員を選ぶ現在の選挙制度について述べた文としてふさわしいものを、次の①～④の中からひとつ選んで番号で答えなさい。

- ① 在日外国人に選挙権^{あた}を与えている。
- ② 海外に住んでいる有権者も投票^{あた}できる。
- ③ 18歳^{さい}以上の男女に選挙権^{あた}を与えている。
- ④ 自宅からインターネットで投票できる。

問3 下線部(ウ)に関連して、次の日本国憲法第1条の条文中の空欄^{らん} にあてはまる語句を漢字^{かんじ}で答えなさい。

天皇は、日本国の象徴であり日本国民統合の象徴であつて、この地位は、
 の存する日本国民の総意に基づく。

問4 下線部(エ)に関連して、日本国憲法で定められた天皇の仕事について述べた文として正しいものを、次の①～④の中からひとつ選んで番号で答えなさい。

- ① 内閣総理大臣が急病となって意思を表明することができなくなったため、天皇の判断で衆議院を解散し、総選挙をおこなう。
- ② 内閣総理大臣が任命しようとした国务大臣の中にふさわしくない人物がいたため、別の人物を任命するよう助言する。
- ③ 内閣不信任決議はおこなわれていないが、内閣総理大臣が衆議院の解散を決定したため、衆議院を解散する。
- ④ 内閣総理大臣が調印した条約を承認し、直ちに国民に公布する。

問5 【文章Ⅲ】に関連して、日本で警察予備隊^{ほっそく}が発足した時代背景について、文章で説明しなさい。

問6 下線部(オ)に関連して、地方公共団体の仕事としてふさわしくないものを、次の①～④の中からひとつ選んで番号で答えなさい。

- ① 上・下水道をつくり、管理する。
- ② 家庭から出されるごみを集め、処理する。
- ③ 学校をつくり、運営する。
- ④ 地方裁判所を設置し、裁判をおこなう。

問7 下線部(カ)が独自の政策をおこないやすくし、地方分権を進めるための政策としてふさわしくないものを、次の①～④の中からひとつ選んで番号で答えなさい。

- ① 地方公共団体が市町村合併がっぺいをおこなう。
- ② 地方公共団体が独自に税を創設する。
- ③ 国庫支出金を増額させる。
- ④ 所得税を減らし、住民税を増やす。

問8 下線部(キ)について、A・Bそれぞれの問いに答えなさい。

A 下線部(キ)に関連して述べた文として誤っているものを、次の①～④の中からひとつ選んで番号で答えなさい。

- ① モンテスキューは『法の精神』あらわを著し、国民の基本的人権を守るため、国の権力を三つに分けることを主張した。
- ② フランス革命のとき、人権宣言が発せられ、人間は生まれながらにして平等であることが主張された。
- ③ 産業革命を経る中で自由権が主張され、ワイマール憲法ではじめて自由権が保障された。
- ④ 第二次世界大戦後、人種差別撤廃条約、女子差別撤廃条約などに多くの国が調印した。

B 作家の柳美里ユウミリさんは、小説『石に泳ぐ魚』のモデルとされた女性から、知られたくない個人の情報が書かれたとして訴えられ、最高裁判所でこの小説の出版の差し止めが命じられました。この裁判で、表現の自由に対して優先された権利を答えなさい。

