

算数は計算問題が2問、一行題、そして図形や関数などの大問から構成されています。配点は計算問題が各5点、一行題は5点が4問、6点が4問、大問は5点が2問、6点が6問となります。また記述式の問題を3問出題しています。その記述式の問題の採点では、まず答えがっているかを見ます。答えがっていない場合のみ、途中の考え方を見て、部分点を加えています。

1 基本的な計算問題です。

(1) 計算の順序を的確に行えるかを見る問題です。答えは36です。

(2) 小数と分数が入っているので、このような問題では分数に統一して計算します。答えは1です。

2 一行題（基本）です。

(1) 順列、(2) 相当算、(3) 周期算、(4) 食塩水の濃度の問題です。

各問いの正答例は、(1) は88、(2) は440円、(3) は金曜日、(4) 80gです。

3 一行題（応用）です。

(1) 数の和、(2) 場合の数、(3) 特殊記号、(4) 立体の問題です。

各問いの正答例は、(1) は55と57の間、(2) は5勝、(3) は447、(4) 12個です。この中から(1)(3)について解説いたします。

(1) 数の和に関する問題です。

この問題では、まず「たす」の記号を抜かさないで正しく計算したときの和を求めます。2桁の奇数の和を計算する式をたす順番が逆になるように上下に並べます。このとき、上下に並んだ2つの数の和はどれも110になります。11から99までの2桁の整数は45個ありますので、求める2桁の奇数の和は $110 \times 45 \div 2 = 2475$ となります。問題では、「たす」の記号を抜かして計算したため7920となったということですから、正しい計算と比べて5445大きい値になったということです。

例えば、11と13の間の「たす」を抜かすと $11+13$ を加えるところを $1100+13$ を加えることになり、つまり $1100-11$ だけ大きい値になります。また、同様に考えると、15と17の間の「たす」を抜かすと $1500-15$ だけ大きい値になります。このように考えていくことにより、5445大きくなるのはどういふ場合かを見当をつけ、 $5500-55=5445$ より、 $55+57$ の「たす」を抜かしたことになります。答えは55と57の間となります。

(3) 特殊記号に関する問題です。記号の意味が理解できるかがポイントです。

《A》は5で割ったときの余りですから、5より小さい整数、0から4までの整数しか表すことができません。[A]は7で割ったときの余りですから、7より小さい整数、0から6までの整数しか表すことができません。

《A》 … 0, 1, 2, 3, 4

[A] … 0, 1, 2, 3, 4, 5, 6

《A》×[A]=6 となるのは

① 《A》=1, [A]=6

② 《A》=2, [A]=3

③ 《A》=3, [A]=2 3つの場合

したがって、この3つの場合について調べていきます。

① 《A》=1, [A]=6の場合

Aは5で割ると1余り7で割ると6余る数

Aは2けたの整数

5で割ると1余る数

11, 16, 21, 26, 31, 36, 41, …

7で割ると6余る数

13, 20, 27, 34, 41, …

A = 41, 76, …

② 《A》=2, [A]=3の場合

Aは5で割ると2余り7で割ると3余る数

Aは2けたの整数

5で割ると2余る数

12, 17, 22, 27, …

7で割ると3余る数

10, 17, …

A = 17, 52, 87, …

③ 《A》=3, [A]=2の場合

Aは5で割ると3余り7で割ると2余る数

Aは2けたの整数

5で割ると3余る数

13, 18, 23, 28, …

7で割ると2余る数

16, 23, …

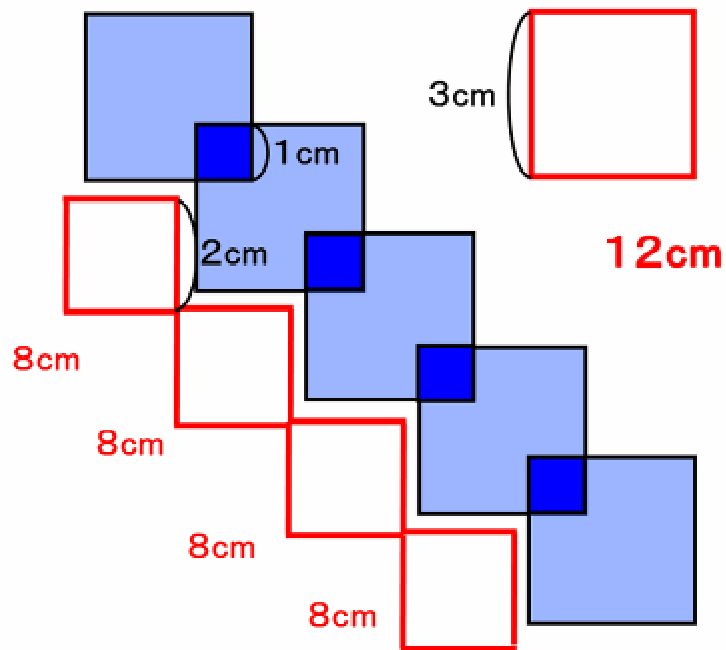
A = 23, 58, 93, …

以上、3つの場合について求めたAの値について足すと、 $41 + 76 + 17 + 52 + 87 + 23 + 58 + 93 = 447$ 。

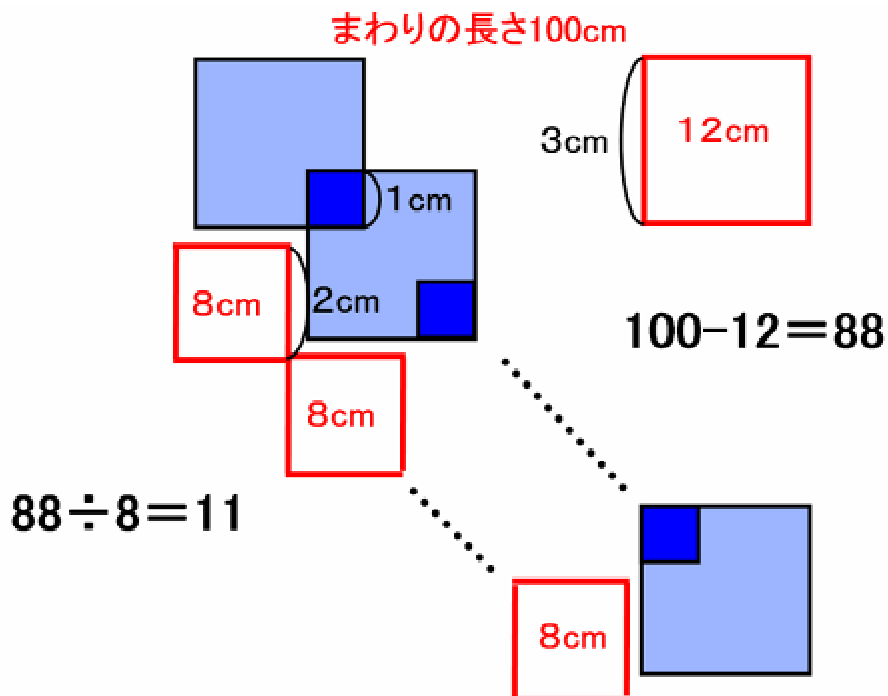
答は447となります。

4 正方形の紙を順に重ねていく問題です。

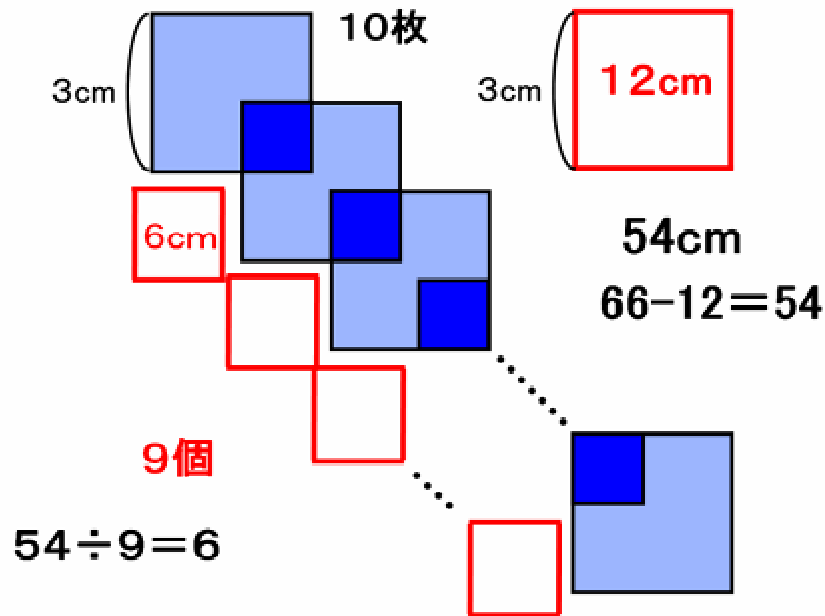
(1) まず両端の2つの部分を合わせると、1枚の正方形の周になるので正方形の紙の1辺は3cm ですから12cm になります。また、のりしろの1辺が1cm ですから、残りは2cm。したがって2つの部分を合わせてつくる小さな正方形の周は8cm になります。この8cm が、5枚重ねたことで4つありますから、32cm となり、両端部分の12cm とあわせて、答えは44cm です。



(2) 図形のまわりの長さが100cm なので、両端の部分の12cm をひくと88cm。このことから、間の8cm が11個あることがわかります。間が11個ということは、この正方形の紙は12枚重なっていますので、答は12枚です。



(3) 両端の2つの部分を合わせた正方形は12cmのままですから、残りは54cmです。のりしろの大きさが分からないので、2つの部分を合わせてつくる小さい正方形の周の長さは分からないのですが、10枚重ねているので、9個できることは分かっています。したがって、 $54 \div 9 = 6$ より周の長さが6cmですから、その1辺は1.5cm。ということは、のりしろの1辺の長さを求めると、答は1.5cmです。



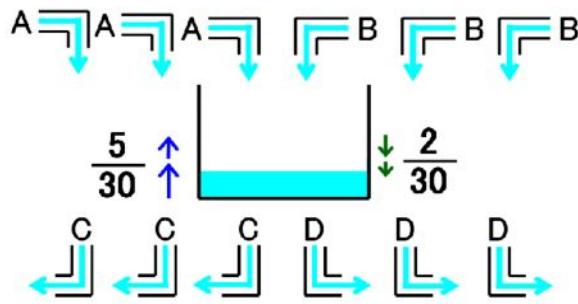
5 水そうの問題です。

(1) ①から④の条件をすべて合わせて考えます。まず①の条件から、AとBとCを使うと1分間に水そうの $\frac{1}{10}$ ずつ水が増えます。ここでさらに②の条件を合わせると、つまり、AとBとDをもう1本ずつ付け加えてみると、さらに1分間に $\frac{1}{15}$ ずつ水が増えるので、 $\frac{1}{10} + \frac{1}{15} = \frac{5}{30}$ よりこの時点では1分間に水そうの $\frac{5}{30}$ にあたる量が増えていくということです。

同様にして③の条件をさらに合わせていくと、AとCとDが加わって、1分間に $\frac{1}{20}$ ずつ減ります。

さらに④の条件を加えると、BとCとDが加わって、さらに1分間で $\frac{1}{60}$ ずつ減ることになり、

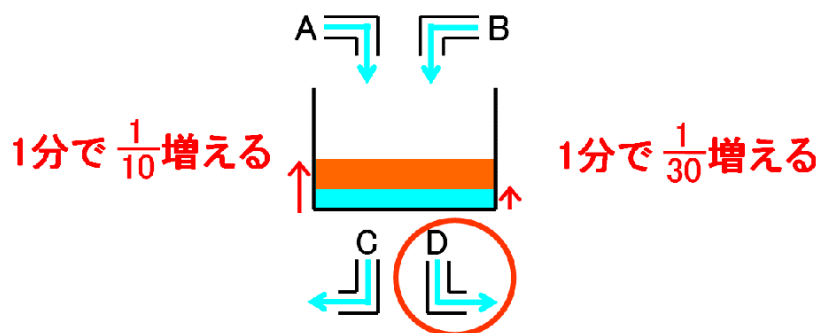
$\frac{1}{20} + \frac{1}{60} = \frac{2}{30}$ より1分間で $\frac{2}{30}$ ずつ水が減っていくこととなります。



- ①A, B, Cを開くと10分で満水 → 1分で $\frac{1}{10}$ 増える
- ②A, B, Dを開くと15分で満水 → 1分で $\frac{1}{15}$ 増える
- ③A, C, Dを開くと20分で空 → 1分で $\frac{1}{20}$ 減る
- ④B, C, Dを開くと60分で空 → 1分で $\frac{1}{60}$ 減る

増える水の量の $\frac{5}{30}$ から減る水の量の $\frac{2}{30}$ をひくと $\frac{3}{30}$ 。つまり1分間に $\frac{3}{30}$ ずつ水が増えていくことになります。しかし、これは管A、B、C、Dがそれぞれ3本ずつ使用した場合ですので、これを1本ずつ使用すると考えると3で割り、1分間で $\frac{1}{30}$ ずつ水が増えていくことがわかります。したがって、満水になるまでにかかる時間は30分。答えは30分です。

(2) (1)で4つの管を使用すると1分で $\frac{1}{30}$ の水が増えることを求めたので、さらに①の条件を使って考えます。①より、管A、B、Cを使うと1分で $\frac{1}{10}$ の水が増えるのですが、それに管Dを加えると1分で $\frac{1}{30}$ の水が増えることになるので、この差が管Dの働きということになります。 $\frac{1}{10} - \frac{1}{30} = \frac{1}{15}$ より、管Dによって、1分で水そうの $\frac{1}{15}$ ずつ水を抜いていくことになりますから、15分で満水の水は空になります。答えは15分です。



$$\frac{1}{10} - \frac{1}{30} = \frac{1}{15}$$

1分で $\frac{1}{15}$ 減る → 15分で空になる

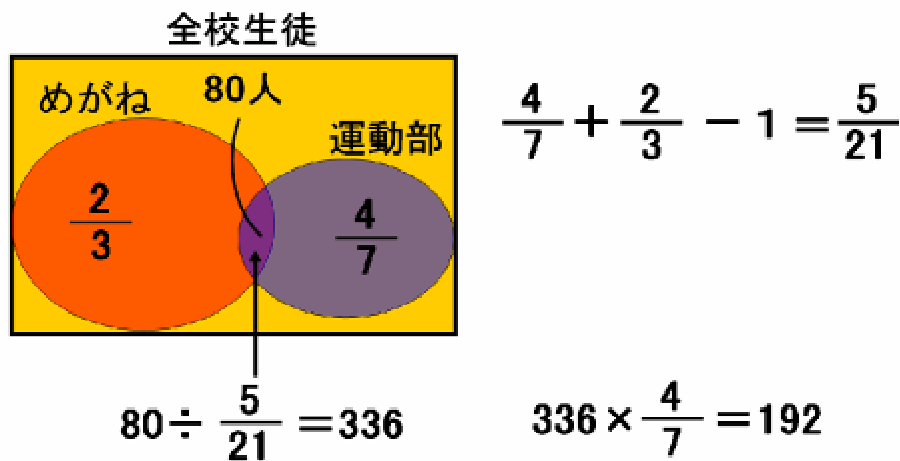
6 集合の問題です。

ある中学校で、運動部の生徒の割合とめがねをかけている生徒の割合から、全校生徒の人数を考える問題です。運動部でめがねをかけている生徒が 80 人いることから、運動部のグループとめがねのグループの重なる様子によって全校生徒の人数が変わってくるのがポイントです。

2つのグループの重なった部分の人数は 80 人と決まっていますから、この重なった部分の割合が小さくなればなるほど全校生徒の人数は多くなります。つまり、めがねのグループに運動部のグループがすべて含まれるときが、全校生徒の人数が最も少ない時であり、その重なりが一番小さいときが、全校生徒の人数が最も多い時ということになります。

(1) めがねをかけている生徒の割合の $\frac{2}{3}$ と運動部の $\frac{4}{7}$ の合計は 1 を超えますから、その超えた分は最低でも重ならないとならないので運動部でめがねをかけている生徒が全体の $\frac{5}{21}$ になったときが全校生徒の人数が最も多いときになります。80 人が全体の $\frac{5}{21}$ にあたるわけですから、全校生徒は 336 人。したがって、運動部の人数は 192 人となります。

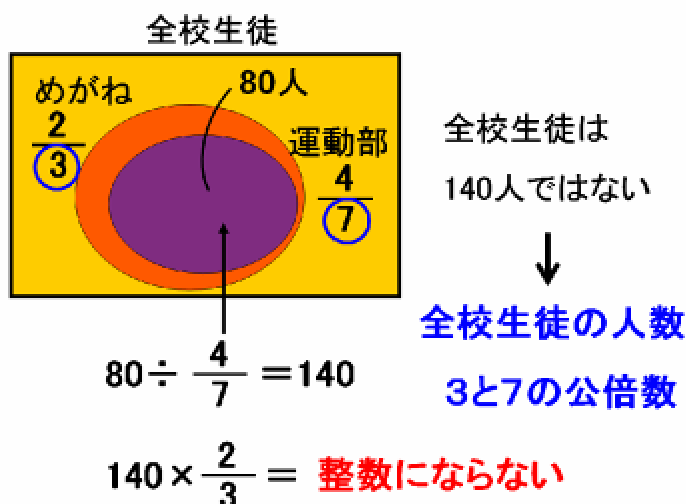
考えられる全校生徒が最も多い時



(2) 考えられる全校生徒の人数が最も少ない時の、めがねをかけている生徒の人数を求める問題です。運動部でめがねをかけている生徒の割合は、そのまま運動部の割合と等しいので全体の $\frac{4}{7}$ です。

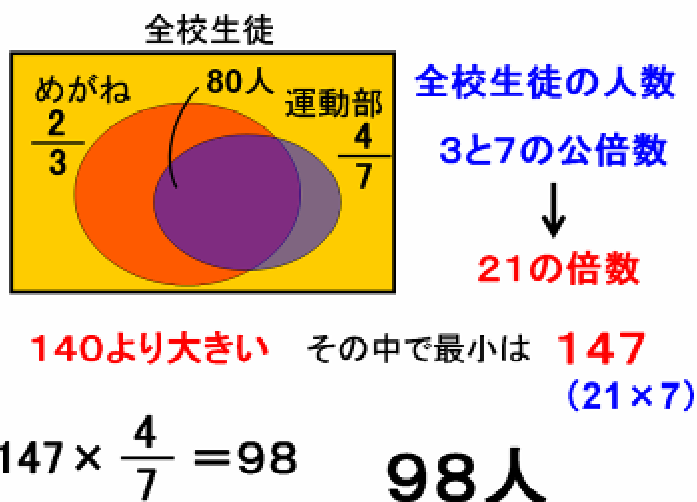
80 人が全校生徒の $\frac{4}{7}$ にあたるわけですから、全校生徒は 140 人。ところが、めがねをかけている生徒の人数は $140 \times \frac{2}{3}$ で計算すると整数になりません。整数でないということは全校生徒の人数は 140 人でないということになります。つまり、全校生徒の人数は 3 と 7 のどちらでも割り切れる数でないことがわかります。(※(1)で求めた全校生徒の人数 336 人は 3 でも 7 でも割り切れます。)

考えられる全校生徒が最も少ない時



考えられる全校生徒の人数が最も少なくなるのは140人よりも多くなってしまいますが、2つのグループの重なりをできるだけ小さくしながら、全校生徒の人数が3と7の公倍数になる時です。3と7の最小公倍数は21ですから全校生徒の人数は21の倍数であり、140より大きい数で最小の数はいつと147がその数になりますので、全校生徒は147人。したがって、 $147 \times \frac{4}{7} = 98$ より、答えは98人です。

考えられる全校生徒が最も少ない時



(3) 全校生徒の人数が何通り考えられるかという問題です。(1)では全校生徒の最大の人数は336人と求めており、(2)では全校生徒の最少の人数は147人と求めています。全校生徒の人数は21の倍数ですから、147から336までの21の倍数の個数を求めればよく、 21×7 から 21×16 までですから、倍数は10個あります。答えは10通りとなります。

解説は以上です。