

# 平成21年度 入学試験問題

## 社 会

### 第 1 回

|||||【注 意】|||||

試験時間は理科とあわせて60分です。(11:10~12:10)

問題は1ページから8ページまでです。

解答はすべて解答用紙に記入してください。

解答用紙に受験番号、氏名を記入してください。

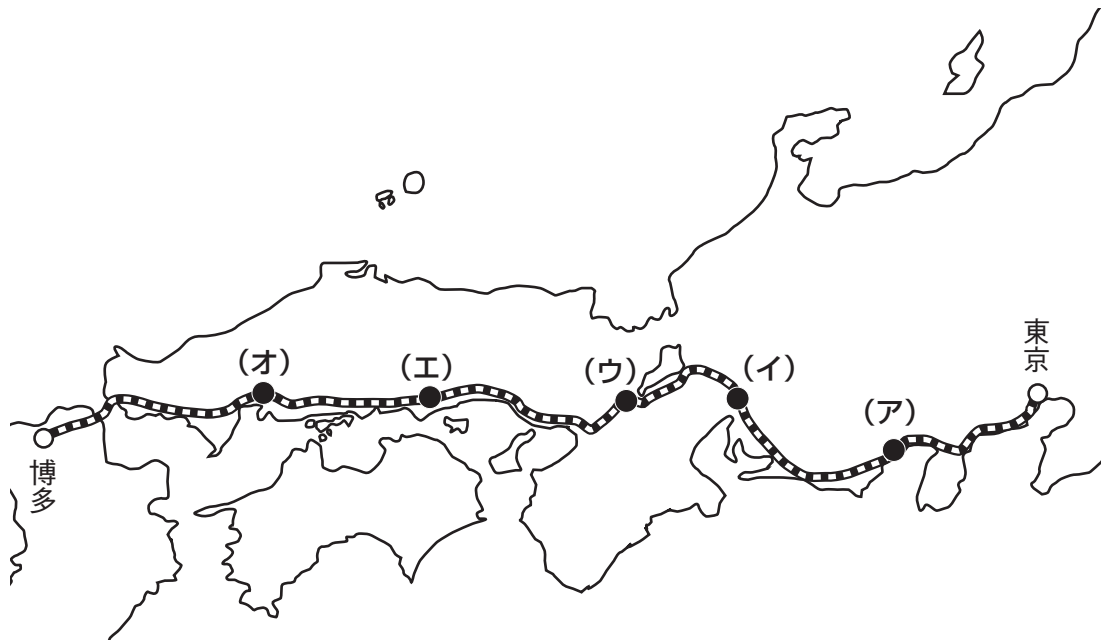
|||||



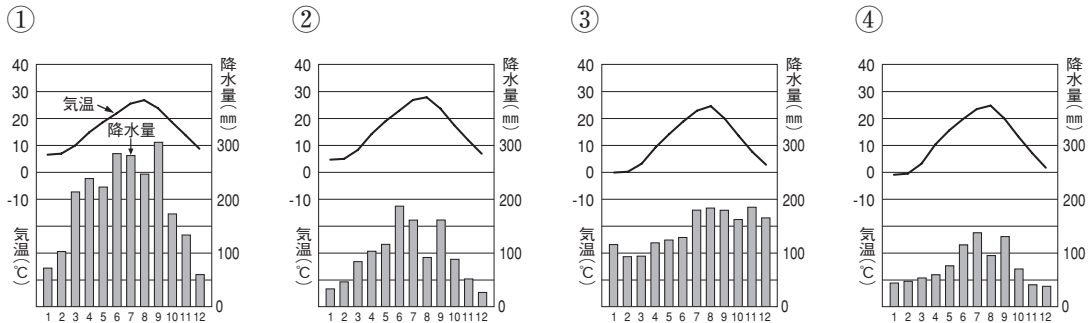
洗足学園中学校

- 1 次の【地図】はJR東海道・山陽新幹線の路線を示したものです。これについてあとの問いに答えなさい。【地図】中の(ア)～(オ)は駅を示しています。

【地図】



問1 【地図】中の(ア)がある都市における月別の平均気温と降水量を示しているグラフを、次の①～④の中からひとつ選んで番号で答えなさい。



(『日本国勢図会2008/09年版』より作成)

問2 【地図】中の(イ)がある都市とその周辺に関して、A・Bそれぞれの問いに答えなさい。

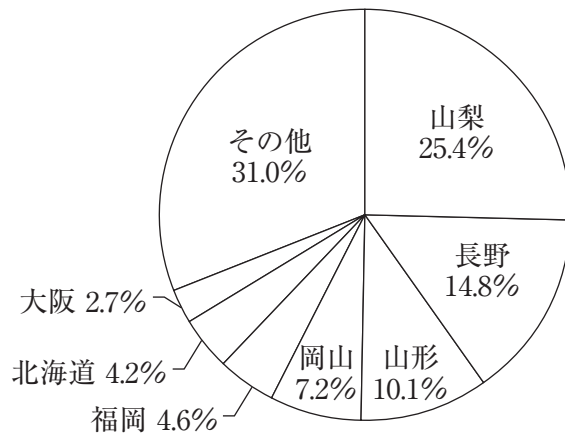
- A この一帯には木曾三川とよばれる川が流れています。このうち、新幹線で東京駅から博多駅まで移動した時に、2番目に通過する川を漢字で答えなさい。
- B この地域において三大工業地帯のひとつが発達してきた理由を、交通の面から1行で説明しなさい。

問3 【地図】中の(ウ)がある都市では西陣織や友禅染などさまざまな伝統的工芸品（か）がつくられてきました。一般に日本全国の伝統工業は、現在多くの問題を抱えています。この問題について述べた文としてふさわしくないものを、次の①～④の中からひとつ選んで番号で答えなさい。

- ① 技術を受け継ぐ後継者が不足していること。
- ② 需要が伸び悩んでいること。
- ③ 原材料が国産でまかなえず、輸入に頼っていること。
- ④ 機械による大量生産により、価格が下落していること。

問4 次の【資料】は、【地図】中の(エ)がある県で多く生産される果実の都道府県別生産量の割合を示したものです。この果実を答えなさい。

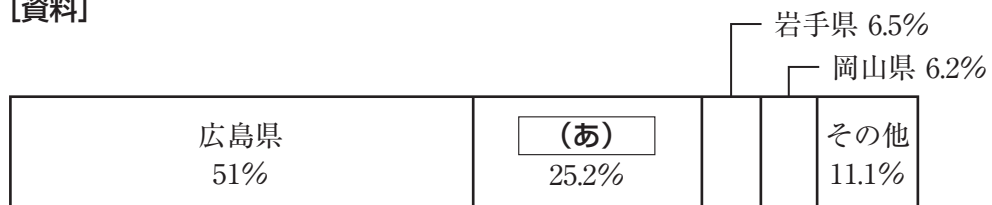
【資料】



(『日本国勢図会 2008/09年版』より作成)

問5 次の【資料】は、【地図】中の(オ)が位置する県で漁獲量が多い水産物の都道府県別漁獲量の割合(2005年)を示したものです。【資料】中の空らん(あ)にあてはまる都道府県を漢字で答えなさい。

【資料】



(『データでみる県勢2008年版』より作成)

問6 【地図】 中で示した路線で東京駅から博多駅まで移動する際、いくつもの都市を通過します。通過する都市の中で、城下町として発展した都市としてふさわしくないものを、次の①～④の中からひとつ選んで番号で答えなさい。

- ① 小田原            ② 姫路            ③ 堺            ④ 静岡

問7 【地図】 中で示した路線で東京駅から博多駅まで移動する際、いくつかの平野を通過します。通過する平野を次の①～⑥の中から選んで、通過する順番に番号を並べかえて答えなさい。ただし、①～⑥の中には通過しない平野が含まれています。

- ① 濃尾平野            ② 広島平野            ③ 鳥取平野  
④ 大阪平野            ⑤ 関東平野            ⑥ 福井平野

2 次の文章を読んで、あとの問いに答えなさい。

佐渡島には旧石器時代から人が住んでいたと考えられています。(ア)弥生時代の遺跡からは様々な種類の玉が出土しており、相当の規模で生産がおこなわれていた可能性があるので。佐渡の玉は他地域にも知られていたようで、玉を作っていた遺跡が発見されていない東北地方でも多くの玉類が出土しており、佐渡から運ばれたのではないかと考えられています。(イ)『日本書紀』には現在の東北地方の人たちが船でやって来たことと記されており、その後も人の行き来があったようです。

古代、佐渡国は京からの距離が遠い「遠国」とされ、伊豆・安房・常陸・土佐とともに(ウ)流刑地の中でもっとも遠い「遠流」の国に指定されていました。中世にここに流されて来た人々の中には、順徳上皇や(エ)日蓮、(オ)世阿弥がいます。一方で、東大寺など畿内の有力寺社が佐渡に土地を持つなどのつながりもあったようです。

近世に入り、徳川氏は佐渡を(カ)幕府が直接治める地としました。ここの金山や(キ)銀山を支配するためです。佐渡の金をはじめて文献に出てくるのは『今昔物語集』といわれていますが、重要な役割をはたすようになるのは、ポルトガル船が日本にやって来てからのことのように。以来、佐渡の金銀山は大きく繁栄しましたが、17世紀の半ば以降は経費の増加や銀価格の下落に悩むこととなります。佐渡奉行となった荻原重秀は金銀山の復興に全力を注ぎ、多額の投資をおこなっています。

明治をむかえて「佐渡県」が設置されました。この時の長官は(ク)井上馨です。そして(ケ)1876年に新潟県に併合され、1896年に3つの郡が合併されて「佐渡郡」が置かれました。

問1 下線部(ア)に関して、次の【地図】中の記号A～Fは、日本の主な遺跡の位置を示しています。弥生時代の遺跡とその位置を正しく示した組み合わせを、次の①～⑥の中からひとつ選んで番号で答えなさい。

【地図】



- |            |            |
|------------|------------|
| ① A—登呂遺跡   | ② B—岩宿遺跡   |
| ③ C—加茂岩倉遺跡 | ④ D—大森貝塚   |
| ⑤ E—三内丸山遺跡 | ⑥ F—吉野ヶ里遺跡 |

問2 下線部(イ)に記されていないことを、次の①～④の中からひとつ選んで番号で答えなさい。

- ① 壬申の乱が起こった。
- ② 憲法十七条が定められた。
- ③ 「大化」という年号が用いられるようになった。
- ④ 坂上田村麻呂が征夷大將軍に任命された。

問3 下線部(ウ)に処せられ、流された人物としてふさわしくないのは誰ですか。  
次の①～④の中からひとり選んで番号で答えなさい。

- ① 源頼朝      ② 源義仲      ③ 後鳥羽上皇      ④ 後醍醐天皇

問4 下線部(工)は次のような手紙を書いています。空らん(あ)にあてはまる年号を、次の①～④の中からひとつ選んで番号で答えなさい。手紙は要約や省略をしながら、わかりやすく直してあります。

昨年(あ)11年10月、蒙古国から筑紫に攻め寄せてきたことがありました。対馬の百姓たちは、男は殺されたり生けどりにされたりしました。女は集められて、手に縄を通して船に結び付けられて連れていかれました。ひとりも助かった者はありません。

- ① 文禄      ② 文永      ③ 天慶      ④ 天明

問5 下線部(才)を保護した幕府の3代将軍を、姓名ともに漢字で答えなさい。

問6 下線部(力)としてふさわしくないものを、次の①～④の中からひとつ選んで番号で答えなさい。

- ① 長崎      ② 日光      ③ 大阪      ④ 山口

問7 下線部(キ)に関して、2007年に世界遺産に登録された石見銀山はどこにありますか。現在の都道府県を漢字で答えなさい。

問8 下線部(ク)が外務卿(外務大臣)としておこなったこととしてふさわしいものを、次の①～④の中からひとつ選んで番号で答えなさい。

- ① アメリカの同意を得て、関税自主権の回復に成功した。  
② イギリスの同意を得て、領事裁判権の撤廃に成功した。  
③ 条約改正交渉を有利にするため、社交場として鹿鳴館を建設した。  
④ 条約改正の準備などを目的として、欧米に使節団を派遣した。

問9 下線部(ケ)に関して、1876年から1896年の間に起こったできごととしてふさわしいものを、次の①～④の中からひとつ選んで番号で答えなさい。

- ① ロシア・フランス・ドイツの圧力によって、遼東半島を清に返還した。  
② 富山県で発生した米騒動が全国に広がった。  
③ ニューヨークで始まった世界恐慌の影響が日本にも及んだ。  
④ 伊藤博文が安重根に射殺された。

**3** 次の文章を読んで、あとの問いに答えなさい。

日本では、内閣のもつ行政権は一般行政事務のほか、法律の執行・<sup>(ア)</sup>予算の作成など広範囲に及びます。例えば、2008年5月から導入された「<sup>(イ)</sup>後期高齢者医療制度」のような新しい政策も内閣の権限でおこなわれます。

内閣は、内閣総理大臣と国務大臣によって構成されます。<sup>(ウ)</sup>内閣総理大臣は、国会議員の中から国会の議決によって指名されます。

さらに、<sup>(エ)</sup>内閣は裁判所に対して、一定の権限をもちます。一方で、裁判所は内閣の定める政令が憲法に反するかどうかを判断できる **(オ)** という権限をもっています。

日本の国家財政は、<sup>(カ)</sup>巨額の国債発行によって窮地に立たされており、行政の無駄を省くことは緊急の課題となっています。将来の世代に過重に負担させず、平和で豊かな社会を持続させていくことは、内閣の責務であると同時に現在の国民の課題ともいえるでしょう。

内閣の重要な権限として <sup>(キ)</sup>外交関係の処理も挙げられます。国際社会はさまざまな利害関係が複雑にからみあい、ひとつの問題が多数の国の政治や経済に影響を与えます。そこで、各国が話し合ういろいろな場が求められます。世界の秩序を維持したり、世界を発展させたりするために政治的・経済的に大きな力をもつ国家間で話し合う、主要国首脳会議（サミット）が毎年おこなわれています。この「主要国」は <sup>(ク)</sup>G 8 とよばれています。2008年、<sup>(ケ)</sup>日本でサミットが開催されました。このサミットでは世界の食糧問題などいくつかの議題が討議されました。中心の議題は二酸化炭素排出削減についてです。このサミットで、将来の世代のために努力していくことが合意されました。今後も国家の利害を超えて、協力を継続していくことが重要です。

**問1** 下線部（ア）について述べたものとして正しいものを、次の①～④の中からひとつ選んで番号で答えなさい。

- ① 予算の作成は、経済産業省を中心におこなわれる。
- ② 予算は、衆議院・参議院いずれかの総議員の4分の1以上で提出することができる。
- ③ 予算の審議に時間をかけられない場合、衆議院のみの審議ですぐに成立させることができる。
- ④ 予算は、必ず衆議院から先に審議される。

**問2** 下線部（イ）とは何歳以上の人を指しますか。数字で答えなさい。

**問3** 下線部（ウ）に関して、衆議院と参議院で異なる人を内閣総理大臣に指名した場合、両院協議会を開いても意見が一致しない時、日本国憲法はどのように定めていますか。1行で説明しなさい。



問4 下線部(工)に関して、次の日本国憲法第6条の条文中の空らん(あ)・(い)にあてはまる語句を漢字で答えなさい。

天皇は、内閣の指名に基づいて、(あ)の長たる裁判官を(い)する。

問5 空らん(オ)にあてはまる語句を漢字で答えなさい。

問6 下線部(力)に関して、2007年度末の国債発行残高を、次の①～④の中からひとつ選んで番号で答えなさい。

- ① 約80兆円
- ② 約320兆円
- ③ 約550兆円
- ④ 約800兆円

問7 下線部(キ)を主に担当する省庁を漢字で答えなさい。

問8 下線部(ク)に含まれない国を、次の①～④の中からひとつ選んで番号で答えなさい。

- ① カナダ
- ② スペイン
- ③ ロシア
- ④ イタリア

問9 下線部(ケ)に関して、主要な会議は洞爺湖のホテルでおこなわれました。この洞爺湖のある都道府県を漢字で答えなさい。