

平成20年度 入学試験問題

社 会

第 3 回

|||||【注 意】|||||

試験時間は理科とあわせて60分です。(11:10~12:10)

問題は1ページから10ページまでです。

解答はすべて解答用紙に記入してください。

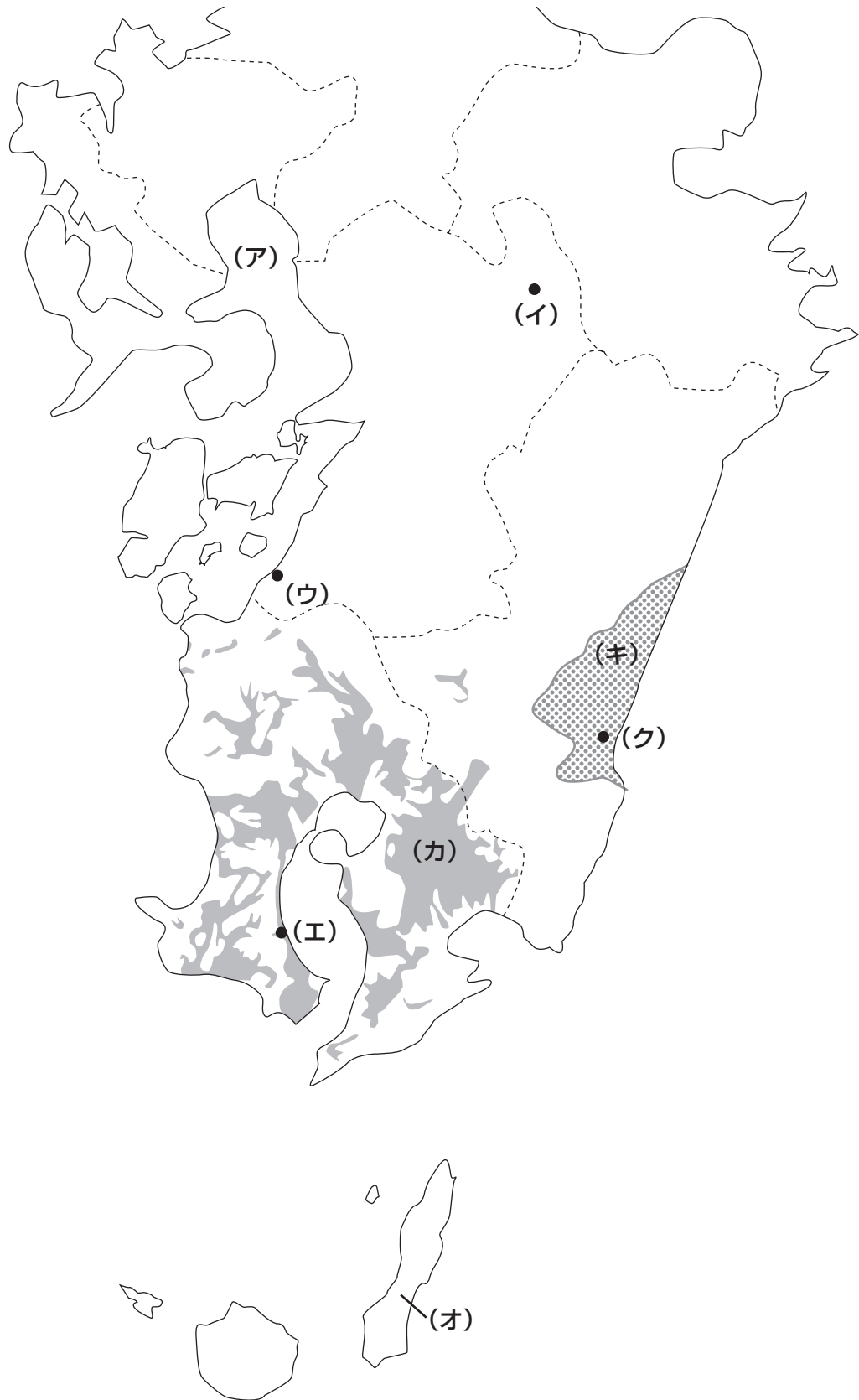
解答用紙に受験番号、氏名を記入してください。



洗足学園中学校

1 次の【地図】に関するあとの問いに答えなさい。

【地図】



問1 [地図] 中の(ア)の海に関するA・Bそれぞれの問いに答えなさい。

A (ア)の海に関して、次の文章の空らん **(あ)** にあてはまる語句を答えなさい。

ここでは江戸時代から、堤防^{ていぼう}を築いてその内側の海水^{はいじょ}を排除し、陸地をつくるという **(あ)** とよばれる方法で農地を広げてきた。

B 次の[資料]は、(ア)の海で漁獲量^{ぎょかくりょう}が多い水産物の都道府県別漁獲量の割合(2004年)を示したものです。この水産物を答えなさい。

[資料]

358929トン	佐賀 19%	兵庫 15%	福岡 13%	熊本 11%	香川 9%	その他 33%
----------	--------	--------	--------	--------	-------	---------

(『データでみる県勢2007年版』より作成)

問2 [地図] 中の(イ)の山には、火山が噴火^{ふんか}したあと、頂上付近^{てんじょう}が落ち込んでできたくぼ地があります。このような地形を何といいますか。答えなさい。

問3 [地図] 中の(ウ)の都市では、1953年頃から工場^{はいすい}廃水^{ふく}に含まれた有機水銀を原因とする公害病が発生し、大きな社会問題となりました。この都市を漢字で答えなさい。

問4 [地図] 中の(エ)の地域について説明した文として正しいものを、次の①～④の中からひとつ選んで番号で答えなさい。

- ① エネルギー資源を有効に使うため、日本最大級の核燃料^{かく}サイクル基地が建設された。
- ② 急激な社会情勢^{きんきゅうじたい}の変化や緊急事態^{きんきゅうじたい}に備えるため、日本最大級の石油^{びちく}備蓄基地が建設された。
- ③ 電力の需要^{じゅうよう}が増したため、日本最大級の原子力発電所が建設された。
- ④ 日本最大級であった製鉄所の跡地^{あとち}の一部を有効に使うため、テーマパークが建設された。

問5 [地図] 中の(オ)の島について説明した文として正しいものを、次の①～④の中からひとつ選んで番号で答えなさい。

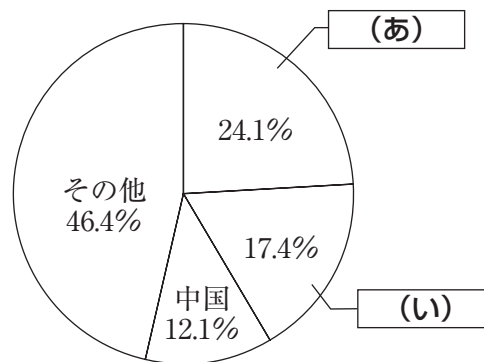
- ① 杉の原生林が広がり、島の一部が世界自然遺産に登録された。
- ② 大型ロケットの発射場を備えた宇宙センターがある。
- ③ 結城つむぎとよばれる絹織物の生産がさかんである。
- ④ 2000年に島の中央部の火山が噴火し、島民全員が島の外に避難した。

問6 [地図] 中の(カ)の地域にひろがる台地に関するA・Bそれぞれの問いに答えなさい。

A この台地は水稲耕作に適さないところです。その主な理由を、この台地の地質にふれながら1行で説明しなさい。

B この台地では、家畜の飼育がさかんにおこなわれています。日本では、国産の肉類に加えて、海外から輸入した肉類も多く消費されています。次の【資料】は、日本の肉類の主な輸入先(2006年)を示したものです。【資料】中の(あ)と(い)にあてはまる国の組み合わせとして正しいものを、次の①～④の中からひとつ選んで番号で答えなさい。

【資料】



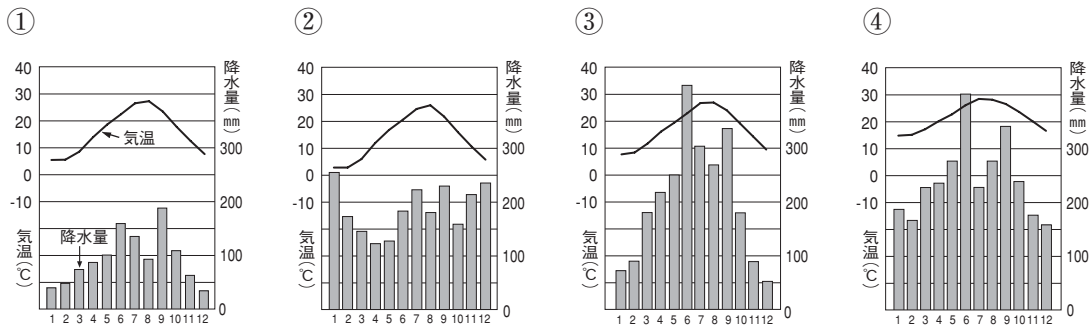
(『日本国勢図会2007/08年版』より作成)

- | | |
|---------------|-------------|
| ① (あ)－アメリカ合衆国 | (い)－オーストラリア |
| ② (あ)－アメリカ合衆国 | (い)－カナダ |
| ③ (あ)－オーストラリア | (い)－アメリカ合衆国 |
| ④ (あ)－オーストラリア | (い)－カナダ |

問7 [地図] 中の (キ) の平野では、野菜の促成栽培がさかんです。日本でおこなわれている促成栽培について説明した文としてふさわしくないものを、次の①～④の中からひとつ選んで番号で答えなさい。

- ① 野菜だけでなく、花の生産にも促成栽培はとり入れられている。
- ② 促成栽培は、露地栽培に比べると施設の設置などにかかる費用が高い。
- ③ 促成栽培で生産される野菜は、露地栽培のものに比べて出荷時期がずれているため、高値で売ることができる。
- ④ 高知平野や野辺山原など、野菜の促成栽培がさかんな地域間での競争が激しくなっている。

問8 [地図] 中の (ク) の都市における月別の平均気温と降水量を示しているグラフを、次の①～④の中からひとつ選んで番号で答えなさい。



(『日本国勢図会2007/08年版』より作成)

2 川崎市に住んでいる園子さんは、山口県下関市に住む伯父さんの家に遊びに行きました。次の文章は、そのときに訪ねた名所旧跡のことを、園子さんが社会科の時間に発表した内容です。これを読んで、あとの問いに答えなさい。

下関では、いたるところでふぐの看板やマークを見かけます。マンホールのふたにもふぐが描かれているほどです。ここでは「ふぐ」のことを、「福」に通じるめでたい魚として、「ふく」とよんでいます。しかし朝鮮出兵の際、その毒にあたって亡くなる人が多かったため、(ア) 豊臣秀吉はふぐを食べることを禁じたそうです。明治時代になっても禁止令は出されましたが、この地の「春帆楼」という割烹旅館をこよなく愛した伊藤博文のはたらきかけによって、(イ) 明治21年に禁制は解除され、春帆楼はふぐ料理を出すことを政府からはじめて許可されました。さらに (ウ) 明治28年には、ここで日清戦争の講和条約が調印されています。この時に使われた机やいすが、隣接している「日清講和記念館」にそのまま保存・展示されています。あまりに間近に見ることができるので、(エ) 条約を調印した日清両国の代表たちのあたたかみがまだ残っている気がして、ちょっとわくわくしました。

春帆楼のとなりには (カ) 安徳天皇をおまつりする赤間神宮の大きな鳥居がそびえています。境内には平家一族のお墓や、小泉八雲の書いた『怪談』に登場する「耳なし芳一」の像をまつったお堂もありました。この近くを通る本州と九州をつなぐ関門橋の一带は、有名な (キ) の戦いの古戦場であると同時に、(ク) 四国艦隊下関砲撃事件のゆかりの地でもあります。その後ろの山は「火の山」とよばれ、(ケ) 7世紀に、緊急の連絡手段としての「のろし」をあげるための施設がおかれた場所と伝えられています。

つづいてJR下関駅から山陰本線に乗って3つ目の駅で下車し、綾羅木海岸に行きました。近くには幕末の尊王攘夷派の公家、中山忠光をまつる中山神社や、かつての (コ) 満州国皇帝の弟夫妻とその長女をまつる愛新覚羅社が建っています。海岸の砂浜にはラベルの文字から考えると (ク) 朝鮮半島や中国から流れ着いたと思われるペットボトルや洗剤の容器がたくさんころがっており、川崎にいるときよりはるかに外国との距離が近く感じられました。

問1 下線部 (ア) に関して、この人物が全国統一をはたしたのち、さらに領土をひろげるために征服しようとした、当時の中国の王朝を漢字1字で答えなさい。

問2 下線部 (イ) と (ウ) に関して、この間におこったできごととして正しいものを、次の①～④の中からひとつ選んで番号で答えなさい。

- ① 治安維持法が成立した。
- ② 第1回帝国議会がひらかれた。
- ③ 日英同盟が結ばれた。
- ④ 八幡製鉄所が操業をはじめた。

問3 下線部(工)にあたる、当時の日本の外務大臣と、清の代表の組み合わせとして正しいものを、次の①～④の中からひとつ選んで番号で答えなさい。

- | | |
|--------------------|-------------|
| ① (日本の外務大臣)——小村寿太郎 | (清の代表)——蔣介石 |
| ② (日本の外務大臣)——井上馨 | (清の代表)——李舜臣 |
| ③ (日本の外務大臣)——大隈重信 | (清の代表)——安重根 |
| ④ (日本の外務大臣)——陸奥宗光 | (清の代表)——李鴻章 |

問4 下線部(オ)の外祖父(母方の祖父)を姓名ともに漢字で答えなさい。

問5 空らん(力)にあてはまる地名を、次の①～④の中からひとつ選んで番号で答えなさい。

- ① 川中島 ② 壇の浦 ③ 富士川 ④ 石橋山

問6 下線部(キ)に関して、次の文章の空らん(あ)にあてはまる語句を漢字で答えなさい。

この事件ののち、長州藩は、攘夷は困難であることを悟りました。また、この前年には薩摩藩もイギリスからの攻撃を受けています。これは、薩摩藩士がイギリスの商人一行にきりかかり、そのうち1名が即死、3名が負傷した(あ)事件の報復としておこなわれたものでした。ともに外国からの攻撃を経験した薩長両藩は、その後同盟を結び、討幕へと動き出しました。

問7 下線部(ク)に活躍した天皇を、次の①～④の中からひとり選んで番号で答えなさい。

- ① 持統天皇 ② 一条天皇 ③ 聖武天皇 ④ 後白河天皇

問8 下線部(ケ)に関することから述べた文としてふさわしいものを、次の①～④の中からひとつ選んで番号で答えなさい。

- ① 第一次世界大戦の結果、日本はドイツから南満州鉄道株式会社をゆずり受けた。
② 柳条湖事件をきっかけに、満州事変がはじまった。
③ 広島に原子爆弾が投下された日に、満州にソ連軍が攻めこんできた。
④ 満州事変のさなかに日本は中国に対し、二十一か条の要求を出した。

問9 下線部(コ)と日本の関係について述べた文としてふさわしくないものを、次の①～④の中からひとつ選んで番号で答えなさい。

- ① 1641年以降、朝鮮半島や中国との貿易は、長崎の出島におかれた商館を中心におこなわれた。
- ② 朝鮮半島や倭国内部における地位の強化をはかり、倭の五王があいついで中国に使いを送った。
- ③ 豊臣秀吉の朝鮮出兵の際に日本に連行された陶工^{とうこう}によって、陶磁器^{とうじき}づくりが伝えられた。
- ④ 元は高麗を征服したのち、九州北部へ攻めてきた。

3 次の文は先生と花子さんと太郎君の会話です。これを読んで、あとの問いに答えなさい。

花子 今年、姉が成人式に出席したのだけれど、マナーの悪い人がいて迷惑だったと
とっていたわ。

太郎 成年に達したことをお祝いする式なのに、成人式のように伝えるニュース
でそういうことが報道されるたびに悲しくなるよ。

花子 そういえば、「成人」とみなされる年齢が現在の20歳から引き下げられるか
もしれないというニュースを見ました。

先生 よくご存じですね。日本国憲法が施行されてちょうど (ア) 周年にあたる
2007年に「日本国憲法の改正手続きに関する法律」が成立しました。この
法律は、「国民投票法」とよばれることもあります。この新しい (イ) 法律では、
(ロ) 憲法改正の手続きに加え、国民投票に参加できる年齢を18歳以上と決めました。
それにともない、成人とみなされる年齢も、現在の20歳以上から18歳以上
にしたらどうかという意見もありました。

太郎 18歳で、(エ) 選挙権が与えられるとすると、これは大きな変化ですね。ほか
の国では一般的に何歳から選挙権が与えられているのでしょうか？

先生 アメリカ・イギリスなど (オ) サミット参加国の多くでは18歳以上の人々に
選挙権が与えられています。1989年に (カ) 国際連合で採択された「子どもの
権利条約」でも、18歳未満を子ども（児童）と定義しています。

花子 世界的に見れば、18歳は節目の年といえるのかもしれませんがね。

太郎 ふーん、知らなかったなあ……。ところでさっき名前が出た「国民投票法」
ですが、この法律が成立したということは、憲法の改正をめざす具体的な動き
がおこったということですよ。日本国憲法のどの部分を改正することが議論
されているのでしょうか？

先生 社会の変化に応じて、(キ) 現在の憲法条文に明示されていない新たな権利をも
りこむことや、(ク) 第9条について、特に議論がなされています。

花子 私もいつでも自分の意見をきちんと表明できるよう、まずは憲法について
しっかり学んでおきたいと思います。

問1 空らん (ア) にあてはまる数字を答えなさい。

問2 下線部(イ)について、A・Bそれぞれの問いに答えなさい。

A 法律を定める権限のことを何といいますか。漢字で答えなさい。

B 法律を定める手続きについて述べた文として最もふさわしいものを、次の①～④の中からひとつ選んで番号で答えなさい。

- ① 法律案について衆議院と参議院で異なった議決をした場合、衆議院の議決がそのまま国会の議決となる。
- ② 提出された法律案は、本会議で審議しんぎされたあと、委員会で議決される。
- ③ 法律案は、さきに衆議院に提出しなければならない。
- ④ 法律案は、内閣が提出するものもある。

問3 下線部(ウ)の発議をするのに必要な手続きについて、日本国憲法ではどのように定められていますか。1行で説明しなさい。

問4 下線部(エ)について、日本で採用されている選挙制度の原則と、それを説明した文の組み合わせとしてふさわしくないものを、次の①～④の中からひとつ選んで番号で答えなさい。

- ① 直接選挙 —— 有権者が直接に候補者を選出すること。
- ② 秘密選挙 —— 有権者が自分の氏名を書かずに投票すること。
- ③ 平等選挙 —— 性別に関係なく選挙権を有すること。
- ④ 普通選挙 —— 一定の年齢に達すれば、だれもが投票できること。

問5 下線部(オ)について、2008年のサミット開催予定地域としてふさわしいものを、次の①～④の中からひとつ選んで番号で答えなさい。

- ① 諏訪湖 ② 洞爺湖 ③ 十和田湖 ④ 宍道湖

問6 下線部(カ)と日本との関係について述べた文としてふさわしいものを、次の①～④の中からひとつ選んで番号で答えなさい。

- ① 日本は、安全保障理事会において拒否権を行使することを認められている。
- ② 竹下登内閣のときに、国連平和維持活動協力法が成立した。
- ③ 1956年に日ソ共同宣言が調印されたのち、日本の国際連合への加盟が実現した。
- ④ 自衛隊がはじめて国連の平和維持活動として派遣された国はモザンビークである。

問7 下線部(キ)としてふさわしくないものを、次の①～④の中からひとつ選んで番号で答えなさい。

- ① 知る権利 ② プライバシーの権利 ③ 環境権 ④ 請願権

問8 下線部(ク)について、空らん(あ)・(い)にあてはまる語句をそれぞれ漢字で答えなさい。

- ① 日本国民は、正義と秩序を基調とする国際平和を誠実に希求し、国権の発動たる戦争と、武力による威嚇又は武力の行使は、国際紛争を解決する手段としては、永久にこれを放棄する。
- ② 前項の目的を達するため、陸海空軍その他の(あ)は、これを保持しない。国の(い)は、これを認めない。