

平成20年度 入学試験問題

社 会

第 2 回

|||||【注 意】|||||

試験時間は理科とあわせて60分です。(11:10~12:10)

問題は1ページから11ページまでです。

解答はすべて解答用紙に記入してください。

解答用紙に受験番号、氏名を記入してください。



洗足学園中学校

1 次のA～Dの文章は、4つの川とその川に関することがらについて述べたものです。これを読んで、あとの問いに答えなさい。

A は、四国三郎ともよばれています。四国山地の最高峰石鎚山^{さいこうほういしづちさん}付近を水源とし、そこから高知県北部を経て 平野まで東に流れ、 市の北で紀伊水道に注ぎます。1978年には、この川につくられたダムを水源とする (ウ) 香川用水が完成しました。

B 富士川は、(ク) 日本三急流のひとつに数えられています。関東山地から流れ出る^{ふえ}笛吹川と赤石山脈から流れ出る^{かまなしがわ}釜無川を水源とし、甲府盆地の南部、身延山地の東側を流れて (カ) 駿河湾に注いでいます。上流地域には豊富な森林資源があり、下流地域の都市では豊富な水を利用した製紙・パルプ工業がさかんです。

C (カ) 最上川も、日本三急流のひとつとして知られています。^{いいでさん}飯豊山・^{あずま}吾妻火山群を水源とし、米沢・山形・^{しんじょう}新庄の各盆地を通り、^{しょうない}庄内平野を経て日本海に注いでいます。流域では果樹栽培や (キ) 稲作がさかんにおこなわれています。水量が豊かで、古くから水上交通にも利用されてきました。

D は、琵琶湖を水源とし、京都盆地や大阪平野を流れて (ケ) 大阪湾に注いでいます。上流部を^{せたがわ}瀬田川とよび、^{うじ}宇治市から京都盆地南西部までを^{うじがわ}宇治川とよびます。古くから京都と大阪を結ぶ水上交通路として利用されてきました。現在その水は、生活用水や (コ) 工業用水・農業用水としてひろく利用されています。

問1 空らん にあてはまる川を漢字で答えなさい。

問2 空らん にあてはまる地名を漢字で答えなさい。

問3 下線部 (ウ) がつくられた主な目的を、地域の気候の特色にふれながら1行で説明しなさい。

問4 下線部 (工) に関して、日本の川の特徴のひとつは急流であることですが、その原因のひとつは、山地や山脈が多い地形にあります。日本の地形に関することがらを述べた文としてふさわしくないものを、次の①～④の中からひとつ選んで番号で答えなさい。

- ① 岩手県や福井県の沿岸には、山地が^{しず}沈んでできたリアス式海岸がひろがる。
- ② 3000mをこえる山があるのは中部地方だけである。
- ③ 日本の国土の約3分の1が山地である。
- ④ 日本列島は環太平洋造山帯の一部であり、^{じしん}地震や火山が多い。

問5 下線部(オ)の沿岸には、日本有数の遠洋漁業の基地、焼津港^{やいづ}があります。遠洋漁業は近年、各国による経済水域の設定などの規制を受け、おとろえてきています。こうした中で日本の漁業の重点は、とる漁業から育てる漁業に移りつつあります。育てる漁業のひとつで、魚類を卵から稚魚^{ちぎよ}になるまで人工的に育て、そのあといったん放流し、成長してからとる漁業を何といいますか。

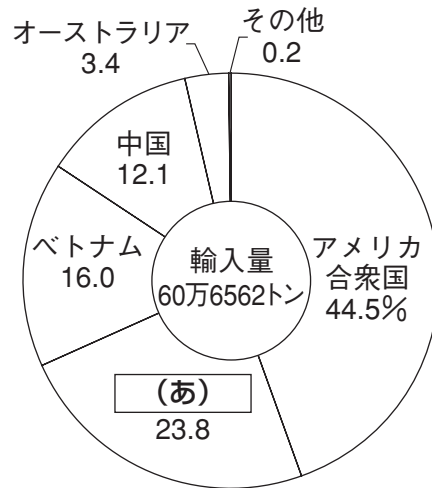
問6 下線部(カ)を示しているものを、次の【地図】中の①～⑥の中からひとつ選んで番号で答えなさい。

【地図】



問7 下線部(キ)に関して、日本では水に恵まれた平野や盆地を中心に稲作がさかんにおこなわれ、以前は米の自給率も100%をこえていましたが、1995年4月から、一定の量の米の輸入が開始されました。次の【資料】は日本の米の輸入先(2006年)を示したグラフです。【資料】中の空らん(あ)にあてはまる国名を答えなさい。

【資料】



(『日本国勢図会2007/08年版』より作成)

問8 空らん(ク)にあてはまる川を漢字で答えなさい。

問9 下線部(ケ)に関することがらについて説明した文としてふさわしくないものを、次の①～④の中からひとつ選んで番号で答えなさい。

- ① 大阪湾の東岸に位置する大阪府の灘地方は、全国最大の清酒の生産地である。
- ② 大阪湾沿岸で最大の人口をかかえる大阪市は、江戸時代には「天下の台所」とよばれ、諸藩の蔵屋敷がおかれていた。
- ③ 大阪湾内でふたつ目となる空港が海上につくられ、2006年に開港した。
- ④ 大阪湾沿岸を中心とする阪神工業地帯は、かつて全国の工業地帯の中で最大の生産額をほこっていた。

問10 下線部 (コ) に関して、現在、工業用水の産業別消費が最も多いのは化学工業です。次の [資料] は、日本の産業別の事業所 (工場) の数と従業員の数、出荷額の割合 (2004年) をそれぞれ示したものです。化学工業におけるそれらの割合を示しているものを、[資料] 中の①～⑤の中からひとつ選んで番号で答えなさい。

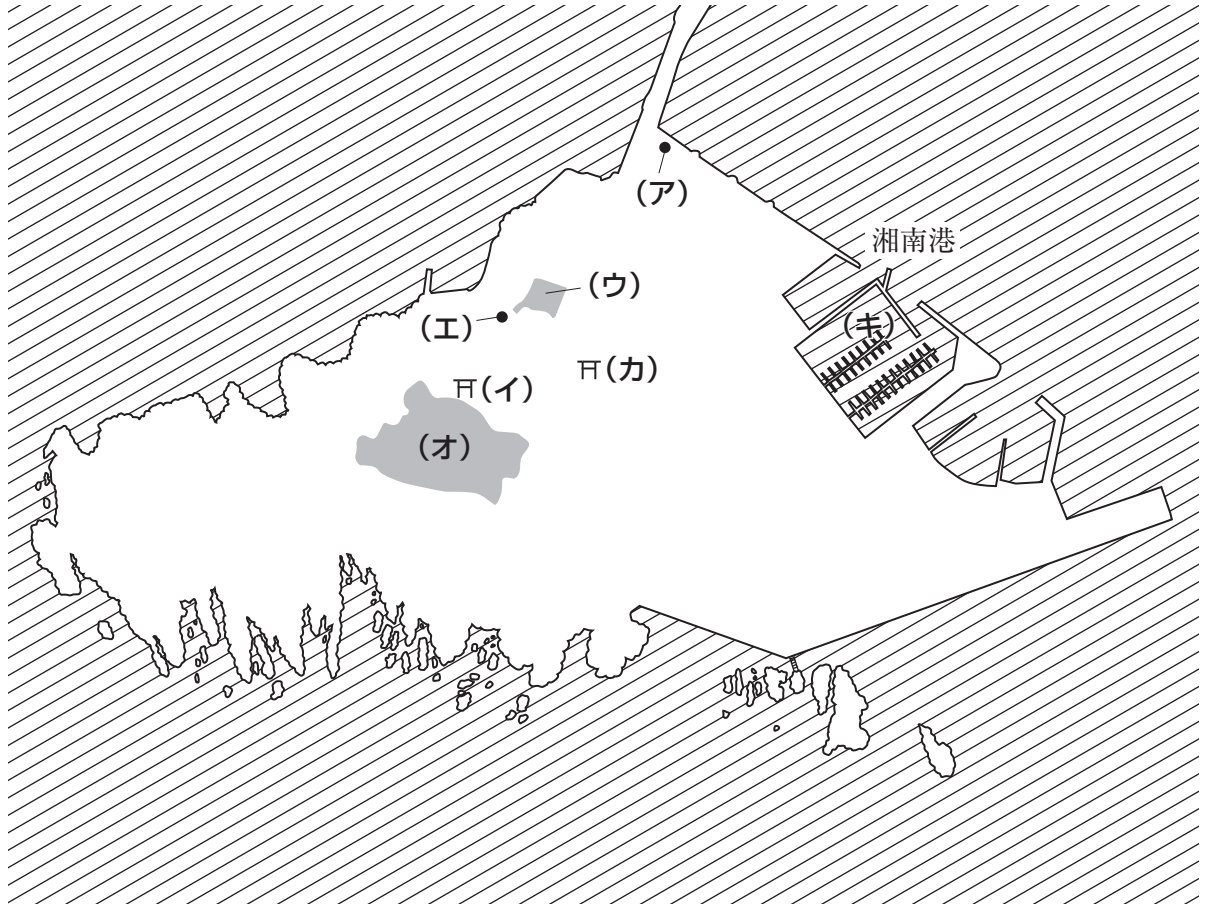
[資料]

事業所数	① 15.5%	② 23.3	③ 1.4 ④ 11.6	⑤ 12.0	その他 36.2
	① 12.3%	② 39.4	③ 4.3 ④ 14.6	⑤ 5.5	その他 23.9
出荷額	① 11.9%	② 46.8	③ 12.1	④ 11.7	⑤ 1.7 その他 15.8

(『日本国勢図会2007/08年版』より作成)

- 2 次の【地図】は、神奈川県藤沢市にある江の島をあらわしたものです。これに関するあとの問いに答えなさい。

【地図】




問1 江の島は、葛飾北斎の「富嶽三十六景」にも登場します。そのほかの「富嶽三十六景」の1枚として正しいものを、次の①～④の中からひとつ選んで番号で答えなさい。

①



②



③



④



問2 [地図] 中の(ア)には、アメリカの生物学者エドワード=モースが江の島に研究所を建てたことを記念した石碑が建っています。モースが発見し、「日本考古学発祥の地」といわれる縄文時代の遺跡の名前を漢字で答えなさい。

問3 [地図] 中の(イ)は、江島神社辺津宮をさしています。ここには音楽や知恵をつかさどる弁才天の像がまつられています。江の島と弁才天の関係について述べた次の文章を読んで、A～Cそれぞれの問いに答えなさい。

江の島における弁才天の信仰は、源頼朝にはじまると考えられています。
〔あ〕には、(い)養和2年(1182)4月5日に頼朝が僧を招いて儀式をおこない、弁才天を江の島へまつたことが記されています。〔あ〕は、源氏が平氏打倒の兵をあげてから鎌倉時代中期までの鎌倉幕府の歴史を、幕府みずから編集した歴史書であり、将軍や御家人などの動向をみることができます。この日の記録にも、(う)頼朝にしたがって江の島へ来た人々として多くの御家人の名がみられます。

A 空らん〔あ〕にあてはまる歴史書を、次の①～④の中からひとつ選んで番号で答えなさい。

- ① 『吾妻鏡』 ② 『今昔物語集』
③ 『太平記』 ④ 『平家物語』

B 下線部(い)は安徳天皇の代の年号です。これより前に定められた年号を、次の①～④の中からひとつ選んで番号で答えなさい。

- ① 永仁 ② 建武 ③ 天平 ④ 慶安

C 下線部(う)にあたる人物を、次の①～④の中からひとり選んで番号で答えなさい。

- ① 北条時頼 ② 北条時政 ③ 藤原良房 ④ 藤原定家

問4 [地図] 中の(ウ)は、江の島で古くから営業している旅館の場所をさしています。ここには、1516年から江の島をふくむ相模国を支配し、小田原城を本拠としていた大名が発した文書が多数伝わっています。この大名が豊臣秀吉に滅ぼされた年を西暦で答えなさい。

問5 [地図] 中の(工)は、針をつかって徳川綱吉の病気を治療した医者杉山和一の墓をさしています。彼を重く用いた徳川綱吉について説明した文としてふさわしいものを、次の①～④の中からひとつ選んで番号で答えなさい。

- ① 学者を集めて、『大日本史』の編集を進めた。
② 幕府の学問所で、朱子学以外の講義や研究を禁止した。
③ 洋書の輸入制限をゆるめ、実際に役に立つ外国の知識を積極的にとりいれた。
④ 儒教を重視し、孔子をまつる聖堂を湯島に建てた。

問6 【地図】 中の(オ)は、1869年に来日した貿易商人サムエル=コッキングによって創設された植物園をさしています。幕末におこなわれた日本と外国との貿易について説明した文として最もふさわしいものを、次の①～④の中からひとつ選んで番号で答えなさい。

- ① 日米修好通商条約が結ばれ、長崎や横浜などで貿易がはじまった。
- ② 取り引きの額が最も多かったのは、最初に修好通商条約を結んだアメリカであった。
- ③ 日本からは主に銀や銅を輸出し、外国からは主に生糸や絹織物を輸入した。
- ④ 貿易の開始にともない国内の物価が急激に下がったため、庶民の生活は豊かになった。

問7 【地図】 中の(カ)は、江の島をこよなく愛した軍人児玉源太郎こだまげん たろうをまつた神社をさしています。彼は1852年に生まれ、1906年に亡くなりました。彼が参加した戦いとしてふさわしくないものを、次の①～④の中からひとつ選んで番号で答えなさい。

- ① 日露戦争 ② 西南戦争 ③ 戊辰戦争 ④ 第一次世界大戦

問8 【地図】 中の(キ)は、オリンピック東京大会の際に、ヨットレースの会場となった場所をさしています。この大会と、その前後におこった(A)～(C)のできごとを、左から古い順番に並べたものとして正しいものを、次の①～⑥の中からひとつ選んで番号で答えなさい。

- (A) 日本の国際連合への加盟が実現した。
- (B) 国鉄や電電公社・専売公社が民営化された。
- (C) 条約を改定することによって、日本がアメリカの戦争に巻きこまれる危険があるとして、国会周辺で大きな反対運動がおこった。

- ① (A) — (C) — (B) — オリンピック東京大会
- ② (A) — (C) — オリンピック東京大会 — (B)
- ③ オリンピック東京大会 — (B) — (C) — (A)
- ④ (B) — オリンピック東京大会 — (A) — (C)
- ⑤ (C) — (A) — オリンピック東京大会 — (B)
- ⑥ (C) — (A) — (B) — オリンピック東京大会

3 次の文章は、この文章の筆者がドイツに住み、子どもを現地の小学校に通わせていたときのエピソードです。これを読んであとの問いに答えなさい。文章には一部ふりがなをつけるなど、わかりやすく書き直したり省略した部分があります。

3年生に進級するとき、親たちと担任が一堂に集まる会合があった。一堂に、といっても1クラス18人だからたいした数ではない。なかでひとりの親が、「私の子をもう1年、2年生に置いて下さい。本人もそう望んでますから」と、どうどうと頼んでいるのを見ておどろいた。2年生の学習が十分に理解できていないらしい。担任も加わってそうすべきかどうか、親全員が議論しているのを見て、さらにおどろいた。そしてよく聞いてみると、その子の学習到達水準で将来の「社会生活」に支障がないかどうか、が議論のポイントになっているのがわかって、なるほどと思った。

おどろいたり、なるほどと思ったのは、(ア) 日本国憲法の「教育」にたいする考えかたと、こんなところで出会ったからである。

有名な条文であるが、憲法第26条1項は「すべて国民オール・ピープルは、……その能力に応じて、ひとしく教育を受ける (イ) を有する」と言っている。ここでは「教育を受ける」のが「 (イ) 」であることがポイント。ところがつづけて第2項では、「すべて国民は、……その保護する子女に普通教育を受けさせる (ウ) を負う」とある。「子女」とは「むすことむすめ」のことで、英訳憲法では“boys and girls”になっているが、「良家の子女」といえば女性のこと、「おんなこども」という言いかたもあって、なんとなく女性と子ども子どもをただか弱きものとみているひびきがあり、気にはなる。ともあれ、ここでは、「教育を受けさせる」のが「国民の (ウ) 」となっていることに注意していただきたい。(中略)

きみを保護している者という、親だけと思いがちだが、それは「保護」しているのが圧倒的に親だからそうなるだけのこと。オール・ピープルだから、親の集団でもあれば地域の住民でもあれば社会の構成員こうせいいんでもあり、要するにきみを保護してくれるはずの「国民」である。そういう「国民」としての国や (イ) 自治体であることもある。

こうしてみると、親がクラスの子どもの進級に激論をしていた光景は、子どもはみんなのものという社会のあり方の反映ではなかったか。逆に、三者面談で、他の親には聞こえないよう小声で話す光景からは、自分の親しか保護してくれそうにない社会が見えてくる。その親が、ときに「いい学校」への進級だけを保護と働きがいでいるからせつない。

「教育」というと、納税、(イ) 労働とともに三大義務に数えられる。(ウ) 税金は「取られる」もの、仕事は「つらい」もの、そして「勉強」というと「もういや！」という印象があり、だから「義務」はうっとうしいものになる。だが、義務とは権利を実現するときに求められる責任のことでもある。「納税」だって、国民の福利実現のためにはあるはず。

勉強がつまらないのは「受ける」ことが「 (イ) 」になる教育になっていないからだろう。遊びがそうであるように、未知のことがわかっていくのは楽しいこと。「教育を受ける (イ) 」とは、わからないときに、そのわかる力、つまり「能力」に応じて、わかるまで学習する機会が保障されていることでもある。

(森英樹『主権者はきみだ 憲法のわかる50話』より)

問1 下線部(ア)の内容としてふさわしくないものを、次の①～④の中からひとつ選んで番号で答えなさい。

- ① 前文で、主権が国民にあることが宣言されている。
- ② 第1条で、天皇は日本国の象徴であると定められている。
- ③ 第11条で、基本的人権は法律の範囲内でのみ保障すると定められている。
- ④ 第41条で、国会は国の唯一の立法機関であると定められている。

問2 空らん ・ にあてはまる語句をそれぞれ漢字2字で答えなさい。

問3 下線部(エ)に関して、自治体(地方公共団体)に対して、使いみちを指定せずに国が支給する援助金えんじょきんのことを何といいますか。漢字で答えなさい。

問4 下線部(オ)に関して、労働三権のひとつである団結権の説明としてふさわしいものを、次の①～④の中からひとつ選んで番号で答えなさい。

- ① 労働条件などの改善を求めて交渉する権利
- ② 条例の制定を求めるために署名を集める権利
- ③ ストライキなどをおこなう権利
- ④ 労働組合をつくる権利

問5 下線部(カ)についてA・Bそれぞれの問いに答えなさい。

A 間接税にあたるものを、次の①～④の中からひとつ選んで番号で答えなさい。

- ① 消費税
- ② 法人税
- ③ 相続税
- ④ 住民税

B 所得税は累進課税るいしん かぜいという制度を採用していますが、これはどのような制度ですか。1行で説明しなさい。

問6 次の【資料】は、国際連合のある専門機関の憲章の一部です。これについて、
A・Bそれぞれの問いに答えなさい。

【資料】

戦争は人の心の中で生れるものであるから、人の心の中に平和のとりでを築かなければならない。相互の風習と生活を知らないことは、人類の歴史を通じて世界の諸人民の間に疑惑と不信をおこした共通の原因であり、この疑惑と不信のために、諸人民の不一致があまりにもしばしば戦争となった。(中略) 当事国は、世界の諸人民の教育、及び文化上の関係を通じて、国際連合の設立の目的であり、且つその憲章が宣言している国際平和と人類の共通の福祉という目的を促進するために、ここに国際連合教育文化機関を創設する。

A 空らんにあてはまる語句を漢字2字で答えなさい。

B この専門機関で1972年に採択された条約としてふさわしいものを、次の①～④の中からひとつ選んで番号で答えなさい。

- ① 世界遺産条約
- ② 子どもの権利条約
- ③ 女子差別撤廃条約
- ④ 人種差別撤廃条約

問7 2006年9月に安倍晋三内閣が発足しましたが、この内閣がとりくんだ教育に関する政策について述べた文としてふさわしくないものを、次の①～④の中からひとつ選んで番号で答えなさい。

- ① 教育基本法が改正され、「我が国と郷土を愛する態度を養う」という表現が加えられた。
- ② 教育改革の具体策を検討するための「教育再生会議」が設置された。
- ③ 「地方教育行政法」・「学校教育法」・「教員免許法」の教育関連3法の各改正案が可決、成立した。
- ④ 全国の国立大学と国立短期大学が、国の組織から切りはなされ、独立した法人となった。